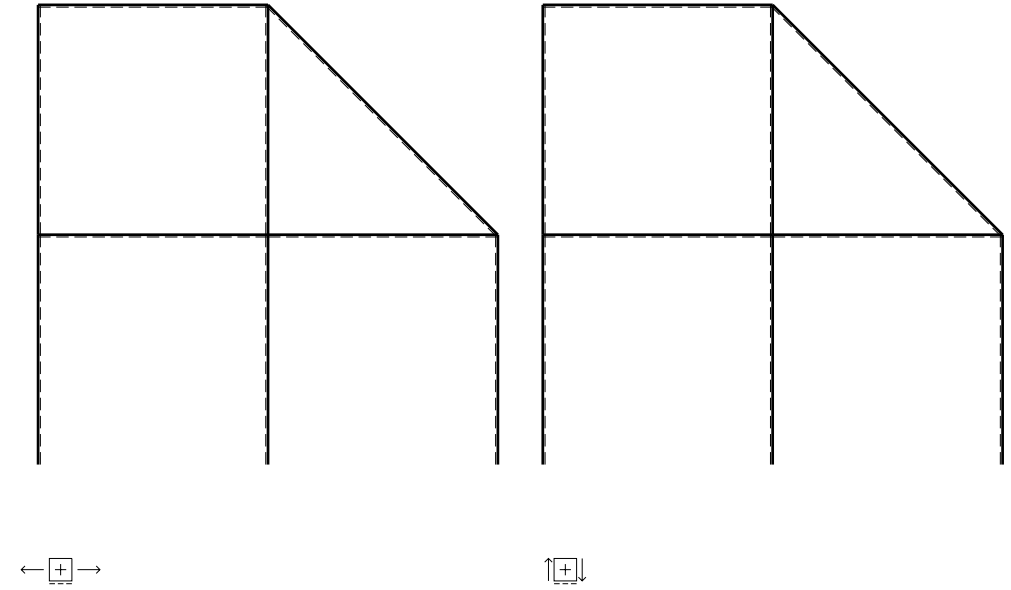
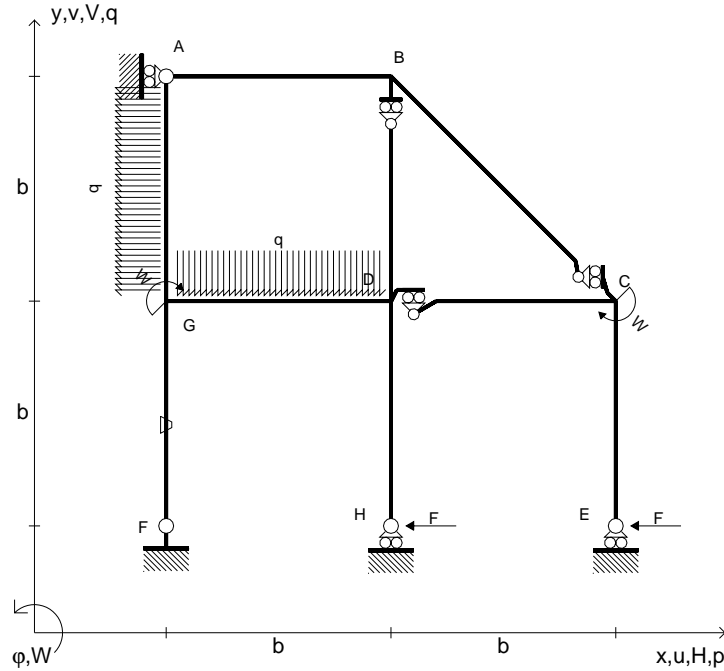


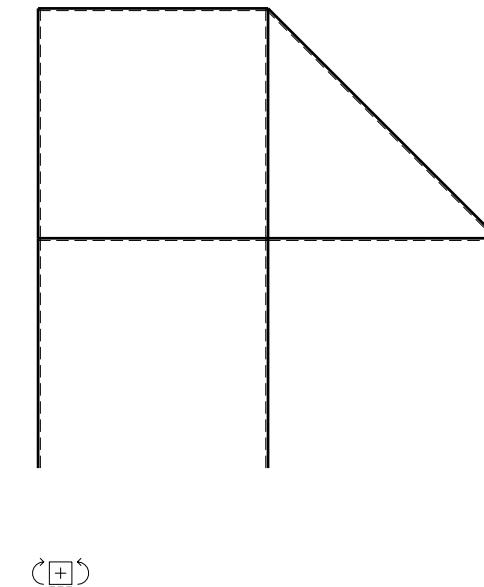
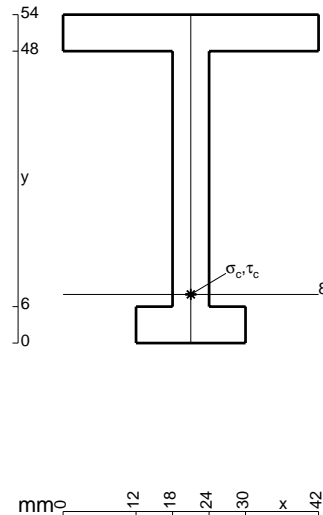
- $H_E = -F$
- $H_H = -F$
- $W_C = -W = -Fb$
- $W_G = -W = -Fb$
- $p_{GA} = -q = -F/b$
- $q_{GD} = -q = -F/b$
- $\theta_{FG} = -\theta = -\alpha T/b = -bF/EJ$
- $EJ_{AB} = EJ$
- $EJ_{BC} = EJ$
- $EJ_{BD} = EJ$
- $EJ_{DC} = EJ$
- $EJ_{CE} = EJ$
- $EJ_{FG} = EJ$
- $EJ_{GD} = EJ$
- $EJ_{DH} = EJ$
- $EJ_{GA} = EJ$



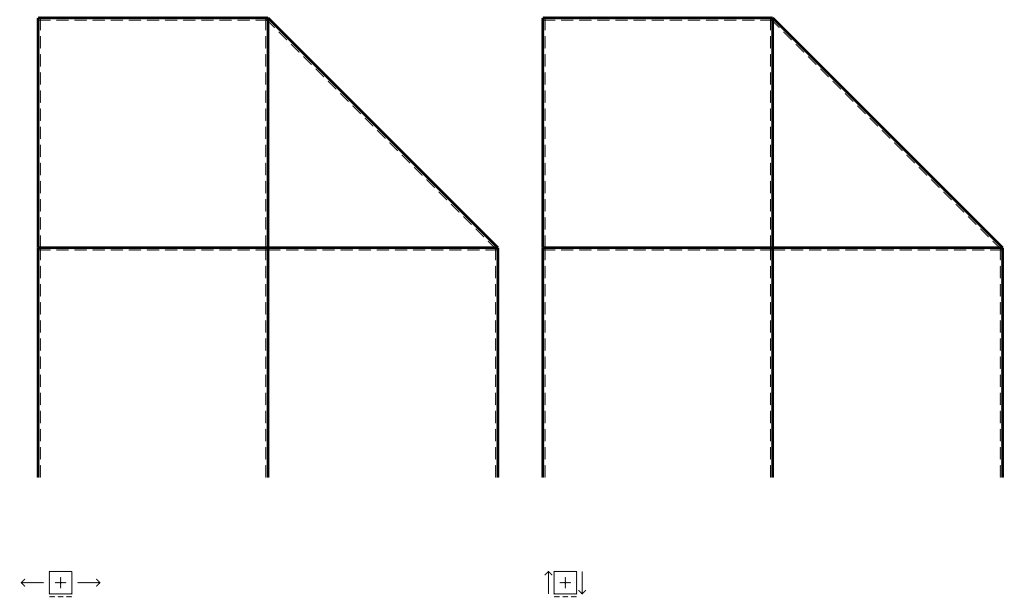
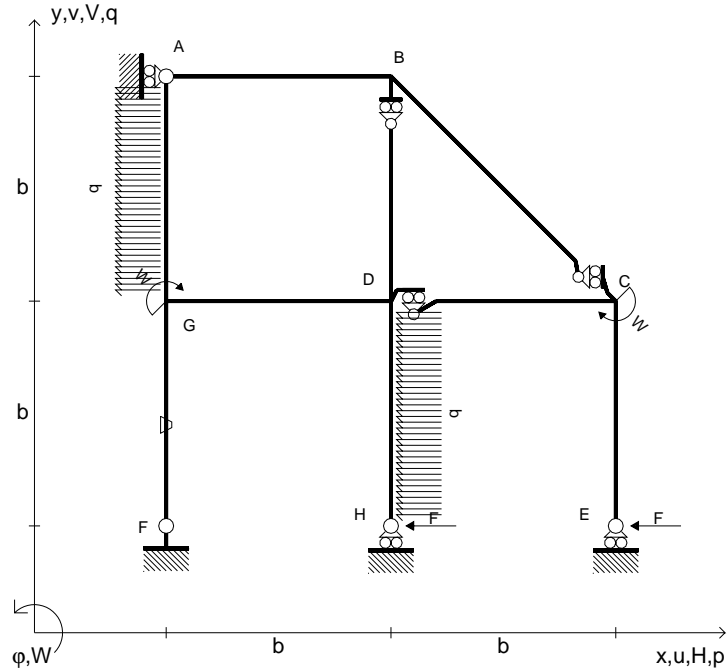
ANALISI STRUTTURALE CON PLV
 RIPORTARE SUL FILE "ESAME" SOLO LE SEGUENTI RICHIESTE

- Sul fronte:
- 1) Declassamento con indicazione dell'iperstatica scelta
 - 2) Diagrammi finali delle azioni interne
 - 3) Sforzi richiesti (nota: profilo COMPATTO)
- Sul retro:
- 4) Analisi cinematica
 - 5) Diagrammi del momento M_0 e M^*
 - 6) Espressione del PLV
 - 7) Valore numerico dell'iperstatica

Carichi e deformazioni date hanno verso efficace in disegno.
 Calcolare reazioni vincolari della struttura e delle aste.
 Tracciare i diagrammi quotati delle azioni interne nelle aste.
 $J_{YZ} - x_{YZ} - \theta_{YZ}$ riferimento locale asta YZ con origine in Y.
 La trave DC ha la sezione riportata e dimensioni in mm, con:
 $b = 560 \text{ mm}$, $F = 1290 \text{ N}$
 Calcolare sulla sezione C la massima tensione normale σ_m .
 Calcolare in * le tensioni σ_c, τ_c e la tensione di von Mises.
 Lembo inferiore sezione su tratteggio trave, a destra da D a C
 Curvatura θ asta FG positiva se convessa a destra con inizio F.
 © Adolfo Zavelani Rossi, Politecnico di Milano, vers.27.03.13



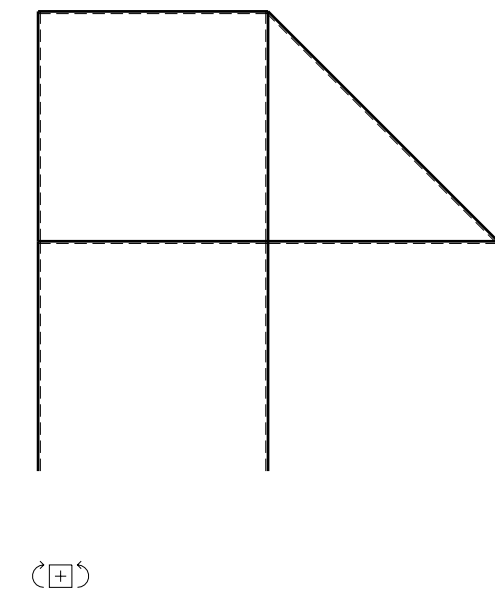
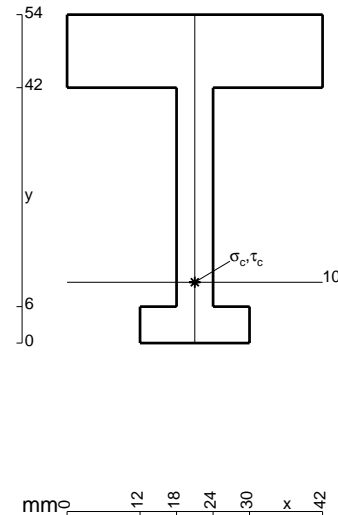
- $H_E = -F$
- $H_H = -F$
- $W_C = -W = -Fb$
- $W_G = -W = -Fb$
- $p_{GA} = -q = -F/b$
- $p_{DH} = -q = -F/b$
- $\theta_{FG} = -\theta = -\alpha T/b = -bF/EJ$
- $EJ_{AB} = EJ$
- $EJ_{BC} = EJ$
- $EJ_{BD} = EJ$
- $EJ_{DC} = EJ$
- $EJ_{CE} = EJ$
- $EJ_{FG} = EJ$
- $EJ_{GD} = EJ$
- $EJ_{DH} = EJ$
- $EJ_{GA} = EJ$



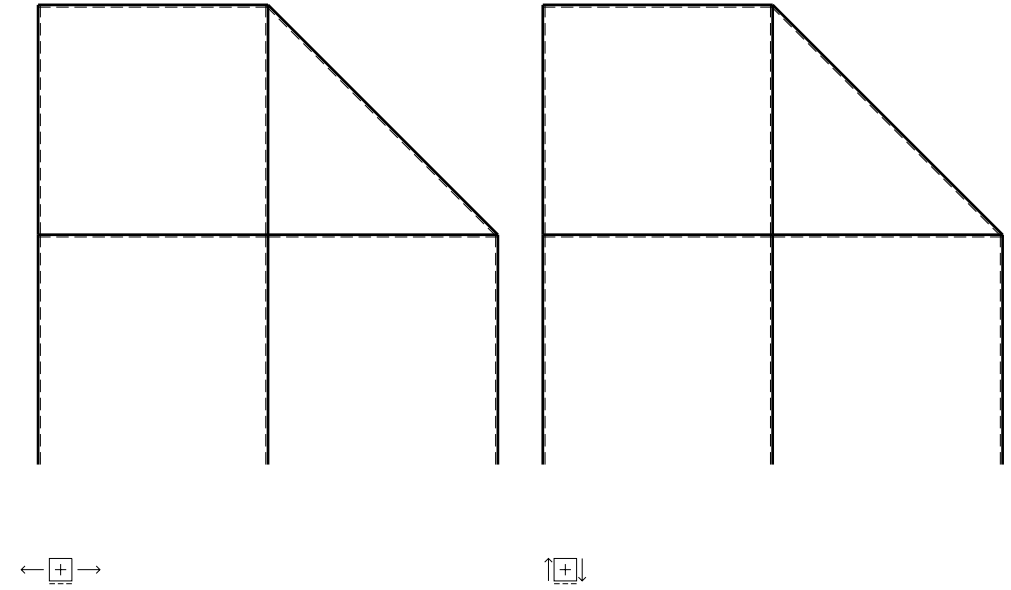
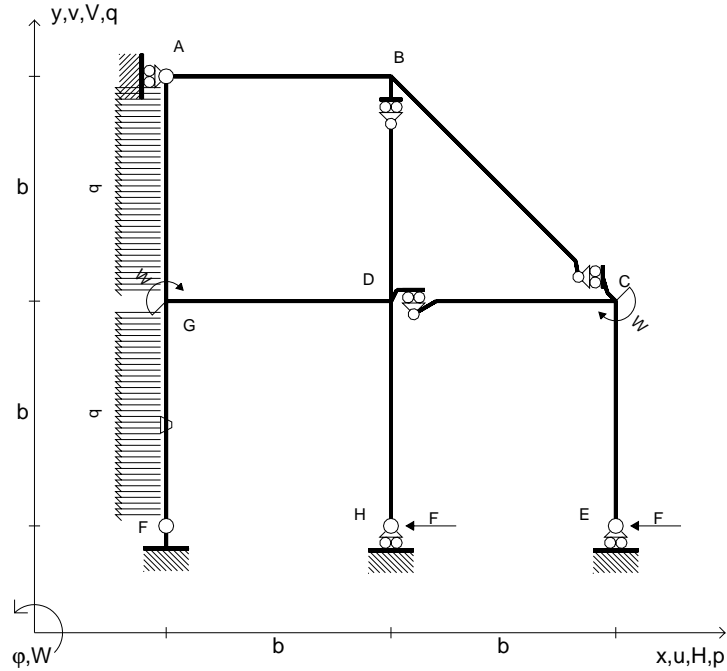
ANALISI STRUTTURALE CON PLV
 RIPORTARE SUL FILE "ESAME" SOLO LE SEGUENTI RICHIESTE

- Sul fronte:
- 1) Declassamento con indicazione dell'iperstatica scelta
 - 2) Diagrammi finali delle azioni interne
 - 3) Sforzi richiesti (nota: profilo COMPATTO)
- Sul retro:
- 4) Analisi cinematica
 - 5) Diagrammi del momento M_0 e M^*
 - 6) Espressione del PLV
 - 7) Valore numerico dell'iperstatica

Carichi e deformazioni date hanno verso efficace in disegno.
 Calcolare reazioni vincolari della struttura e delle aste.
 Tracciare i diagrammi quotati delle azioni interne nelle aste.
 $J_{YZ} - x_{YZ} - \theta_{YZ}$ riferimento locale asta YZ con origine in Y.
 La trave DC ha la sezione riportata e dimensioni in mm, con:
 $b = 610 \text{ mm}$, $F = 1260 \text{ N}$
 Calcolare sulla sezione C la massima tensione normale σ_m .
 Calcolare in * le tensioni σ_c, τ_c e la tensione di von Mises.
 Lembo inferiore sezione su tratteggio trave, a destra da D a C
 Curvatura θ asta FG positiva se convessa a destra con inizio F.
 @ Adolfo Zavelani Rossi, Politecnico di Milano, vers.27.03.13



- $H_E = -F$
- $H_H = -F$
- $W_C = -W = -Fb$
- $W_G = -W = -Fb$
- $p_{GA} = -q = -F/b$
- $p_{FG} = -q = -F/b$
- $\theta_{FG} = -\theta = -\alpha T/b = -bF/EJ$
- $EJ_{AB} = EJ$
- $EJ_{BC} = EJ$
- $EJ_{BD} = EJ$
- $EJ_{DC} = EJ$
- $EJ_{CE} = EJ$
- $EJ_{FG} = EJ$
- $EJ_{GD} = EJ$
- $EJ_{DH} = EJ$
- $EJ_{GA} = EJ$



ANALISI STRUTTURALE CON PLV

RIPORTARE SUL FILE "ESAME" SOLO LE SEGUENTI RICHIESTE

Sul fronte:

- 1) Declassamento con indicazione dell'iperstatica scelta
- 2) Diagrammi finali delle azioni interne
- 3) Sforzi richiesti
(nota: profilo COMPATTO)

Sul retro:

- 4) Analisi cinematica
- 5) Diagrammi del momento M0 e M*
- 6) Espressione del PLV
- 7) Valore numerico dell'iperstatica

Carichi e deformazioni date hanno verso efficace in disegno.

Calcolare reazioni vincolari della struttura e delle aste.

Tracciare i diagrammi quotati delle azioni interne nelle aste.

$J_{YZ} - x_{YZ} - \theta_{YZ}$ riferimento locale asta YZ con origine in Y.

La trave DC ha la sezione riportata e dimensioni in mm, con:

$b = 660 \text{ mm}$, $F = 1760 \text{ N}$

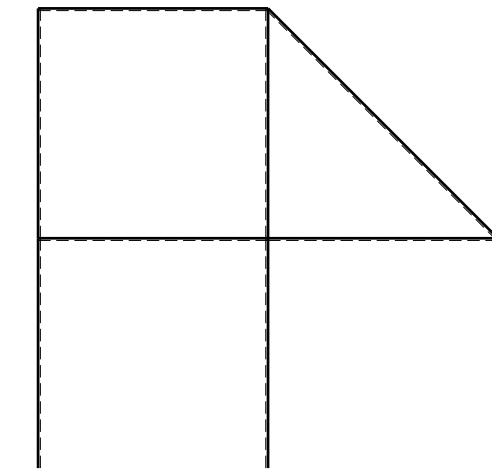
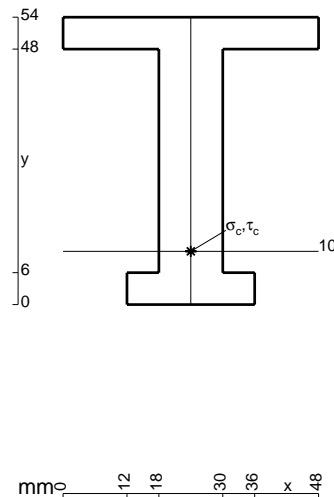
Calcolare sulla sezione C la massima tensione normale σ_m .

Calcolare in * le tensioni σ_c, τ_c e la tensione di von Mises.

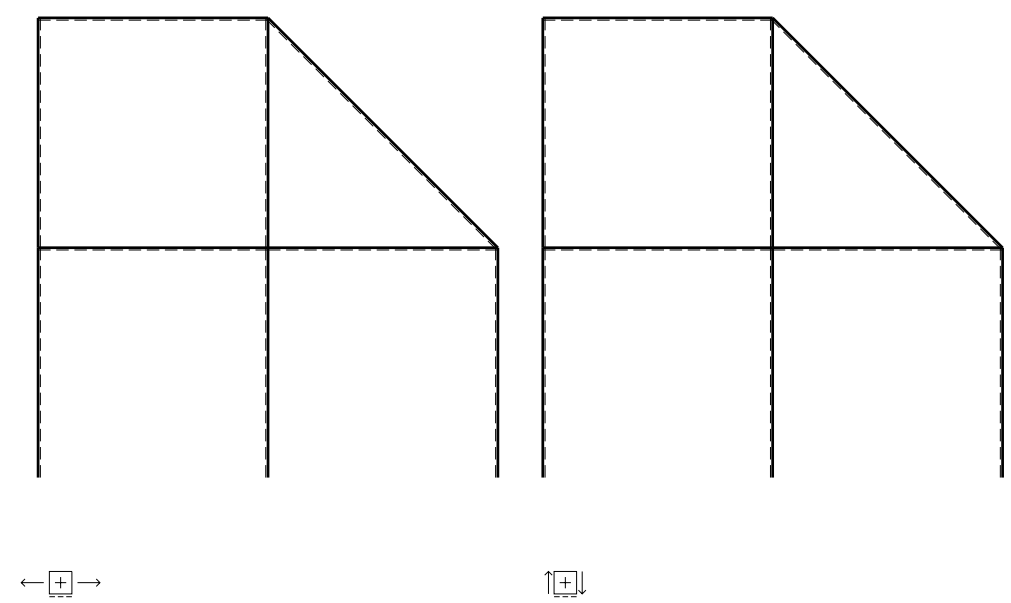
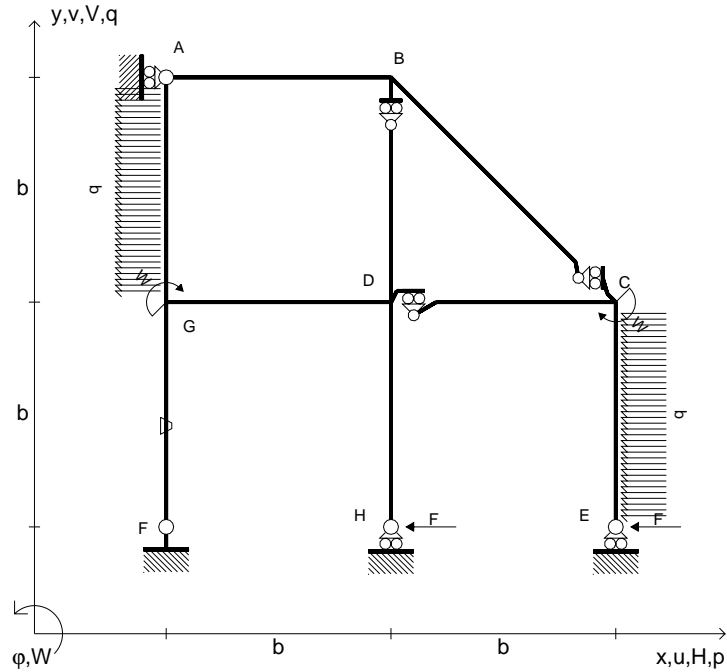
Leombo inferiore sezione su tratteggio trave, a destra da D a C

Curvatura θ asta FG positiva se convessa a destra con inizio F.

@ Adolfo Zavelani Rossi, Politecnico di Milano, vers.27.03.13



- $H_E = -F$
- $H_H = -F$
- $W_C = -W = -Fb$
- $W_G = -W = -Fb$
- $p_{GA} = -q = -F/b$
- $p_{CE} = -q = -F/b$
- $\theta_{FG} = -\theta = -\alpha T/b = -bF/EJ$
- $EJ_{AB} = EJ$
- $EJ_{BC} = EJ$
- $EJ_{BD} = EJ$
- $EJ_{DC} = EJ$
- $EJ_{CE} = EJ$
- $EJ_{FG} = EJ$
- $EJ_{GD} = EJ$
- $EJ_{DH} = EJ$
- $EJ_{GA} = EJ$



ANALISI STRUTTURALE CON PLV

RIPORTARE SUL FILE "ESAME" SOLO LE SEGUENTI RICHIESTE

Sul fronte:

- 1) Declassamento con indicazione dell'iperstatica scelta
- 2) Diagrammi finali delle azioni interne
- 3) Sforzi richiesti
(nota: profilo COMPATTO)

Sul retro:

- 4) Analisi cinematica
- 5) Diagrammi del momento M_0 e M^*
- 6) Espressione del PLV
- 7) Valore numerico dell'iperstatica

Carichi e deformazioni date hanno verso efficace in disegno.

Calcolare reazioni vincolari della struttura e delle aste.

Tracciare i diagrammi quotati delle azioni interne nelle aste.

$J_{YZ} - x_{YZ} - \theta_{YZ}$ riferimento locale asta YZ con origine in Y.

La trave DC ha la sezione riportata e dimensioni in mm, con:

$b = 710 \text{ mm}$, $F = 1400 \text{ N}$

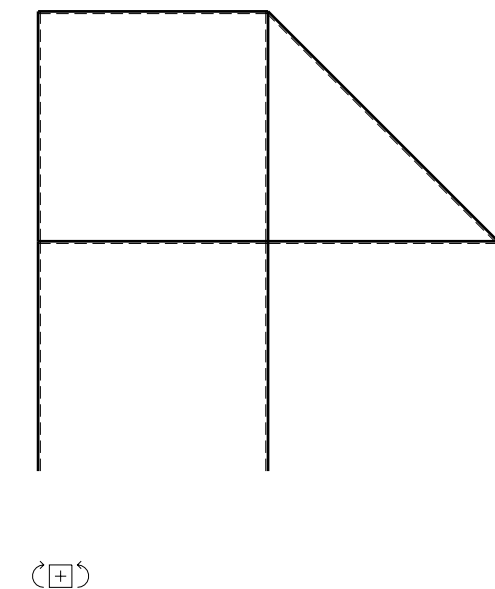
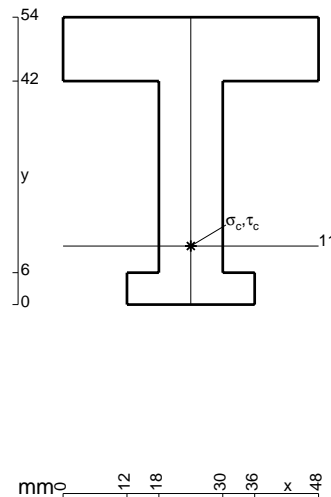
Calcolare sulla sezione C la massima tensione normale σ_m .

Calcolare in * le tensioni σ_c, τ_c e la tensione di von Mises.

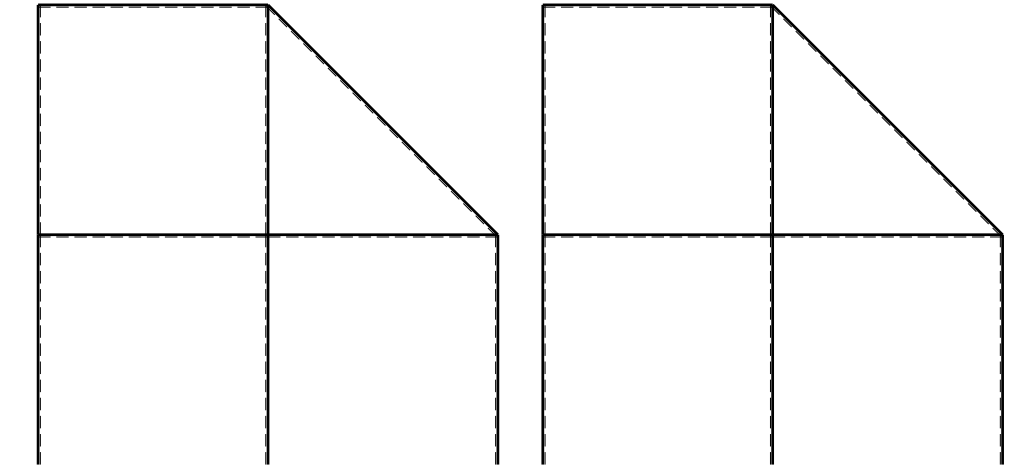
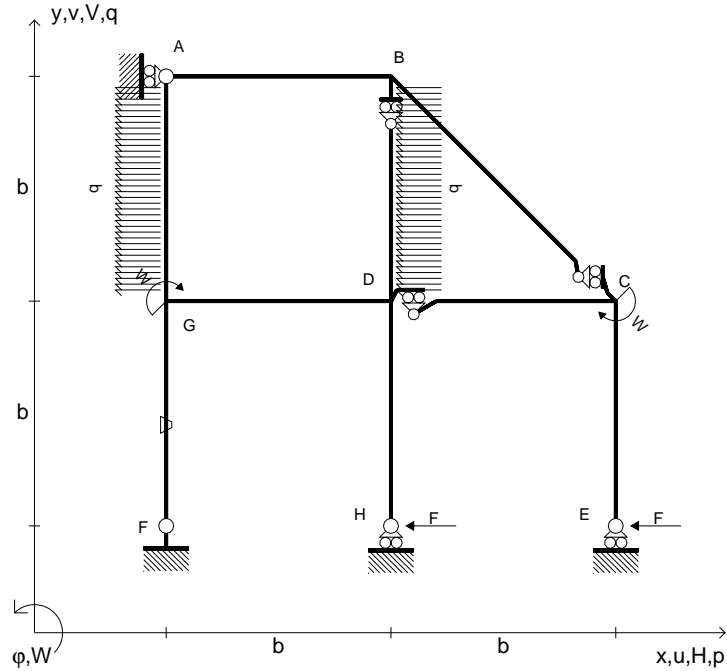
Leombo inferiore sezione su tratteggio trave, a destra da D a C

Curvatura θ asta FG positiva se convessa a destra con inizio F.

@ Adolfo Zavelani Rossi, Politecnico di Milano, vers.27.03.13



- $H_E = -F$
- $H_H = -F$
- $W_C = -W = -Fb$
- $W_G = -W = -Fb$
- $p_{GA} = -q = -F/b$
- $p_{BD} = -q = -F/b$
- $\theta_{FG} = -\theta = -\alpha T/b = -bF/EJ$
- $EJ_{AB} = EJ$
- $EJ_{BC} = EJ$
- $EJ_{BD} = EJ$
- $EJ_{DC} = EJ$
- $EJ_{CE} = EJ$
- $EJ_{FG} = EJ$
- $EJ_{GD} = EJ$
- $EJ_{DH} = EJ$
- $EJ_{GA} = EJ$



← ⊕ →

↑ ⊕ ↓

ANALISI STRUTTURALE CON PLV

RIPORTARE SUL FILE "ESAME" SOLO LE SEGUENTI RICHIESTE

Sul fronte:

- 1) Declassamento con indicazione dell'iperstatica scelta
- 2) Diagrammi finali delle azioni interne
- 3) Sforzi richiesti (nota: profilo COMPATTO)

Sul retro:

- 4) Analisi cinematica
- 5) Diagrammi del momento M_0 e M^*
- 6) Espressione del PLV
- 7) Valore numerico dell'iperstatica

Carichi e deformazioni date hanno verso efficace in disegno.

Calcolare reazioni vincolari della struttura e delle aste.

Tracciare i diagrammi quotati delle azioni interne nelle aste.

$J_{YZ} - x_{YZ} - \theta_{YZ}$ riferimento locale asta YZ con origine in Y.

La trave DC ha la sezione riportata e dimensioni in mm, con:

$b = 760 \text{ mm}$, $F = 1140 \text{ N}$

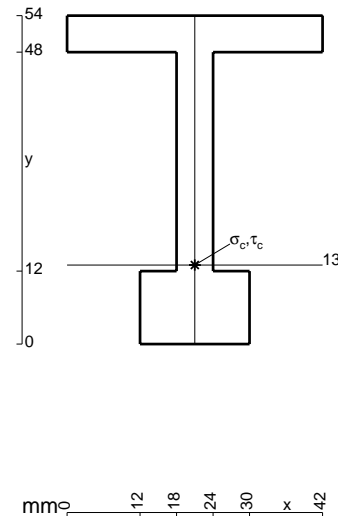
Calcolare sulla sezione C la massima tensione normale σ_m .

Calcolare in * le tensioni σ_c, τ_c e la tensione di von Mises.

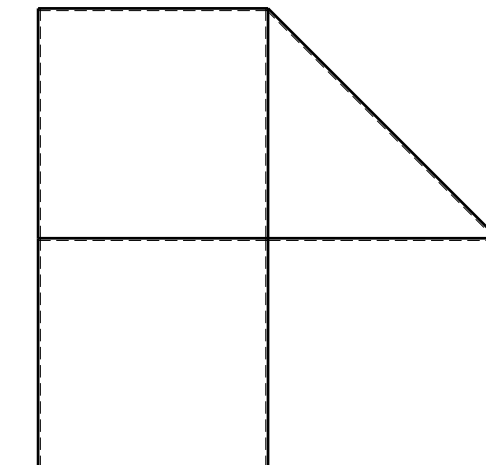
Le mbo inferiore sezione su tratteggio trave, a destra da D a C

Curvatura θ asta FG positiva se convessa a destra con inizio F.

@ Adolfo Zavelani Rossi, Politecnico di Milano, vers.27.03.13

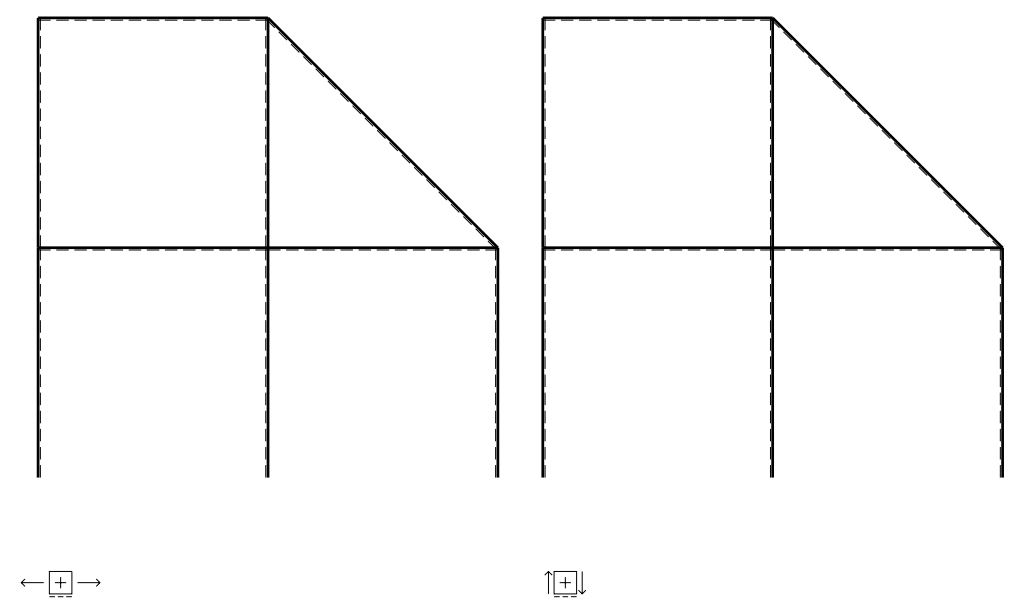
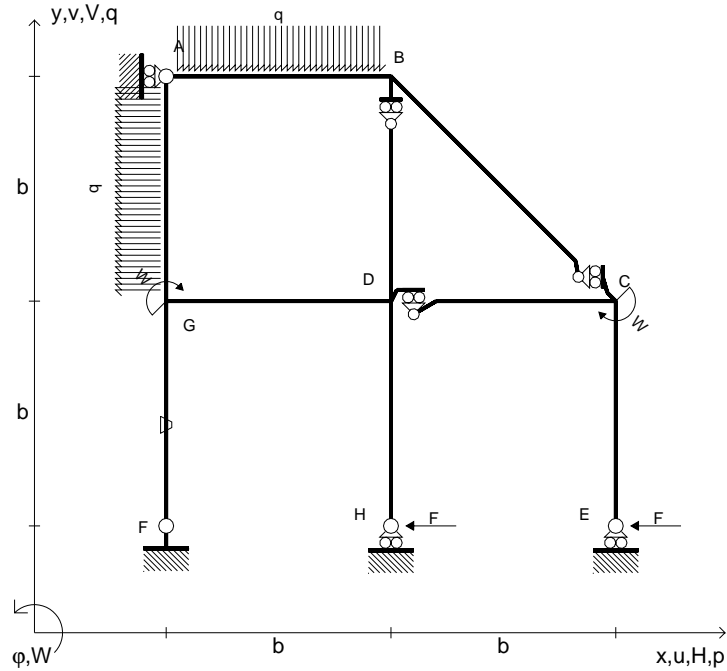


mm 12 18 24 30 42 x



⊕ ⊖

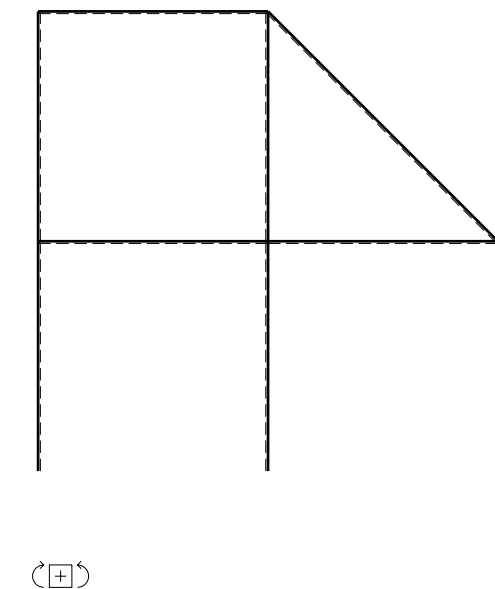
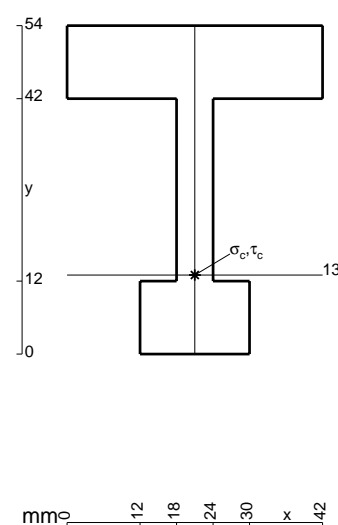
- $H_E = -F$
- $H_H = -F$
- $W_C = -W = -Fb$
- $W_G = -W = -Fb$
- $p_{GA} = -q = -F/b$
- $q_{AB} = -q = -F/b$
- $\theta_{FG} = -\theta = -\alpha T/b = -bF/EJ$
- $EJ_{AB} = EJ$
- $EJ_{BC} = EJ$
- $EJ_{BD} = EJ$
- $EJ_{DC} = EJ$
- $EJ_{CE} = EJ$
- $EJ_{FG} = EJ$
- $EJ_{GD} = EJ$
- $EJ_{DH} = EJ$
- $EJ_{GA} = EJ$



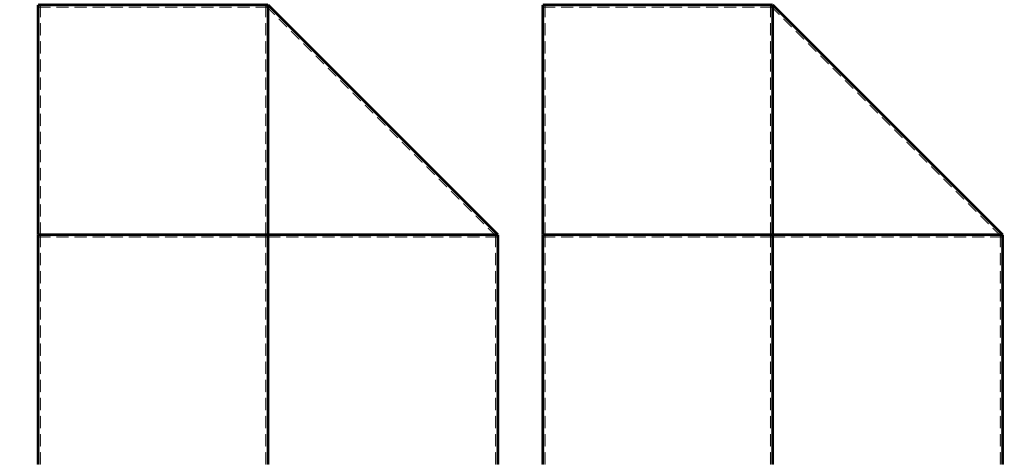
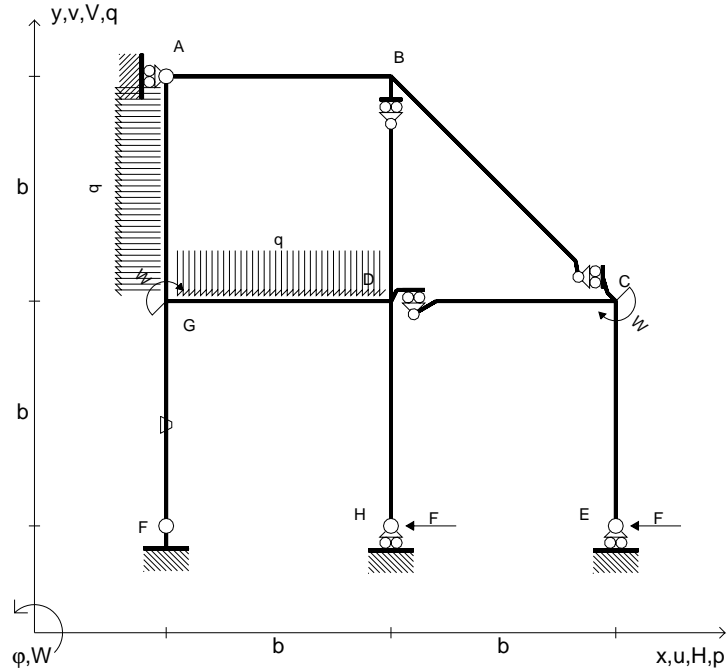
ANALISI STRUTTURALE CON PLV
 RIPORTARE SUL FILE "ESAME" SOLO LE SEGUENTI RICHIESTE

- Sul fronte:
- 1) Declassamento con indicazione dell'iperstatica scelta
 - 2) Diagrammi finali delle azioni interne
 - 3) Sforzi richiesti (nota: profilo COMPATTO)
- Sul retro:
- 4) Analisi cinematica
 - 5) Diagrammi del momento M_0 e M^*
 - 6) Espressione del PLV
 - 7) Valore numerico dell'iperstatica

Carichi e deformazioni date hanno verso efficace in disegno.
 Calcolare reazioni vincolari della struttura e delle aste.
 Tracciare i diagrammi quotati delle azioni interne nelle aste.
 $J_{YZ} - x_{YZ} - \theta_{YZ}$ riferimento locale asta YZ con origine in Y.
 La trave DC ha la sezione riportata e dimensioni in mm, con:
 $b = 810 \text{ mm}$, $F = 1140 \text{ N}$
 Calcolare sulla sezione C la massima tensione normale σ_m .
 Calcolare in * le tensioni σ_c, τ_c e la tensione di von Mises.
 Lembo inferiore sezione su tratteggio trave, a destra da D a C
 Curvatura θ asta FG positiva se convessa a destra con inizio F.
 @ Adolfo Zavelani Rossi, Politecnico di Milano, vers.27.03.13



- $H_E = -F$
- $H_H = -F$
- $W_C = -W = -Fb$
- $W_G = -W = -Fb$
- $q_{GD} = -q = -F/b$
- $p_{GA} = -q = -F/b$
- $\theta_{FG} = -\theta = -\alpha T/b = -bF/EJ$
- $EJ_{AB} = EJ$
- $EJ_{BC} = EJ$
- $EJ_{BD} = EJ$
- $EJ_{DC} = EJ$
- $EJ_{CE} = EJ$
- $EJ_{FG} = EJ$
- $EJ_{GD} = EJ$
- $EJ_{DH} = EJ$
- $EJ_{GA} = EJ$



← ⊕ →

↑ ⊕ ↓

ANALISI STRUTTURALE CON PLV

RIPORTARE SUL FILE "ESAME" SOLO LE SEGUENTI RICHIESTE

Sul fronte:

- 1) Declassamento con indicazione dell'iperstatica scelta
- 2) Diagrammi finali delle azioni interne
- 3) Sforzi richiesti
(nota: profilo COMPATTO)

Sul retro:

- 4) Analisi cinematica
- 5) Diagrammi del momento M_0 e M^*
- 6) Espressione del PLV
- 7) Valore numerico dell'iperstatica

Carichi e deformazioni date hanno verso efficace in disegno.

Calcolare reazioni vincolari della struttura e delle aste.

Tracciare i diagrammi quotati delle azioni interne nelle aste.

$J_{YZ} - x_{YZ} - \theta_{YZ}$ riferimento locale asta YZ con origine in Y.

La trave DC ha la sezione riportata e dimensioni in mm, con:

$b = 860 \text{ mm}$, $F = 1500 \text{ N}$

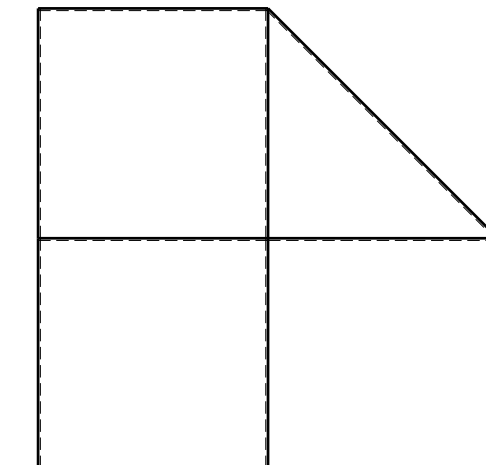
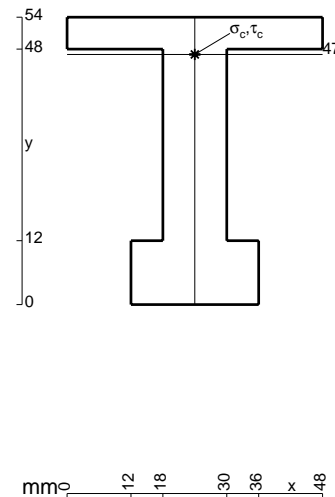
Calcolare sulla sezione C la massima tensione normale σ_m .

Calcolare in * le tensioni σ_c, τ_c e la tensione di von Mises.

Le mbo inferiore sezione su tratteggio trave, a destra da D a C

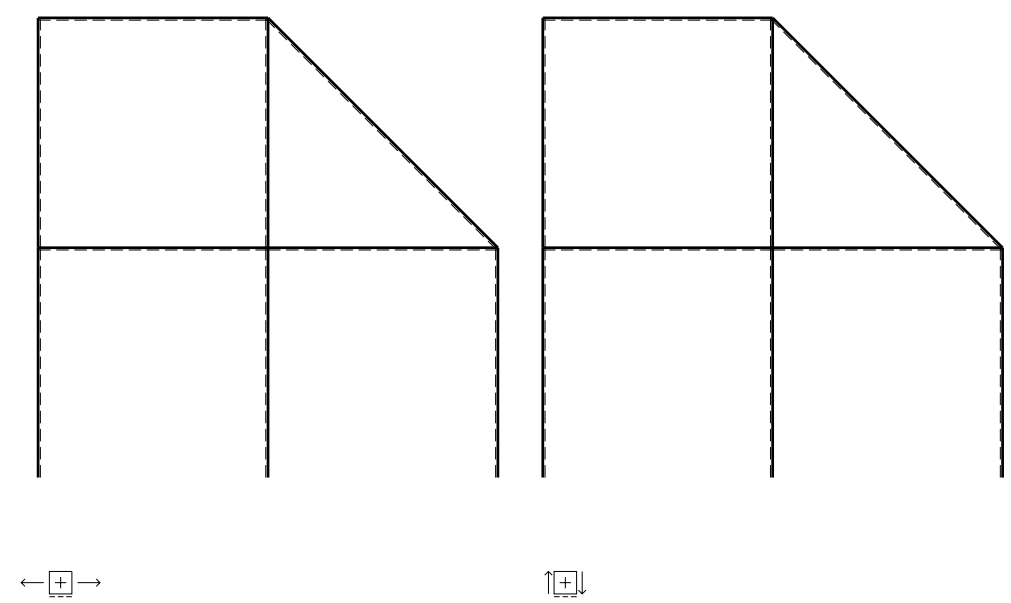
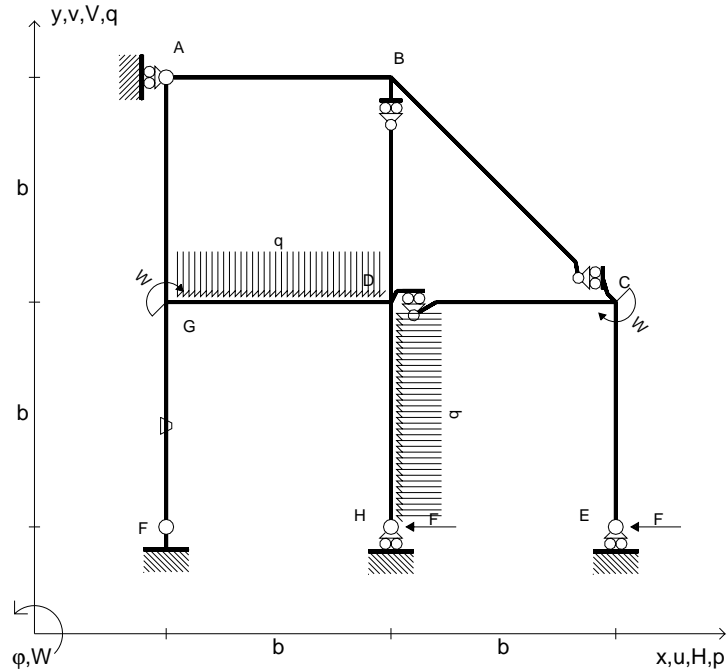
Curvatura θ asta FG positiva se convessa a destra con inizio F.

@ Adolfo Zavelani Rossi, Politecnico di Milano, vers.27.03.13



⊕ ↻

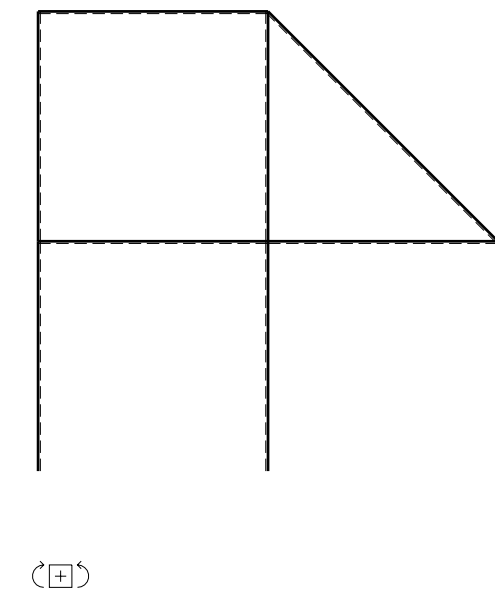
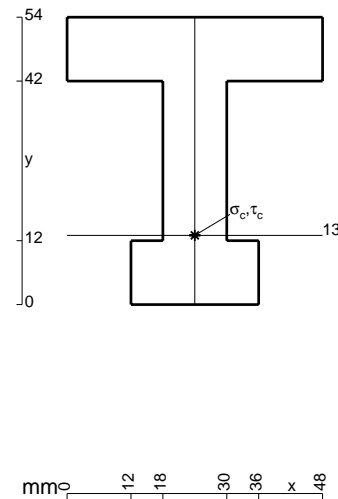
- $H_E = -F$
- $H_H = -F$
- $W_C = -W = -Fb$
- $W_G = -W = -Fb$
- $q_{GD} = -q = -F/b$
- $p_{DH} = -q = -F/b$
- $\theta_{FG} = -\theta = -\alpha T/b = -bF/EJ$
- $EJ_{AB} = EJ$
- $EJ_{BC} = EJ$
- $EJ_{BD} = EJ$
- $EJ_{DC} = EJ$
- $EJ_{CE} = EJ$
- $EJ_{FG} = EJ$
- $EJ_{GD} = EJ$
- $EJ_{DH} = EJ$
- $EJ_{GA} = EJ$



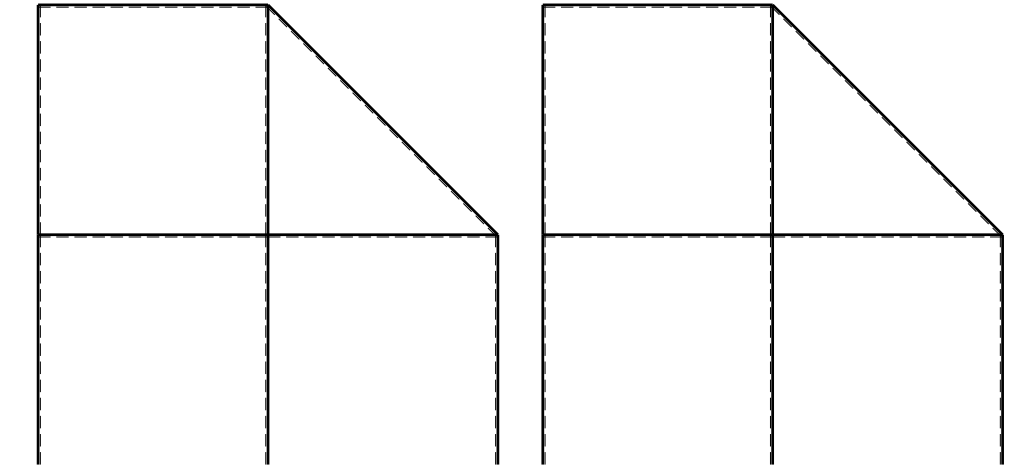
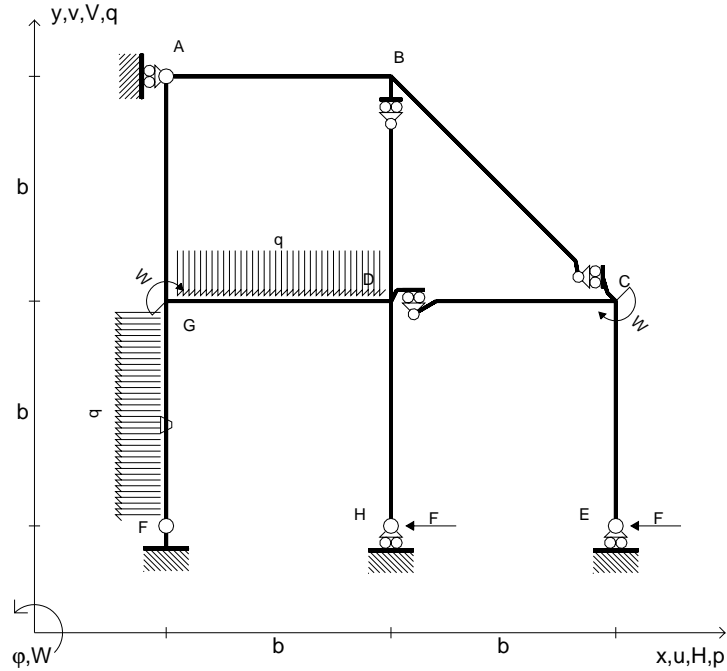
ANALISI STRUTTURALE CON PLV
 RIPORTARE SUL FILE "ESAME" SOLO LE SEGUENTI RICHIESTE

- Sul fronte:
- 1) Declassamento con indicazione dell'iperstatica scelta
 - 2) Diagrammi finali delle azioni interne
 - 3) Sforzi richiesti (nota: profilo COMPATTO)
- Sul retro:
- 4) Analisi cinematica
 - 5) Diagrammi del momento M_0 e M^*
 - 6) Espressione del PLV
 - 7) Valore numerico dell'iperstatica

Carichi e deformazioni date hanno verso efficace in disegno.
 Calcolare reazioni vincolari della struttura e delle aste.
 Tracciare i diagrammi quotati delle azioni interne nelle aste.
 $J_{YZ} - x_{YZ} - \theta_{YZ}$ riferimento locale asta YZ con origine in Y.
 La trave DC ha la sezione riportata e dimensioni in mm, con:
 $b = 910 \text{ mm}$, $F = 1530 \text{ N}$
 Calcolare sulla sezione C la massima tensione normale σ_m .
 Calcolare in * le tensioni σ_c, τ_c e la tensione di von Mises.
 Lembo inferiore sezione su tratteggio trave, a destra da D a C
 Curvatura θ asta FG positiva se convessa a destra con inizio F.
 @ Adolfo Zavelani Rossi, Politecnico di Milano, vers.27.03.13



- $H_E = -F$
- $H_H = -F$
- $W_C = -W = -Fb$
- $W_G = -W = -Fb$
- $q_{GD} = -q = -F/b$
- $p_{FG} = -q = -F/b$
- $\theta_{FG} = -\theta = -\alpha T/b = -bF/EJ$
- $EJ_{AB} = EJ$
- $EJ_{BC} = EJ$
- $EJ_{BD} = EJ$
- $EJ_{DC} = EJ$
- $EJ_{CE} = EJ$
- $EJ_{FG} = EJ$
- $EJ_{GD} = EJ$
- $EJ_{DH} = EJ$
- $EJ_{GA} = EJ$



← ⊕ →

↑ ⊕ ↓

ANALISI STRUTTURALE CON PLV

RIPORTARE SUL FILE "ESAME" SOLO LE SEGUENTI RICHIESTE

Sul fronte:

- 1) Declassamento con indicazione dell'iperstatica scelta
- 2) Diagrammi finali delle azioni interne
- 3) Sforzi richiesti
(nota: profilo COMPATTO)

Sul retro:

- 4) Analisi cinematica
- 5) Diagrammi del momento M_0 e M^*
- 6) Espressione del PLV
- 7) Valore numerico dell'iperstatica

Carichi e deformazioni date hanno verso efficace in disegno.

Calcolare reazioni vincolari della struttura e delle aste.

Tracciare i diagrammi quotati delle azioni interne nelle aste.

$J_{YZ} - x_{YZ} - \theta_{YZ}$ riferimento locale asta YZ con origine in Y.

La trave DC ha la sezione riportata e dimensioni in mm, con:

$b = 960 \text{ mm}$, $F = 1520 \text{ N}$

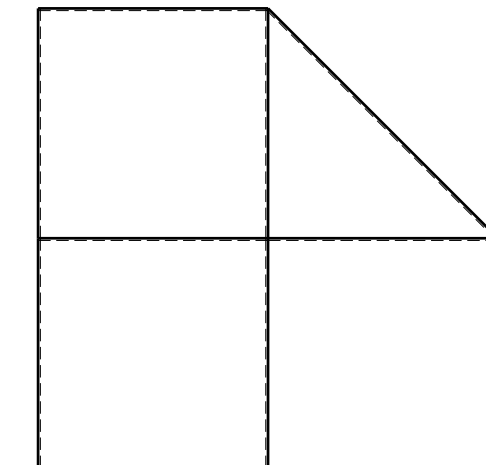

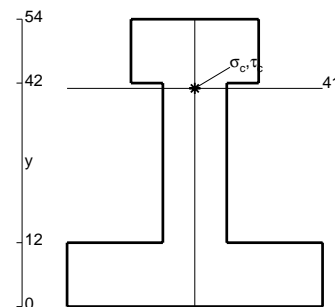
Calcolare sulla sezione C la massima tensione normale σ_m .

Calcolare in * le tensioni σ_c, τ_c e la tensione di von Mises.

Le mbo inferiore sezione su tratteggio trave, a destra da D a C

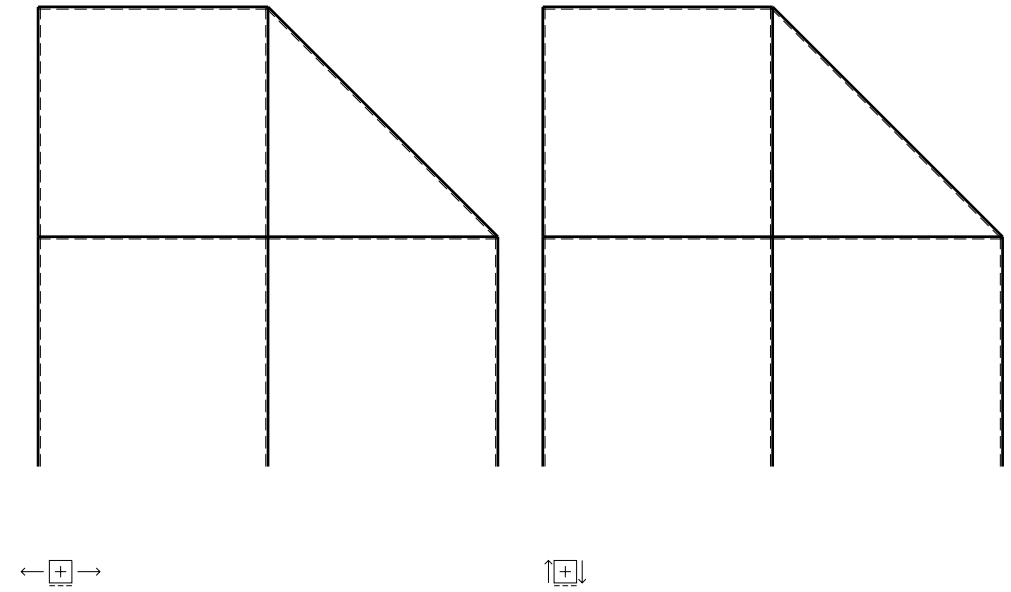
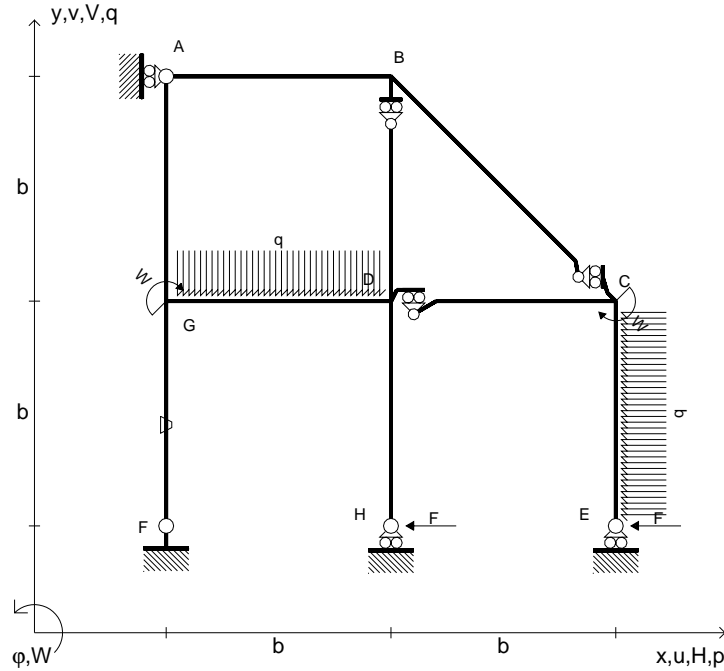
Curvatura θ asta FG positiva se convessa a destra con inizio F.

@ Adolfo Zavelani Rossi, Politecnico di Milano, vers.27.03.13



⊕ ↺

- $H_E = -F$
- $H_H = -F$
- $W_C = -W = -Fb$
- $W_G = -W = -Fb$
- $q_{GD} = -q = -F/b$
- $p_{CE} = -q = -F/b$
- $\theta_{FG} = -\theta = -\alpha T/b = -bF/EJ$
- $EJ_{AB} = EJ$
- $EJ_{BC} = EJ$
- $EJ_{BD} = EJ$
- $EJ_{DC} = EJ$
- $EJ_{CE} = EJ$
- $EJ_{FG} = EJ$
- $EJ_{GD} = EJ$
- $EJ_{DH} = EJ$
- $EJ_{GA} = EJ$



ANALISI STRUTTURALE CON PLV

RIPORTARE SUL FILE "ESAME" SOLO LE SEGUENTI RICHIESTE

Sul fronte:

- 1) Declassamento con indicazione dell'iperstatica scelta
- 2) Diagrammi finali delle azioni interne
- 3) Sforzi richiesti (nota: profilo COMPATTO)

Sul retro:

- 4) Analisi cinematica
- 5) Diagrammi del momento M_0 e M^*
- 6) Espressione del PLV
- 7) Valore numerico dell'iperstatica

Carichi e deformazioni date hanno verso efficace in disegno.

Calcolare reazioni vincolari della struttura e delle aste.

Tracciare i diagrammi quotati delle azioni interne nelle aste.

$J_{YZ} - x_{YZ} - \theta_{YZ}$ riferimento locale asta YZ con origine in Y.

La trave DC ha la sezione riportata e dimensioni in mm, con:

$b = 510 \text{ mm}$, $F = 1360 \text{ N}$

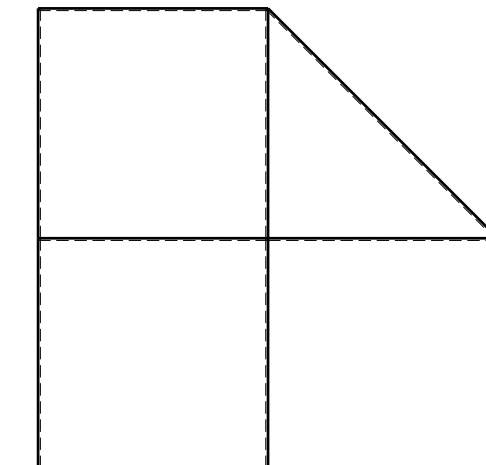
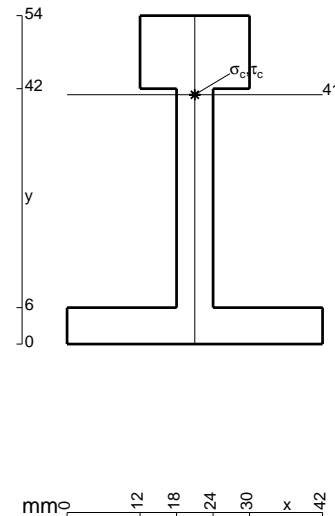
Calcolare sulla sezione C la massima tensione normale σ_m .

Calcolare in * le tensioni σ_c, τ_c e la tensione di von Mises.

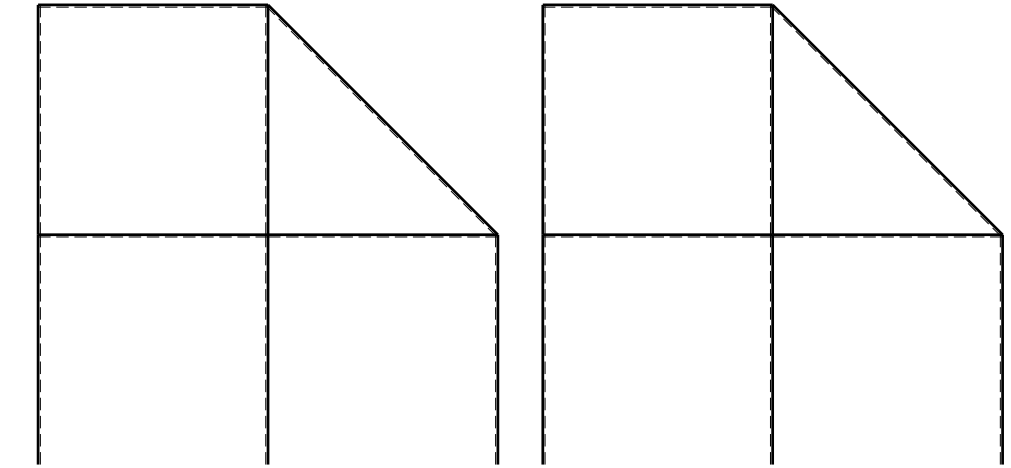
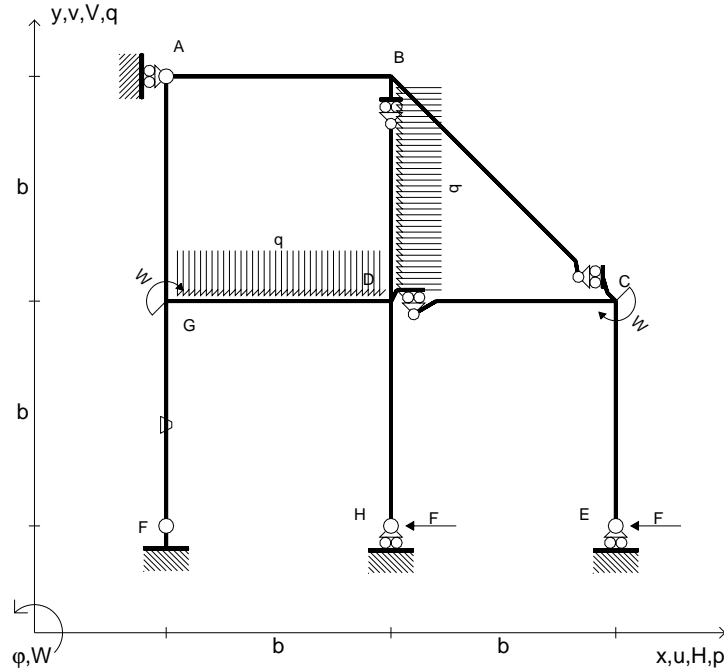
Leombo inferiore sezione su tratteggio trave, a destra da D a C

Curvatura θ asta FG positiva se convessa a destra con inizio F.

@ Adolfo Zavelani Rossi, Politecnico di Milano, vers.27.03.13



- $H_E = -F$
- $H_H = -F$
- $W_C = -W = -Fb$
- $W_G = -W = -Fb$
- $q_{GD} = -q = -F/b$
- $p_{BD} = -q = -F/b$
- $\theta_{FG} = -\theta = -\alpha T/b = -bF/EJ$
- $EJ_{AB} = EJ$
- $EJ_{BC} = EJ$
- $EJ_{BD} = EJ$
- $EJ_{DC} = EJ$
- $EJ_{CE} = EJ$
- $EJ_{FG} = EJ$
- $EJ_{GD} = EJ$
- $EJ_{DH} = EJ$
- $EJ_{GA} = EJ$



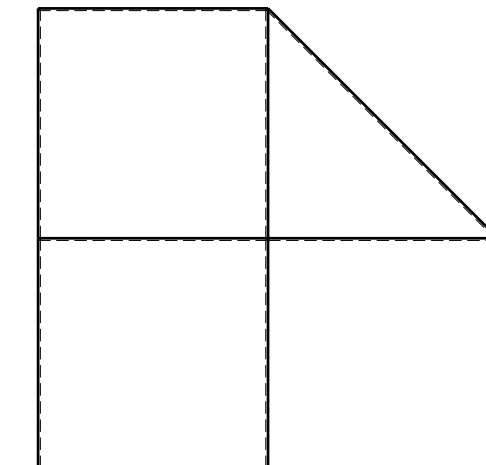
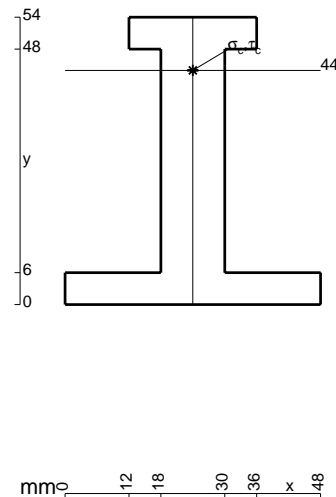
← ⊕ →

↑ ⊕ ↓

ANALISI STRUTTURALE CON PLV
 RIPORTARE SUL FILE "ESAME" SOLO LE SEGUENTI RICHIESTE

- Sul fronte:
- 1) Declassamento con indicazione dell'iperstatica scelta
 - 2) Diagrammi finali delle azioni interne
 - 3) Sforzi richiesti (nota: profilo COMPATTO)
- Sul retro:
- 4) Analisi cinematica
 - 5) Diagrammi del momento M_0 e M^*
 - 6) Espressione del PLV
 - 7) Valore numerico dell'iperstatica

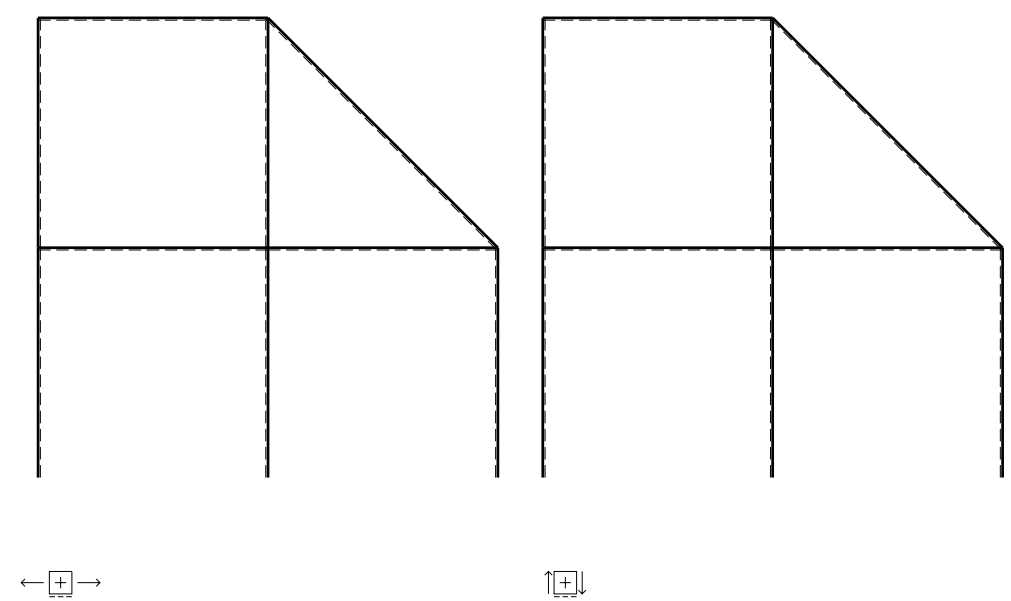
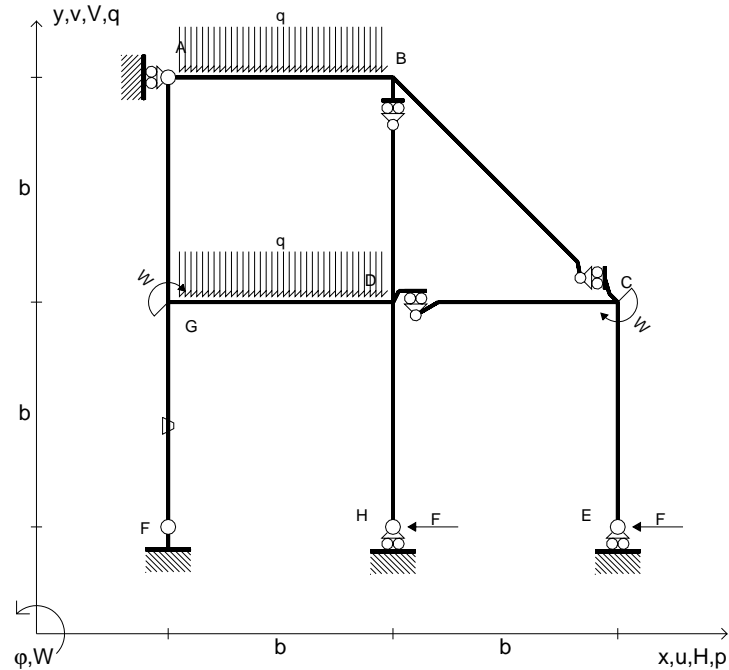
Carichi e deformazioni date hanno verso efficace in disegno.
 Calcolare reazioni vincolari della struttura e delle aste.
 Tracciare i diagrammi quotati delle azioni interne nelle aste.
 $J_{YZ} - x_{YZ} - \theta_{YZ}$ riferimento locale asta YZ con origine in Y.
 La trave DC ha la sezione riportata e dimensioni in mm, con:
 $b = 560$ mm, $F = 1900$ N



⊕ ⊖

Calcolare sulla sezione C la massima tensione normale σ_m .
 Calcolare in * le tensioni σ_c, τ_c e la tensione di von Mises.
 Lembo inferiore sezione su tratteggio trave, a destra da D a C
 Curvatura θ asta FG positiva se convessa a destra con inizio F.
 @ Adolfo Zavelani Rossi, Politecnico di Milano, vers.27.03.13

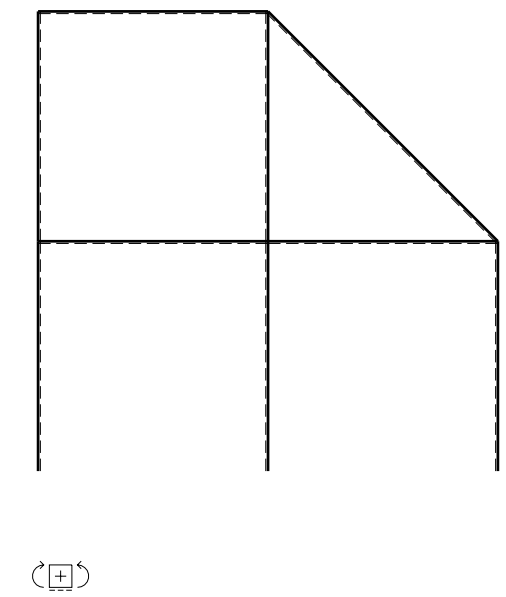
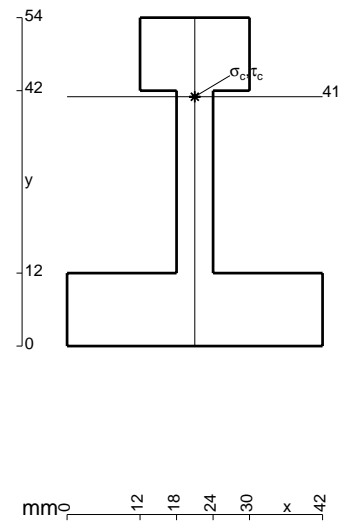
- $H_E = -F$
- $H_H = -F$
- $W_C = -W = -Fb$
- $W_G = -W = -Fb$
- $q_{GD} = -q = -F/b$
- $q_{AB} = -q = -F/b$
- $\theta_{FG} = -\theta = -\alpha T/b = -bF/EJ$
- $EJ_{AB} = EJ$
- $EJ_{BC} = EJ$
- $EJ_{BD} = EJ$
- $EJ_{DC} = EJ$
- $EJ_{CE} = EJ$
- $EJ_{FG} = EJ$
- $EJ_{GD} = EJ$
- $EJ_{DH} = EJ$
- $EJ_{GA} = EJ$



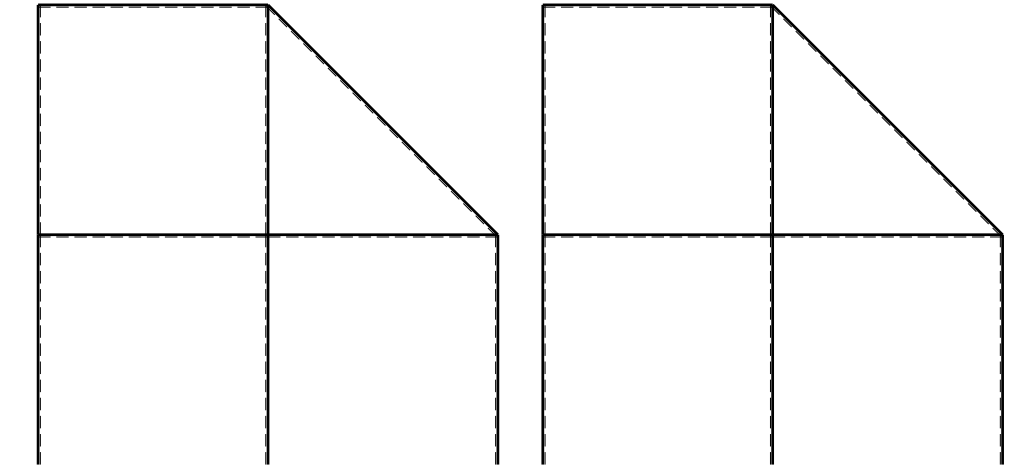
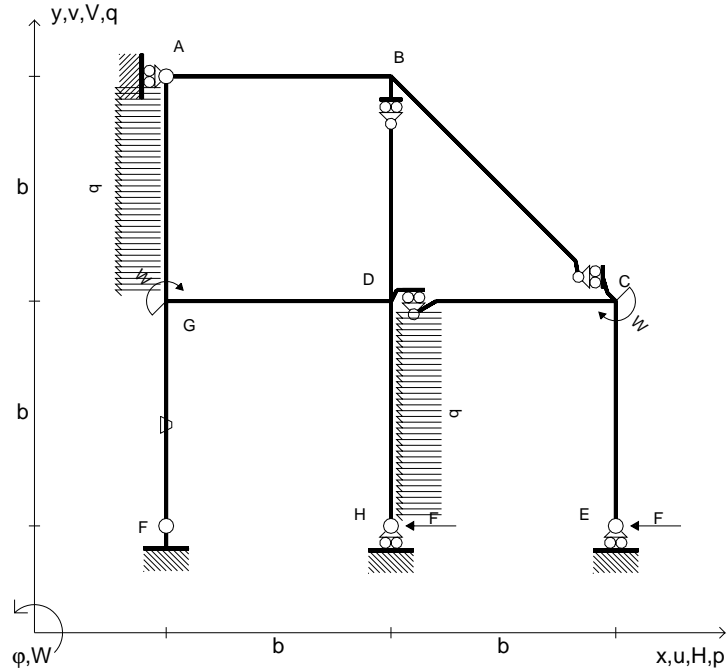
ANALISI STRUTTURALE CON PLV
 RIPORTARE SUL FILE "ESAME" SOLO LE SEGUENTI RICHIESTE

- Sul fronte:
- 1) Declassamento con indicazione dell'iperstatica scelta
 - 2) Diagrammi finali delle azioni interne
 - 3) Sforzi richiesti (nota: profilo COMPATTO)
- Sul retro:
- 4) Analisi cinematica
 - 5) Diagrammi del momento M_0 e M^*
 - 6) Espressione del PLV
 - 7) Valore numerico dell'iperstatica

Carichi e deformazioni date hanno verso efficace in disegno.
 Calcolare reazioni vincolari della struttura e delle aste.
 Tracciare i diagrammi quotati delle azioni interne nelle aste.
 $J_{YZ} - x_{YZ} - \theta_{YZ}$ riferimento locale asta YZ con origine in Y.
 La trave DC ha la sezione riportata e dimensioni in mm, con:
 $b = 610 \text{ mm}$, $F = 1590 \text{ N}$
 Calcolare sulla sezione C la massima tensione normale σ_m .
 Calcolare in * le tensioni σ_c, τ_c e la tensione di von Mises.
 Lembo inferiore sezione su tratteggio trave, a destra da D a C
 Curvatura θ asta FG positiva se convessa a destra con inizio F.
 © Adolfo Zavelani Rossi, Politecnico di Milano, vers.27.03.13



- $H_E = -F$
- $H_H = -F$
- $W_C = -W = -Fb$
- $W_G = -W = -Fb$
- $p_{DH} = -q = -F/b$
- $p_{GA} = -q = -F/b$
- $\theta_{FG} = -\theta = -\alpha T/b = -bF/EJ$
- $EJ_{AB} = EJ$
- $EJ_{BC} = EJ$
- $EJ_{BD} = EJ$
- $EJ_{DC} = EJ$
- $EJ_{CE} = EJ$
- $EJ_{FG} = EJ$
- $EJ_{GD} = EJ$
- $EJ_{DH} = EJ$
- $EJ_{GA} = EJ$



← ⊕ →

↑ ⊕ ↓

ANALISI STRUTTURALE CON PLV

RIPORTARE SUL FILE "ESAME" SOLO LE SEGUENTI RICHIESTE

Sul fronte:

- 1) Declassamento con indicazione dell'iperstatica scelta
- 2) Diagrammi finali delle azioni interne
- 3) Sforzi richiesti
(nota: profilo COMPATTO)

Sul retro:

- 4) Analisi cinematica
- 5) Diagrammi del momento M_0 e M^*
- 6) Espressione del PLV
- 7) Valore numerico dell'iperstatica

Carichi e deformazioni date hanno verso efficace in disegno.

Calcolare reazioni vincolari della struttura e delle aste.

Tracciare i diagrammi quotati delle azioni interne nelle aste.

$J_{YZ} - x_{YZ} - \theta_{YZ}$ riferimento locale asta YZ con origine in Y.

La trave DC ha la sezione riportata e dimensioni in mm, con:

$b = 660 \text{ mm}$, $F = 1210 \text{ N}$

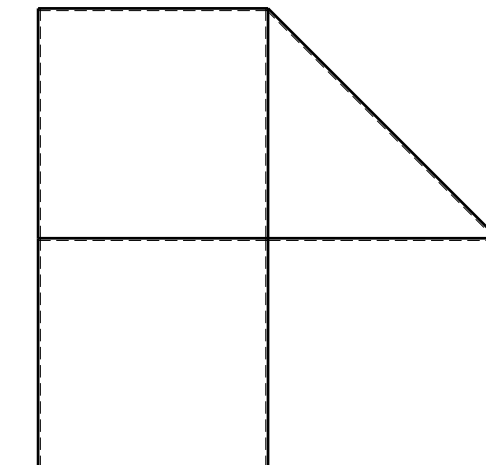

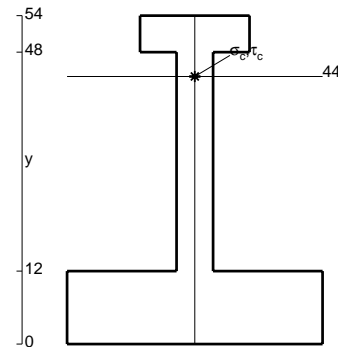
Calcolare sulla sezione C la massima tensione normale σ_m .

Calcolare in * le tensioni σ_c, τ_c e la tensione di von Mises.

Leombo inferiore sezione su tratteggio trave, a destra da D a C

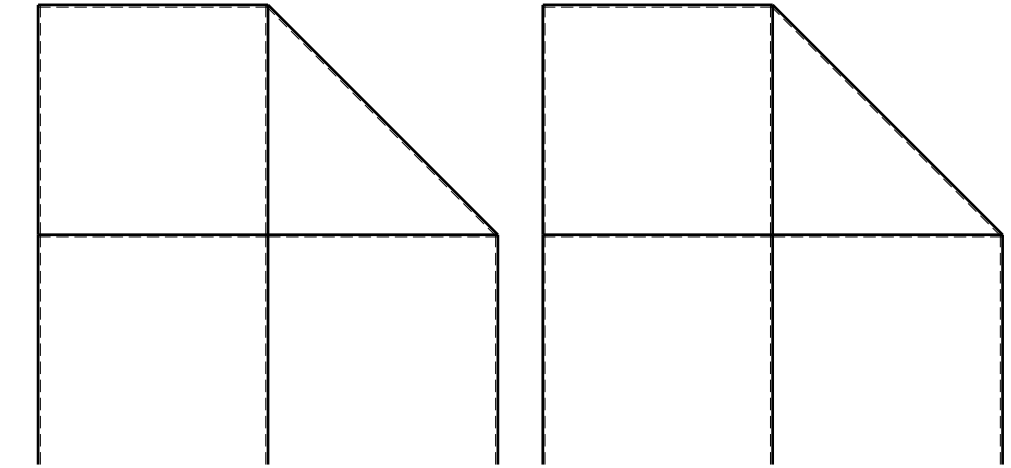
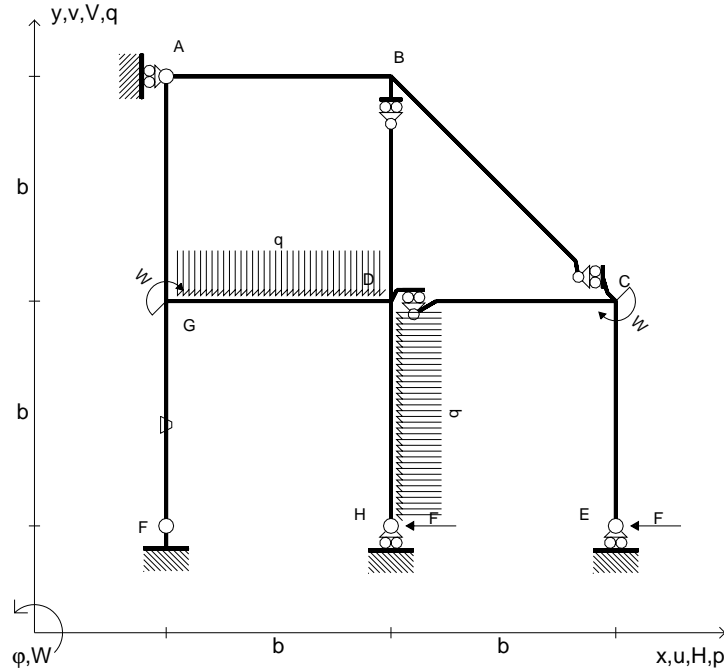
Curvatura θ asta FG positiva se convessa a destra con inizio F.

@ Adolfo Zavelani Rossi, Politecnico di Milano, vers.27.03.13



⊕ ⊖

- $H_E = -F$
- $H_H = -F$
- $W_C = -W = -Fb$
- $W_G = -W = -Fb$
- $p_{DH} = -q = -F/b$
- $q_{GD} = -q = -F/b$
- $\theta_{FG} = -\theta = -\alpha T/b = -bF/EJ$
- $EJ_{AB} = EJ$
- $EJ_{BC} = EJ$
- $EJ_{BD} = EJ$
- $EJ_{DC} = EJ$
- $EJ_{CE} = EJ$
- $EJ_{FG} = EJ$
- $EJ_{GD} = EJ$
- $EJ_{DH} = EJ$
- $EJ_{GA} = EJ$



← ⊕ →

↑ ⊕ ↓

ANALISI STRUTTURALE CON PLV
 RIPORTARE SUL FILE "ESAME" SOLO LE SEGUENTI RICHIESTE

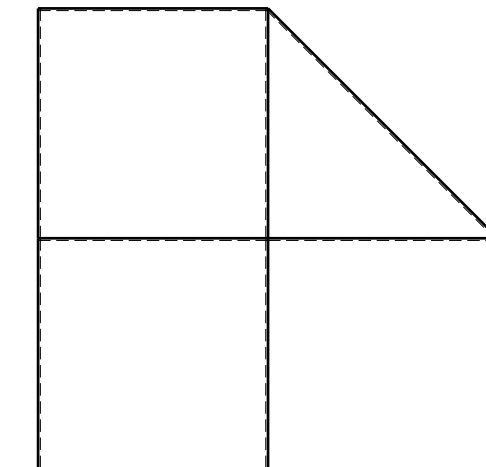
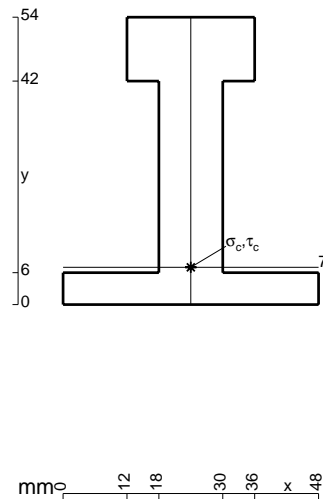
- Sul fronte:
- 1) Declassamento con indicazione dell'iperstatica scelta
 - 2) Diagrammi finali delle azioni interne
 - 3) Sforzi richiesti (nota: profilo COMPATTO)

- Sul retro:
- 4) Analisi cinematica
 - 5) Diagrammi del momento M_0 e M^*
 - 6) Espressione del PLV
 - 7) Valore numerico dell'iperstatica

Carichi e deformazioni date hanno verso efficace in disegno.
 Calcolare reazioni vincolari della struttura e delle aste.
 Tracciare i diagrammi quotati delle azioni interne nelle aste.

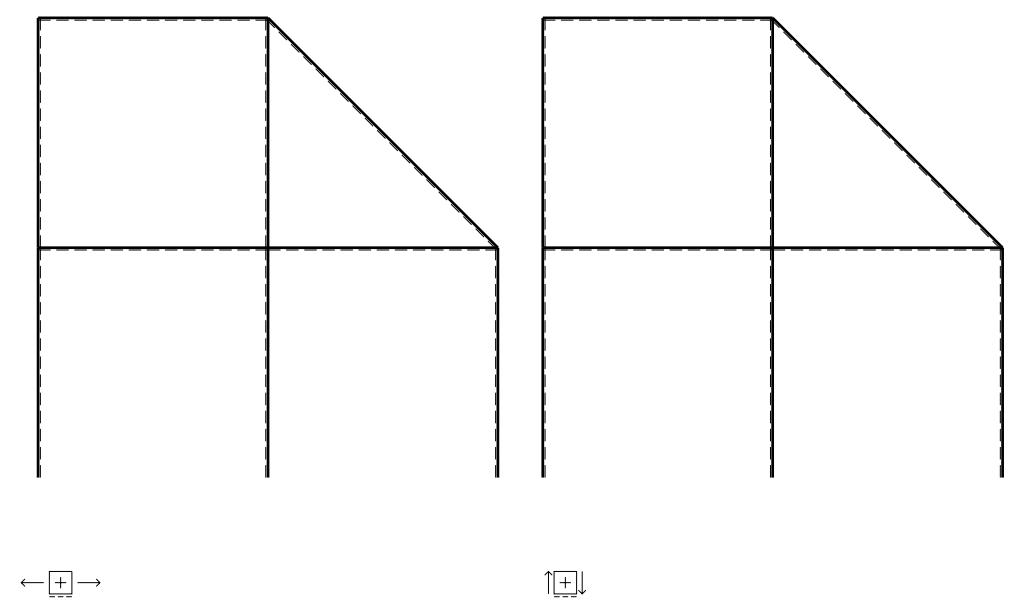
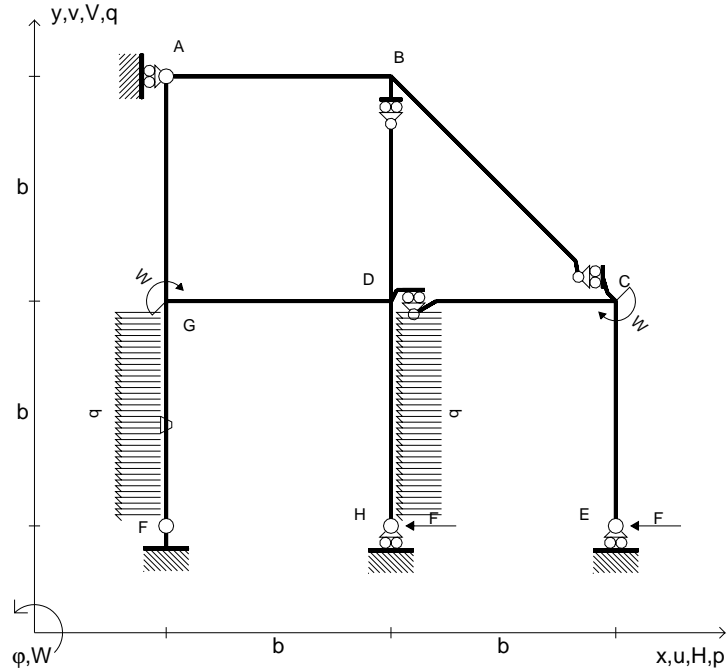
$J_{YZ} - x_{YZ} - \theta_{YZ}$ riferimento locale asta YZ con origine in Y.
 La trave DC ha la sezione riportata e dimensioni in mm, con:
 $b = 710 \text{ mm}$, $F = 1980 \text{ N}$

Calcolare sulla sezione C la massima tensione normale σ_m .
 Calcolare in * le tensioni σ_c, τ_c e la tensione di von Mises.
 Lembo inferiore sezione su tratteggio trave, a destra da D a C
 Curvatura θ asta FG positiva se convessa a destra con inizio F.
 © Adolfo Zavelani Rossi, Politecnico di Milano, vers.27.03.13



← ⊕ →

- $H_E = -F$
- $H_H = -F$
- $W_C = -W = -Fb$
- $W_G = -W = -Fb$
- $p_{DH} = -q = -F/b$
- $p_{FG} = -q = -F/b$
- $\theta_{FG} = -\theta = -\alpha T/b = -bF/EJ$
- $EJ_{AB} = EJ$
- $EJ_{BC} = EJ$
- $EJ_{BD} = EJ$
- $EJ_{DC} = EJ$
- $EJ_{CE} = EJ$
- $EJ_{FG} = EJ$
- $EJ_{GD} = EJ$
- $EJ_{DH} = EJ$
- $EJ_{GA} = EJ$



ANALISI STRUTTURALE CON PLV

RIPORTARE SUL FILE "ESAME" SOLO LE SEGUENTI RICHIESTE

Sul fronte:

- 1) Declassamento con indicazione dell'iperstatica scelta
- 2) Diagrammi finali delle azioni interne
- 3) Sforzi richiesti
(nota: profilo COMPATTO)

Sul retro:

- 4) Analisi cinematica
- 5) Diagrammi del momento M_0 e M^*
- 6) Espressione del PLV
- 7) Valore numerico dell'iperstatica

Carichi e deformazioni date hanno verso efficace in disegno.

Calcolare reazioni vincolari della struttura e delle aste.

Tracciare i diagrammi quotati delle azioni interne nelle aste.

$J_{YZ} - x_{YZ} - \theta_{YZ}$ riferimento locale asta YZ con origine in Y.

La trave DC ha la sezione riportata e dimensioni in mm, con:

$b = 760 \text{ mm}$, $F = 1370 \text{ N}$

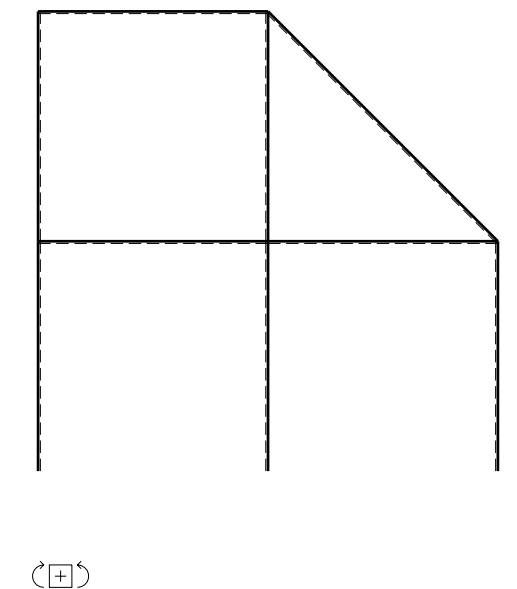
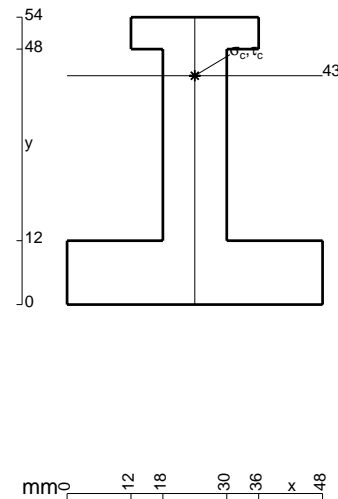
Calcolare sulla sezione C la massima tensione normale σ_m .

Calcolare in * le tensioni σ_c, τ_c e la tensione di von Mises.

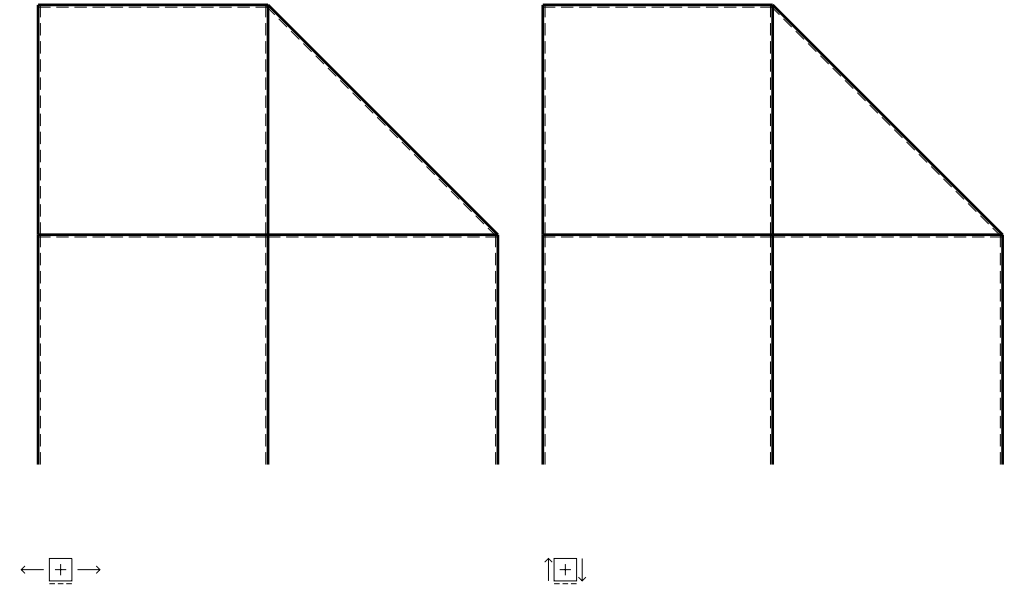
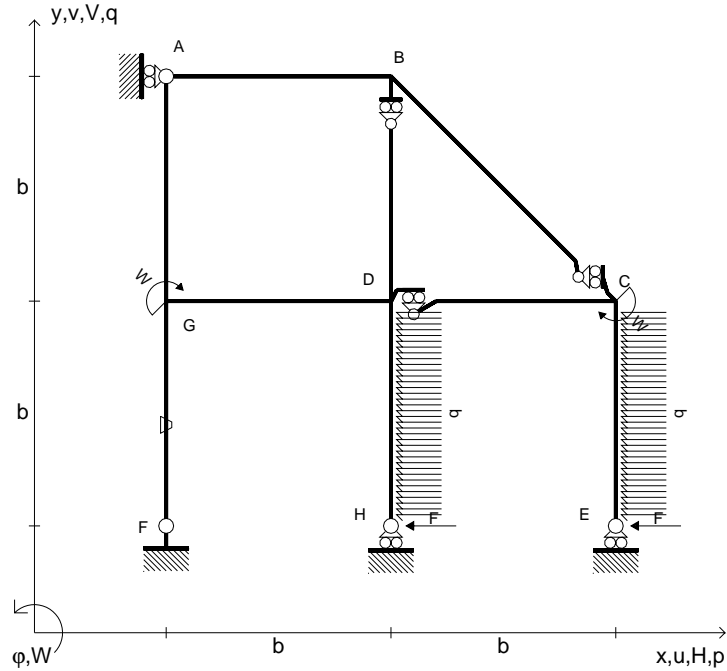
Leombo inferiore sezione su tratteggio trave, a destra da D a C

Curvatura θ asta FG positiva se convessa a destra con inizio F.

@ Adolfo Zavelani Rossi, Politecnico di Milano, vers.27.03.13



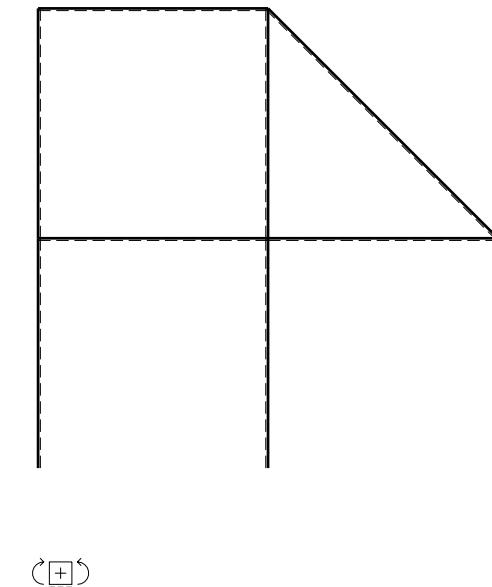
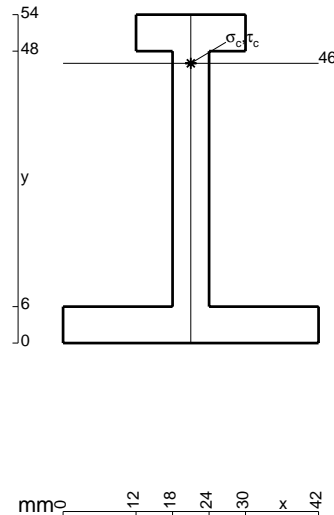
- $H_E = -F$
- $H_H = -F$
- $W_C = -W = -Fb$
- $W_G = -W = -Fb$
- $p_{DH} = -q = -F/b$
- $p_{CE} = -q = -F/b$
- $\theta_{FG} = -\theta = -\alpha T/b = -bF/EJ$
- $EJ_{AB} = EJ$
- $EJ_{BC} = EJ$
- $EJ_{BD} = EJ$
- $EJ_{DC} = EJ$
- $EJ_{CE} = EJ$
- $EJ_{FG} = EJ$
- $EJ_{GD} = EJ$
- $EJ_{DH} = EJ$
- $EJ_{GA} = EJ$



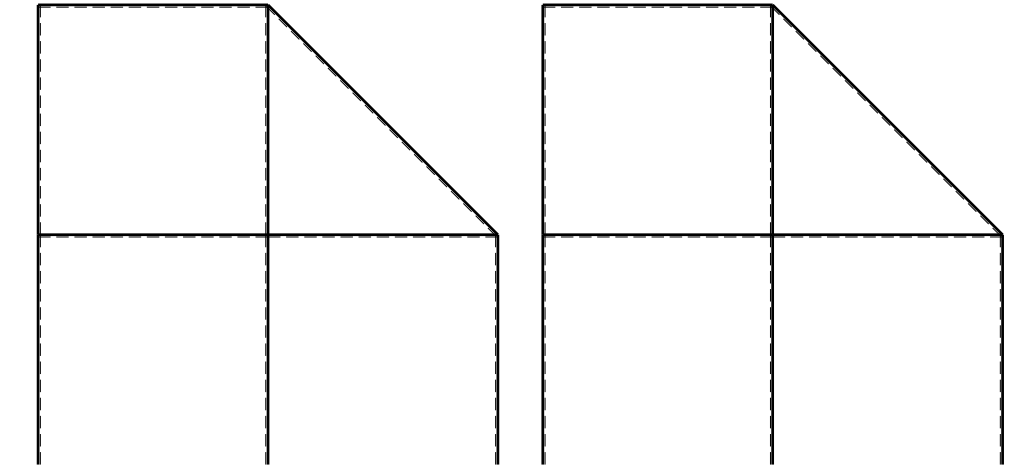
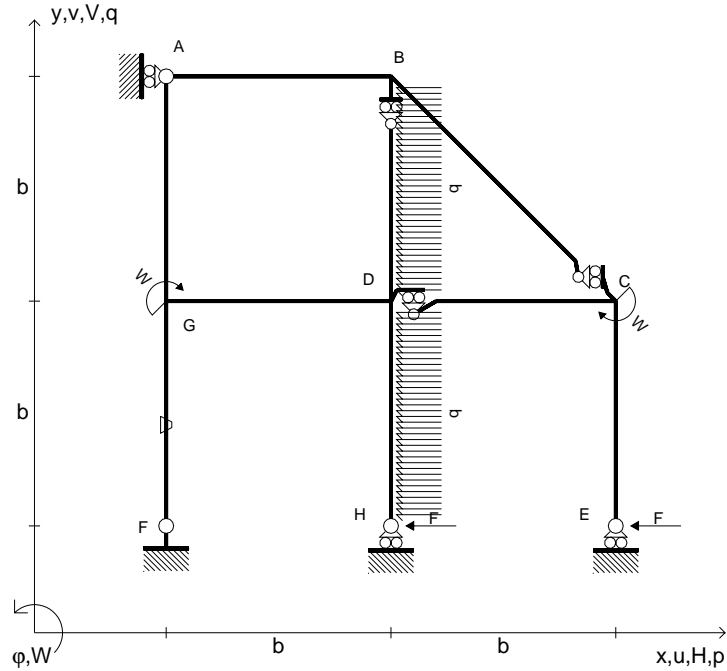
ANALISI STRUTTURALE CON PLV
 RIPORTARE SUL FILE "ESAME" SOLO LE SEGUENTI RICHIESTE

- Sul fronte:
- 1) Declassamento con indicazione dell'iperstatica scelta
 - 2) Diagrammi finali delle azioni interne
 - 3) Sforzi richiesti
(nota: profilo COMPATTO)
- Sul retro:
- 4) Analisi cinematica
 - 5) Diagrammi del momento M_0 e M^*
 - 6) Espressione del PLV
 - 7) Valore numerico dell'iperstatica

Carichi e deformazioni date hanno verso efficace in disegno.
 Calcolare reazioni vincolari della struttura e delle aste.
 Tracciare i diagrammi quotati delle azioni interne nelle aste.
 $J_{YZ} - x_{YZ} - \theta_{YZ}$ riferimento locale asta YZ con origine in Y.
 La trave DC ha la sezione riportata e dimensioni in mm, con:
 $b = 810 \text{ mm}$, $F = 710 \text{ N}$
 Calcolare sulla sezione C la massima tensione normale σ_m .
 Calcolare in * le tensioni σ_c, τ_c e la tensione di von Mises.
 Lembo inferiore sezione su tratteggio trave, a destra da D a C
 Curvatura θ asta FG positiva se convessa a destra con inizio F.
 @ Adolfo Zavelani Rossi, Politecnico di Milano, vers.27.03.13



- $H_E = -F$
- $H_H = -F$
- $W_C = -W = -Fb$
- $W_G = -W = -Fb$
- $p_{DH} = -q = -F/b$
- $p_{BD} = -q = -F/b$
- $\theta_{FG} = -\theta = -\alpha T/b = -bF/EJ$
- $EJ_{AB} = EJ$
- $EJ_{BC} = EJ$
- $EJ_{BD} = EJ$
- $EJ_{DC} = EJ$
- $EJ_{CE} = EJ$
- $EJ_{FG} = EJ$
- $EJ_{GD} = EJ$
- $EJ_{DH} = EJ$
- $EJ_{GA} = EJ$



← ⊕ →

↑ ⊕ ↓

ANALISI STRUTTURALE CON PLV

RIPORTARE SUL FILE "ESAME" SOLO LE SEGUENTI RICHIESTE

Sul fronte:

- 1) Declassamento con indicazione dell'iperstatica scelta
- 2) Diagrammi finali delle azioni interne
- 3) Sforzi richiesti
(nota: profilo COMPATTO)

Sul retro:

- 4) Analisi cinematica
- 5) Diagrammi del momento M_0 e M^*
- 6) Espressione del PLV
- 7) Valore numerico dell'iperstatica

Carichi e deformazioni date hanno verso efficace in disegno.

Calcolare reazioni vincolari della struttura e delle aste.

Tracciare i diagrammi quotati delle azioni interne nelle aste.

$J_{YZ} - x_{YZ} - \theta_{YZ}$ riferimento locale asta YZ con origine in Y.

La trave DC ha la sezione riportata e dimensioni in mm, con:

$b = 850 \text{ mm}$, $F = 850 \text{ N}$

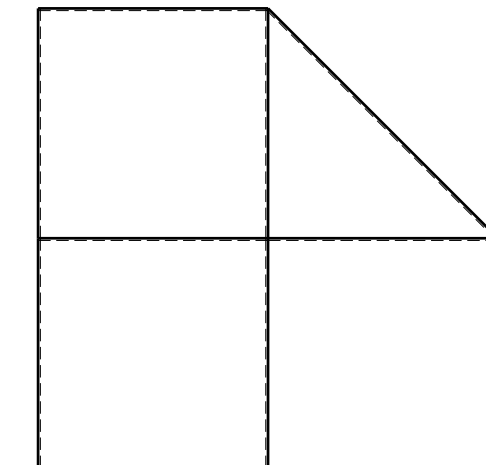
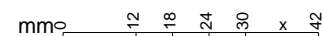
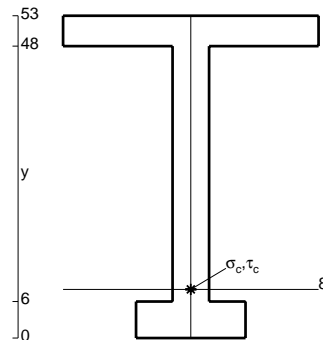
Calcolare sulla sezione C la massima tensione normale σ_m .

Calcolare in * le tensioni σ_c, τ_c e la tensione di von Mises.

Leombo inferiore sezione su tratteggio trave, a destra da D a C

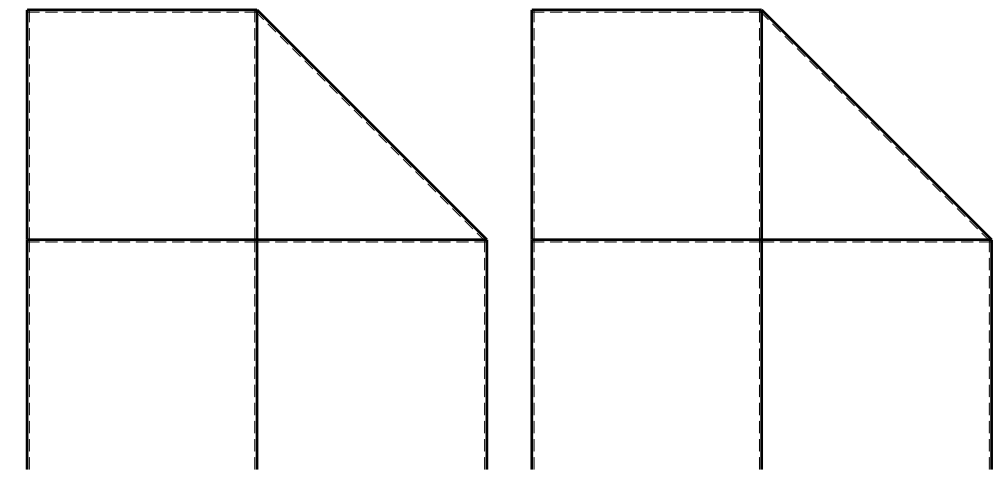
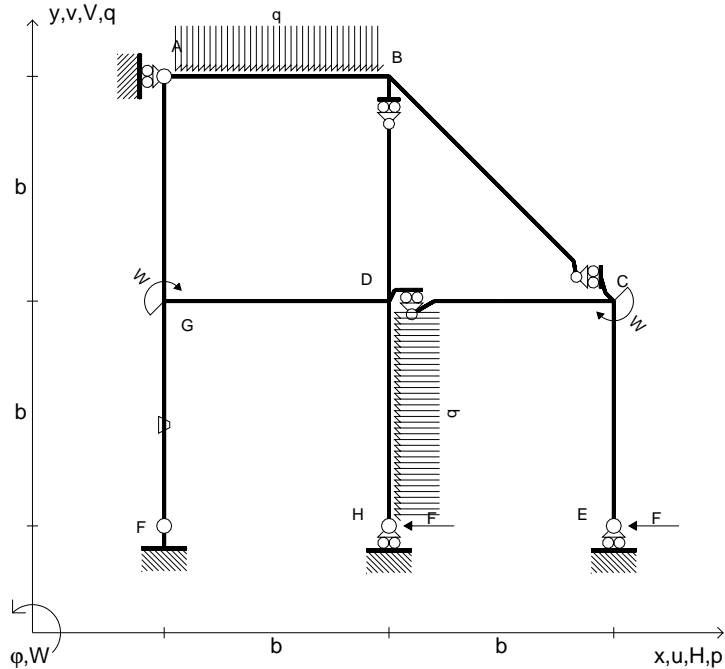
Curvatura θ asta FG positiva se convessa a destra con inizio F.

@ Adolfo Zavelani Rossi, Politecnico di Milano, vers.27.03.13



← ⊕ →

- $H_E = -F$
- $H_H = -F$
- $W_C = -W = -Fb$
- $W_G = -W = -Fb$
- $p_{DH} = -q = -F/b$
- $q_{AB} = -q = -F/b$
- $\theta_{FG} = -\theta = -\alpha T/b = -bF/EJ$
- $EJ_{AB} = EJ$
- $EJ_{BC} = EJ$
- $EJ_{BD} = EJ$
- $EJ_{DC} = EJ$
- $EJ_{CE} = EJ$
- $EJ_{FG} = EJ$
- $EJ_{GD} = EJ$
- $EJ_{DH} = EJ$
- $EJ_{GA} = EJ$

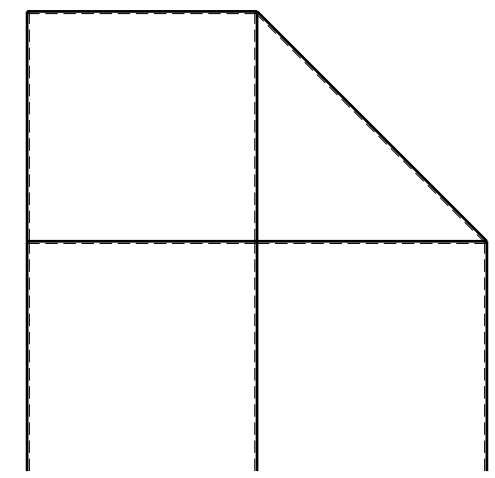
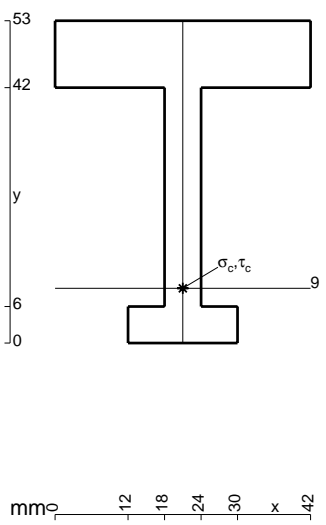


← ⊕ →

↑ ⊕ ↓

ANALISI STRUTTURALE CON PLV
RIPORTARE SUL FILE "ESAME" SOLO LE SEGUENTI RICHIESTE

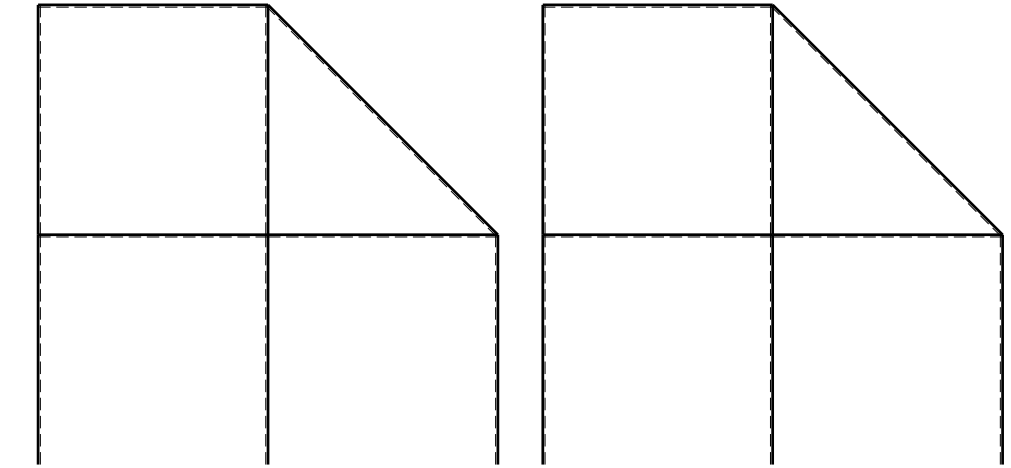
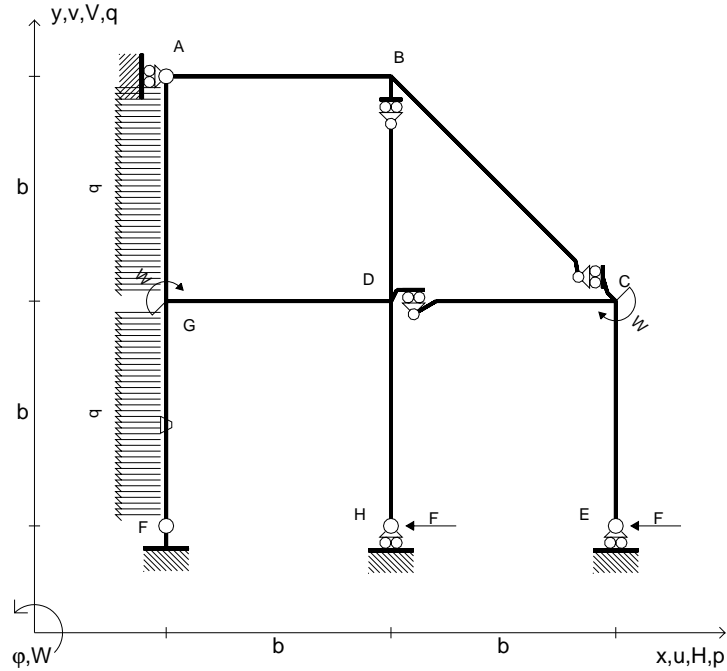
- Sul fronte:
- 1) Declassamento con indicazione dell'iperstatica scelta
 - 2) Diagrammi finali delle azioni interne
 - 3) Sforzi richiesti (nota: profilo COMPATTO)
- Sul retro:
- 4) Analisi cinematica
 - 5) Diagrammi del momento M0 e M*
 - 6) Espressione del PLV
 - 7) Valore numerico dell'iperstatica
- Carichi e deformazioni date hanno verso efficace in disegno.
Calcolare reazioni vincolari della struttura e delle aste.
Tracciare i diagrammi quotati delle azioni interne nelle aste.
 $J_{YZ} - x_{YZ} - \theta_{YZ}$ riferimento locale asta YZ con origine in Y.
La trave DC ha la sezione riportata e dimensioni in mm, con:
 $b = 900 \text{ mm}$, $F = 860 \text{ N}$
Calcolare sulla sezione C la massima tensione normale σ_m .
Calcolare in * le tensioni σ_c, τ_c e la tensione di von Mises.
Lembo inferiore sezione su tratteggio trave, a destra da D a C
Curvatura θ asta FG positiva se convessa a destra con inizio F.
@ Adolfo Zavelani Rossi, Politecnico di Milano, vers.27.03.13



← ⊕ →

mm 12 18 24 30 x 42

- $H_E = -F$
- $H_H = -F$
- $W_C = -W = -Fb$
- $W_G = -W = -Fb$
- $p_{FG} = -q = -F/b$
- $p_{GA} = -q = -F/b$
- $\theta_{FG} = -\theta = -\alpha T/b = -bF/EJ$
- $EJ_{AB} = EJ$
- $EJ_{BC} = EJ$
- $EJ_{BD} = EJ$
- $EJ_{DC} = EJ$
- $EJ_{CE} = EJ$
- $EJ_{FG} = EJ$
- $EJ_{GD} = EJ$
- $EJ_{DH} = EJ$
- $EJ_{GA} = EJ$



← ⊕ →

↑ ⊕ ↓

ANALISI STRUTTURALE CON PLV

RIPORTARE SUL FILE "ESAME" SOLO LE SEGUENTI RICHIESTE

Sul fronte:

- 1) Declassamento con indicazione dell'iperstatica scelta
- 2) Diagrammi finali delle azioni interne
- 3) Sforzi richiesti
(nota: profilo COMPATTO)

Sul retro:

- 4) Analisi cinematica
- 5) Diagrammi del momento M_0 e M^*
- 6) Espressione del PLV
- 7) Valore numerico dell'iperstatica

Carichi e deformazioni date hanno verso efficace in disegno.

Calcolare reazioni vincolari della struttura e delle aste.

Tracciare i diagrammi quotati delle azioni interne nelle aste.

$J_{YZ} - x_{YZ} - \theta_{YZ}$ riferimento locale asta YZ con origine in Y.

La trave DC ha la sezione riportata e dimensioni in mm, con:

$b = 950 \text{ mm}$, $F = 1220 \text{ N}$

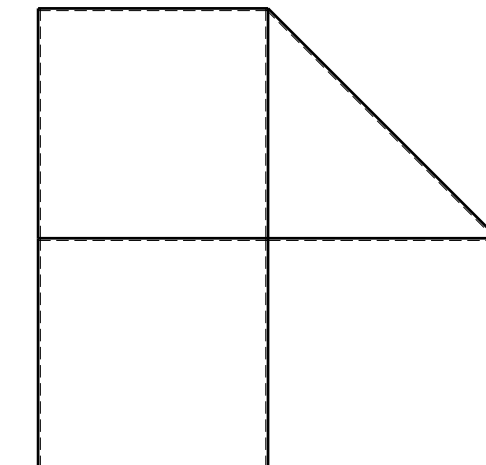
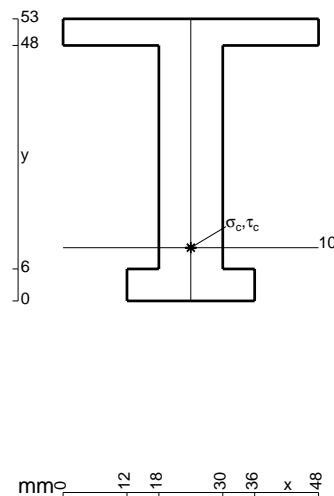
Calcolare sulla sezione C la massima tensione normale σ_m .

Calcolare in * le tensioni σ_c, τ_c e la tensione di von Mises.

Leombo inferiore sezione su tratteggio trave, a destra da D a C

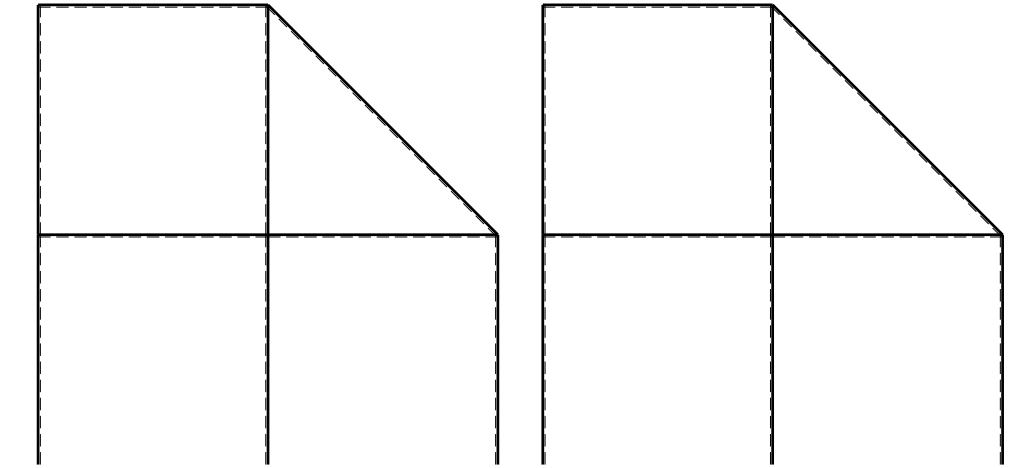
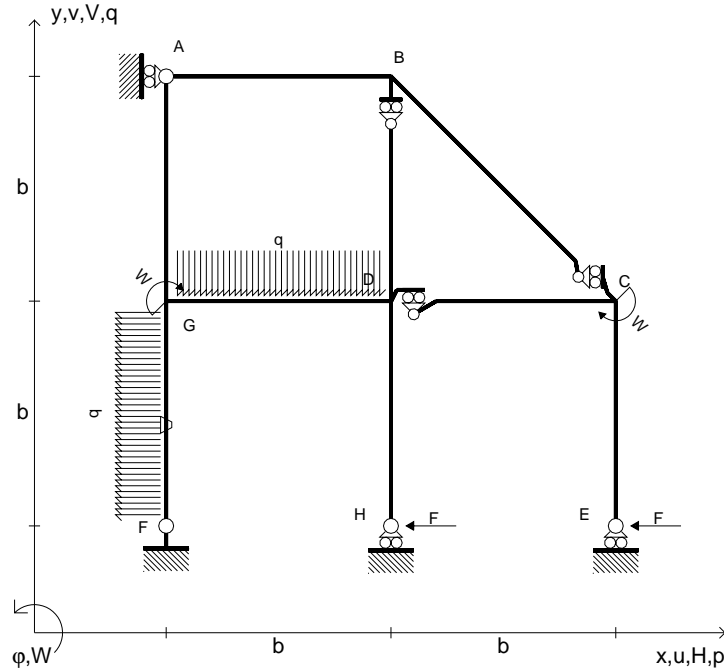
Curvatura θ asta FG positiva se convessa a destra con inizio F.

@ Adolfo Zavelani Rossi, Politecnico di Milano, vers.27.03.13



⊕ ↺

$H_E = -F$
 $H_H = -F$
 $W_C = -W = -Fb$
 $W_G = -W = -Fb$
 $p_{FG} = -q = -F/b$
 $q_{GD} = -q = -F/b$
 $\theta_{FG} = -\theta = -\alpha T/b = -bF/EJ$
 $EJ_{AB} = EJ$
 $EJ_{BC} = EJ$
 $EJ_{BD} = EJ$
 $EJ_{DC} = EJ$
 $EJ_{CE} = EJ$
 $EJ_{FG} = EJ$
 $EJ_{GD} = EJ$
 $EJ_{DH} = EJ$
 $EJ_{GA} = EJ$



ANALISI STRUTTURALE CON PLV

RIPORTARE SUL FILE "ESAME" SOLO LE SEGUENTI RICHIESTE

Sul fronte:

- 1) Declassamento con indicazione dell'iperstatica scelta
- 2) Diagrammi finali delle azioni interne
- 3) Sforzi richiesti (nota: profilo COMPATTO)

Sul retro:

- 4) Analisi cinematica
- 5) Diagrammi del momento M_0 e M^*
- 6) Espressione del PLV
- 7) Valore numerico dell'iperstatica

Carichi e deformazioni date hanno verso efficace in disegno.

Calcolare reazioni vincolari della struttura e delle aste.

Tracciare i diagrammi quotati delle azioni interne nelle aste.

$J_{YZ} - x_{YZ} - \theta_{YZ}$ riferimento locale asta YZ con origine in Y.

La trave DC ha la sezione riportata e dimensioni in mm, con:

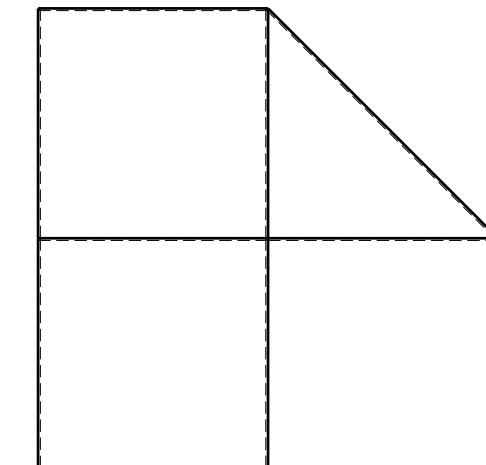
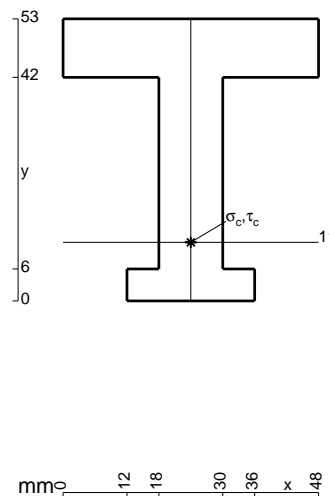
$b = 500 \text{ mm}$, $F = 2010 \text{ N}$

Calcolare sulla sezione C la massima tensione normale σ_m .

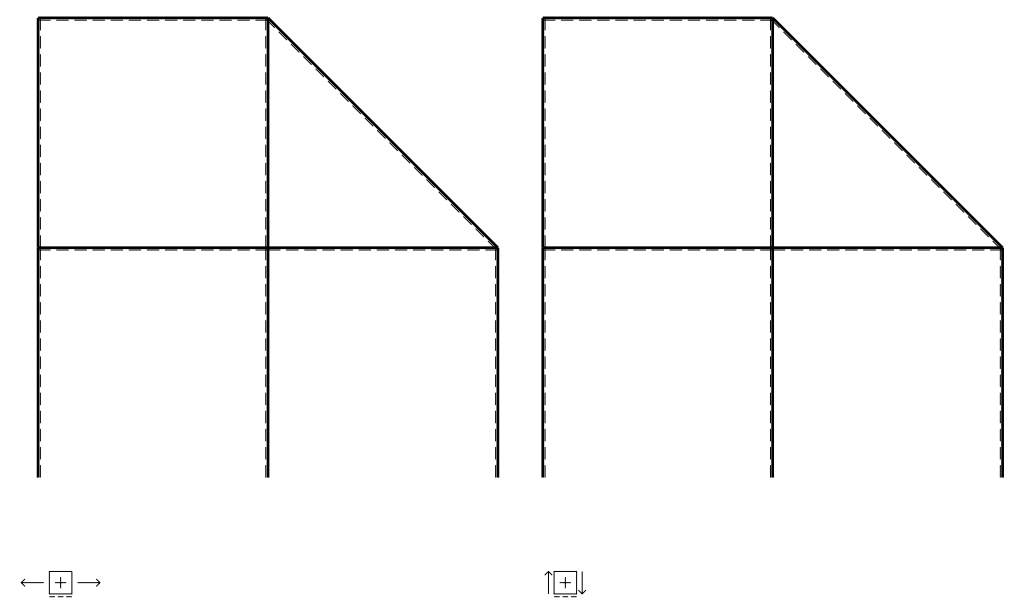
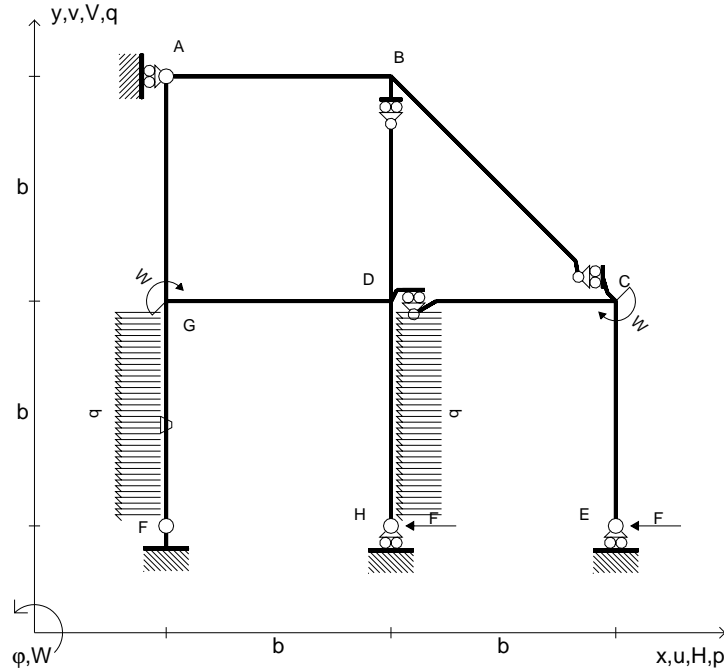
Calcolare in * le tensioni σ_c, τ_c e la tensione di von Mises.

Leombo inferiore sezione su tratteggio trave, a destra da D a C
 Curvatura θ asta FG positiva se convessa a destra con inizio F.

@ Adolfo Zavelani Rossi, Politecnico di Milano, vers.27.03.13



- $H_E = -F$
- $H_H = -F$
- $W_C = -W = -Fb$
- $W_G = -W = -Fb$
- $p_{FG} = -q = -F/b$
- $p_{DH} = -q = -F/b$
- $\theta_{FG} = -\theta = -\alpha T/b = -bF/EJ$
- $EJ_{AB} = EJ$
- $EJ_{BC} = EJ$
- $EJ_{BD} = EJ$
- $EJ_{DC} = EJ$
- $EJ_{CE} = EJ$
- $EJ_{FG} = EJ$
- $EJ_{GD} = EJ$
- $EJ_{DH} = EJ$
- $EJ_{GA} = EJ$



ANALISI STRUTTURALE CON PLV

RIPORTARE SUL FILE "ESAME" SOLO LE SEGUENTI RICHIESTE

Sul fronte:

- 1) Declassamento con indicazione dell'iperstatica scelta
- 2) Diagrammi finali delle azioni interne
- 3) Sforzi richiesti
(nota: profilo COMPATTO)

Sul retro:

- 4) Analisi cinematica
- 5) Diagrammi del momento M_0 e M^*
- 6) Espressione del PLV
- 7) Valore numerico dell'iperstatica

Carichi e deformazioni date hanno verso efficace in disegno.

Calcolare reazioni vincolari della struttura e delle aste.

Tracciare i diagrammi quotati delle azioni interne nelle aste.

$J_{YZ} - x_{YZ} - \theta_{YZ}$ riferimento locale asta YZ con origine in Y.

La trave DC ha la sezione riportata e dimensioni in mm, con:

$b = 550 \text{ mm}$, $F = 1580 \text{ N}$

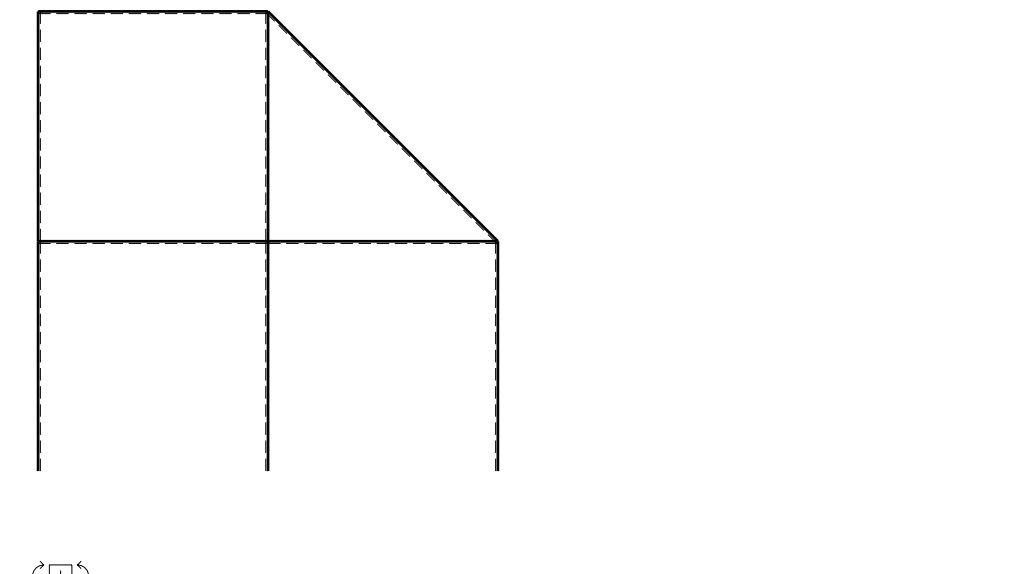
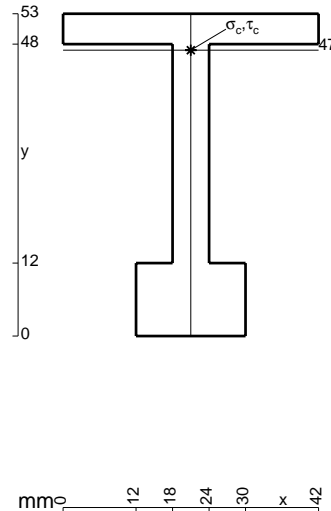
Calcolare sulla sezione C la massima tensione normale σ_m .

Calcolare in * le tensioni σ_c, τ_c e la tensione di von Mises.

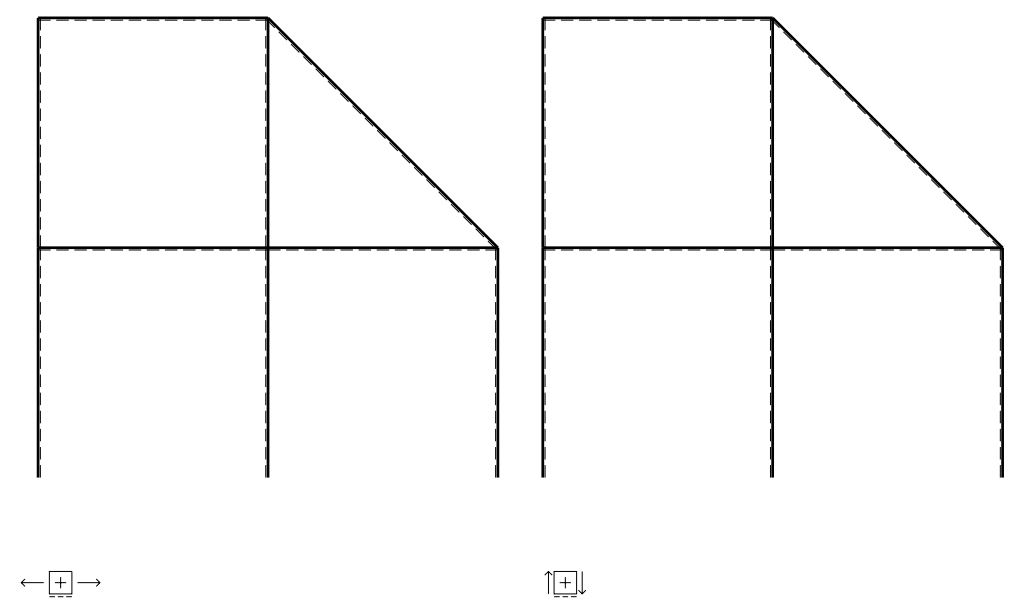
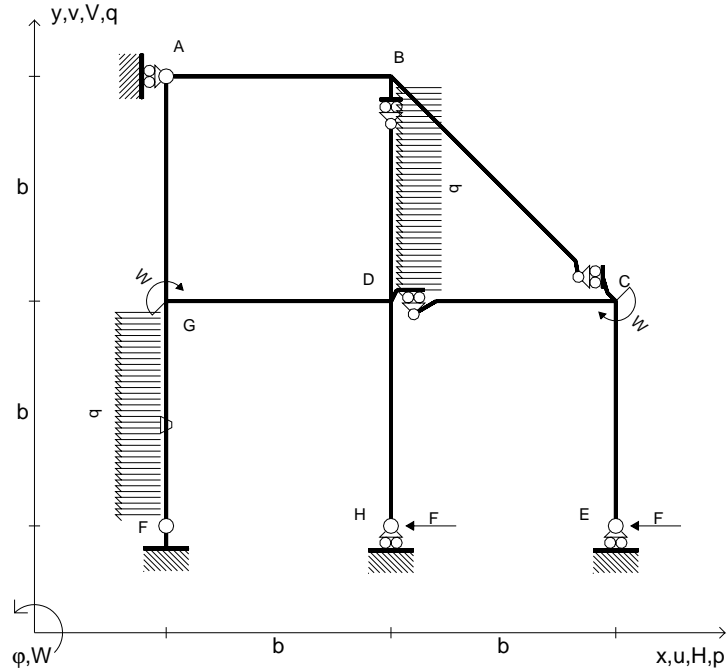
Leombo inferiore sezione su tratteggio trave, a destra da D a C

Curvatura θ asta FG positiva se convessa a destra con inizio F.

@ Adolfo Zavelani Rossi, Politecnico di Milano, vers.27.03.13



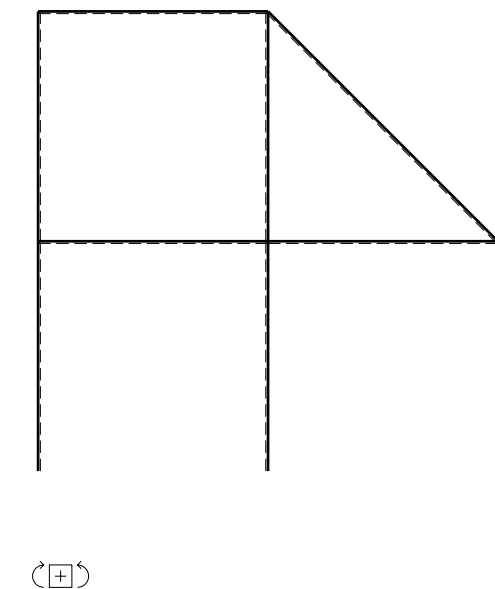
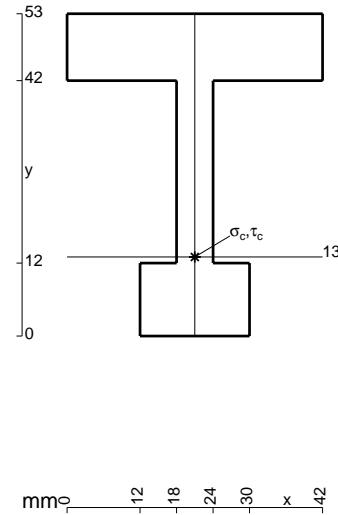
- $H_E = -F$
- $H_H = -F$
- $W_C = -W = -Fb$
- $W_G = -W = -Fb$
- $p_{FG} = -q = -F/b$
- $p_{BD} = -q = -F/b$
- $\theta_{FG} = -\theta = -\alpha T/b = -bF/EJ$
- $EJ_{AB} = EJ$
- $EJ_{BC} = EJ$
- $EJ_{BD} = EJ$
- $EJ_{DC} = EJ$
- $EJ_{CE} = EJ$
- $EJ_{FG} = EJ$
- $EJ_{GD} = EJ$
- $EJ_{DH} = EJ$
- $EJ_{GA} = EJ$



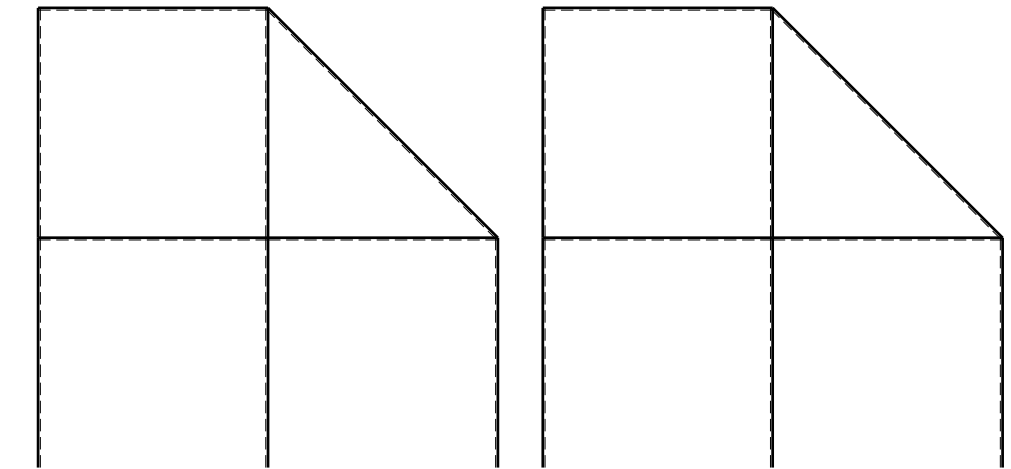
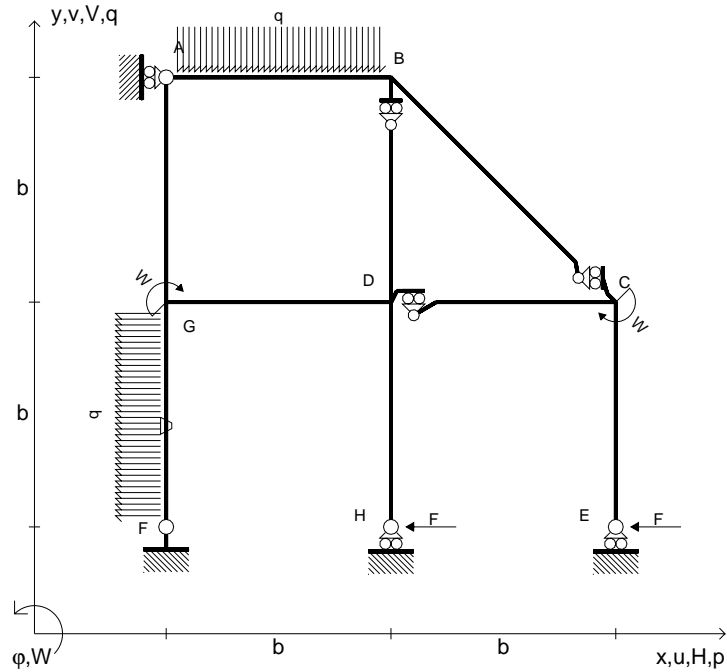
ANALISI STRUTTURALE CON PLV
 RIPORTARE SUL FILE "ESAME" SOLO LE SEGUENTI RICHIESTE

- Sul fronte:
- 1) Declassamento con indicazione dell'iperstatica scelta
 - 2) Diagrammi finali delle azioni interne
 - 3) Sforzi richiesti
(nota: profilo COMPATTO)
- Sul retro:
- 4) Analisi cinematica
 - 5) Diagrammi del momento M_0 e M^*
 - 6) Espressione del PLV
 - 7) Valore numerico dell'iperstatica

Carichi e deformazioni date hanno verso efficace in disegno.
 Calcolare reazioni vincolari della struttura e delle aste.
 Tracciare i diagrammi quotati delle azioni interne nelle aste.
 $J_{YZ} - x_{YZ} - \theta_{YZ}$ riferimento locale asta YZ con origine in Y.
 La trave DC ha la sezione riportata e dimensioni in mm, con:
 $b = 600 \text{ mm}$, $F = 1570 \text{ N}$
 Calcolare sulla sezione C la massima tensione normale σ_m .
 Calcolare in * le tensioni σ_c, τ_c e la tensione di von Mises.
 Lembo inferiore sezione su tratteggio trave, a destra da D a C
 Curvatura θ asta FG positiva se convessa a destra con inizio F.
 @ Adolfo Zavelani Rossi, Politecnico di Milano, vers.27.03.13



- $H_E = -F$
- $H_H = -F$
- $W_C = -W = -Fb$
- $W_G = -W = -Fb$
- $p_{FG} = -q = -F/b$
- $q_{AB} = -q = -F/b$
- $\theta_{FG} = -\theta = -\alpha T/b = -bF/EJ$
- $EJ_{AB} = EJ$
- $EJ_{BC} = EJ$
- $EJ_{BD} = EJ$
- $EJ_{DC} = EJ$
- $EJ_{CE} = EJ$
- $EJ_{FG} = EJ$
- $EJ_{GD} = EJ$
- $EJ_{DH} = EJ$
- $EJ_{GA} = EJ$



← ⊕ →

↑ ⊕ ↓

ANALISI STRUTTURALE CON PLV

RIPORTARE SUL FILE "ESAME" SOLO LE SEGUENTI RICHIESTE

Sul fronte:

- 1) Declassamento con indicazione dell'iperstatica scelta
- 2) Diagrammi finali delle azioni interne
- 3) Sforzi richiesti
(nota: profilo COMPATTO)

Sul retro:

- 4) Analisi cinematica
- 5) Diagrammi del momento M_0 e M^*
- 6) Espressione del PLV
- 7) Valore numerico dell'iperstatica

Carichi e deformazioni date hanno verso efficace in disegno.

Calcolare reazioni vincolari della struttura e delle aste.

Tracciare i diagrammi quotati delle azioni interne nelle aste.

$J_{YZ} - x_{YZ} - \theta_{YZ}$ riferimento locale asta YZ con origine in Y.

La trave DC ha la sezione riportata e dimensioni in mm, con:

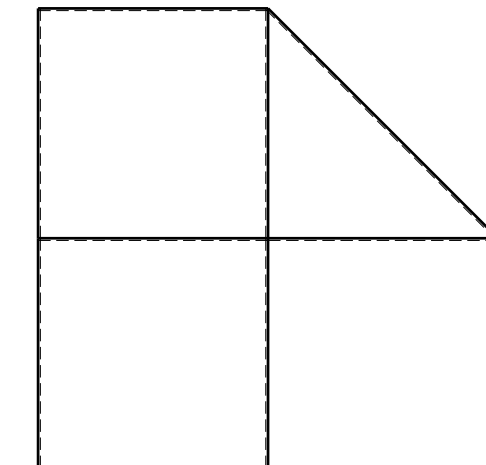
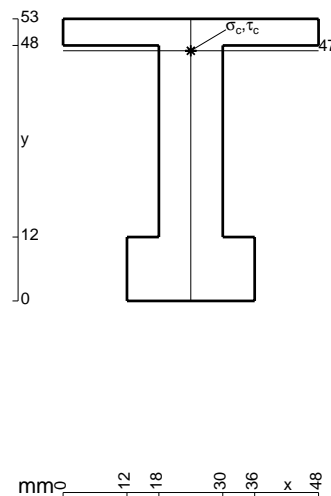
$b = 650 \text{ mm}$, $F = 1980 \text{ N}$

Calcolare sulla sezione C la massima tensione normale σ_m .

Calcolare in * le tensioni σ_c, τ_c e la tensione di von Mises.

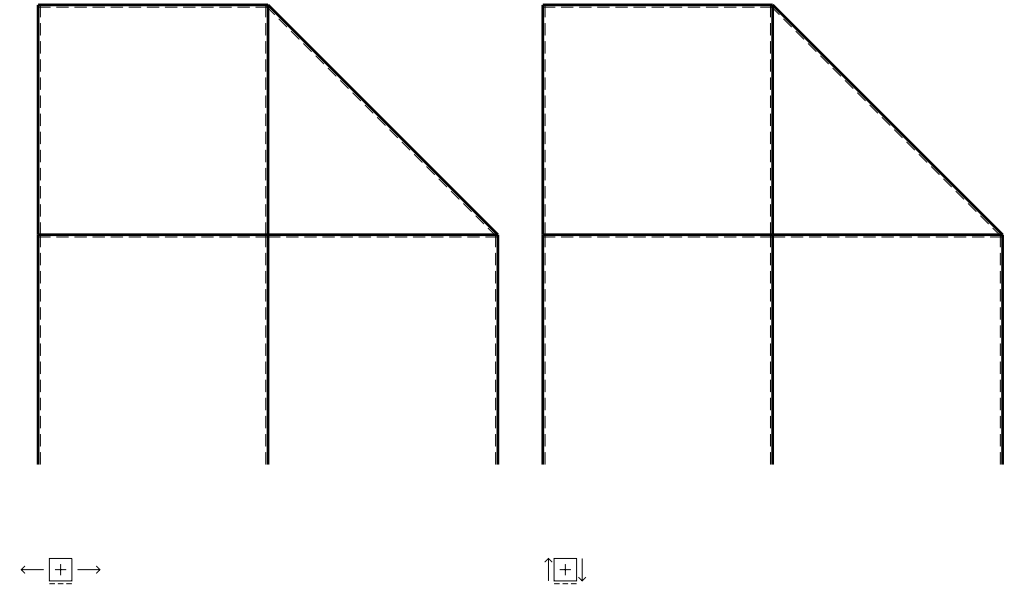
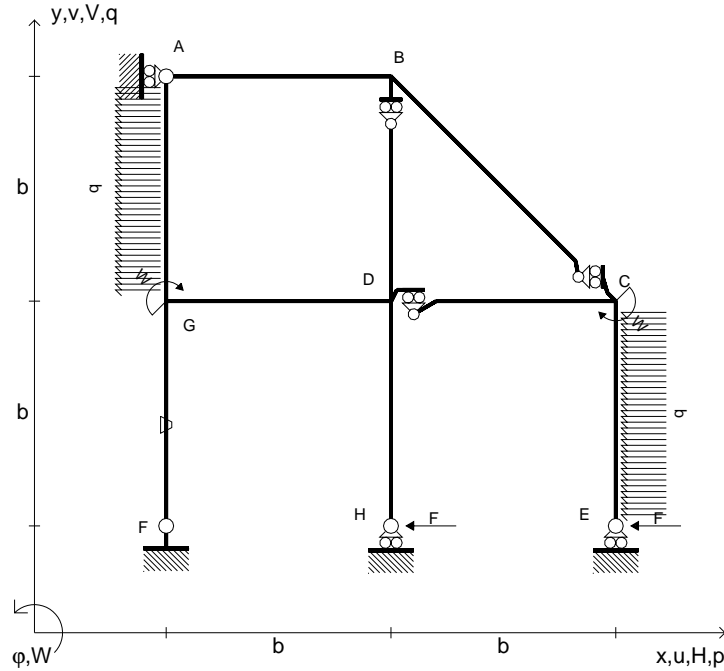
Le mbo inferiore sezione su tratteggio trave, a destra da D a C
Curvatura θ asta FG positiva se convessa a destra con inizio F.

@ Adolfo Zavelani Rossi, Politecnico di Milano, vers.27.03.13



⊕ ↻

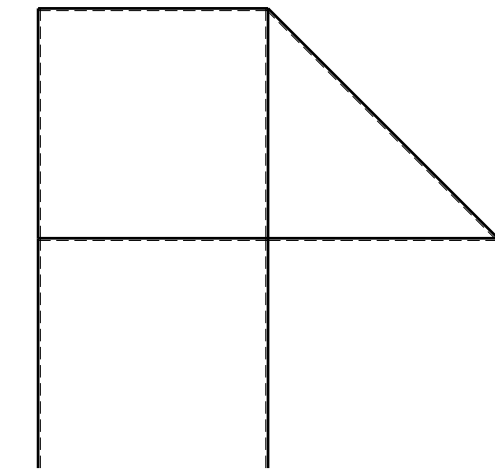
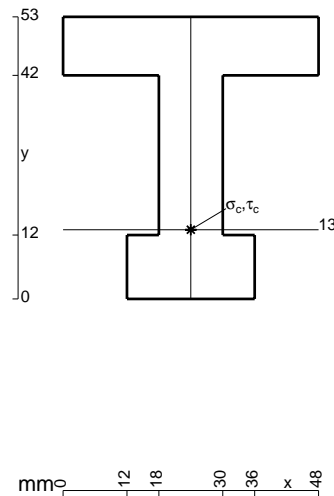
- $H_E = -F$
- $H_H = -F$
- $W_C = -W = -Fb$
- $W_G = -W = -Fb$
- $p_{CE} = -q = -F/b$
- $p_{GA} = -q = -F/b$
- $\theta_{FG} = -\theta = -\alpha T/b = -bF/EJ$
- $EJ_{AB} = EJ$
- $EJ_{BC} = EJ$
- $EJ_{BD} = EJ$
- $EJ_{DC} = EJ$
- $EJ_{CE} = EJ$
- $EJ_{FG} = EJ$
- $EJ_{GD} = EJ$
- $EJ_{DH} = EJ$
- $EJ_{GA} = EJ$



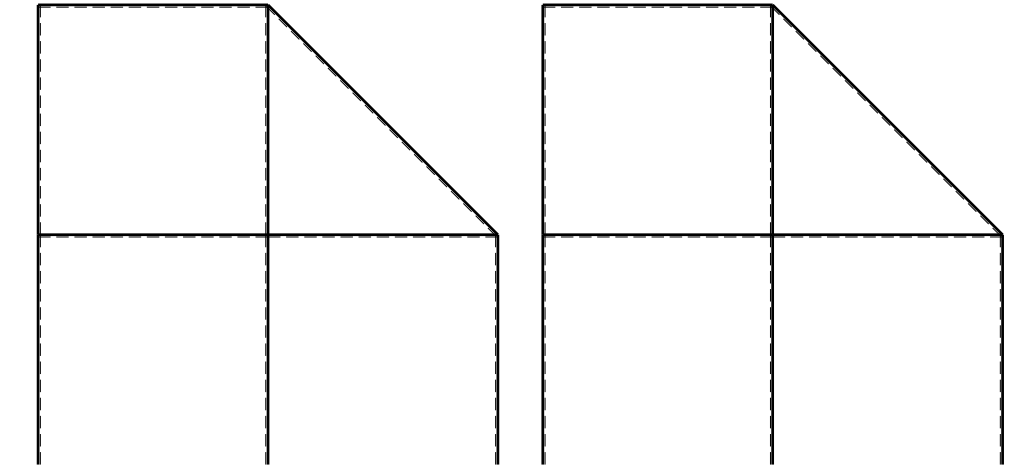
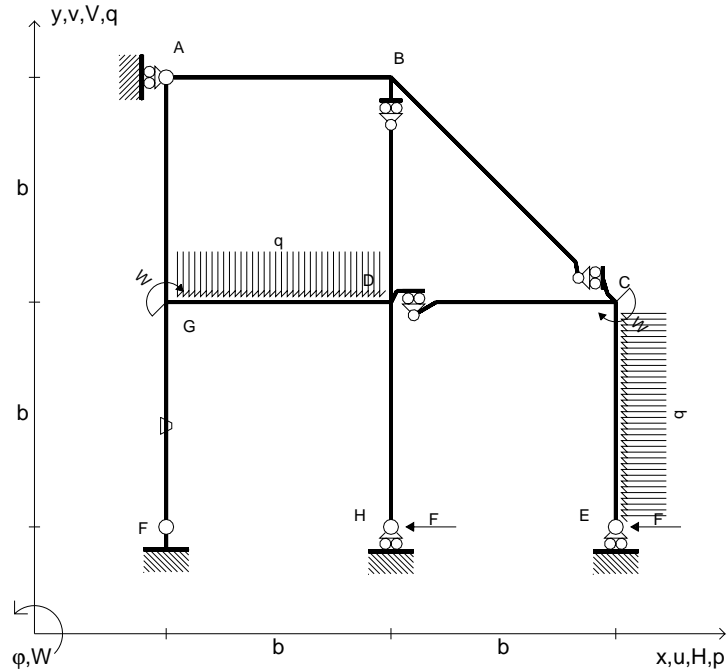
ANALISI STRUTTURALE CON PLV
 RIPORTARE SUL FILE "ESAME" SOLO LE SEGUENTI RICHIESTE

- Sul fronte:
- 1) Declassamento con indicazione dell'iperstatica scelta
 - 2) Diagrammi finali delle azioni interne
 - 3) Sforzi richiesti (nota: profilo COMPATTO)
- Sul retro:
- 4) Analisi cinematica
 - 5) Diagrammi del momento M_0 e M^*
 - 6) Espressione del PLV
 - 7) Valore numerico dell'iperstatica

Carichi e deformazioni date hanno verso efficace in disegno.
 Calcolare reazioni vincolari della struttura e delle aste.
 Tracciare i diagrammi quotati delle azioni interne nelle aste.
 $J_{YZ} - x_{YZ} - \theta_{YZ}$ riferimento locale asta YZ con origine in Y.
 La trave DC ha la sezione riportata e dimensioni in mm, con:
 $b = 700 \text{ mm}$, $F = 1610 \text{ N}$
 Calcolare sulla sezione C la massima tensione normale σ_m .
 Calcolare in * le tensioni σ_c, τ_c e la tensione di von Mises.
 Lembo inferiore sezione su tratteggio trave, a destra da D a C
 Curvatura θ asta FG positiva se convessa a destra con inizio F.
 © Adolfo Zavelani Rossi, Politecnico di Milano, vers.27.03.13



- $H_E = -F$
- $H_H = -F$
- $W_C = -W = -Fb$
- $W_G = -W = -Fb$
- $p_{CE} = -q = -F/b$
- $q_{GD} = -q = -F/b$
- $\theta_{FG} = -\theta = -\alpha T/b = -bF/EJ$
- $EJ_{AB} = EJ$
- $EJ_{BC} = EJ$
- $EJ_{BD} = EJ$
- $EJ_{DC} = EJ$
- $EJ_{CE} = EJ$
- $EJ_{FG} = EJ$
- $EJ_{GD} = EJ$
- $EJ_{DH} = EJ$
- $EJ_{GA} = EJ$



ANALISI STRUTTURALE CON PLV

RIPORTARE SUL FILE "ESAME" SOLO LE SEGUENTI RICHIESTE

Sul fronte:

- 1) Declassamento con indicazione dell'iperstatica scelta
- 2) Diagrammi finali delle azioni interne
- 3) Sforzi richiesti
(nota: profilo COMPATTO)

Sul retro:

- 4) Analisi cinematica
- 5) Diagrammi del momento M_0 e M^*
- 6) Espressione del PLV
- 7) Valore numerico dell'iperstatica

Carichi e deformazioni date hanno verso efficace in disegno.

Calcolare reazioni vincolari della struttura e delle aste.

Tracciare i diagrammi quotati delle azioni interne nelle aste.

$J_{YZ} - x_{YZ} - \theta_{YZ}$ riferimento locale asta YZ con origine in Y.

La trave DC ha la sezione riportata e dimensioni in mm, con:

$b = 750 \text{ mm}$, $F = 1230 \text{ N}$

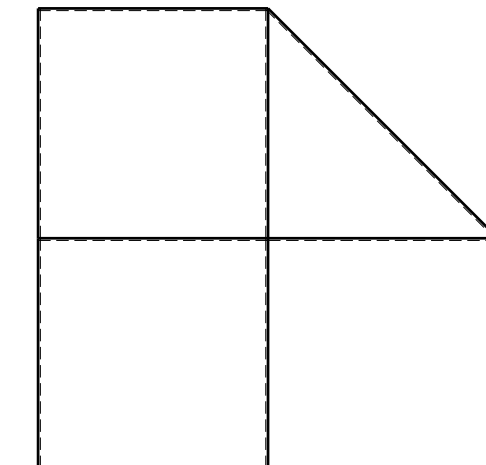

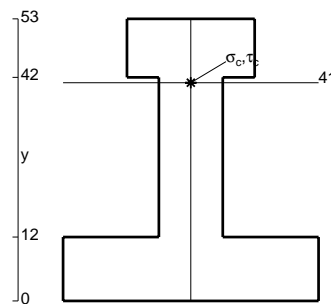
Calcolare sulla sezione C la massima tensione normale σ_m .

Calcolare in * le tensioni σ_c, τ_c e la tensione di von Mises.

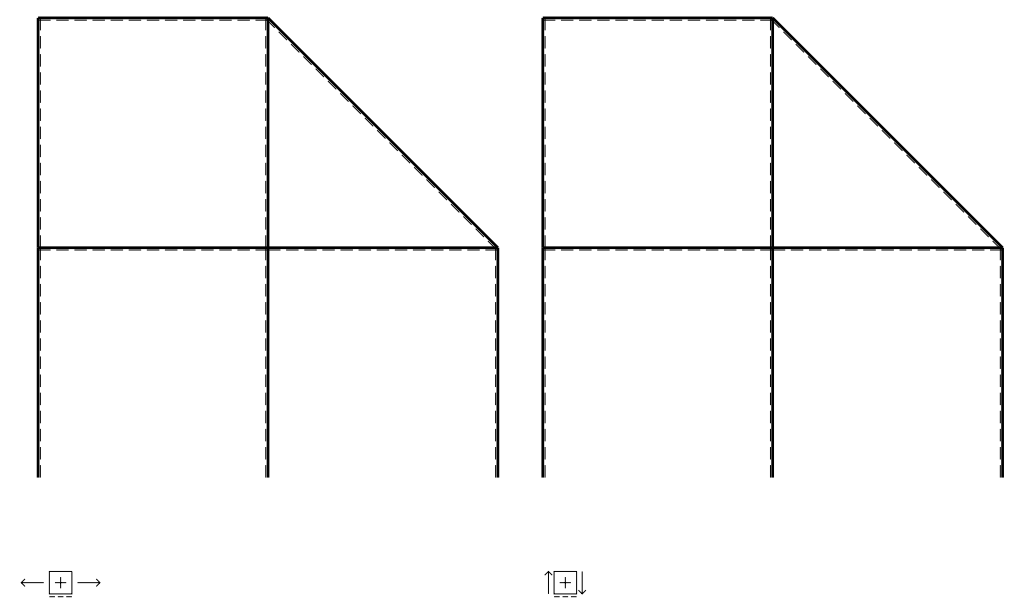
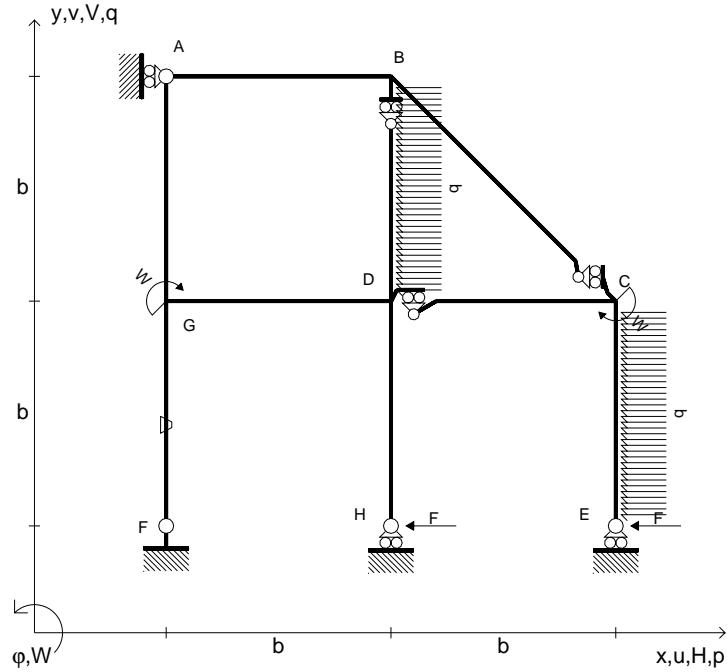
Le mbo inferiore sezione su tratteggio trave, a destra da D a C

Curvatura θ asta FG positiva se convessa a destra con inizio F.

@ Adolfo Zavelani Rossi, Politecnico di Milano, vers.27.03.13



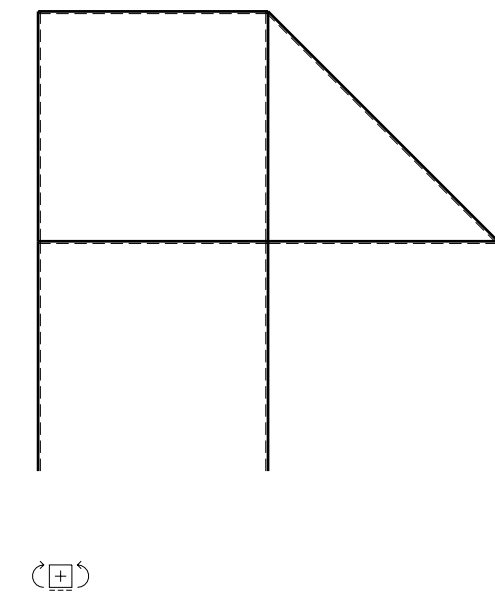
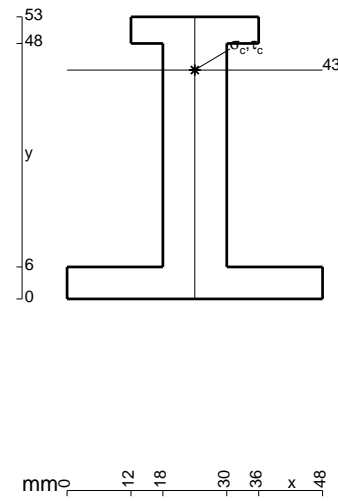
- $H_E = -F$
- $H_H = -F$
- $W_C = -W = -Fb$
- $W_G = -W = -Fb$
- $p_{CE} = -q = -F/b$
- $p_{BD} = -q = -F/b$
- $\theta_{FG} = -\theta = -\alpha T/b = -bF/EJ$
- $EJ_{AB} = EJ$
- $EJ_{BC} = EJ$
- $EJ_{BD} = EJ$
- $EJ_{DC} = EJ$
- $EJ_{CE} = EJ$
- $EJ_{FG} = EJ$
- $EJ_{GD} = EJ$
- $EJ_{DH} = EJ$
- $EJ_{GA} = EJ$



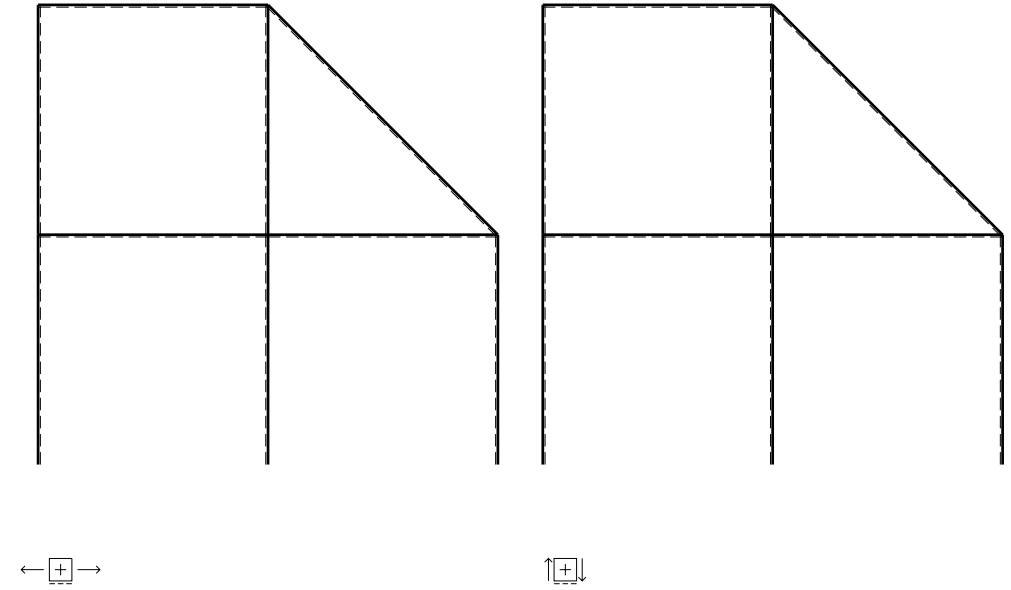
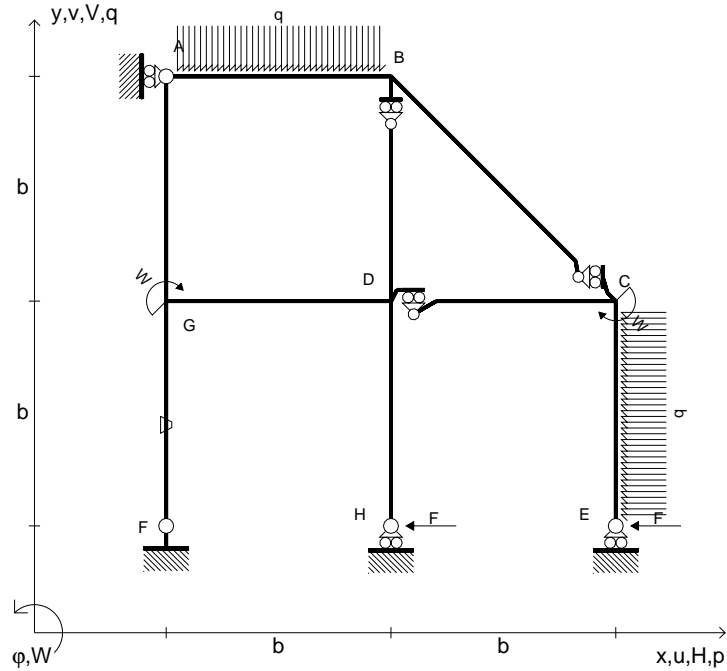
ANALISI STRUTTURALE CON PLV
 RIPORTARE SUL FILE "ESAME" SOLO LE SEGUENTI RICHIESTE

- Sul fronte:
- 1) Declassamento con indicazione dell'iperstatica scelta
 - 2) Diagrammi finali delle azioni interne
 - 3) Sforzi richiesti
(nota: profilo COMPATTO)
- Sul retro:
- 4) Analisi cinematica
 - 5) Diagrammi del momento M_0 e M^*
 - 6) Espressione del PLV
 - 7) Valore numerico dell'iperstatica

Carichi e deformazioni date hanno verso efficace in disegno.
 Calcolare reazioni vincolari della struttura e delle aste.
 Tracciare i diagrammi quotati delle azioni interne nelle aste.
 $J_{YZ} - x_{YZ} - \theta_{YZ}$ riferimento locale asta YZ con origine in Y.
 La trave DC ha la sezione riportata e dimensioni in mm, con:
 $b = 850 \text{ mm}$, $F = 980 \text{ N}$
 Calcolare sulla sezione C la massima tensione normale σ_m .
 Calcolare in * le tensioni σ_c, τ_c e la tensione di von Mises.
 Lembo inferiore sezione su tratteggio trave, a destra da D a C
 Curvatura θ asta FG positiva se convessa a destra con inizio F.
 © Adolfo Zavelani Rossi, Politecnico di Milano, vers.27.03.13



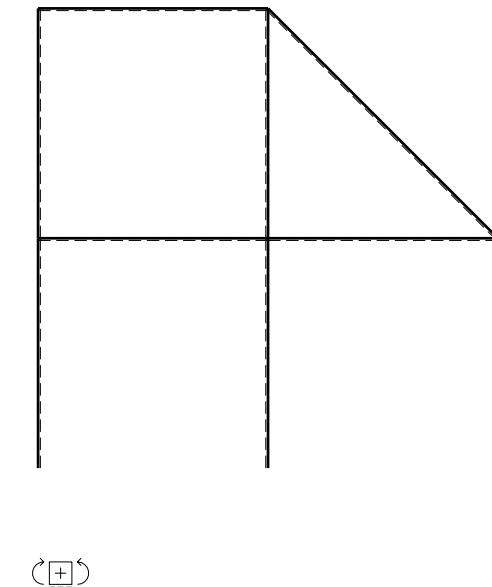
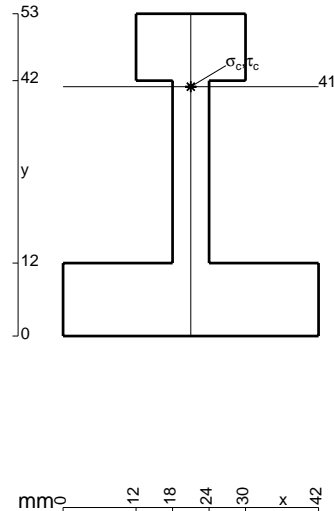
- $H_E = -F$
- $H_H = -F$
- $W_C = -W = -Fb$
- $W_G = -W = -Fb$
- $p_{CE} = -q = -F/b$
- $q_{AB} = -q = -F/b$
- $\theta_{FG} = -\theta = -\alpha T/b = -bF/EJ$
- $EJ_{AB} = EJ$
- $EJ_{BC} = EJ$
- $EJ_{BD} = EJ$
- $EJ_{DC} = EJ$
- $EJ_{CE} = EJ$
- $EJ_{FG} = EJ$
- $EJ_{GD} = EJ$
- $EJ_{DH} = EJ$
- $EJ_{GA} = EJ$



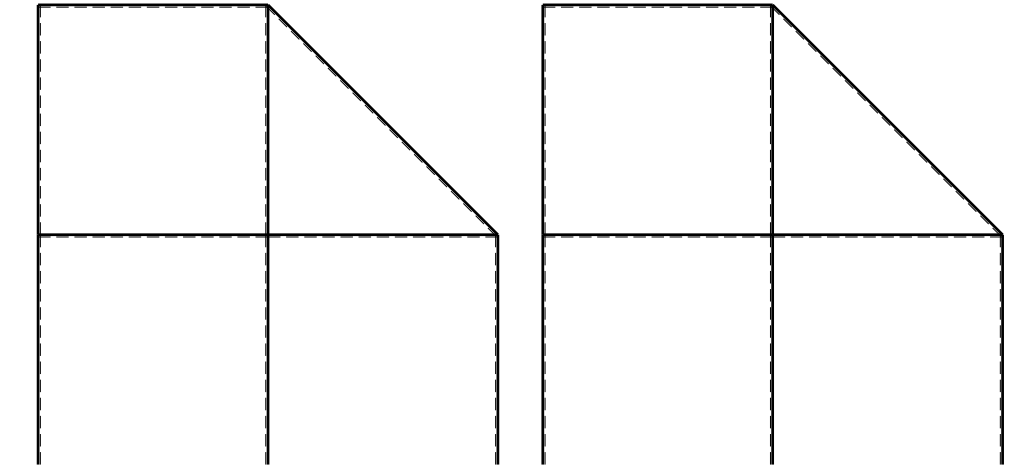
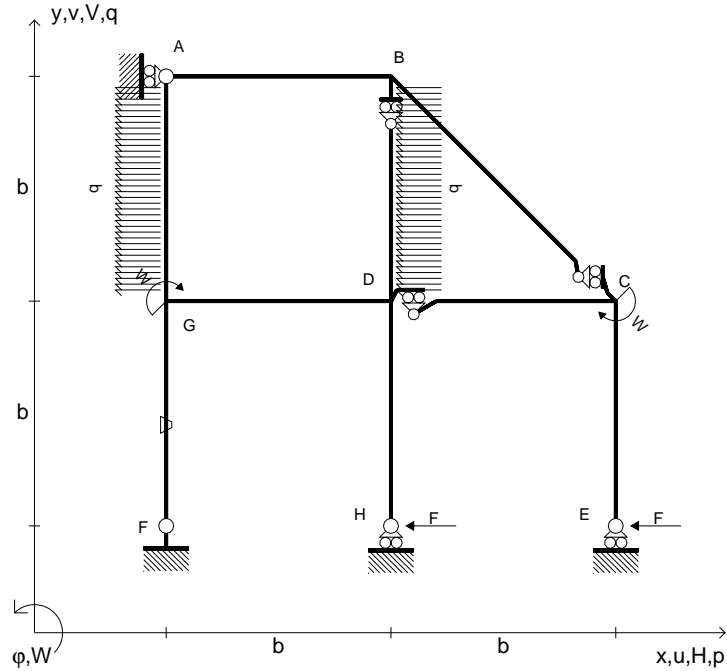
ANALISI STRUTTURALE CON PLV
 RIPORTARE SUL FILE "ESAME" SOLO LE SEGUENTI RICHIESTE

- Sul fronte:
- 1) Declassamento con indicazione dell'iperstatica scelta
 - 2) Diagrammi finali delle azioni interne
 - 3) Sforzi richiesti
 (nota: profilo COMPATTO)
- Sul retro:
- 4) Analisi cinematica
 - 5) Diagrammi del momento M_0 e M^*
 - 6) Espressione del PLV
 - 7) Valore numerico dell'iperstatica

Carichi e deformazioni date hanno verso efficace in disegno.
 Calcolare reazioni vincolari della struttura e delle aste.
 Tracciare i diagrammi quotati delle azioni interne nelle aste.
 $J_{YZ} - x_{YZ} - \theta_{YZ}$ riferimento locale asta YZ con origine in Y.
 La trave DC ha la sezione riportata e dimensioni in mm, con:
 $b = 900 \text{ mm}$, $F = 850 \text{ N}$
 Calcolare sulla sezione C la massima tensione normale σ_m .
 Calcolare in * le tensioni σ_c, τ_c e la tensione di von Mises.
 Lembo inferiore sezione su tratteggio trave, a destra da D a C
 Curvatura θ asta FG positiva se convessa a destra con inizio F.
 © Adolfo Zavelani Rossi, Politecnico di Milano, vers.27.03.13



- $H_E = -F$
- $H_H = -F$
- $W_C = -W = -Fb$
- $W_G = -W = -Fb$
- $p_{BD} = -q = -F/b$
- $p_{GA} = -q = -F/b$
- $\theta_{FG} = -\theta = -\alpha T/b = -bF/EJ$
- $EJ_{AB} = EJ$
- $EJ_{BC} = EJ$
- $EJ_{BD} = EJ$
- $EJ_{DC} = EJ$
- $EJ_{CE} = EJ$
- $EJ_{FG} = EJ$
- $EJ_{GD} = EJ$
- $EJ_{DH} = EJ$
- $EJ_{GA} = EJ$



← ⊕ →

↑ ⊕ ↓

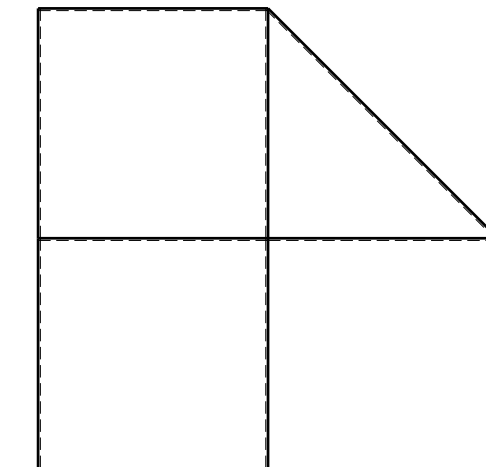
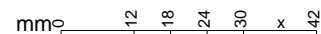
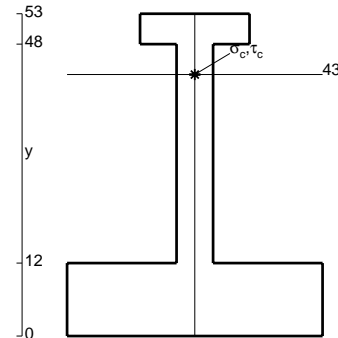
ANALISI STRUTTURALE CON PLV
 RIPORTARE SUL FILE "ESAME" SOLO LE SEGUENTI RICHIESTE

- Sul fronte:
- 1) Declassamento con indicazione dell'iperstatica scelta
 - 2) Diagrammi finali delle azioni interne
 - 3) Sforzi richiesti (nota: profilo COMPATTO)

- Sul retro:
- 4) Analisi cinematica
 - 5) Diagrammi del momento M_0 e M^*
 - 6) Espressione del PLV
 - 7) Valore numerico dell'iperstatica

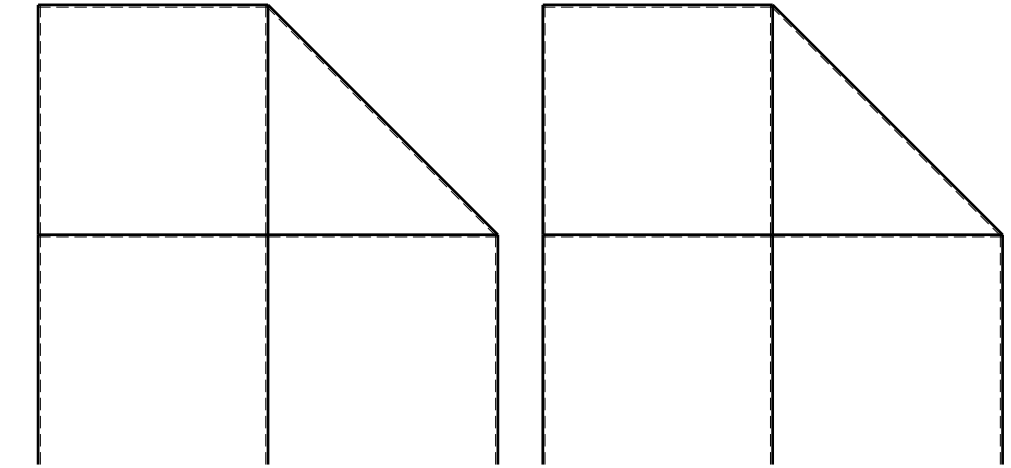
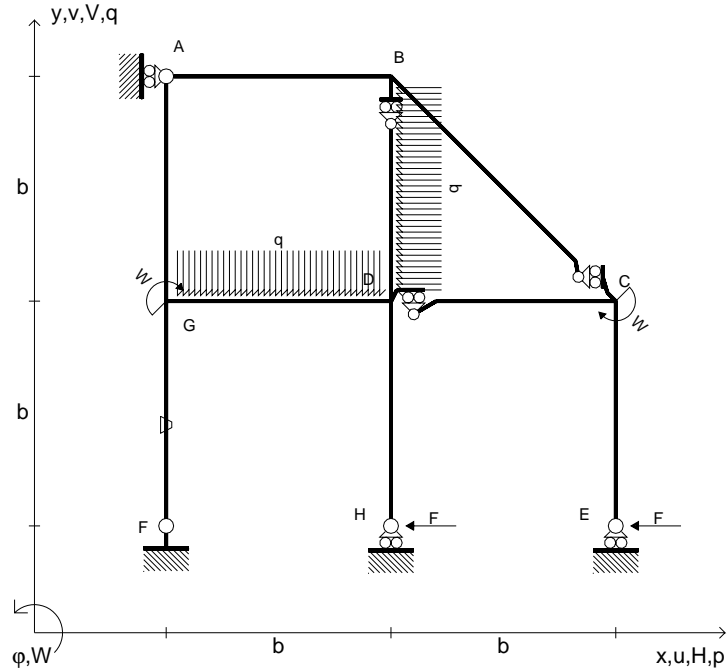
Carichi e deformazioni date hanno verso efficace in disegno.
 Calcolare reazioni vincolari della struttura e delle aste.
 Tracciare i diagrammi quotati delle azioni interne nelle aste.
 $J_{YZ} - x_{YZ} - \theta_{YZ}$ riferimento locale asta YZ con origine in Y.
 La trave DC ha la sezione riportata e dimensioni in mm, con:
 $b = 950 \text{ mm}$, $F = 800 \text{ N}$

Calcolare sulla sezione C la massima tensione normale σ_m .
 Calcolare in * le tensioni σ_c, τ_c e la tensione di von Mises.
 Lembo inferiore sezione su tratteggio trave, a destra da D a C
 Curvatura θ asta FG positiva se convessa a destra con inizio F.
 © Adolfo Zavelani Rossi, Politecnico di Milano, vers.27.03.13



⊕

- $H_E = -F$
- $H_H = -F$
- $W_C = -W = -Fb$
- $W_G = -W = -Fb$
- $p_{BD} = -q = -F/b$
- $q_{GD} = -q = -F/b$
- $\theta_{FG} = -\theta = -\alpha T/b = -bF/EJ$
- $EJ_{AB} = EJ$
- $EJ_{BC} = EJ$
- $EJ_{BD} = EJ$
- $EJ_{DC} = EJ$
- $EJ_{CE} = EJ$
- $EJ_{FG} = EJ$
- $EJ_{GD} = EJ$
- $EJ_{DH} = EJ$
- $EJ_{GA} = EJ$



← ⊕ →

↑ ⊕ ↓

ANALISI STRUTTURALE CON PLV

RIPORTARE SUL FILE "ESAME" SOLO LE SEGUENTI RICHIESTE

Sul fronte:

- 1) Declassamento con indicazione dell'iperstatica scelta
- 2) Diagrammi finali delle azioni interne
- 3) Sforzi richiesti (nota: profilo COMPATTO)

Sul retro:

- 4) Analisi cinematica
- 5) Diagrammi del momento M_0 e M^*
- 6) Espressione del PLV
- 7) Valore numerico dell'iperstatica

Carichi e deformazioni date hanno verso efficace in disegno.

Calcolare reazioni vincolari della struttura e delle aste.

Tracciare i diagrammi quotati delle azioni interne nelle aste.

$J_{YZ} - x_{YZ} - \theta_{YZ}$ riferimento locale asta YZ con origine in Y.

La trave DC ha la sezione riportata e dimensioni in mm, con:

$b = 500 \text{ mm}$, $F = 2230 \text{ N}$

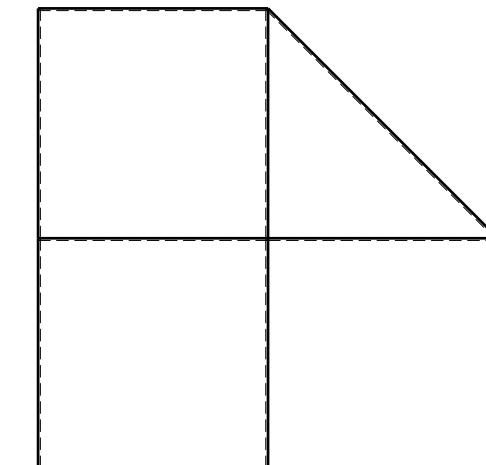
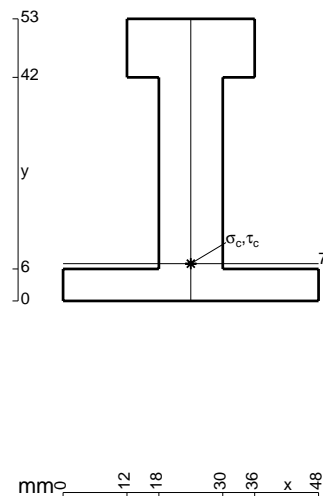
Calcolare sulla sezione C la massima tensione normale σ_m .

Calcolare in * le tensioni σ_c, τ_c e la tensione di von Mises.

Leombo inferiore sezione su tratteggio trave, a destra da D a C

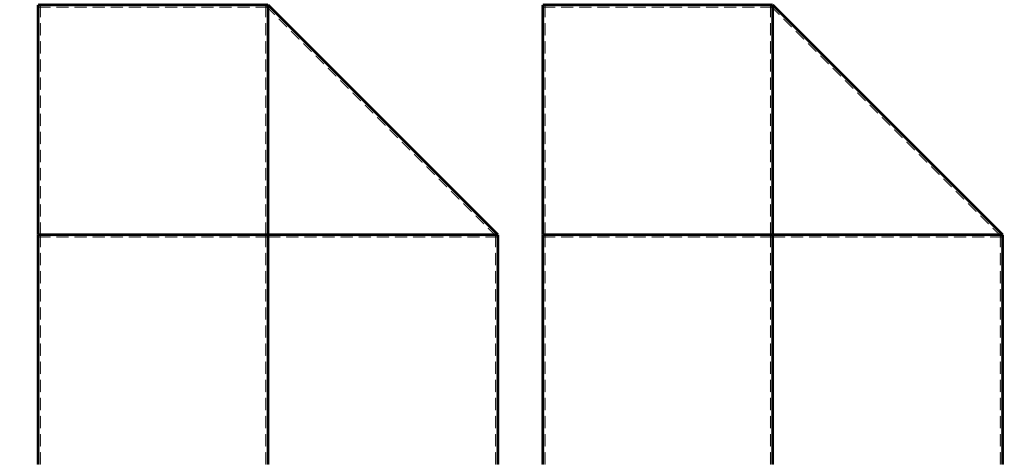
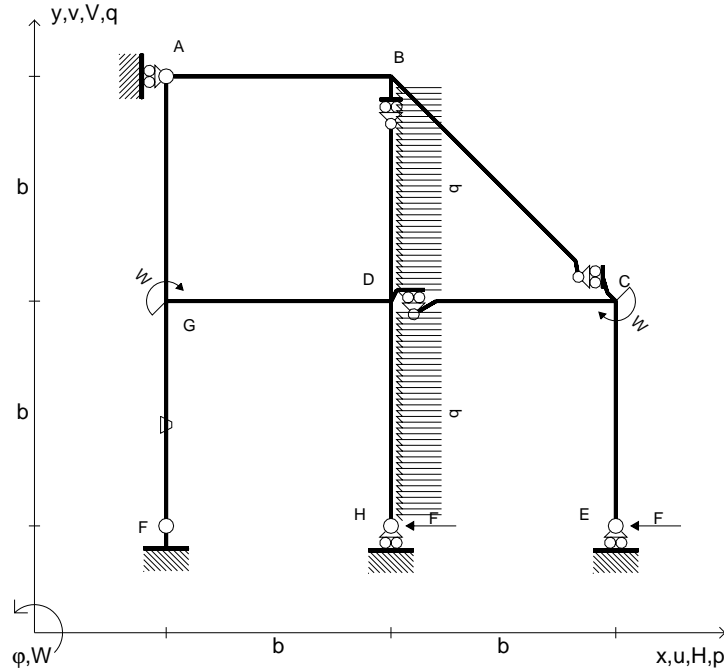
Curvatura θ asta FG positiva se convessa a destra con inizio F.

@ Adolfo Zavelani Rossi, Politecnico di Milano, vers.27.03.13



⊕ ↻

- $H_E = -F$
- $H_H = -F$
- $W_C = -W = -Fb$
- $W_G = -W = -Fb$
- $p_{BD} = -q = -F/b$
- $p_{DH} = -q = -F/b$
- $\theta_{FG} = -\theta = -\alpha T/b = -bF/EJ$
- $EJ_{AB} = EJ$
- $EJ_{BC} = EJ$
- $EJ_{BD} = EJ$
- $EJ_{DC} = EJ$
- $EJ_{CE} = EJ$
- $EJ_{FG} = EJ$
- $EJ_{GD} = EJ$
- $EJ_{DH} = EJ$
- $EJ_{GA} = EJ$



← ⊕ →

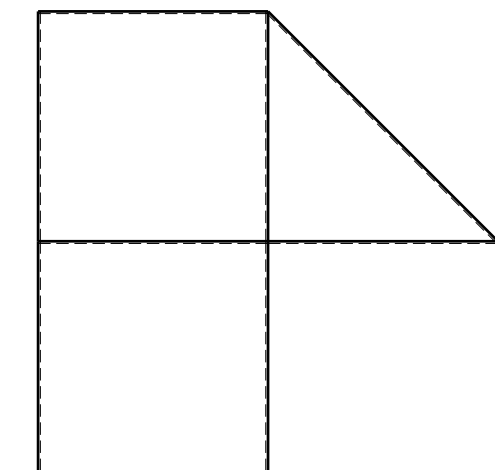
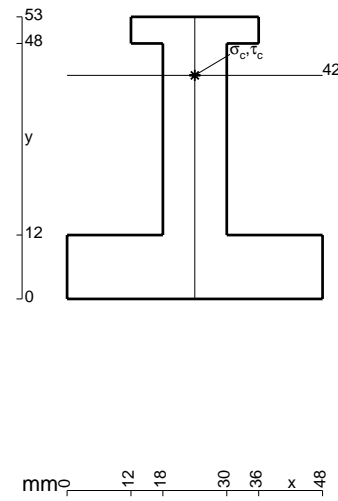
↑ ⊕ ↓

ANALISI STRUTTURALE CON PLV
 RIPORTARE SUL FILE "ESAME" SOLO LE SEGUENTI RICHIESTE

- Sul fronte:
- 1) Declassamento con indicazione dell'iperstatica scelta
 - 2) Diagrammi finali delle azioni interne
 - 3) Sforzi richiesti
 (nota: profilo COMPATTO)

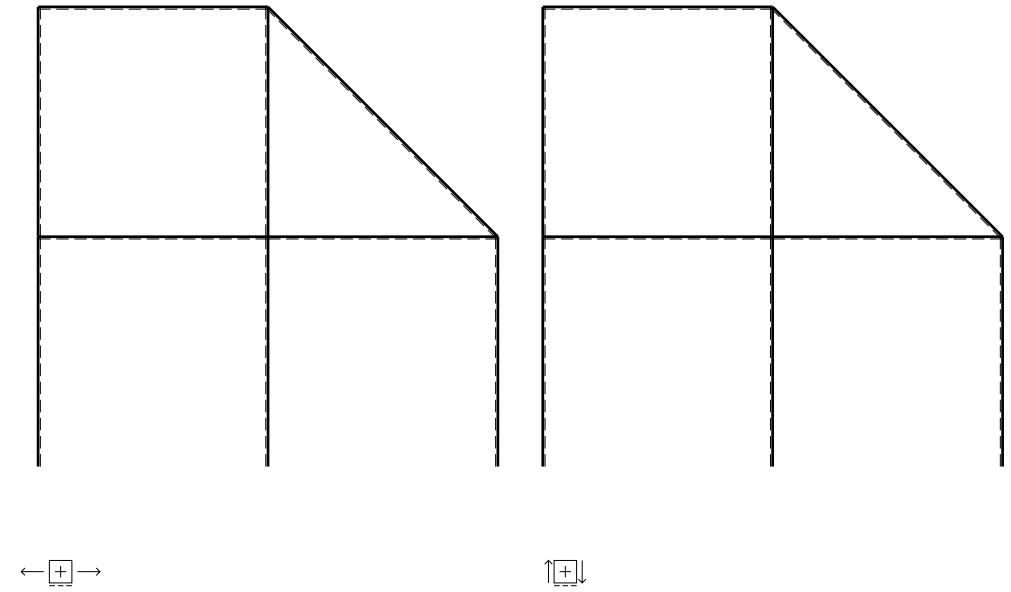
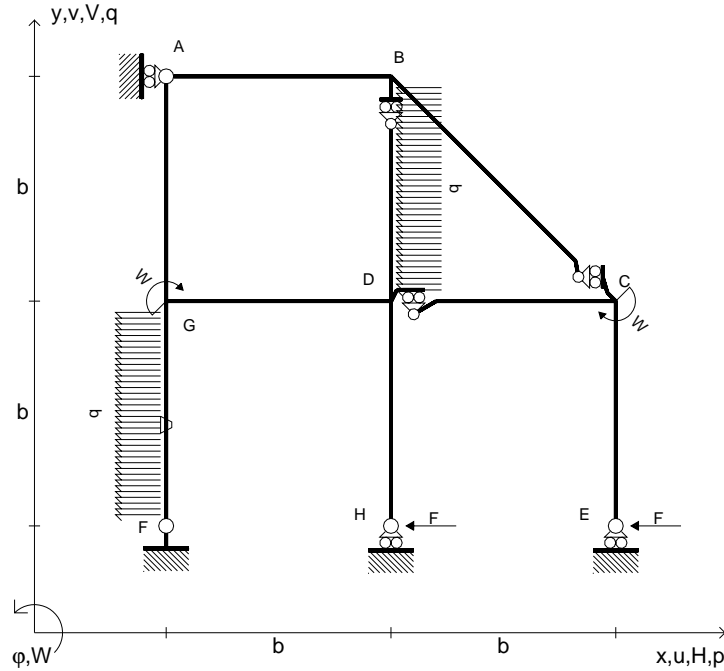
- Sul retro:
- 4) Analisi cinematica
 - 5) Diagrammi del momento M_0 e M^*
 - 6) Espressione del PLV
 - 7) Valore numerico dell'iperstatica

Carichi e deformazioni date hanno verso efficace in disegno.
 Calcolare reazioni vincolari della struttura e delle aste.
 Tracciare i diagrammi quotati delle azioni interne nelle aste.
 $J_{YZ} - x_{YZ} - \theta_{YZ}$ riferimento locale asta YZ con origine in Y.
 La trave DC ha la sezione riportata e dimensioni in mm, con:
 $b = 550 \text{ mm}$, $F = 1850 \text{ N}$
 Calcolare sulla sezione C la massima tensione normale σ_m .
 Calcolare in * le tensioni σ_c, τ_c e la tensione di von Mises.
 Lembo inferiore sezione su tratteggio trave, a destra da D a C
 Curvatura θ asta FG positiva se convessa a destra con inizio F.
 @ Adolfo Zavelani Rossi, Politecnico di Milano, vers.27.03.13



← ⊕ →

- $H_E = -F$
- $H_H = -F$
- $W_C = -W = -Fb$
- $W_G = -W = -Fb$
- $p_{BD} = -q = -F/b$
- $p_{FG} = -q = -F/b$
- $\theta_{FG} = -\theta = -\alpha T/b = -bF/EJ$
- $EJ_{AB} = EJ$
- $EJ_{BC} = EJ$
- $EJ_{BD} = EJ$
- $EJ_{DC} = EJ$
- $EJ_{CE} = EJ$
- $EJ_{FG} = EJ$
- $EJ_{GD} = EJ$
- $EJ_{DH} = EJ$
- $EJ_{GA} = EJ$



ANALISI STRUTTURALE CON PLV

RIPORTARE SUL FILE "ESAME" SOLO LE SEGUENTI RICHIESTE

Sul fronte:

- 1) Declassamento con indicazione dell'iperstatica scelta
- 2) Diagrammi finali delle azioni interne
- 3) Sforzi richiesti
(nota: profilo COMPATTO)

Sul retro:

- 4) Analisi cinematica
- 5) Diagrammi del momento M_0 e M^*
- 6) Espressione del PLV
- 7) Valore numerico dell'iperstatica

Carichi e deformazioni date hanno verso efficace in disegno.

Calcolare reazioni vincolari della struttura e delle aste.

Tracciare i diagrammi quotati delle azioni interne nelle aste.

$J_{YZ} - x_{YZ} - \theta_{YZ}$ riferimento locale asta YZ con origine in Y.

La trave DC ha la sezione riportata e dimensioni in mm, con:

$b = 600$ mm, $F = 1160$ N

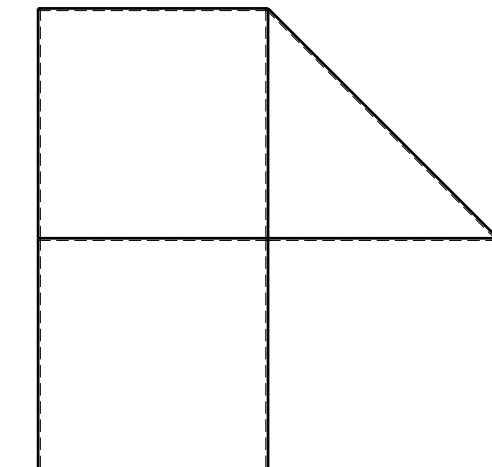
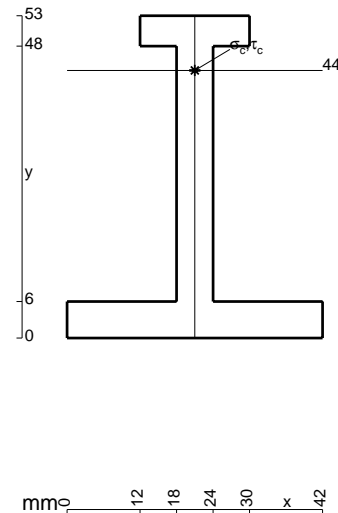
Calcolare sulla sezione C la massima tensione normale σ_m .

Calcolare in * le tensioni σ_c, τ_c e la tensione di von Mises.

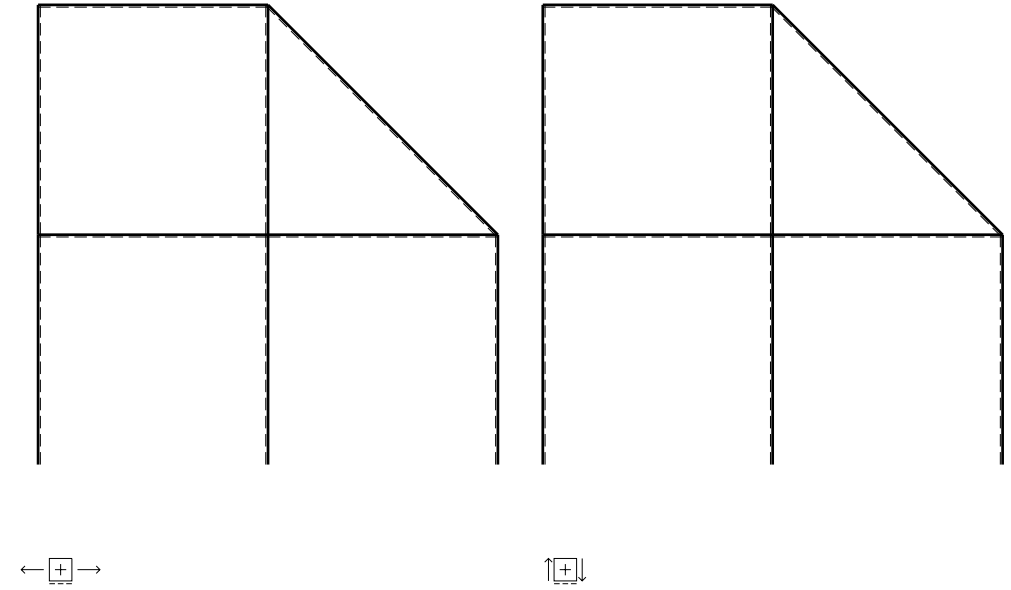
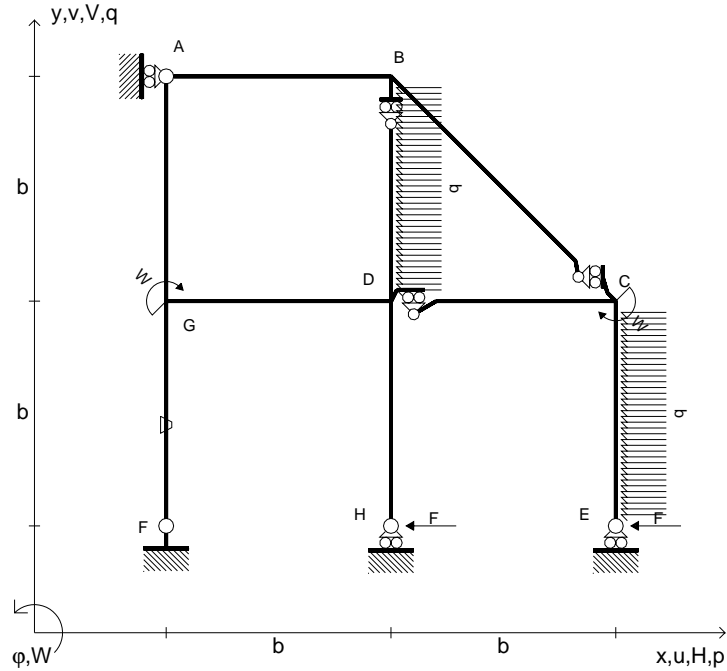
Leombo inferiore sezione su tratteggio trave, a destra da D a C

Curvatura θ asta FG positiva se convessa a destra con inizio F.

@ Adolfo Zavelani Rossi, Politecnico di Milano, vers.27.03.13



- $H_E = -F$
- $H_H = -F$
- $W_C = -W = -Fb$
- $W_G = -W = -Fb$
- $p_{BD} = -q = -F/b$
- $p_{CE} = -q = -F/b$
- $\theta_{FG} = -\theta = -\alpha T/b = -bF/EJ$
- $EJ_{AB} = EJ$
- $EJ_{BC} = EJ$
- $EJ_{BD} = EJ$
- $EJ_{DC} = EJ$
- $EJ_{CE} = EJ$
- $EJ_{FG} = EJ$
- $EJ_{GD} = EJ$
- $EJ_{DH} = EJ$
- $EJ_{GA} = EJ$



ANALISI STRUTTURALE CON PLV

RIPORTARE SUL FILE "ESAME" SOLO LE SEGUENTI RICHIESTE

Sul fronte:

- 1) Declassamento con indicazione dell'iperstatica scelta
- 2) Diagrammi finali delle azioni interne
- 3) Sforzi richiesti
(nota: profilo COMPATTO)

Sul retro:

- 4) Analisi cinematica
- 5) Diagrammi del momento M_0 e M^*
- 6) Espressione del PLV
- 7) Valore numerico dell'iperstatica

Carichi e deformazioni date hanno verso efficace in disegno.

Calcolare reazioni vincolari della struttura e delle aste.

Tracciare i diagrammi quotati delle azioni interne nelle aste.

$J_{YZ} - x_{YZ} - \theta_{YZ}$ riferimento locale asta YZ con origine in Y.

La trave DC ha la sezione riportata e dimensioni in mm, con:

$b = 670 \text{ mm}$, $F = 980 \text{ N}$

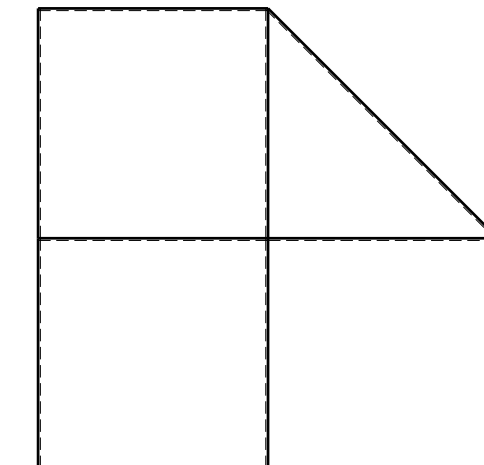
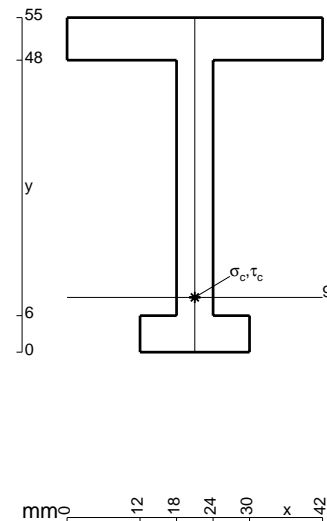
Calcolare sulla sezione C la massima tensione normale σ_m .

Calcolare in * le tensioni σ_c, τ_c e la tensione di von Mises.

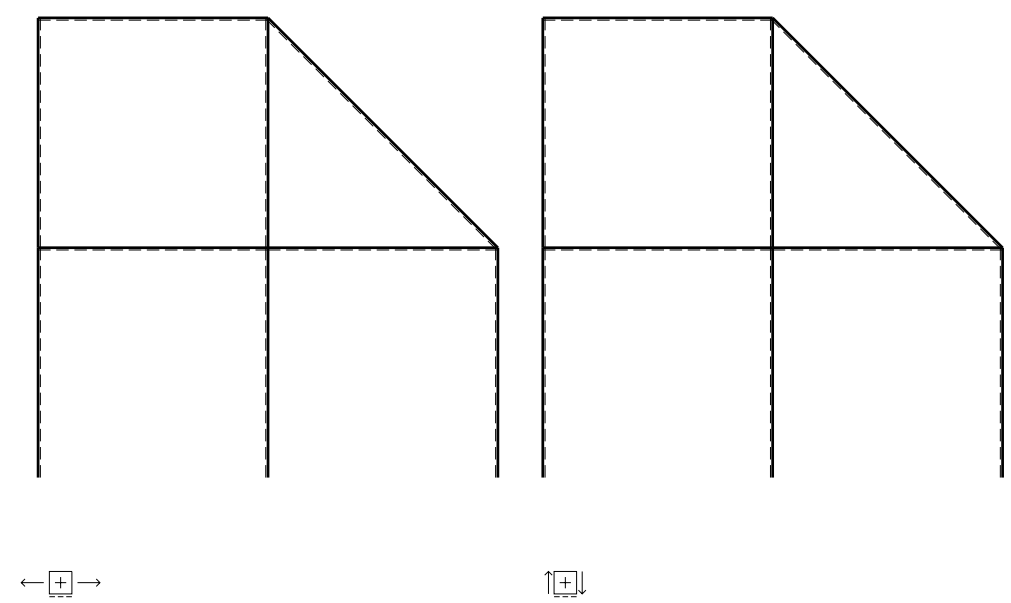
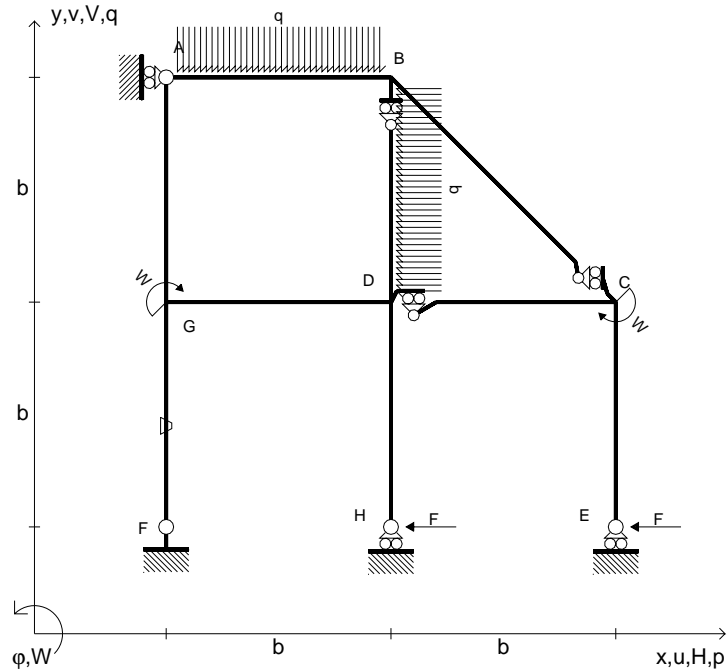
Leombo inferiore sezione su tratteggio trave, a destra da D a C

Curvatura θ asta FG positiva se convessa a destra con inizio F.

@ Adolfo Zavelani Rossi, Politecnico di Milano, vers.27.03.13



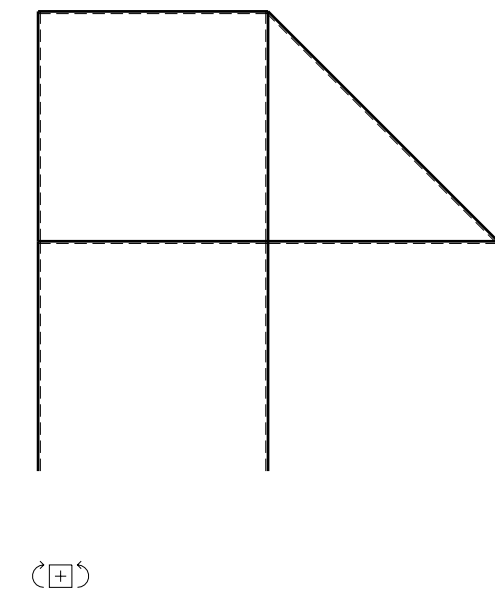
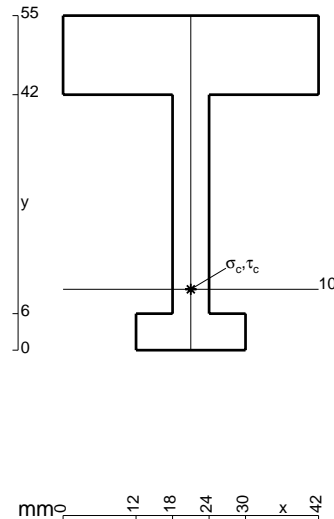
- $H_E = -F$
- $H_H = -F$
- $W_C = -W = -Fb$
- $W_G = -W = -Fb$
- $p_{BD} = -q = -F/b$
- $q_{AB} = -q = -F/b$
- $\theta_{FG} = -\theta = -\alpha T/b = -bF/EJ$
- $EJ_{AB} = EJ$
- $EJ_{BC} = EJ$
- $EJ_{BD} = EJ$
- $EJ_{DC} = EJ$
- $EJ_{CE} = EJ$
- $EJ_{FG} = EJ$
- $EJ_{GD} = EJ$
- $EJ_{DH} = EJ$
- $EJ_{GA} = EJ$



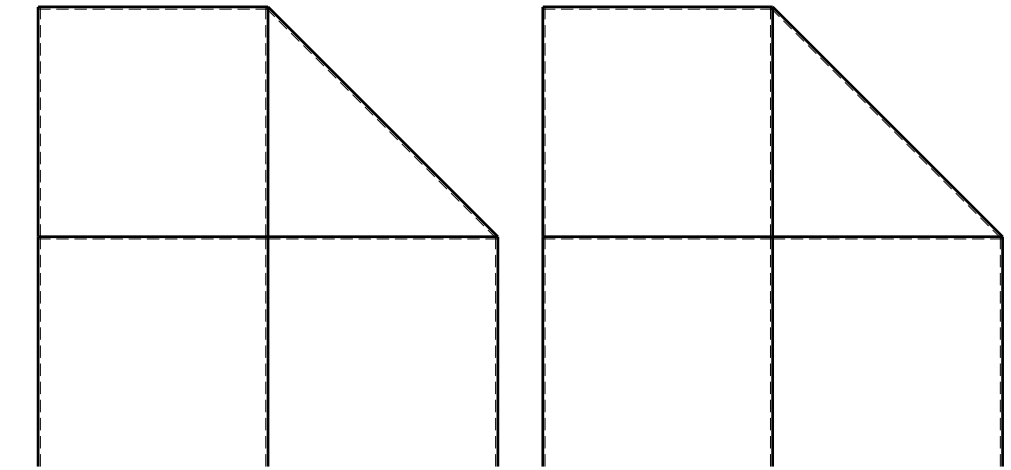
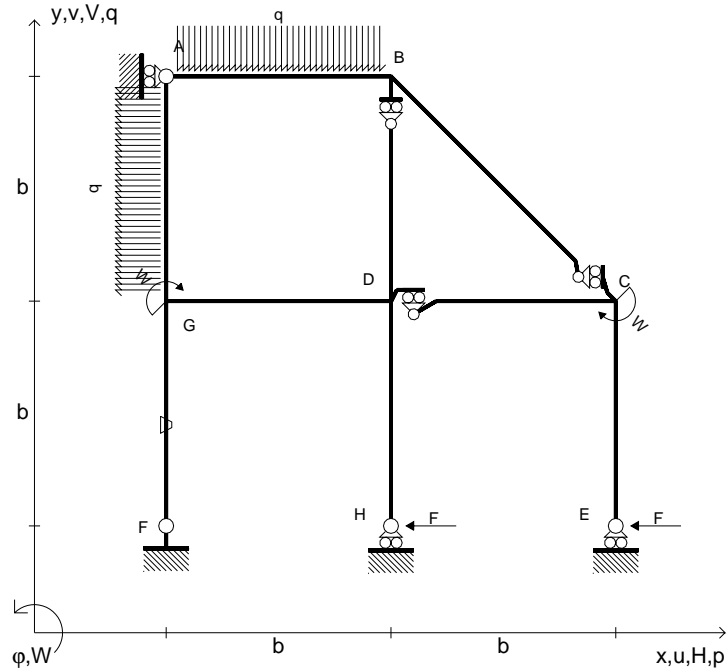
ANALISI STRUTTURALE CON PLV
 RIPORTARE SUL FILE "ESAME" SOLO LE SEGUENTI RICHIESTE

- Sul fronte:
- 1) Declassamento con indicazione dell'iperstatica scelta
 - 2) Diagrammi finali delle azioni interne
 - 3) Sforzi richiesti (nota: profilo COMPATTO)
- Sul retro:
- 4) Analisi cinematica
 - 5) Diagrammi del momento M_0 e M^*
 - 6) Espressione del PLV
 - 7) Valore numerico dell'iperstatica

Carichi e deformazioni date hanno verso efficace in disegno.
 Calcolare reazioni vincolari della struttura e delle aste.
 Tracciare i diagrammi quotati delle azioni interne nelle aste.
 $J_{YZ} - x_{YZ} - \theta_{YZ}$ riferimento locale asta YZ con origine in Y.
 La trave DC ha la sezione riportata e dimensioni in mm, con:
 $b = 720 \text{ mm}$, $F = 1200 \text{ N}$
 Calcolare sulla sezione C la massima tensione normale σ_m .
 Calcolare in * le tensioni σ_c, τ_c e la tensione di von Mises.
 Lembo inferiore sezione su tratteggio trave, a destra da D a C
 Curvatura θ asta FG positiva se convessa a destra con inizio F.
 © Adolfo Zavelani Rossi, Politecnico di Milano, vers.27.03.13



- $H_E = -F$
- $H_H = -F$
- $W_C = -W = -Fb$
- $W_G = -W = -Fb$
- $q_{AB} = -q = -F/b$
- $p_{GA} = -q = -F/b$
- $\theta_{FG} = -\theta = -\alpha T/b = -bF/EJ$
- $EJ_{AB} = EJ$
- $EJ_{BC} = EJ$
- $EJ_{BD} = EJ$
- $EJ_{DC} = EJ$
- $EJ_{CE} = EJ$
- $EJ_{FG} = EJ$
- $EJ_{GD} = EJ$
- $EJ_{DH} = EJ$
- $EJ_{GA} = EJ$



← ⊕ →

↑ ⊕ ↓

ANALISI STRUTTURALE CON PLV

RIPORTARE SUL FILE "ESAME" SOLO LE SEGUENTI RICHIESTE

Sul fronte:

- 1) Declassamento con indicazione dell'iperstatica scelta
- 2) Diagrammi finali delle azioni interne
- 3) Sforzi richiesti
(nota: profilo COMPATTO)

Sul retro:

- 4) Analisi cinematica
- 5) Diagrammi del momento M_0 e M^*
- 6) Espressione del PLV
- 7) Valore numerico dell'iperstatica

Carichi e deformazioni date hanno verso efficace in disegno.

Calcolare reazioni vincolari della struttura e delle aste.

Tracciare i diagrammi quotati delle azioni interne nelle aste.

$J_{YZ} - x_{YZ} - \theta_{YZ}$ riferimento locale asta YZ con origine in Y.

La trave DC ha la sezione riportata e dimensioni in mm, con:

$b = 780 \text{ mm}$, $F = 1350 \text{ N}$

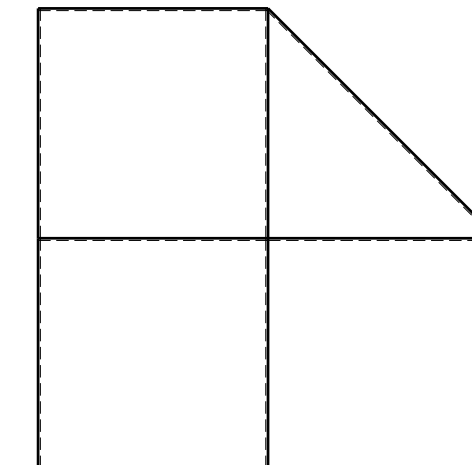

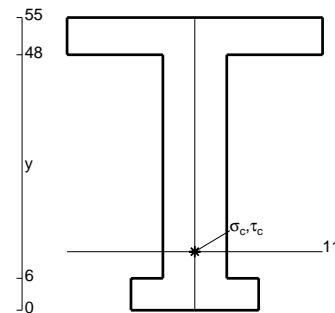
Calcolare sulla sezione C la massima tensione normale σ_m .

Calcolare in * le tensioni σ_c, τ_c e la tensione di von Mises.

Leombo inferiore sezione su tratteggio trave, a destra da D a C

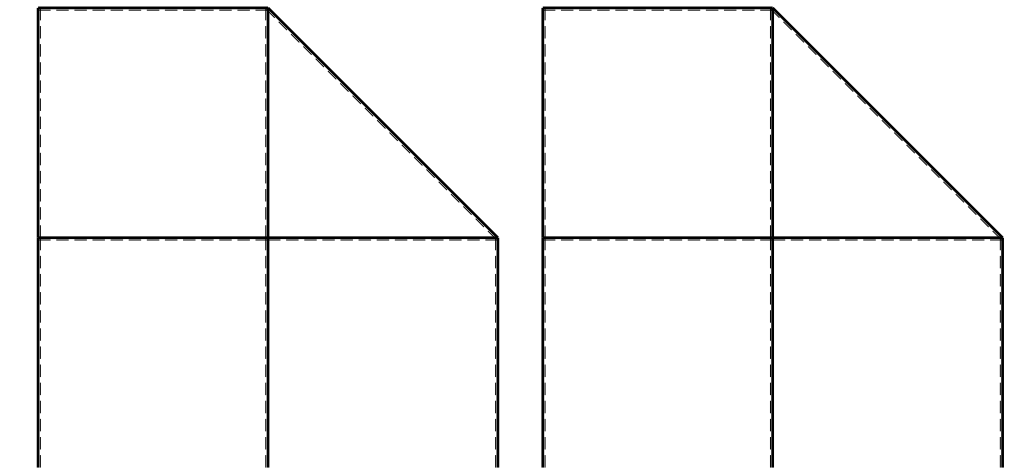
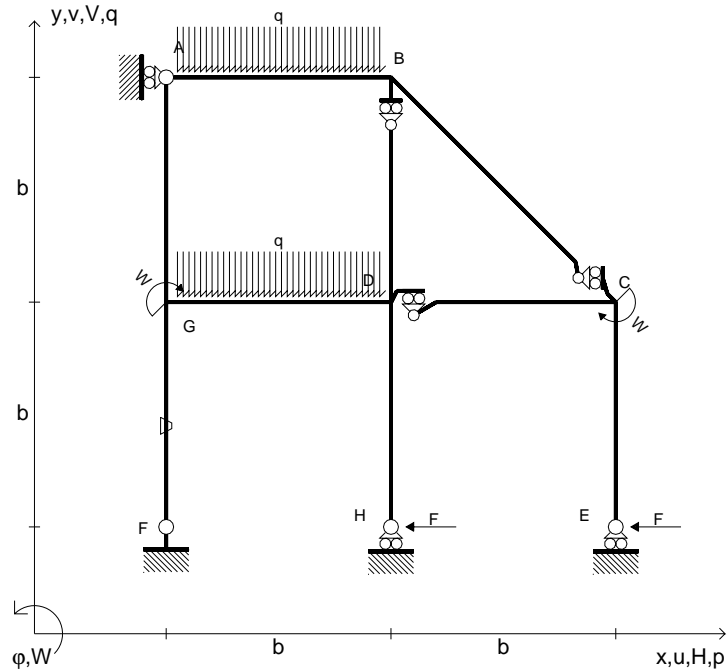
Curvatura θ asta FG positiva se convessa a destra con inizio F.

@ Adolfo Zavelani Rossi, Politecnico di Milano, vers.27.03.13



← ⊕ →

- $H_E = -F$
- $H_H = -F$
- $W_C = -W = -Fb$
- $W_G = -W = -Fb$
- $q_{AB} = -q = -F/b$
- $q_{GD} = -q = -F/b$
- $\theta_{FG} = -\theta = -\alpha T/b = -bF/EJ$
- $EJ_{AB} = EJ$
- $EJ_{BC} = EJ$
- $EJ_{BD} = EJ$
- $EJ_{DC} = EJ$
- $EJ_{CE} = EJ$
- $EJ_{FG} = EJ$
- $EJ_{GD} = EJ$
- $EJ_{DH} = EJ$
- $EJ_{GA} = EJ$



← ⊕ →

↑ ⊕ ↓

ANALISI STRUTTURALE CON PLV

RIPORTARE SUL FILE "ESAME" SOLO LE SEGUENTI RICHIESTE

Sul fronte:

- 1) Declassamento con indicazione dell'iperstatica scelta
- 2) Diagrammi finali delle azioni interne
- 3) Sforzi richiesti (nota: profilo COMPATTO)

Sul retro:

- 4) Analisi cinematica
- 5) Diagrammi del momento M_0 e M^*
- 6) Espressione del PLV
- 7) Valore numerico dell'iperstatica

Carichi e deformazioni date hanno verso efficace in disegno.

Calcolare reazioni vincolari della struttura e delle aste.

Tracciare i diagrammi quotati delle azioni interne nelle aste.

$J_{YZ} - x_{YZ} - \theta_{YZ}$ riferimento locale asta YZ con origine in Y.

La trave DC ha la sezione riportata e dimensioni in mm, con:

$b = 830 \text{ mm}$, $F = 1360 \text{ N}$


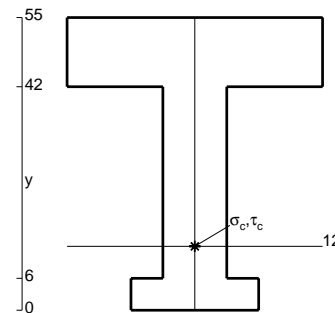
Calcolare sulla sezione C la massima tensione normale σ_m .

Calcolare in * le tensioni σ_c, τ_c e la tensione di von Mises.

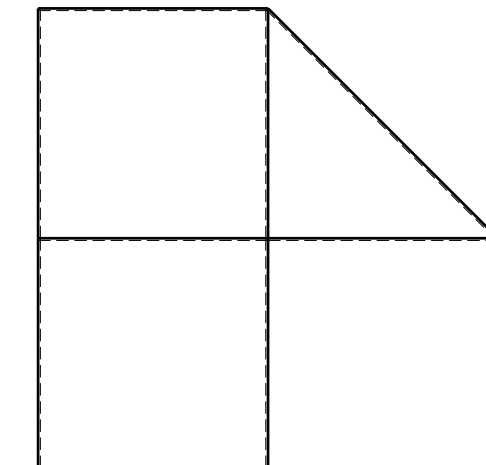
Leombo inferiore sezione su tratteggio trave, a destra da D a C

Curvatura θ asta FG positiva se convessa a destra con inizio F.

@ Adolfo Zavelani Rossi, Politecnico di Milano, vers.27.03.13



22.03.24

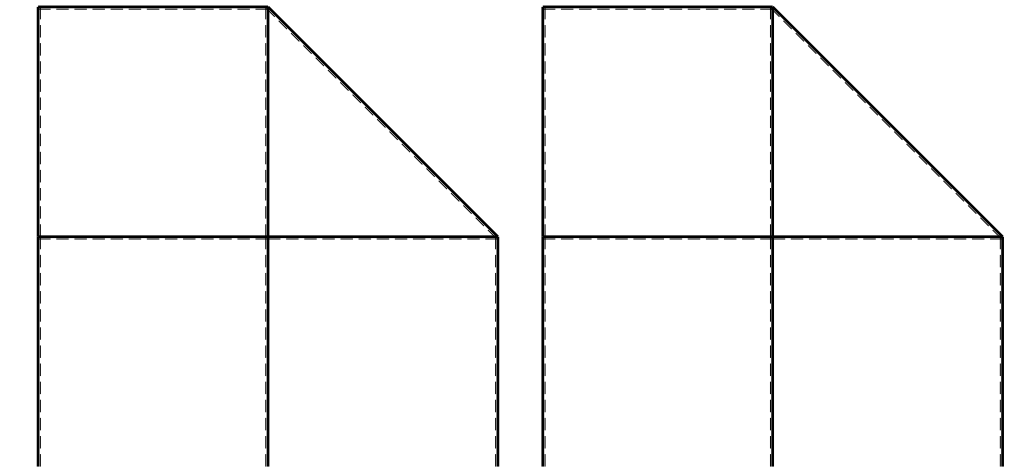
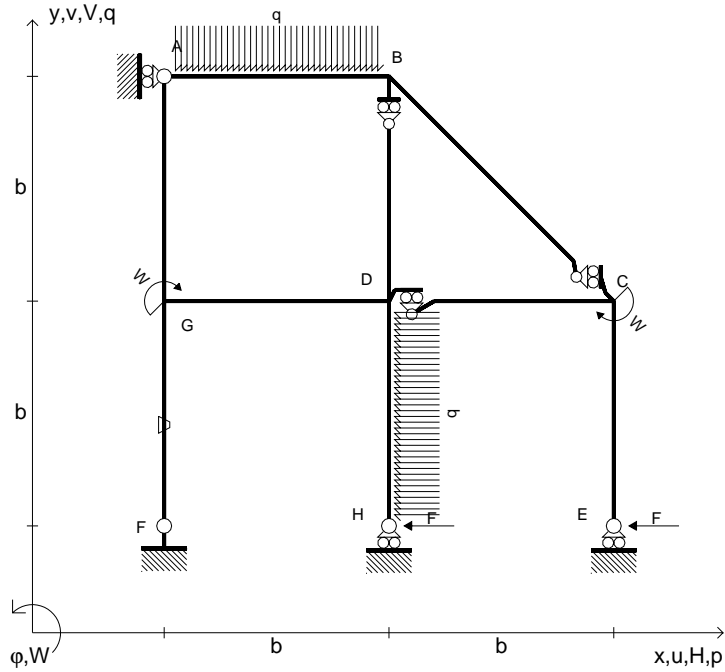


← ⊕ →

@ Adolfo Zavelani Rossi, Politecnico di Milano, vers.27.03.13

22.03.24

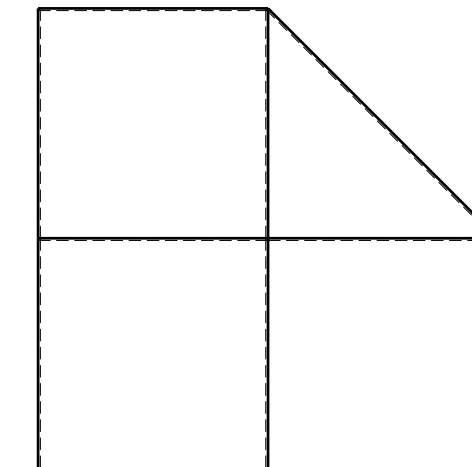
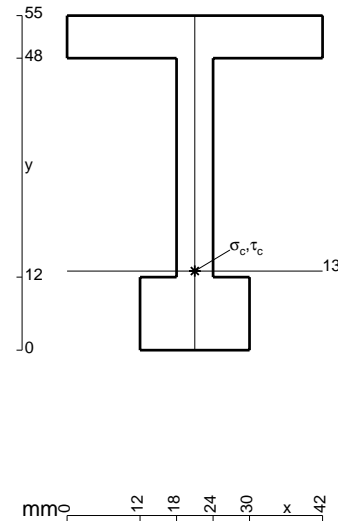
- $H_E = -F$
- $H_H = -F$
- $W_C = -W = -Fb$
- $W_G = -W = -Fb$
- $q_{AB} = -q = -F/b$
- $p_{DH} = -q = -F/b$
- $\theta_{FG} = -\theta = -\alpha T/b = -bF/EJ$
- $EJ_{AB} = EJ$
- $EJ_{BC} = EJ$
- $EJ_{BD} = EJ$
- $EJ_{DC} = EJ$
- $EJ_{CE} = EJ$
- $EJ_{FG} = EJ$
- $EJ_{GD} = EJ$
- $EJ_{DH} = EJ$
- $EJ_{GA} = EJ$



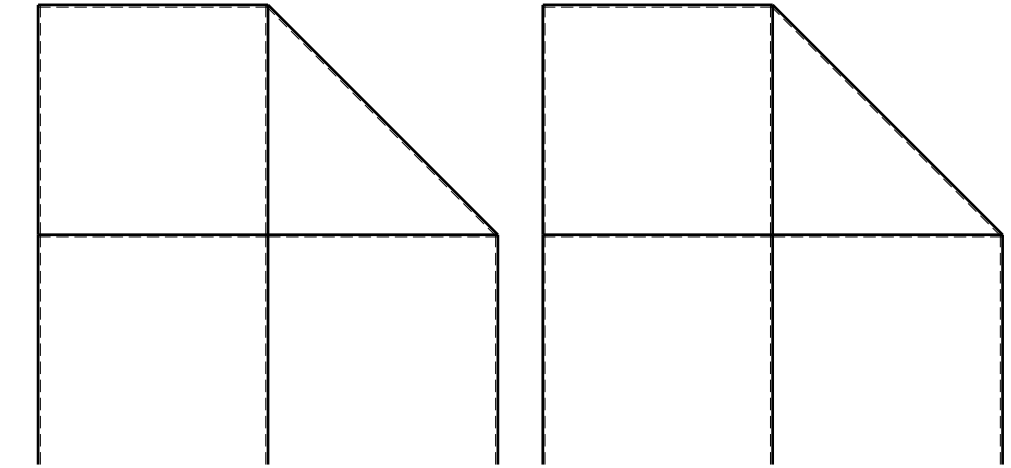
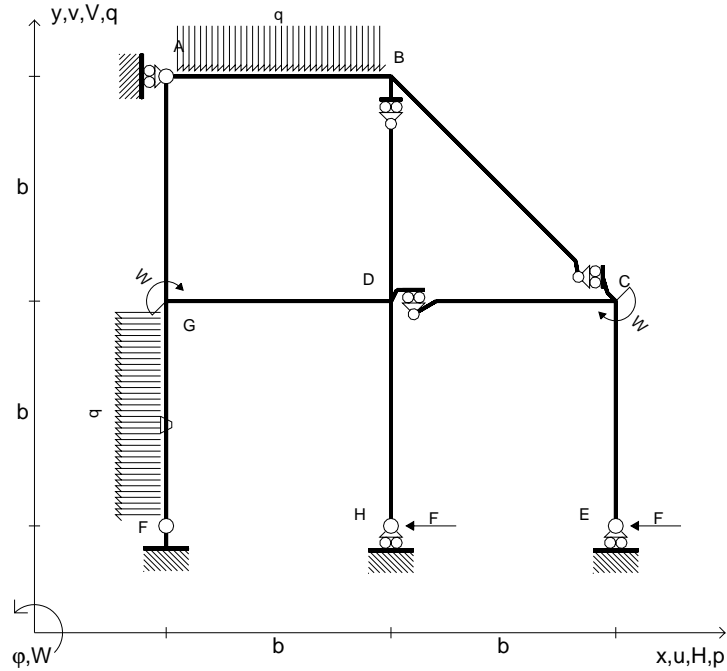
ANALISI STRUTTURALE CON PLV
 RIPORTARE SUL FILE "ESAME" SOLO LE SEGUENTI RICHIESTE

- Sul fronte:
- 1) Declassamento con indicazione dell'iperstatica scelta
 - 2) Diagrammi finali delle azioni interne
 - 3) Sforzi richiesti (nota: profilo COMPATTO)

- Sul retro:
- 4) Analisi cinematica
 - 5) Diagrammi del momento M0 e M*
 - 6) Espressione del PLV
 - 7) Valore numerico dell'iperstatica
- Carichi e deformazioni date hanno verso efficace in disegno.
 Calcolare reazioni vincolari della struttura e delle aste.
 Tracciare i diagrammi quotati delle azioni interne nelle aste.
 $J_{YZ} - x_{YZ} - \theta_{YZ}$ riferimento locale asta YZ con origine in Y.
 La trave DC ha la sezione riportata e dimensioni in mm, con:
 $b = 880 \text{ mm}$, $F = 1130 \text{ N}$
 Calcolare sulla sezione C la massima tensione normale σ_m .
 Calcolare in * le tensioni σ_c, τ_c e la tensione di von Mises.
 Lembo inferiore sezione su tratteggio trave, a destra da D a C
 Curvatura θ asta FG positiva se convessa a destra con inizio F.
 @ Adolfo Zavelani Rossi, Politecnico di Milano, vers.27.03.13



- $H_E = -F$
- $H_H = -F$
- $W_C = -W = -Fb$
- $W_G = -W = -Fb$
- $q_{AB} = -q = -F/b$
- $p_{FG} = -q = -F/b$
- $\theta_{FG} = -\theta = -\alpha T/b = -bF/EJ$
- $EJ_{AB} = EJ$
- $EJ_{BC} = EJ$
- $EJ_{BD} = EJ$
- $EJ_{DC} = EJ$
- $EJ_{CE} = EJ$
- $EJ_{FG} = EJ$
- $EJ_{GD} = EJ$
- $EJ_{DH} = EJ$
- $EJ_{GA} = EJ$



← ⊕ →

↑ ⊕ ↓

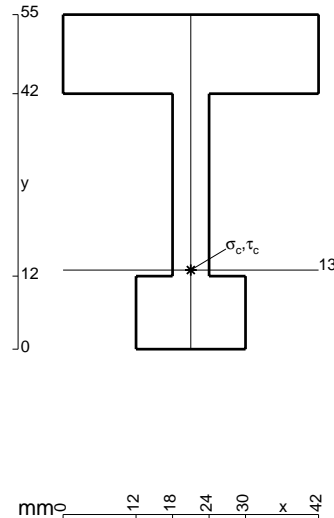
ANALISI STRUTTURALE CON PLV
RIPORTARE SUL FILE "ESAME" SOLO LE SEGUENTI RICHIESTE

- Sul fronte:
- 1) Declassamento con indicazione dell'iperstatica scelta
 - 2) Diagrammi finali delle azioni interne
 - 3) Sforzi richiesti (nota: profilo COMPATTO)

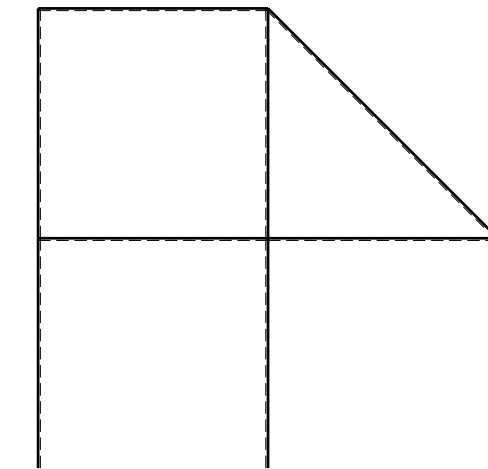
- Sul retro:
- 4) Analisi cinematica
 - 5) Diagrammi del momento M0 e M*
 - 6) Espressione del PLV
 - 7) Valore numerico dell'iperstatica

Carichi e deformazioni date hanno verso efficace in disegno.
Calcolare reazioni vincolari della struttura e delle aste.
Tracciare i diagrammi quotati delle azioni interne nelle aste.
 $J_{YZ} - x_{YZ} - \theta_{YZ}$ riferimento locale asta YZ con origine in Y.
La trave DC ha la sezione riportata e dimensioni in mm,
 $b = 930 \text{ mm}, F = 1120 \text{ N}$

Calcolare sulla sezione C la massima tensione normale σ_m .
Calcolare in * le tensioni σ_c, τ_c e la tensione di von Mises.
Lembo inferiore sezione su tratteggio trave, a destra da D a C
Curvatura θ asta FG positiva se convessa a destra con inizio F.
@ Adolfo Zavelani Rossi, Politecnico di Milano, vers.27.03.13

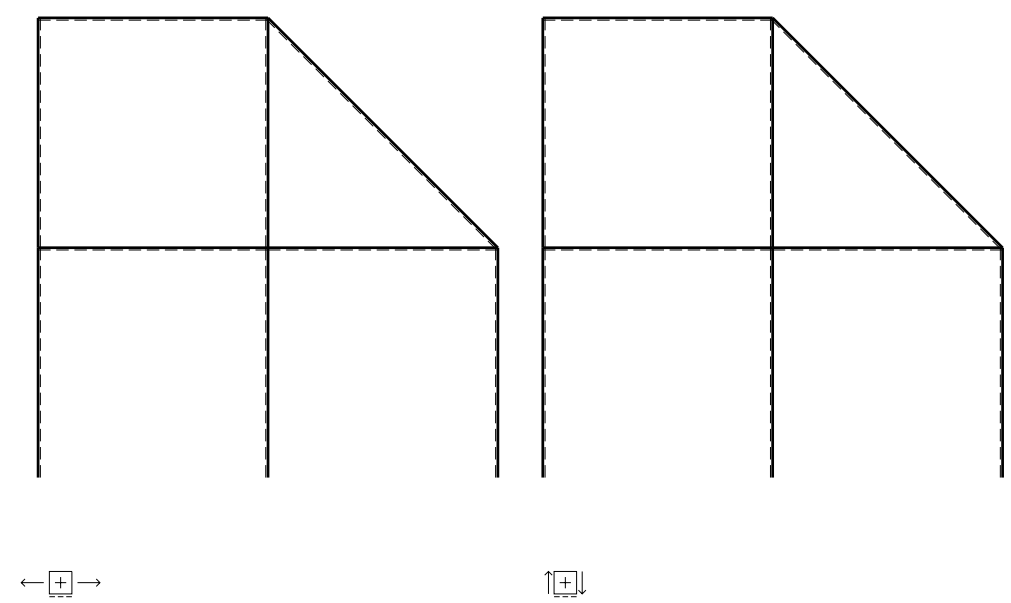
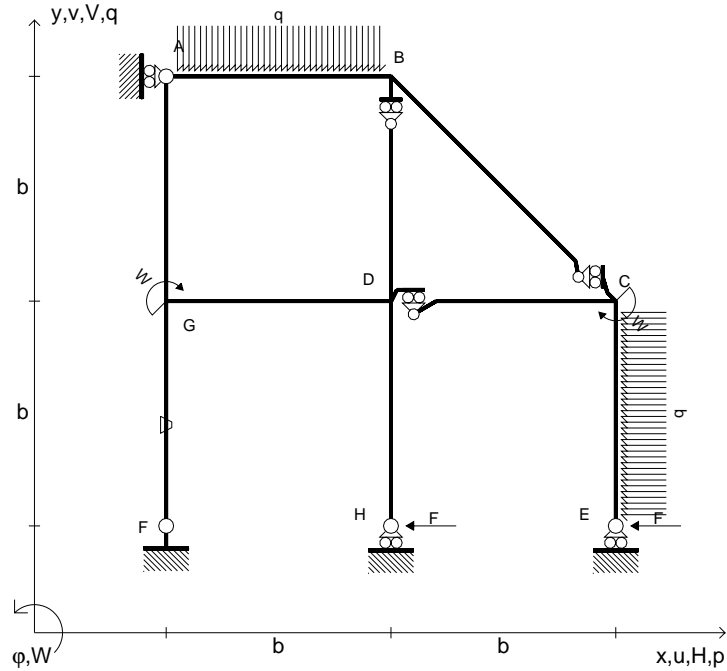


mm 0 12 18 24 30 x 42



⊕

- $H_E = -F$
- $H_H = -F$
- $W_C = -W = -Fb$
- $W_G = -W = -Fb$
- $q_{AB} = -q = -F/b$
- $p_{CE} = -q = -F/b$
- $\theta_{FG} = -\theta = -\alpha T/b = -bF/EJ$
- $EJ_{AB} = EJ$
- $EJ_{BC} = EJ$
- $EJ_{BD} = EJ$
- $EJ_{DC} = EJ$
- $EJ_{CE} = EJ$
- $EJ_{FG} = EJ$
- $EJ_{GD} = EJ$
- $EJ_{DH} = EJ$
- $EJ_{GA} = EJ$



ANALISI STRUTTURALE CON PLV

RIPORTARE SUL FILE "ESAME" SOLO LE SEGUENTI RICHIESTE

Sul fronte:

- 1) Declassamento con indicazione dell'iperstatica scelta
- 2) Diagrammi finali delle azioni interne
- 3) Sforzi richiesti
(nota: profilo COMPATTO)

Sul retro:

- 4) Analisi cinematica
- 5) Diagrammi del momento M_0 e M^*
- 6) Espressione del PLV
- 7) Valore numerico dell'iperstatica

Carichi e deformazioni date hanno verso efficace in disegno.

Calcolare reazioni vincolari della struttura e delle aste.

Tracciare i diagrammi quotati delle azioni interne nelle aste.

$J_{YZ} - x_{YZ} - \theta_{YZ}$ riferimento locale asta YZ con origine in Y.

La trave DC ha la sezione riportata e dimensioni in mm, con:

$b = 980 \text{ mm}$, $F = 1200 \text{ N}$

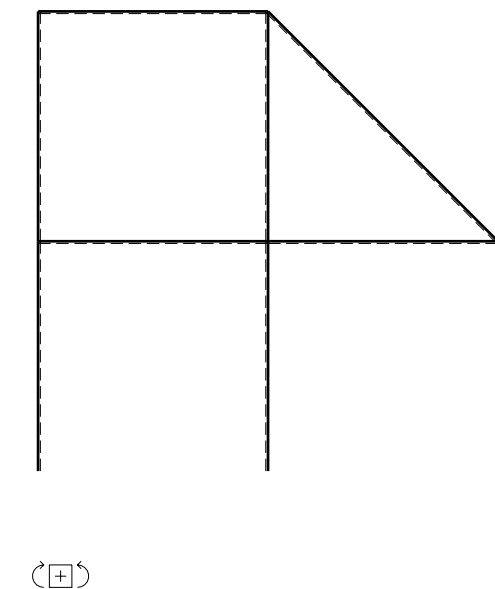
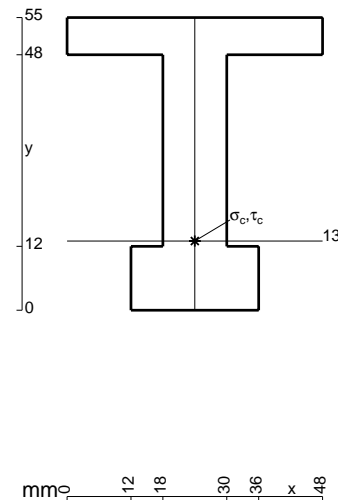
Calcolare sulla sezione C la massima tensione normale σ_m .

Calcolare in * le tensioni σ_c, τ_c e la tensione di von Mises.

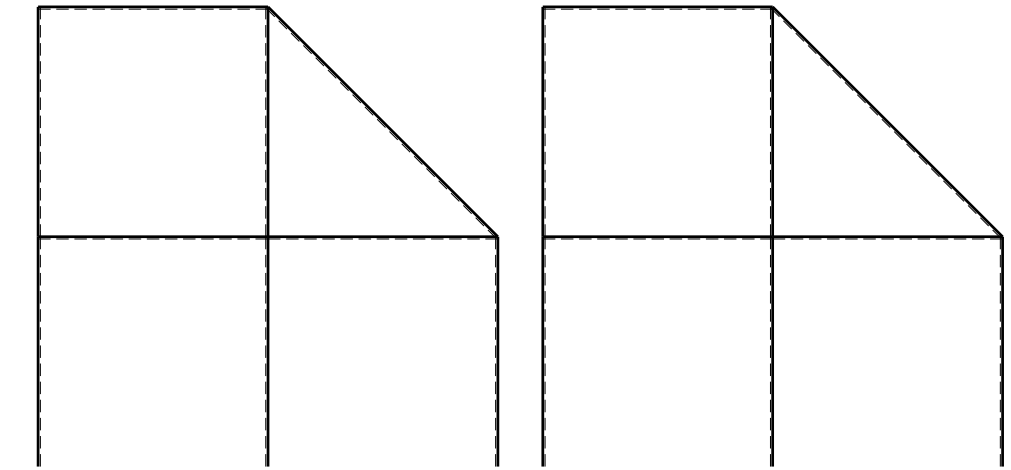
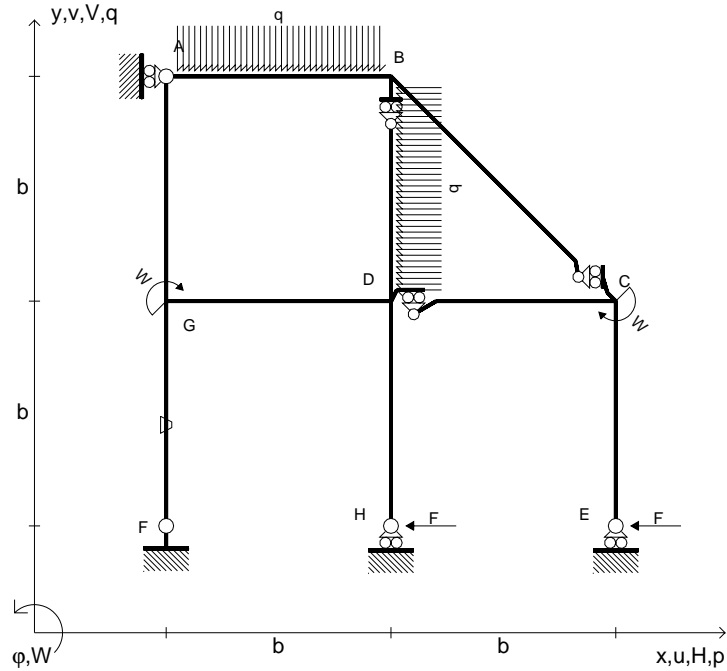
Le mbo inferiore sezione su tratteggio trave, a destra da D a C

Curvatura θ asta FG positiva se convessa a destra con inizio F.

@ Adolfo Zavelani Rossi, Politecnico di Milano, vers.27.03.13



- $H_E = -F$
- $H_H = -F$
- $W_C = -W = -Fb$
- $W_G = -W = -Fb$
- $q_{AB} = -q = -F/b$
- $p_{BD} = -q = -F/b$
- $\theta_{FG} = -\theta = -\alpha T/b = -bF/EJ$
- $EJ_{AB} = EJ$
- $EJ_{BC} = EJ$
- $EJ_{BD} = EJ$
- $EJ_{DC} = EJ$
- $EJ_{CE} = EJ$
- $EJ_{FG} = EJ$
- $EJ_{GD} = EJ$
- $EJ_{DH} = EJ$
- $EJ_{GA} = EJ$



← ⊕ →

↑ ⊕ ↓

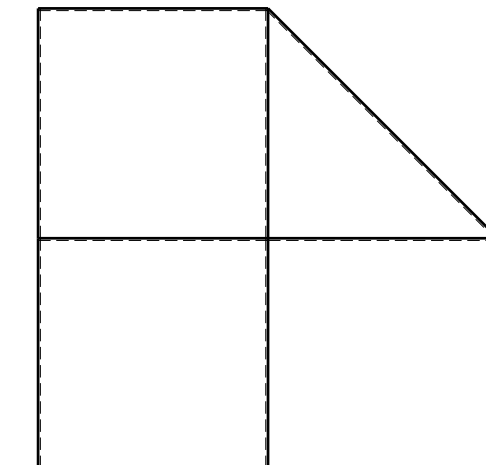

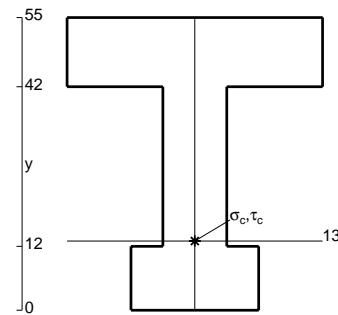
ANALISI STRUTTURALE CON PLV
 RIPORTARE SUL FILE "ESAME" SOLO LE SEGUENTI RICHIESTE

- Sul fronte:
- 1) Declassamento con indicazione dell'iperstatica scelta
 - 2) Diagrammi finali delle azioni interne
 - 3) Sforzi richiesti
 (nota: profilo COMPATTO)

- Sul retro:
- 4) Analisi cinematica
 - 5) Diagrammi del momento M_0 e M^*
 - 6) Espressione del PLV
 - 7) Valore numerico dell'iperstatica

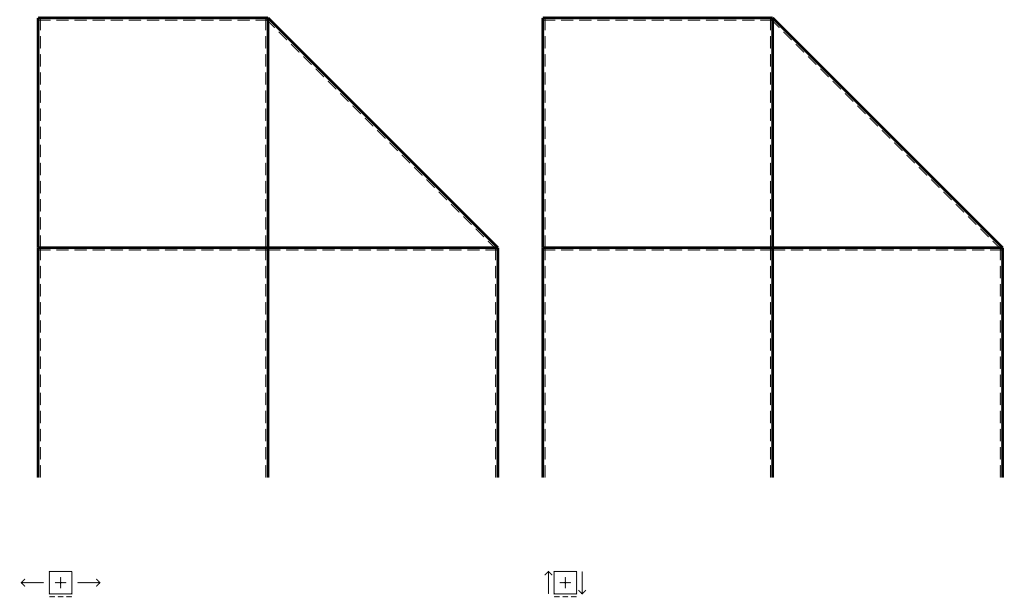
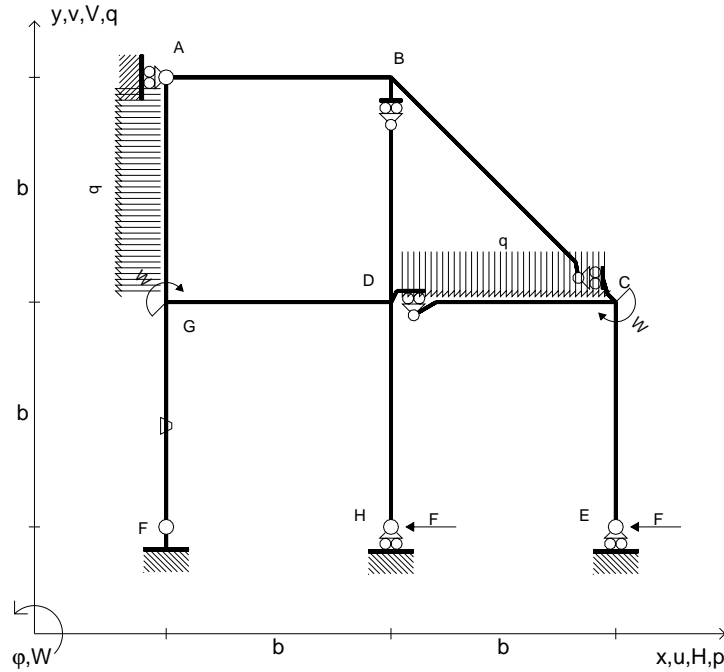
Carichi e deformazioni date hanno verso efficace in disegno.
 Calcolare reazioni vincolari della struttura e delle aste.
 Tracciare i diagrammi quotati delle azioni interne nelle aste.
 $J_{YZ} - x_{YZ} - \theta_{YZ}$ riferimento locale asta YZ con origine in Y.
 La trave DC ha la sezione riportata e dimensioni in mm, con:
 $b = 520$ mm, $F = 2410$ N

Calcolare sulla sezione C la massima tensione normale σ_m .
 Calcolare in * le tensioni σ_c, τ_c e la tensione di von Mises.
 Lembo inferiore sezione su tratteggio trave, a destra da D a C
 Curvatura θ asta FG positiva se convessa a destra con inizio F.
 @ Adolfo Zavelani Rossi, Politecnico di Milano, vers.27.03.13



← ⊕ →

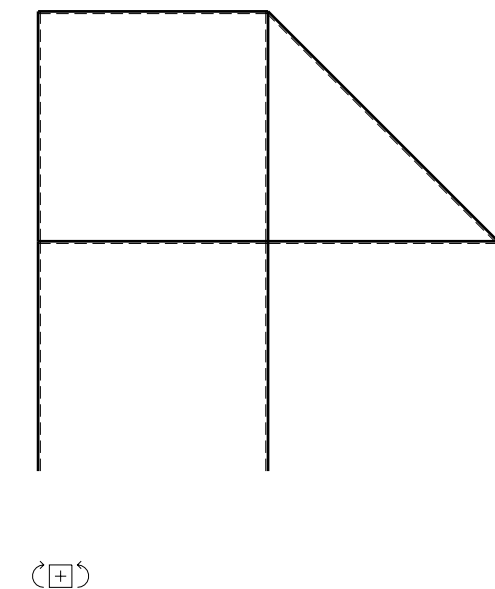
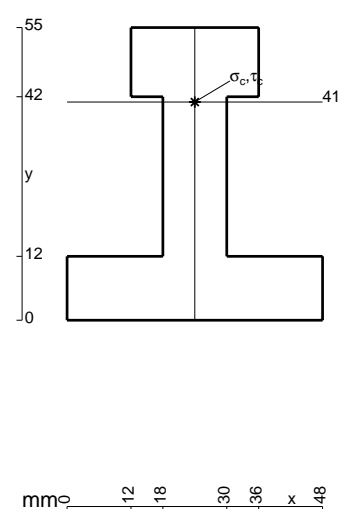
- $H_E = -F$
- $H_H = -F$
- $W_C = -W = -Fb$
- $W_G = -W = -Fb$
- $q_{DC} = -q = -F/b$
- $p_{GA} = -q = -F/b$
- $\theta_{FG} = -\theta = -\alpha T/b = -bF/EJ$
- $EJ_{AB} = EJ$
- $EJ_{BC} = EJ$
- $EJ_{BD} = EJ$
- $EJ_{DC} = EJ$
- $EJ_{CE} = EJ$
- $EJ_{FG} = EJ$
- $EJ_{GD} = EJ$
- $EJ_{DH} = EJ$
- $EJ_{GA} = EJ$



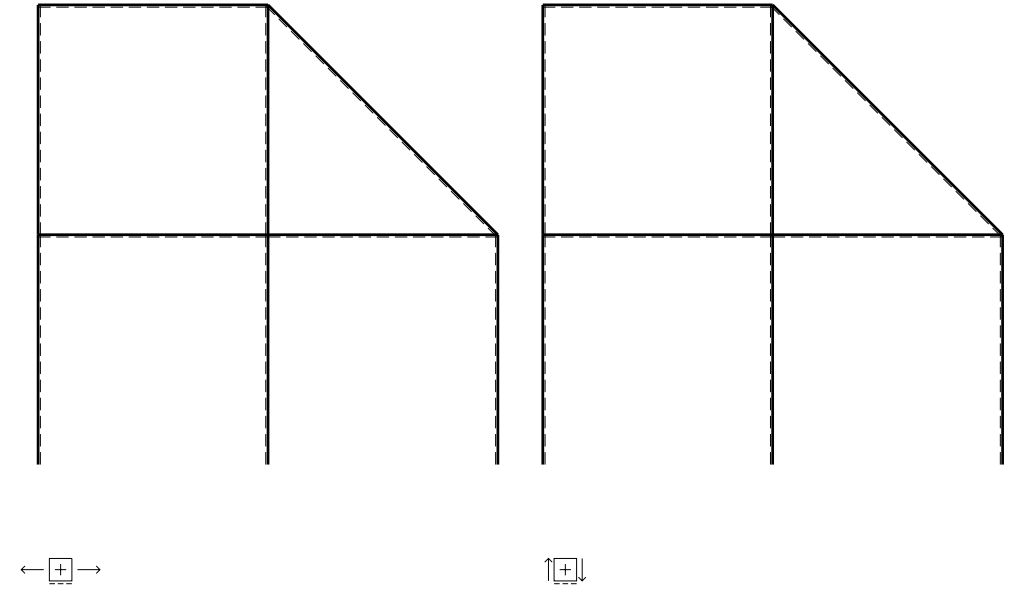
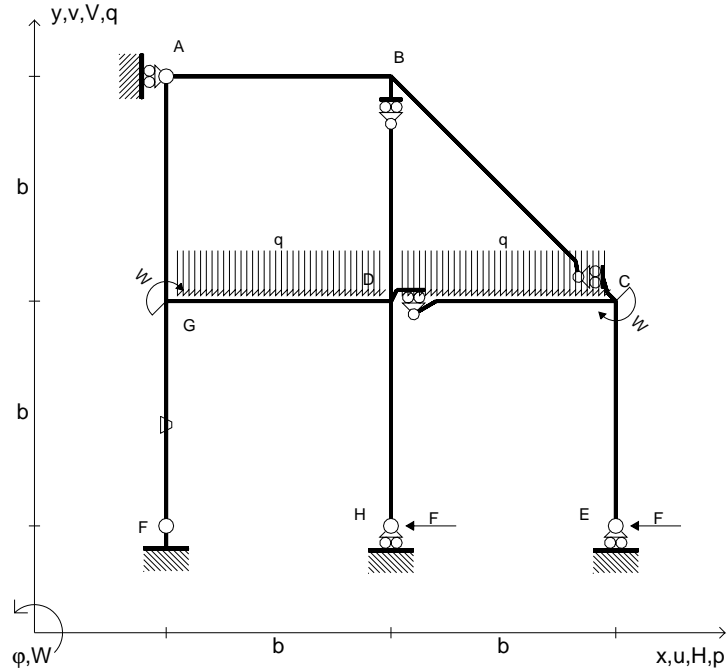
ANALISI STRUTTURALE CON PLV
 RIPORTARE SUL FILE "ESAME" SOLO LE SEGUENTI RICHIESTE

- Sul fronte:
- 1) Declassamento con indicazione dell'iperstatica scelta
 - 2) Diagrammi finali delle azioni interne
 - 3) Sforzi richiesti
(nota: profilo COMPATTO)
- Sul retro:
- 4) Analisi cinematica
 - 5) Diagrammi del momento M_0 e M^*
 - 6) Espressione del PLV
 - 7) Valore numerico dell'iperstatica

Carichi e deformazioni date hanno verso efficace in disegno.
 Calcolare reazioni vincolari della struttura e delle aste.
 Tracciare i diagrammi quotati delle azioni interne nelle aste.
 $J_{YZ} - x_{YZ} - \theta_{YZ}$ riferimento locale asta YZ con origine in Y.
 La trave DC ha la sezione riportata e dimensioni in mm, con:
 $b = 570 \text{ mm}$, $F = 2350 \text{ N}$
 Calcolare sulla sezione C la massima tensione normale σ_m .
 Calcolare in * le tensioni σ_c, τ_c e la tensione di von Mises.
 Lembo inferiore sezione su tratteggio trave, a destra da D a C
 Curvatura θ asta FG positiva se convessa a destra con inizio F.
 © Adolfo Zavelani Rossi, Politecnico di Milano, vers.27.03.13



- $H_E = -F$
- $H_H = -F$
- $W_C = -W = -Fb$
- $W_G = -W = -Fb$
- $q_{DC} = -q = -F/b$
- $q_{GD} = -q = -F/b$
- $\theta_{FG} = -\theta = -\alpha T/b = -bF/EJ$
- $EJ_{AB} = EJ$
- $EJ_{BC} = EJ$
- $EJ_{BD} = EJ$
- $EJ_{DC} = EJ$
- $EJ_{CE} = EJ$
- $EJ_{FG} = EJ$
- $EJ_{GD} = EJ$
- $EJ_{DH} = EJ$
- $EJ_{GA} = EJ$



ANALISI STRUTTURALE CON PLV

RIPORTARE SUL FILE "ESAME" SOLO LE SEGUENTI RICHIESTE

Sul fronte:

- 1) Declassamento con indicazione dell'iperstatica scelta
- 2) Diagrammi finali delle azioni interne
- 3) Sforzi richiesti
(nota: profilo COMPATTO)

Sul retro:

- 4) Analisi cinematica
- 5) Diagrammi del momento M_0 e M^*
- 6) Espressione del PLV
- 7) Valore numerico dell'iperstatica

Carichi e deformazioni date hanno verso efficace in disegno.

Calcolare reazioni vincolari della struttura e delle aste.

Tracciare i diagrammi quotati delle azioni interne nelle aste.

$J_{YZ} - x_{YZ} - \theta_{YZ}$ riferimento locale asta YZ con origine in Y.

La trave DC ha la sezione riportata e dimensioni in mm, con:

$b = 620$ mm, $F = 1620$ N

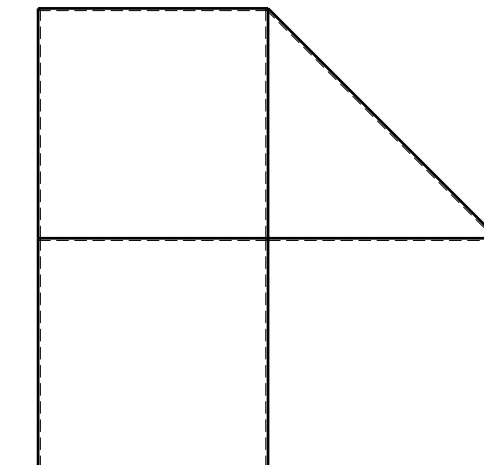
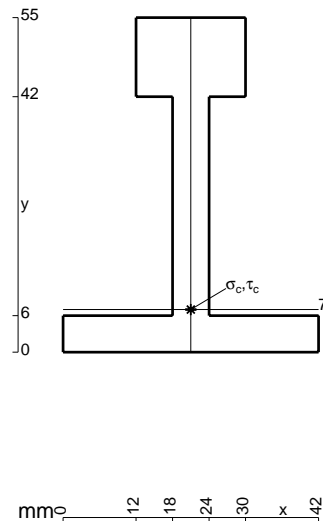
Calcolare sulla sezione C la massima tensione normale σ_m .

Calcolare in * le tensioni σ_c, τ_c e la tensione di von Mises.

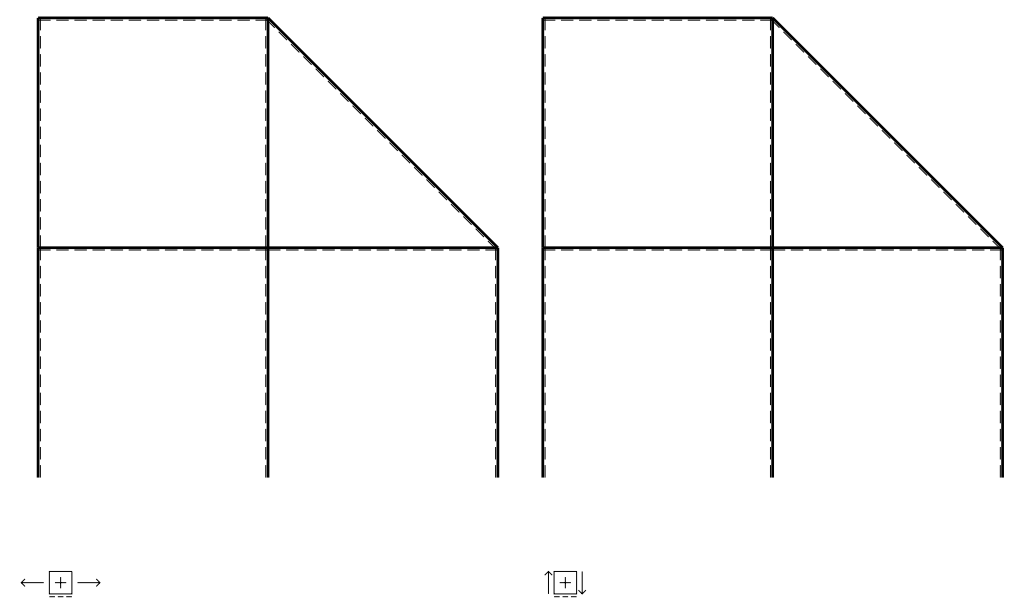
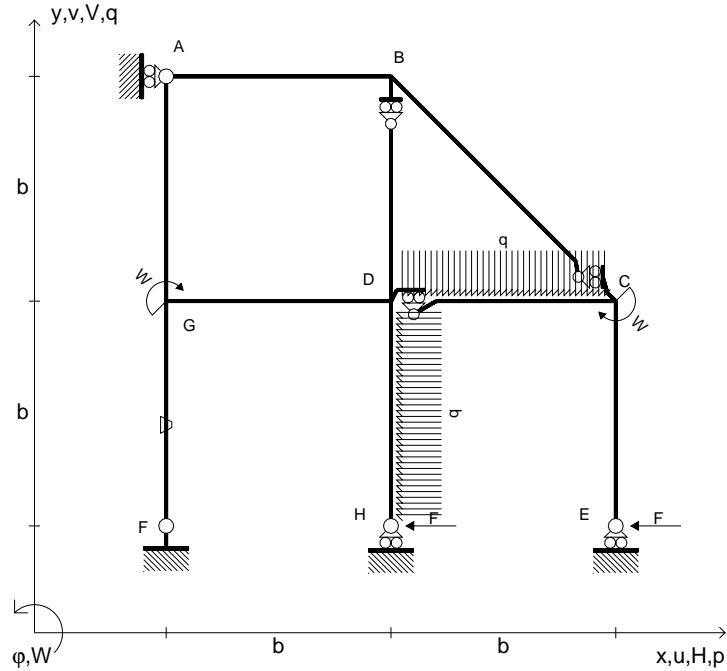
Leombo inferiore sezione su tratteggio trave, a destra da D a C

Curvatura θ asta FG positiva se convessa a destra con inizio F.

@ Adolfo Zavelani Rossi, Politecnico di Milano, vers.27.03.13



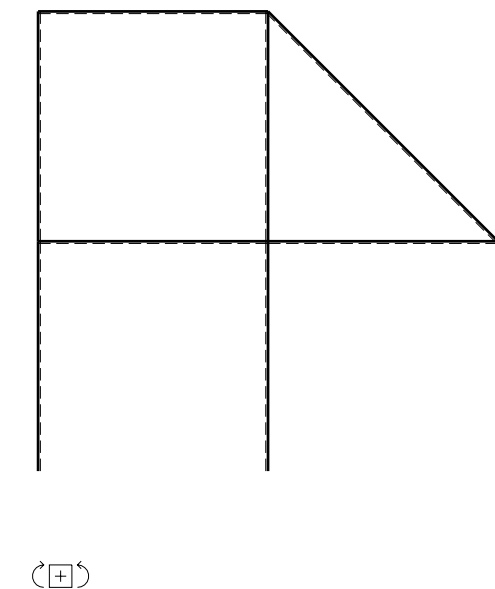
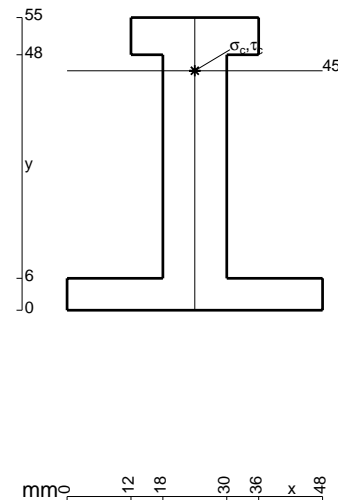
- $H_E = -F$
- $H_H = -F$
- $W_C = -W = -Fb$
- $W_G = -W = -Fb$
- $q_{DC} = -q = -F/b$
- $p_{DH} = -q = -F/b$
- $\theta_{FG} = -\theta = -\alpha T/b = -bF/EJ$
- $EJ_{AB} = EJ$
- $EJ_{BC} = EJ$
- $EJ_{BD} = EJ$
- $EJ_{DC} = EJ$
- $EJ_{CE} = EJ$
- $EJ_{FG} = EJ$
- $EJ_{GD} = EJ$
- $EJ_{DH} = EJ$
- $EJ_{GA} = EJ$



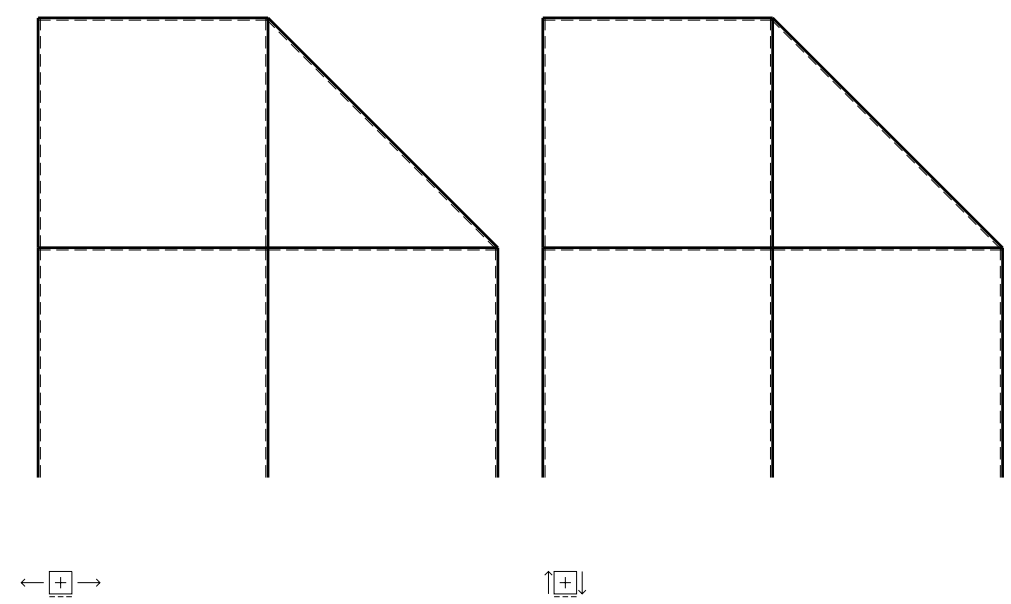
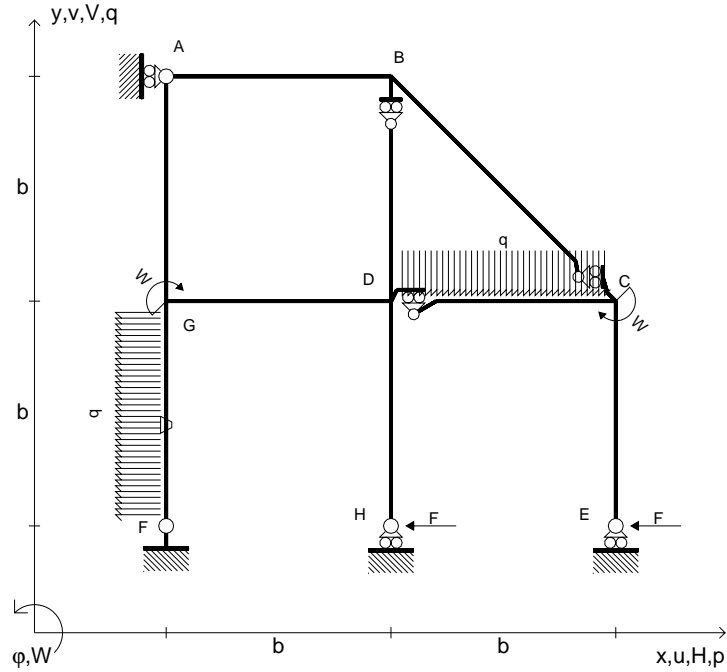
ANALISI STRUTTURALE CON PLV
 RIPORTARE SUL FILE "ESAME" SOLO LE SEGUENTI RICHIESTE

- Sul fronte:
- 1) Declassamento con indicazione dell'iperstatica scelta
 - 2) Diagrammi finali delle azioni interne
 - 3) Sforzi richiesti (nota: profilo COMPATTO)
- Sul retro:
- 4) Analisi cinematica
 - 5) Diagrammi del momento M_0 e M^*
 - 6) Espressione del PLV
 - 7) Valore numerico dell'iperstatica

Carichi e deformazioni date hanno verso efficace in disegno.
 Calcolare reazioni vincolari della struttura e delle aste.
 Tracciare i diagrammi quotati delle azioni interne nelle aste.
 $J_{YZ} - x_{YZ} - \theta_{YZ}$ riferimento locale asta YZ con origine in Y.
 La trave DC ha la sezione riportata e dimensioni in mm, con:
 $b = 670 \text{ mm}$, $F = 1850 \text{ N}$
 Calcolare sulla sezione C la massima tensione normale σ_m .
 Calcolare in * le tensioni σ_c, τ_c e la tensione di von Mises.
 Lembo inferiore sezione su tratteggio trave, a destra da D a C
 Curvatura θ asta FG positiva se convessa a destra con inizio F.
 © Adolfo Zavelani Rossi, Politecnico di Milano, vers.27.03.13



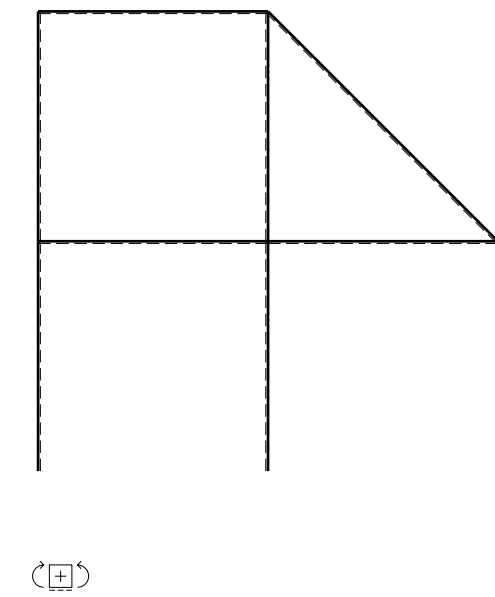
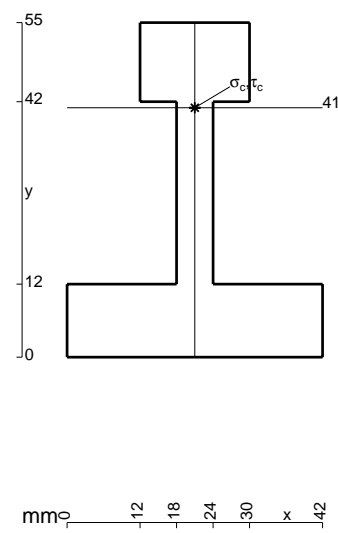
- $H_E = -F$
- $H_H = -F$
- $W_C = -W = -Fb$
- $W_G = -W = -Fb$
- $q_{DC} = -q = -F/b$
- $p_{FG} = -q = -F/b$
- $\theta_{FG} = -\theta = -\alpha T/b = -bF/EJ$
- $EJ_{AB} = EJ$
- $EJ_{BC} = EJ$
- $EJ_{BD} = EJ$
- $EJ_{DC} = EJ$
- $EJ_{CE} = EJ$
- $EJ_{FG} = EJ$
- $EJ_{GD} = EJ$
- $EJ_{DH} = EJ$
- $EJ_{GA} = EJ$



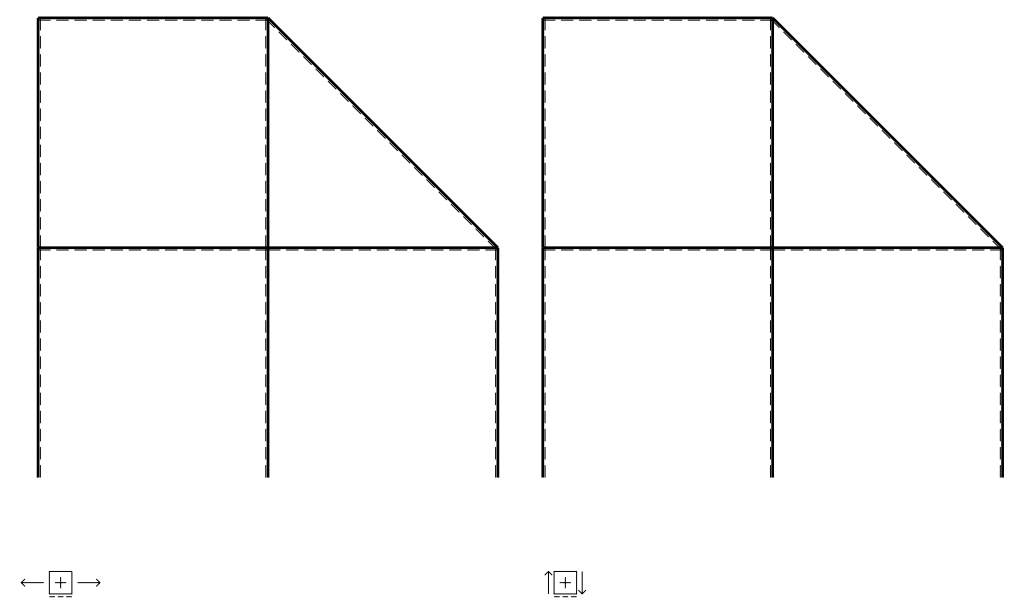
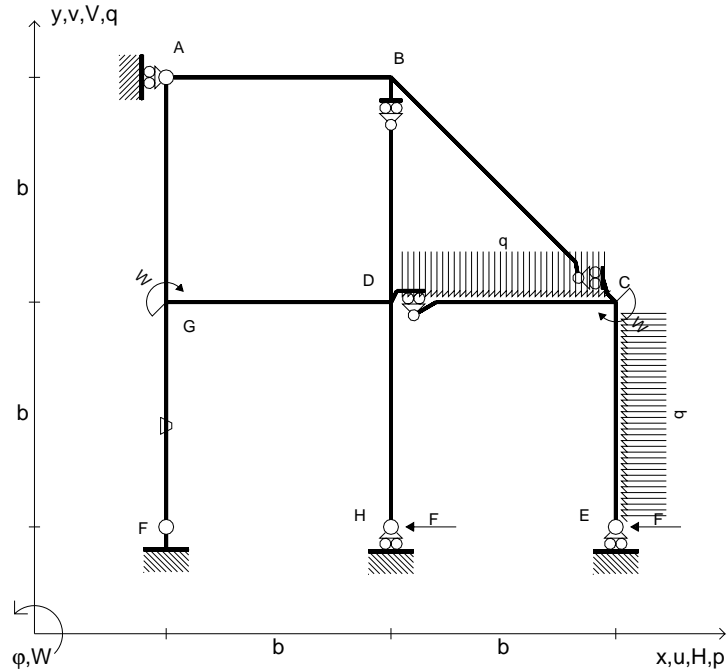
ANALISI STRUTTURALE CON PLV
 RIPORTARE SUL FILE "ESAME" SOLO LE SEGUENTI RICHIESTE

- Sul fronte:
- 1) Declassamento con indicazione dell'iperstatica scelta
 - 2) Diagrammi finali delle azioni interne
 - 3) Sforzi richiesti (nota: profilo COMPATTO)
- Sul retro:
- 4) Analisi cinematica
 - 5) Diagrammi del momento M_0 e M^*
 - 6) Espressione del PLV
 - 7) Valore numerico dell'iperstatica

Carichi e deformazioni date hanno verso efficace in disegno.
 Calcolare reazioni vincolari della struttura e delle aste.
 Tracciare i diagrammi quotati delle azioni interne nelle aste.
 $J_{YZ} - x_{YZ} - \theta_{YZ}$ riferimento locale asta YZ con origine in Y.
 La trave DC ha la sezione riportata e dimensioni in mm, con:
 $b = 720$ mm, $F = 1560$ N
 Calcolare sulla sezione C la massima tensione normale σ_m .
 Calcolare in * le tensioni σ_c, τ_c e la tensione di von Mises.
 Lembo inferiore sezione su tratteggio trave, a destra da D a C
 Curvatura θ asta FG positiva se convessa a destra con inizio F.
 © Adolfo Zavelani Rossi, Politecnico di Milano, vers.27.03.13



- $H_E = -F$
- $H_H = -F$
- $W_C = -W = -Fb$
- $W_G = -W = -Fb$
- $q_{DC} = -q = -F/b$
- $p_{CE} = -q = -F/b$
- $\theta_{FG} = -\theta = -\alpha T/b = -bF/EJ$
- $EJ_{AB} = EJ$
- $EJ_{BC} = EJ$
- $EJ_{BD} = EJ$
- $EJ_{DC} = EJ$
- $EJ_{CE} = EJ$
- $EJ_{FG} = EJ$
- $EJ_{GD} = EJ$
- $EJ_{DH} = EJ$
- $EJ_{GA} = EJ$



ANALISI STRUTTURALE CON PLV

RIPORTARE SUL FILE "ESAME" SOLO LE SEGUENTI RICHIESTE

Sul fronte:

- 1) Declassamento con indicazione dell'iperstatica scelta
- 2) Diagrammi finali delle azioni interne
- 3) Sforzi richiesti
(nota: profilo COMPATTO)

Sul retro:

- 4) Analisi cinematica
- 5) Diagrammi del momento M_0 e M^*
- 6) Espressione del PLV
- 7) Valore numerico dell'iperstatica

Carichi e deformazioni date hanno verso efficace in disegno.

Calcolare reazioni vincolari della struttura e delle aste.

Tracciare i diagrammi quotati delle azioni interne nelle aste.

$J_{YZ} - x_{YZ} - \theta_{YZ}$ riferimento locale asta YZ con origine in Y.

La trave DC ha la sezione riportata e dimensioni in mm, con:

$b = 780 \text{ mm}$, $F = 770 \text{ N}$

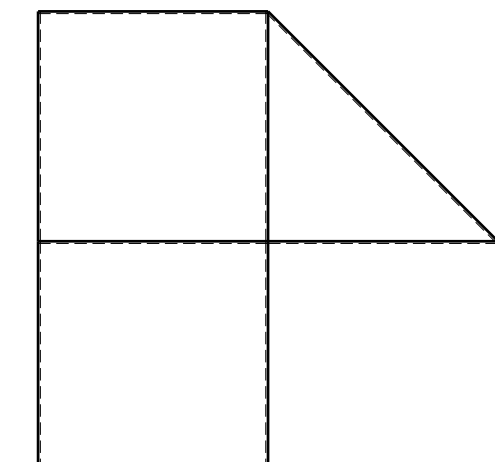
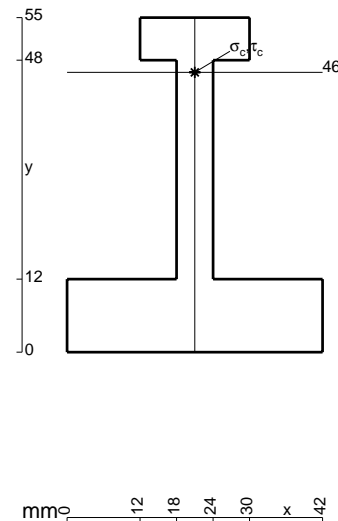
Calcolare sulla sezione C la massima tensione normale σ_m .

Calcolare in * le tensioni σ_c, τ_c e la tensione di von Mises.

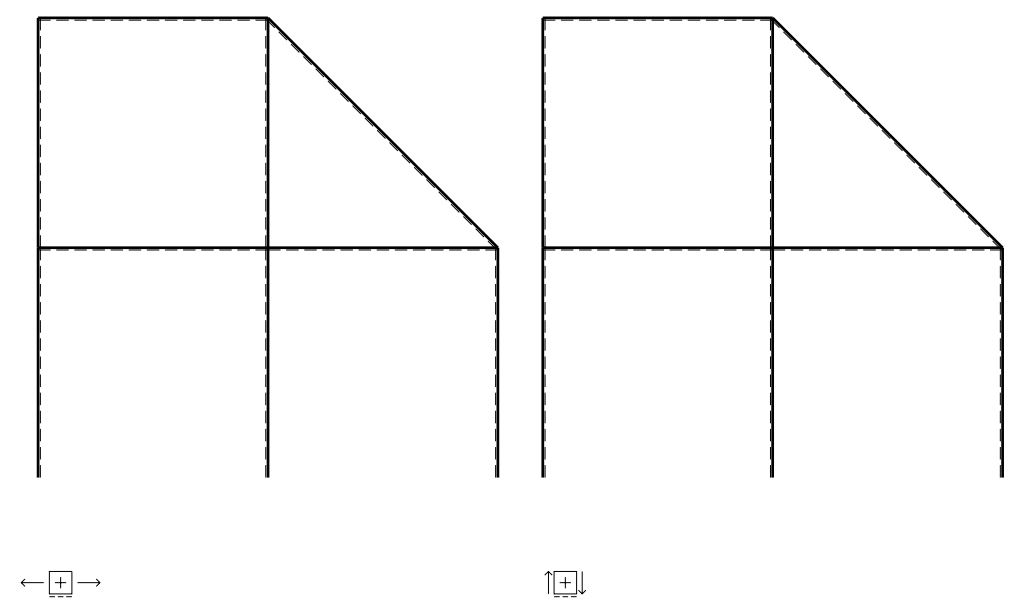
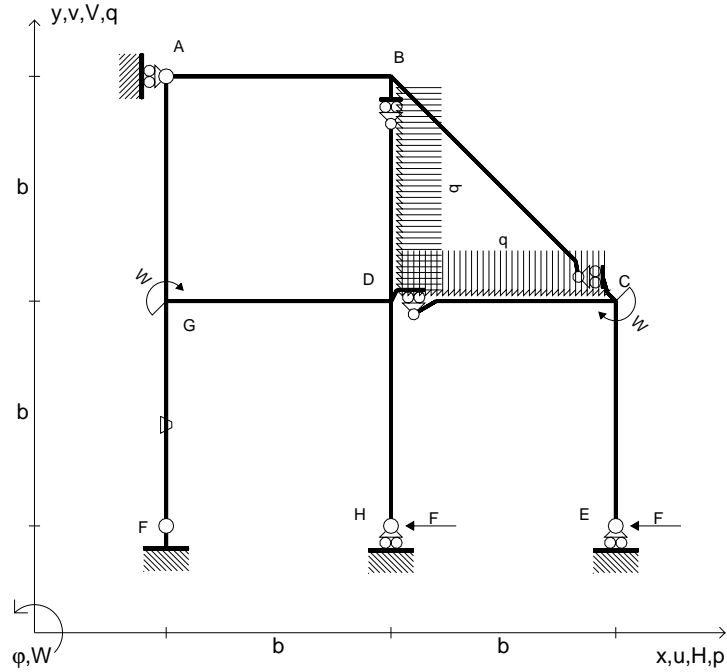
Leombo inferiore sezione su tratteggio trave, a destra da D a C

Curvatura θ asta FG positiva se convessa a destra con inizio F.

@ Adolfo Zavelani Rossi, Politecnico di Milano, vers.27.03.13



- $H_E = -F$
- $H_H = -F$
- $W_C = -W = -Fb$
- $W_G = -W = -Fb$
- $q_{DC} = -q = -F/b$
- $p_{BD} = -q = -F/b$
- $\theta_{FG} = -\theta = -\alpha T/b = -bF/EJ$
- $EJ_{AB} = EJ$
- $EJ_{BC} = EJ$
- $EJ_{BD} = EJ$
- $EJ_{DC} = EJ$
- $EJ_{CE} = EJ$
- $EJ_{FG} = EJ$
- $EJ_{GD} = EJ$
- $EJ_{DH} = EJ$
- $EJ_{GA} = EJ$

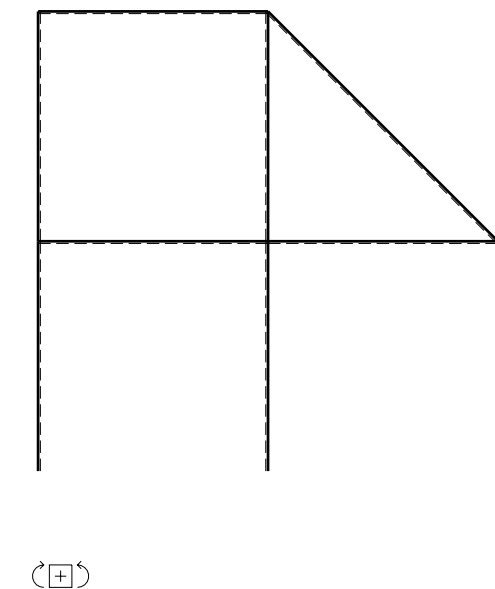
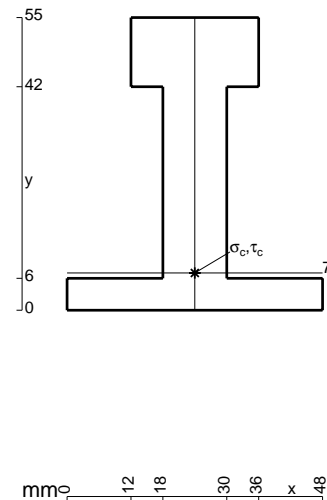


ANALISI STRUTTURALE CON PLV
 RIPORTARE SUL FILE "ESAME" SOLO LE SEGUENTI RICHIESTE

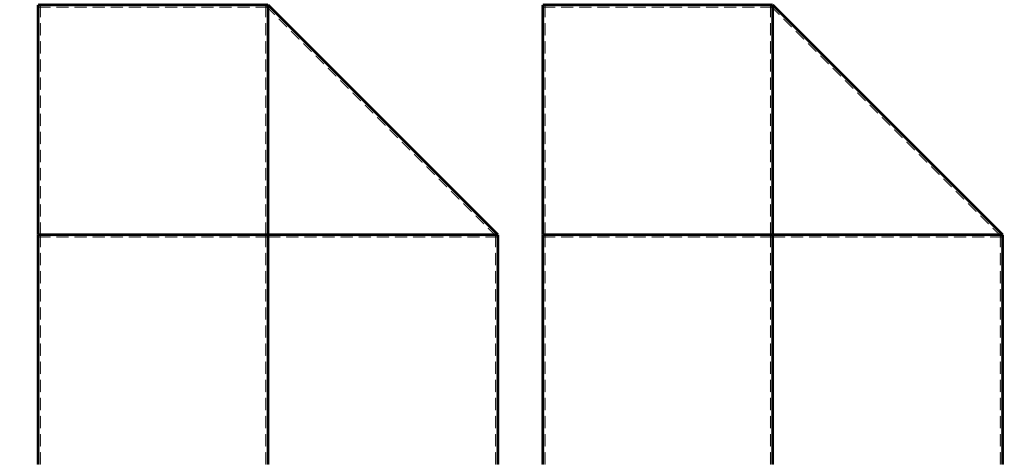
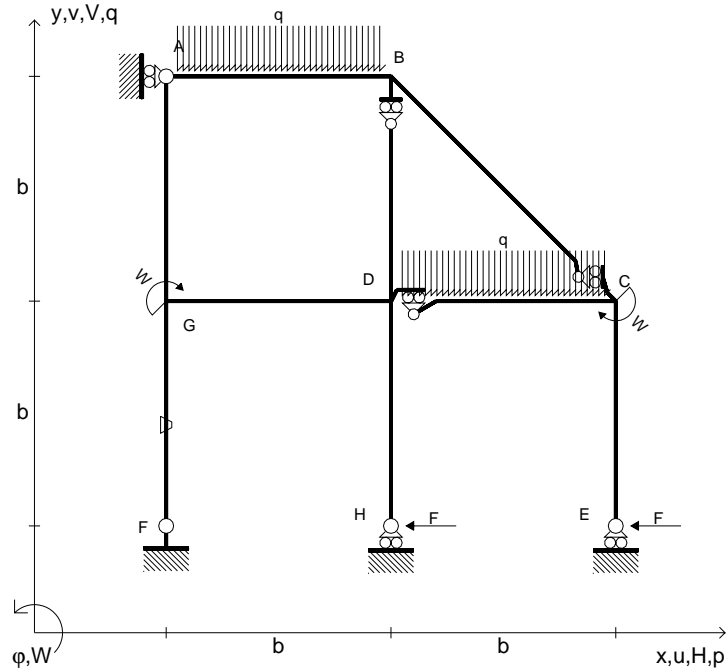
- Sul fronte:
- 1) Declassamento con indicazione dell'iperstatica scelta
 - 2) Diagrammi finali delle azioni interne
 - 3) Sforzi richiesti (nota: profilo COMPATTO)

- Sul retro:
- 4) Analisi cinematica
 - 5) Diagrammi del momento M_0 e M^*
 - 6) Espressione del PLV
 - 7) Valore numerico dell'iperstatica

Carichi e deformazioni date hanno verso efficace in disegno.
 Calcolare reazioni vincolari della struttura e delle aste.
 Tracciare i diagrammi quotati delle azioni interne nelle aste.
 $J_{YZ} - x_{YZ} - \theta_{YZ}$ riferimento locale asta YZ con origine in Y.
 La trave DC ha la sezione riportata e dimensioni in mm, con:
 $b = 830 \text{ mm}$, $F = 1560 \text{ N}$
 Calcolare sulla sezione C la massima tensione normale σ_m .
 Calcolare in * le tensioni σ_c, τ_c e la tensione di von Mises.
 Lembo inferiore sezione su tratteggio trave, a destra da D a C
 Curvatura θ asta FG positiva se convessa a destra con inizio F.
 @ Adolfo Zavelani Rossi, Politecnico di Milano, vers.27.03.13



- $H_E = -F$
- $H_H = -F$
- $W_C = -W = -Fb$
- $W_G = -W = -Fb$
- $q_{DC} = -q = -F/b$
- $q_{AB} = -q = -F/b$
- $\theta_{FG} = -\theta = -\alpha T/b = -bF/EJ$
- $EJ_{AB} = EJ$
- $EJ_{BC} = EJ$
- $EJ_{BD} = EJ$
- $EJ_{DC} = EJ$
- $EJ_{CE} = EJ$
- $EJ_{FG} = EJ$
- $EJ_{GD} = EJ$
- $EJ_{DH} = EJ$
- $EJ_{GA} = EJ$



← ⊕ →

↑ ⊕ ↓

ANALISI STRUTTURALE CON PLV

RIPORTARE SUL FILE "ESAME" SOLO LE SEGUENTI RICHIESTE

Sul fronte:

- 1) Declassamento con indicazione dell'iperstatica scelta
- 2) Diagrammi finali delle azioni interne
- 3) Sforzi richiesti
(nota: profilo COMPATTO)

Sul retro:

- 4) Analisi cinematica
- 5) Diagrammi del momento M_0 e M^*
- 6) Espressione del PLV
- 7) Valore numerico dell'iperstatica

Carichi e deformazioni date hanno verso efficace in disegno.

Calcolare reazioni vincolari della struttura e delle aste.

Tracciare i diagrammi quotati delle azioni interne nelle aste.

$J_{YZ} - x_{YZ} - \theta_{YZ}$ riferimento locale asta YZ con origine in Y.

La trave DC ha la sezione riportata e dimensioni in mm, con:

$b = 880 \text{ mm}$, $F = 1390 \text{ N}$

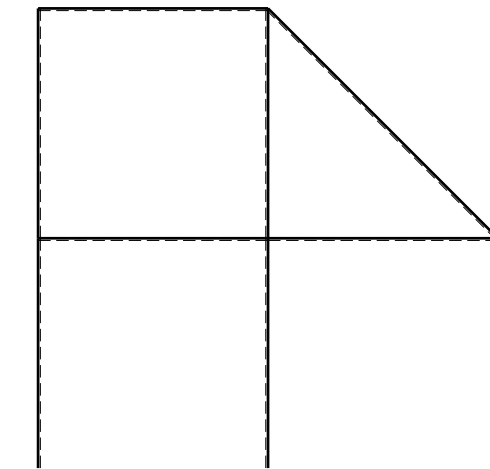

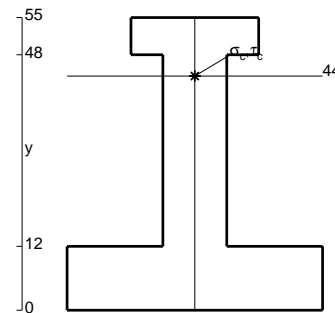
Calcolare sulla sezione C la massima tensione normale σ_m .

Calcolare in * le tensioni σ_c, τ_c e la tensione di von Mises.

Leombo inferiore sezione su tratteggio trave, a destra da D a C

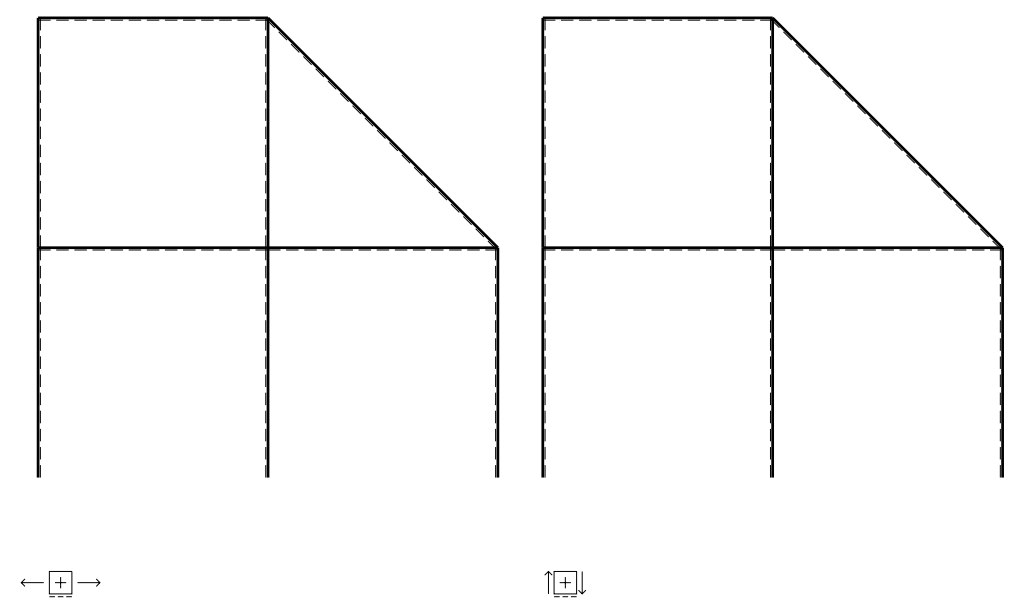
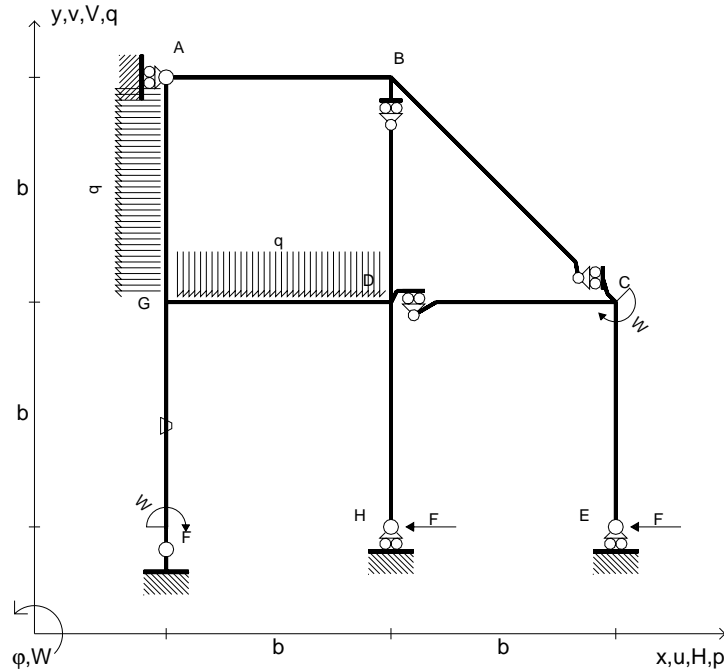
Curvatura θ asta FG positiva se convessa a destra con inizio F.

@ Adolfo Zavelani Rossi, Politecnico di Milano, vers.27.03.13



← ⊕ →

- $H_E = -F$
- $H_H = -F$
- $W_C = -W = -Fb$
- $W_F = -W = -Fb$
- $p_{GA} = -q = -F/b$
- $q_{GD} = -q = -F/b$
- $\theta_{FG} = -\theta = -\alpha T/b = -bF/EJ$
- $EJ_{AB} = EJ$
- $EJ_{BC} = EJ$
- $EJ_{BD} = EJ$
- $EJ_{DC} = EJ$
- $EJ_{CE} = EJ$
- $EJ_{FG} = EJ$
- $EJ_{GD} = EJ$
- $EJ_{DH} = EJ$
- $EJ_{GA} = EJ$



ANALISI STRUTTURALE CON PLV

RIPORTARE SUL FILE "ESAME" SOLO LE SEGUENTI RICHIESTE

Sul fronte:

- 1) Declassamento con indicazione dell'iperstatica scelta
- 2) Diagrammi finali delle azioni interne
- 3) Sforzi richiesti
(nota: profilo COMPATTO)

Sul retro:

- 4) Analisi cinematica
- 5) Diagrammi del momento M_0 e M^*
- 6) Espressione del PLV
- 7) Valore numerico dell'iperstatica

Carichi e deformazioni date hanno verso efficace in disegno.

Calcolare reazioni vincolari della struttura e delle aste.

Tracciare i diagrammi quotati delle azioni interne nelle aste.

$J_{YZ} - x_{YZ} - \theta_{YZ}$ riferimento locale asta YZ con origine in Y.

La trave DC ha la sezione riportata e dimensioni in mm, con:

$b = 930 \text{ mm}$, $F = 920 \text{ N}$

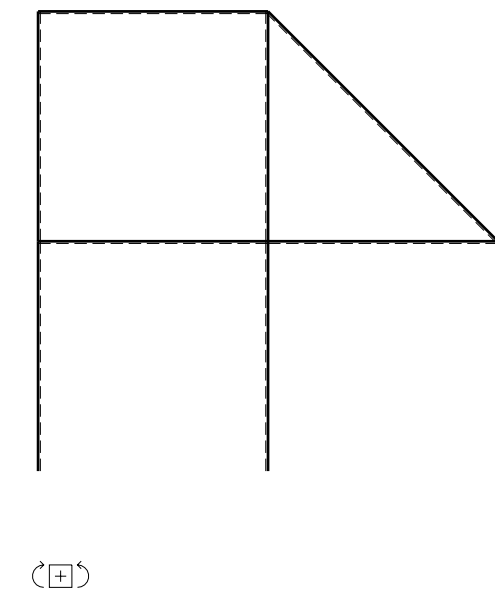
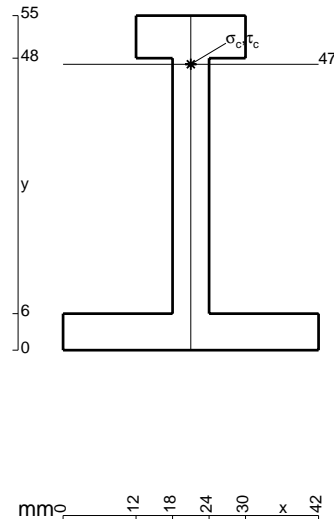
Calcolare sulla sezione C la massima tensione normale σ_m .

Calcolare in * le tensioni σ_c, τ_c e la tensione di von Mises.

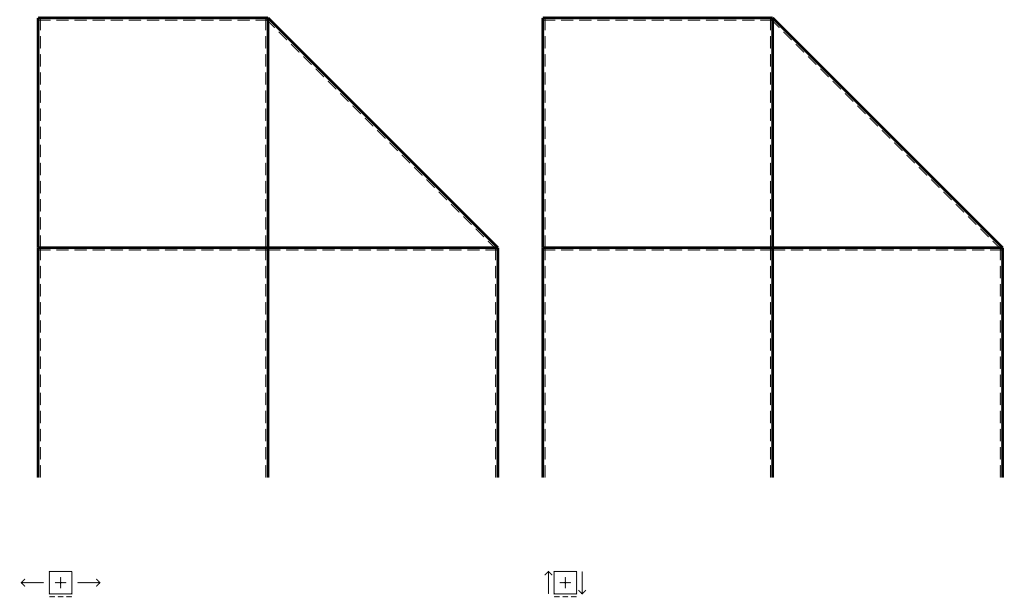
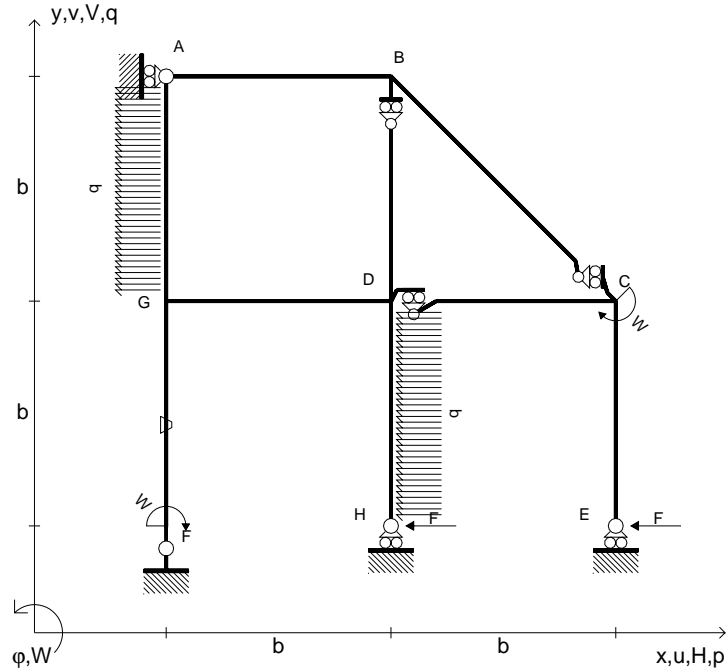
Leombo inferiore sezione su tratteggio trave, a destra da D a C

Curvatura θ asta FG positiva se convessa a destra con inizio F.

@ Adolfo Zavelani Rossi, Politecnico di Milano, vers.27.03.13



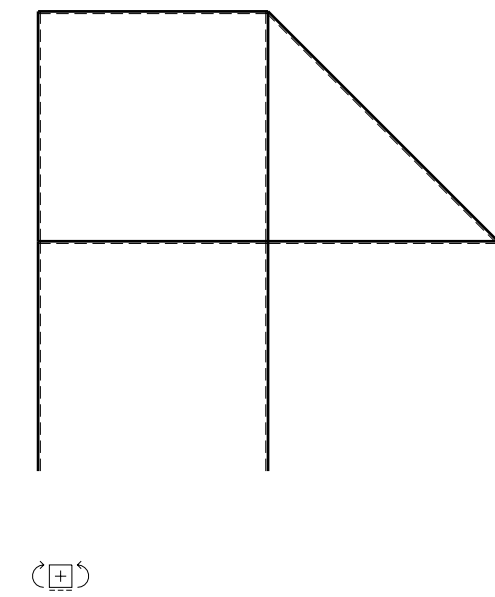
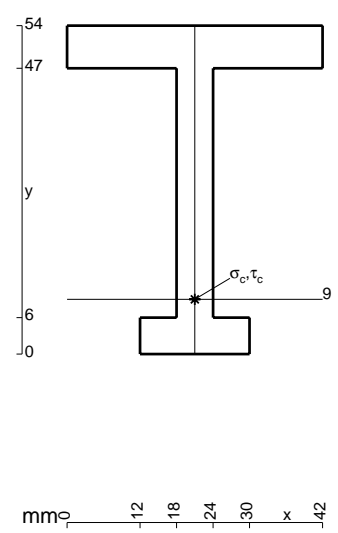
- $H_E = -F$
- $H_H = -F$
- $W_C = -W = -Fb$
- $W_F = -W = -Fb$
- $p_{GA} = -q = -F/b$
- $p_{DH} = -q = -F/b$
- $\theta_{FG} = -\theta = -\alpha T/b = -bF/EJ$
- $EJ_{AB} = EJ$
- $EJ_{BC} = EJ$
- $EJ_{BD} = EJ$
- $EJ_{DC} = EJ$
- $EJ_{CE} = EJ$
- $EJ_{FG} = EJ$
- $EJ_{GD} = EJ$
- $EJ_{DH} = EJ$
- $EJ_{GA} = EJ$



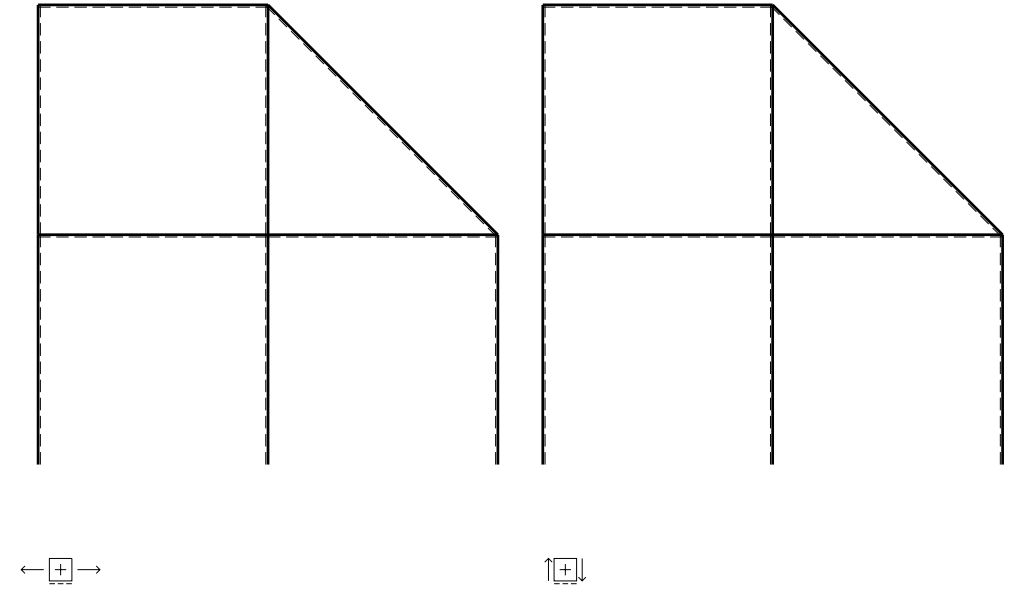
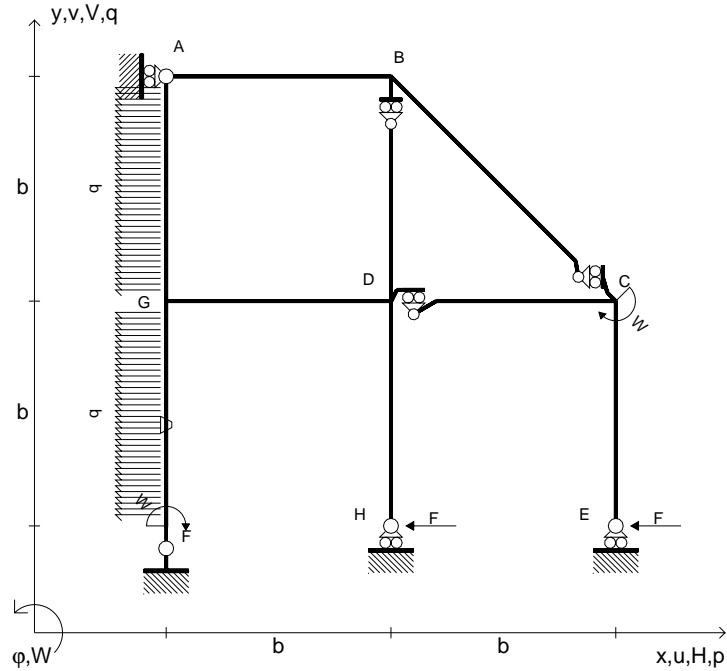
ANALISI STRUTTURALE CON PLV
 RIPORTARE SUL FILE "ESAME" SOLO LE SEGUENTI RICHIESTE

- Sul fronte:
- 1) Declassamento con indicazione dell'iperstatica scelta
 - 2) Diagrammi finali delle azioni interne
 - 3) Sforzi richiesti (nota: profilo COMPATTO)
- Sul retro:
- 4) Analisi cinematica
 - 5) Diagrammi del momento M_0 e M^*
 - 6) Espressione del PLV
 - 7) Valore numerico dell'iperstatica

Carichi e deformazioni date hanno verso efficace in disegno.
 Calcolare reazioni vincolari della struttura e delle aste.
 Tracciare i diagrammi quotati delle azioni interne nelle aste.
 $J_{YZ} - x_{YZ} - \theta_{YZ}$ riferimento locale asta YZ con origine in Y.
 La trave DC ha la sezione riportata e dimensioni in mm, con:
 $b = 960 \text{ mm}$, $F = 870 \text{ N}$
 Calcolare sulla sezione C la massima tensione normale σ_m .
 Calcolare in * le tensioni σ_c, τ_c e la tensione di von Mises.
 Lembo inferiore sezione su tratteggio trave, a destra da D a C
 Curvatura θ asta FG positiva se convessa a destra con inizio F.
 @ Adolfo Zavelani Rossi, Politecnico di Milano, vers.27.03.13



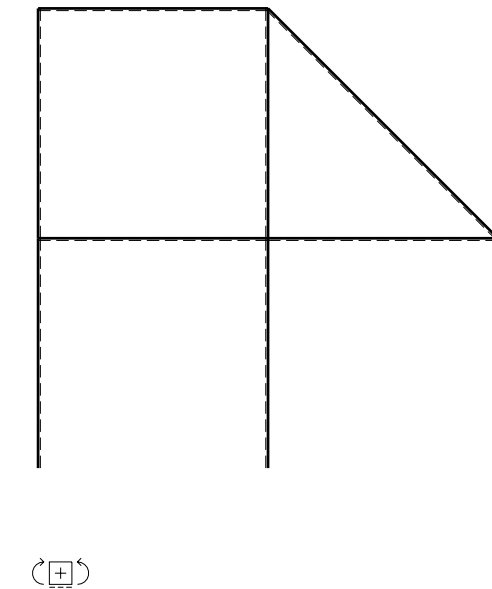
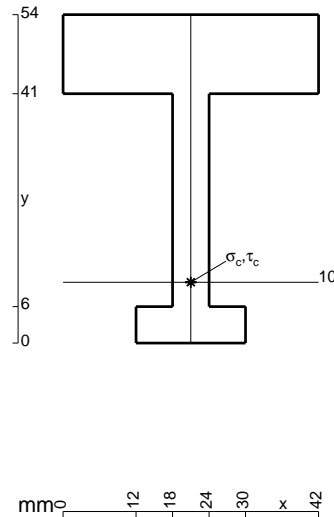
- $H_E = -F$
- $H_H = -F$
- $W_C = -W = -Fb$
- $W_F = -W = -Fb$
- $p_{GA} = -q = -F/b$
- $p_{FG} = -q = -F/b$
- $\theta_{FG} = -\theta = -\alpha T/b = -bF/EJ$
- $EJ_{AB} = EJ$
- $EJ_{BC} = EJ$
- $EJ_{BD} = EJ$
- $EJ_{DC} = EJ$
- $EJ_{CE} = EJ$
- $EJ_{FG} = EJ$
- $EJ_{GD} = EJ$
- $EJ_{DH} = EJ$
- $EJ_{GA} = EJ$



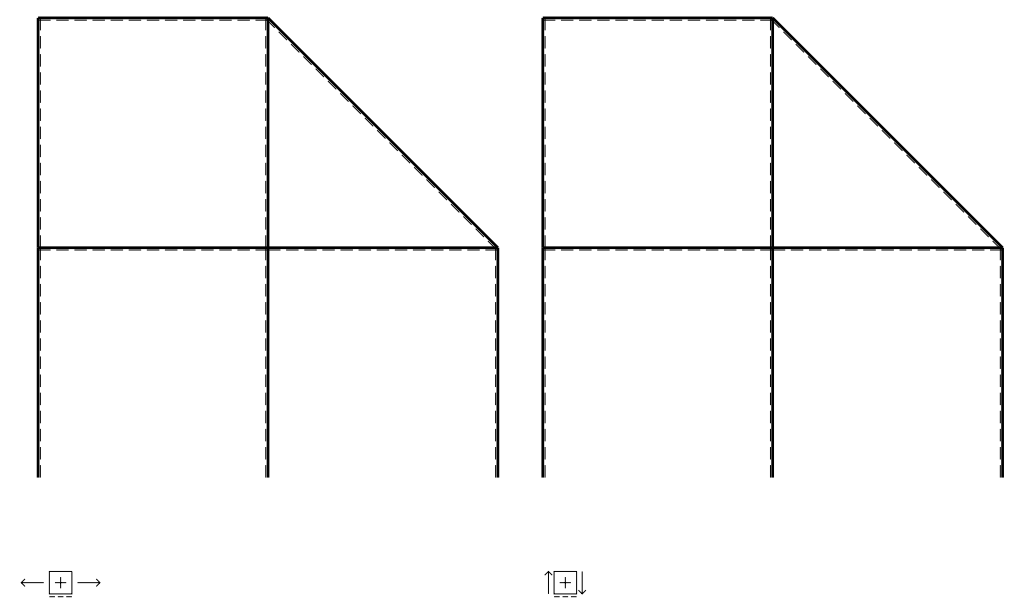
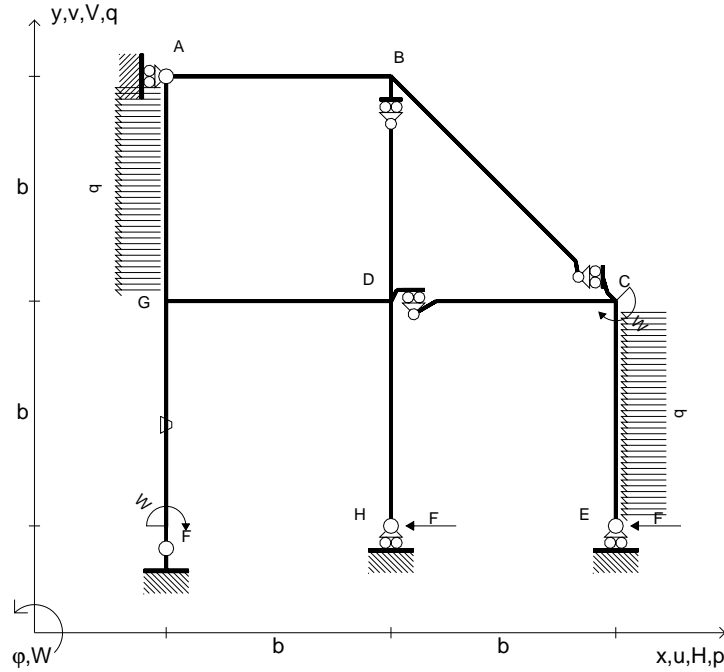
ANALISI STRUTTURALE CON PLV
 RIPORTARE SUL FILE "ESAME" SOLO LE SEGUENTI RICHIESTE

- Sul fronte:
- 1) Declassamento con indicazione dell'iperstatica scelta
 - 2) Diagrammi finali delle azioni interne
 - 3) Sforzi richiesti (nota: profilo COMPATTO)
- Sul retro:
- 4) Analisi cinematica
 - 5) Diagrammi del momento M_0 e M^*
 - 6) Espressione del PLV
 - 7) Valore numerico dell'iperstatica

Carichi e deformazioni date hanno verso efficace in disegno.
 Calcolare reazioni vincolari della struttura e delle aste.
 Tracciare i diagrammi quotati delle azioni interne nelle aste.
 $J_{YZ} - x_{YZ} - \theta_{YZ}$ riferimento locale asta YZ con origine in Y.
 La trave DC ha la sezione riportata e dimensioni in mm, con:
 $b = 510 \text{ mm}$, $F = 1360 \text{ N}$
 Calcolare sulla sezione C la massima tensione normale σ_m .
 Calcolare in * le tensioni σ_c, τ_c e la tensione di von Mises.
 Lembo inferiore sezione su tratteggio trave, a destra da D a C
 Curvatura θ asta FG positiva se convessa a destra con inizio F.
 © Adolfo Zavelani Rossi, Politecnico di Milano, vers.27.03.13



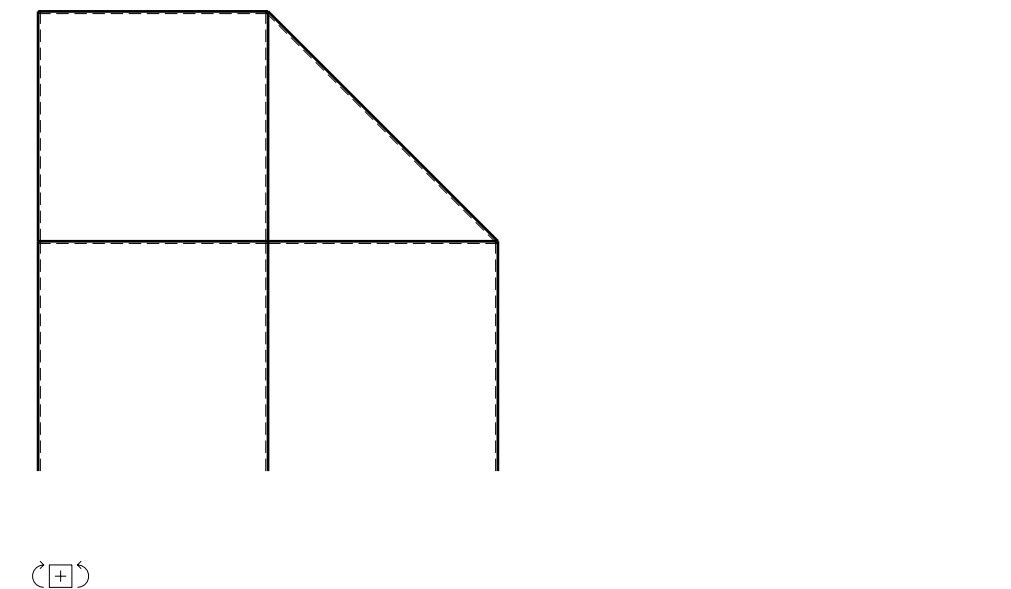
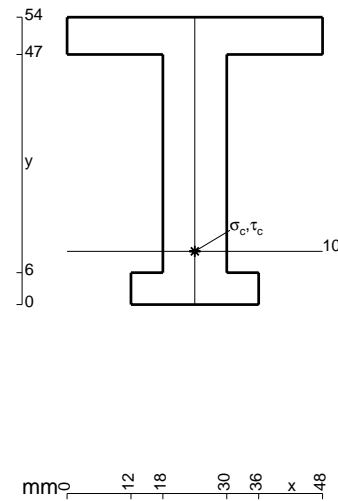
- $H_E = -F$
- $H_H = -F$
- $W_C = -W = -Fb$
- $W_F = -W = -Fb$
- $p_{GA} = -q = -F/b$
- $p_{CE} = -q = -F/b$
- $\theta_{FG} = -\theta = -\alpha T/b = -bF/EJ$
- $EJ_{AB} = EJ$
- $EJ_{BC} = EJ$
- $EJ_{BD} = EJ$
- $EJ_{DC} = EJ$
- $EJ_{CE} = EJ$
- $EJ_{FG} = EJ$
- $EJ_{GD} = EJ$
- $EJ_{DH} = EJ$
- $EJ_{GA} = EJ$



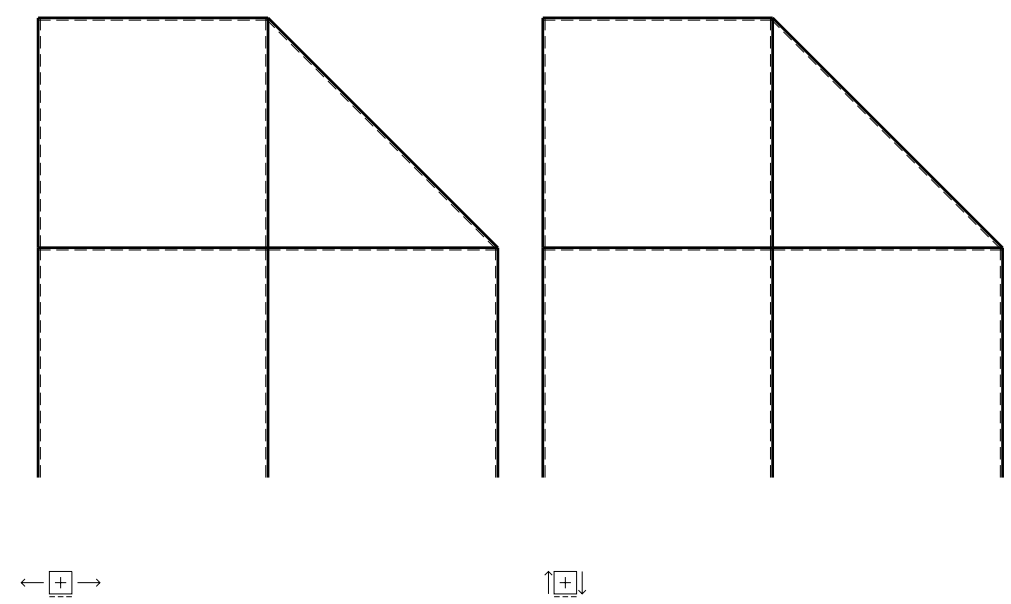
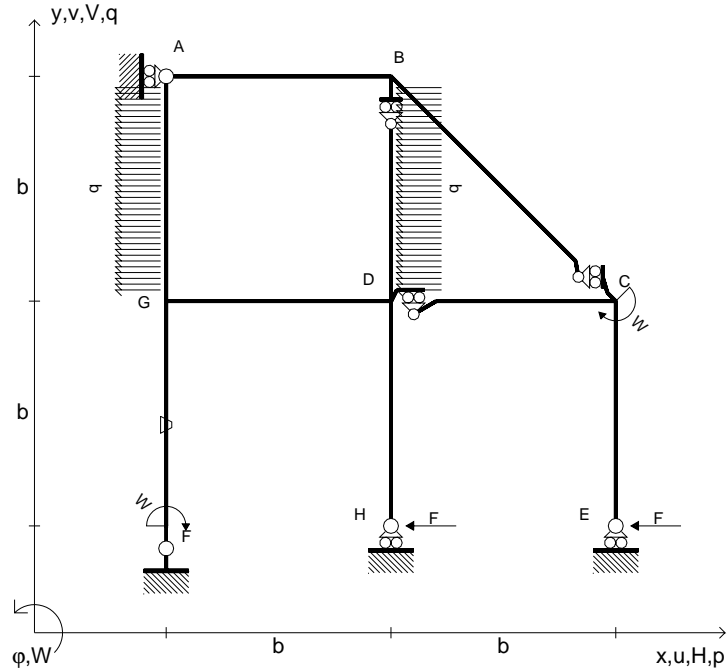
ANALISI STRUTTURALE CON PLV
 RIPORTARE SUL FILE "ESAME" SOLO LE SEGUENTI RICHIESTE

- Sul fronte:
- 1) Declassamento con indicazione dell'iperstatica scelta
 - 2) Diagrammi finali delle azioni interne
 - 3) Sforzi richiesti (nota: profilo COMPATTO)
- Sul retro:
- 4) Analisi cinematica
 - 5) Diagrammi del momento M0 e M*
 - 6) Espressione del PLV
 - 7) Valore numerico dell'iperstatica

Carichi e deformazioni date hanno verso efficace in disegno.
 Calcolare reazioni vincolari della struttura e delle aste.
 Tracciare i diagrammi quotati delle azioni interne nelle aste.
 $J_{YZ} - x_{YZ} - \theta_{YZ}$ riferimento locale asta YZ con origine in Y.
 La trave DC ha la sezione riportata e dimensioni in mm, con:
 $b = 560 \text{ mm}$, $F = 1530 \text{ N}$
 Calcolare sulla sezione C la massima tensione normale σ_m .
 Calcolare in * le tensioni σ_c, τ_c e la tensione di von Mises.
 Lembo inferiore sezione su tratteggio trave, a destra da D a C
 Curvatura θ asta FG positiva se convessa a destra con inizio F.
 @ Adolfo Zavelani Rossi, Politecnico di Milano, vers.27.03.13



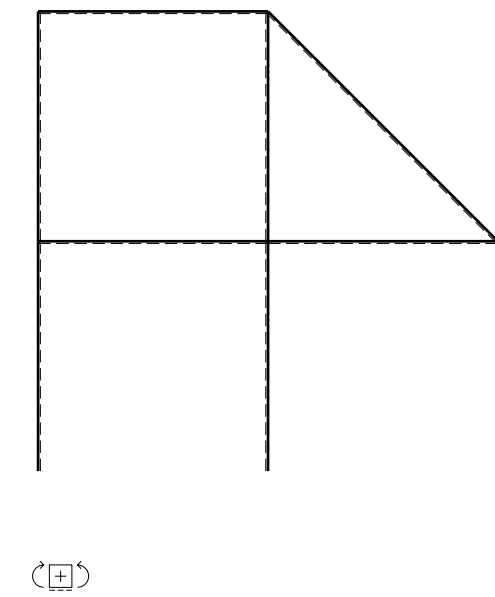
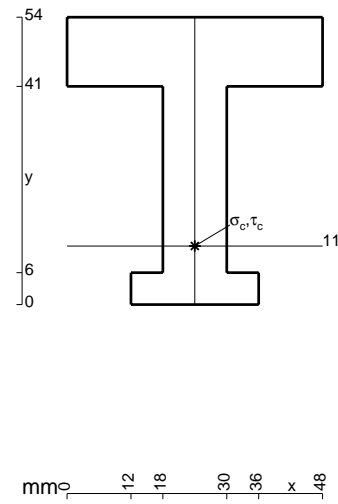
- $H_E = -F$
- $H_H = -F$
- $W_C = -W = -Fb$
- $W_F = -W = -Fb$
- $p_{GA} = -q = -F/b$
- $p_{BD} = -q = -F/b$
- $\theta_{FG} = -\theta = -\alpha T/b = -bF/EJ$
- $EJ_{AB} = EJ$
- $EJ_{BC} = EJ$
- $EJ_{BD} = EJ$
- $EJ_{DC} = EJ$
- $EJ_{CE} = EJ$
- $EJ_{FG} = EJ$
- $EJ_{GD} = EJ$
- $EJ_{DH} = EJ$
- $EJ_{GA} = EJ$



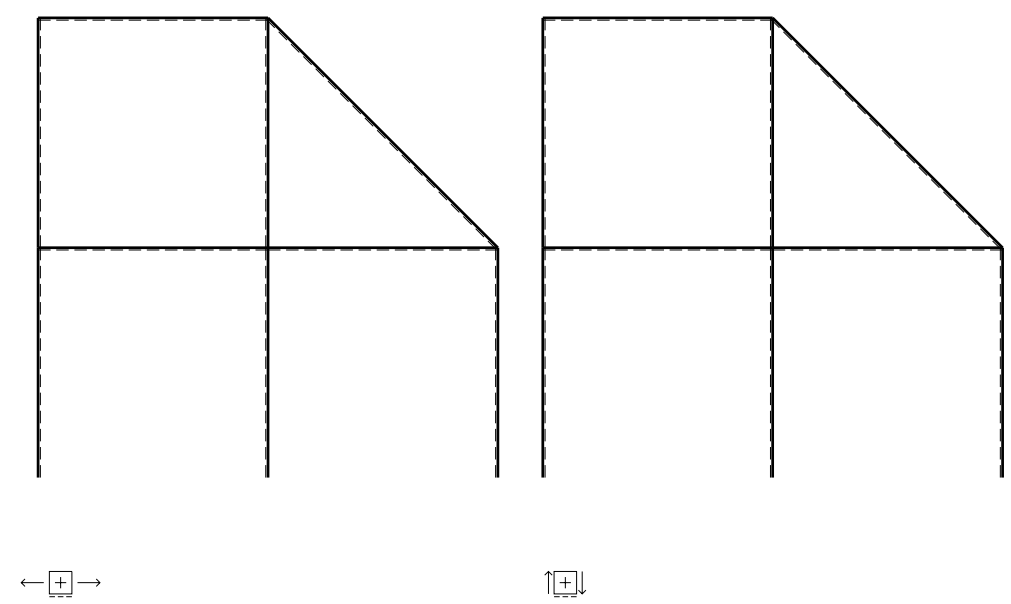
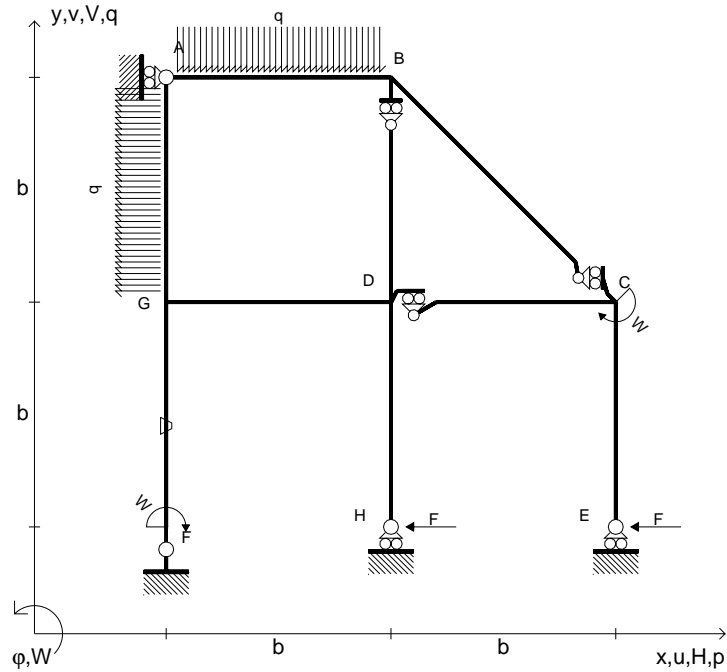
ANALISI STRUTTURALE CON PLV
 RIPORTARE SUL FILE "ESAME" SOLO LE SEGUENTI RICHIESTE

- Sul fronte:
- 1) Declassamento con indicazione dell'iperstatica scelta
 - 2) Diagrammi finali delle azioni interne
 - 3) Sforzi richiesti (nota: profilo COMPATTO)
- Sul retro:
- 4) Analisi cinematica
 - 5) Diagrammi del momento M_0 e M^*
 - 6) Espressione del PLV
 - 7) Valore numerico dell'iperstatica

Carichi e deformazioni date hanno verso efficace in disegno.
 Calcolare reazioni vincolari della struttura e delle aste.
 Tracciare i diagrammi quotati delle azioni interne nelle aste.
 $J_{YZ} - x_{YZ} - \theta_{YZ}$ riferimento locale asta YZ con origine in Y.
 La trave DC ha la sezione riportata e dimensioni in mm, con:
 $b = 610 \text{ mm}$, $F = 1870 \text{ N}$
 Calcolare sulla sezione C la massima tensione normale σ_m .
 Calcolare in * le tensioni σ_c, τ_c e la tensione di von Mises.
 Lembo inferiore sezione su tratteggio trave, a destra da D a C
 Curvatura θ asta FG positiva se convessa a destra con inizio F.
 © Adolfo Zavelani Rossi, Politecnico di Milano, vers.27.03.13



- $H_E = -F$
- $H_H = -F$
- $W_C = -W = -Fb$
- $W_F = -W = -Fb$
- $p_{GA} = -q = -F/b$
- $q_{AB} = -q = -F/b$
- $\theta_{FG} = -\theta = -\alpha T/b = -bF/EJ$
- $EJ_{AB} = EJ$
- $EJ_{BC} = EJ$
- $EJ_{BD} = EJ$
- $EJ_{DC} = EJ$
- $EJ_{CE} = EJ$
- $EJ_{FG} = EJ$
- $EJ_{GD} = EJ$
- $EJ_{DH} = EJ$
- $EJ_{GA} = EJ$



ANALISI STRUTTURALE CON PLV

RIPORTARE SUL FILE "ESAME" SOLO LE SEGUENTI RICHIESTE

Sul fronte:

- 1) Declassamento con indicazione dell'iperstatica scelta
- 2) Diagrammi finali delle azioni interne
- 3) Sforzi richiesti (nota: profilo COMPATTO)

Sul retro:

- 4) Analisi cinematica
- 5) Diagrammi del momento M_0 e M^*
- 6) Espressione del PLV
- 7) Valore numerico dell'iperstatica

Carichi e deformazioni date hanno verso efficace in disegno.

Calcolare reazioni vincolari della struttura e delle aste.

Tracciare i diagrammi quotati delle azioni interne nelle aste.

$J_{YZ} - x_{YZ} - \theta_{YZ}$ riferimento locale asta YZ con origine in Y.

La trave DC ha la sezione riportata e dimensioni in mm, con:

$b = 660 \text{ mm}$, $F = 1530 \text{ N}$

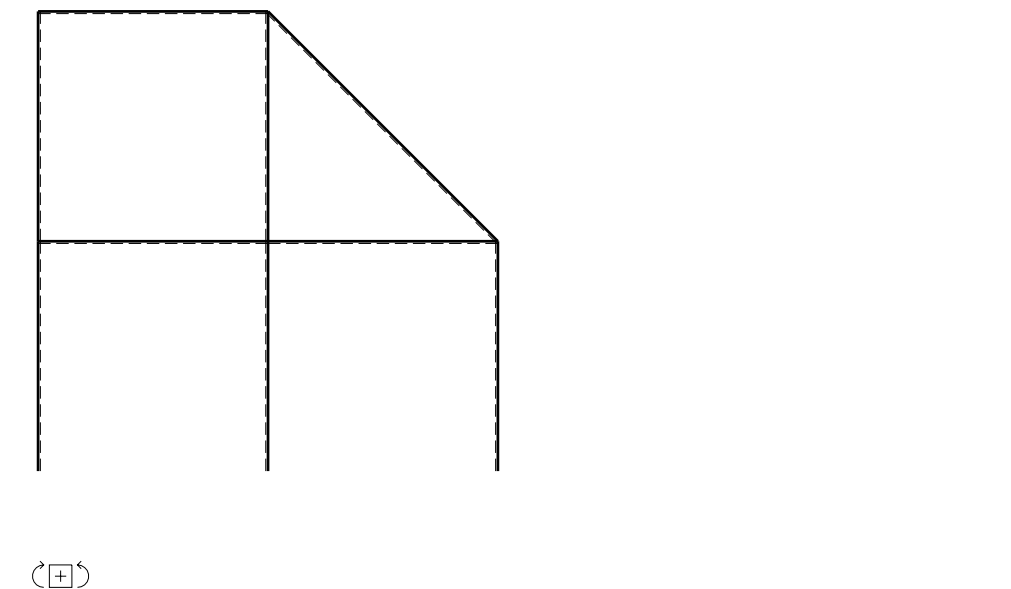
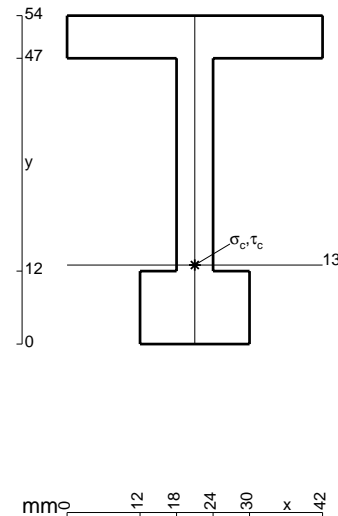
Calcolare sulla sezione C la massima tensione normale σ_m .

Calcolare in * le tensioni σ_c, τ_c e la tensione di von Mises.

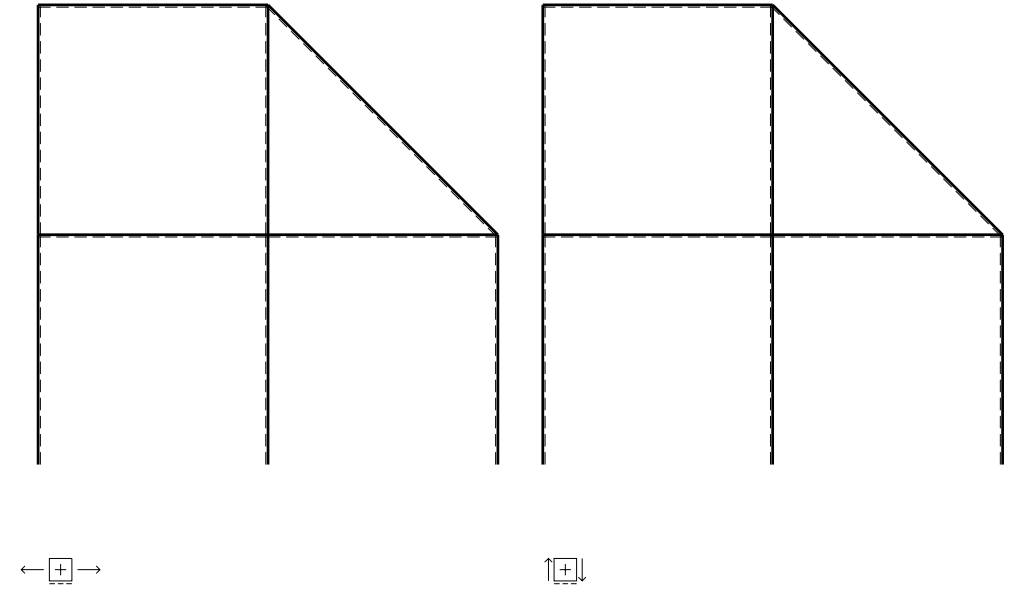
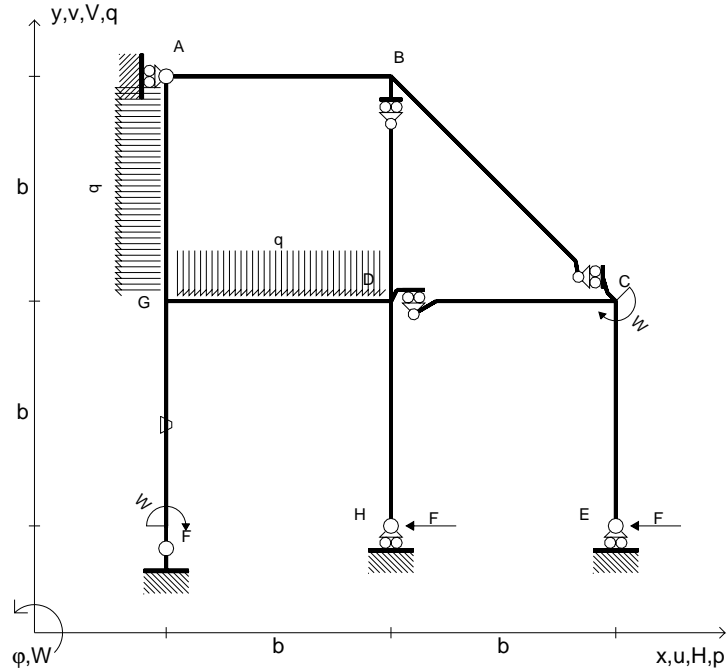
Leombo inferiore sezione su tratteggio trave, a destra da D a C

Curvatura θ asta FG positiva se convessa a destra con inizio F.

@ Adolfo Zavelani Rossi, Politecnico di Milano, vers.27.03.13



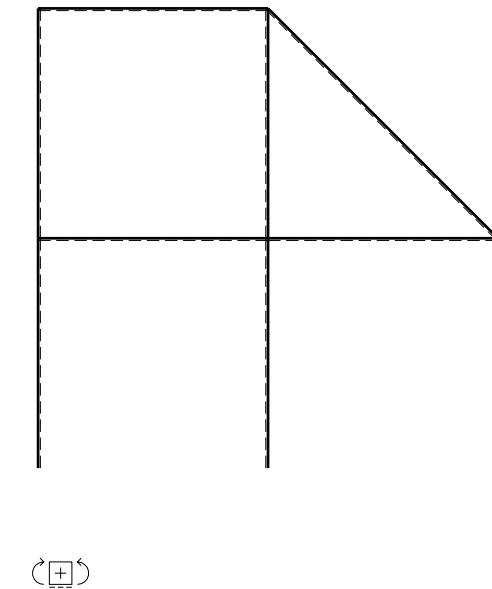
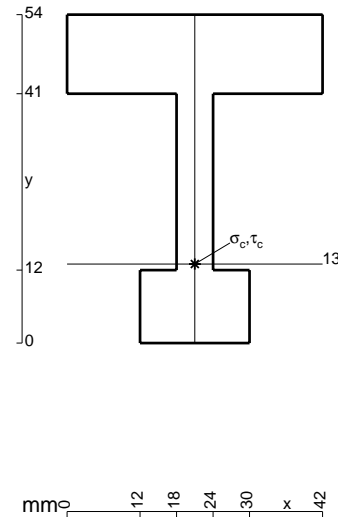
- $H_E = -F$
- $H_H = -F$
- $W_C = -W = -Fb$
- $W_F = -W = -Fb$
- $q_{GD} = -q = -F/b$
- $p_{GA} = -q = -F/b$
- $\theta_{FG} = -\theta = -\alpha T/b = -bF/EJ$
- $EJ_{AB} = EJ$
- $EJ_{BC} = EJ$
- $EJ_{BD} = EJ$
- $EJ_{DC} = EJ$
- $EJ_{CE} = EJ$
- $EJ_{FG} = EJ$
- $EJ_{GD} = EJ$
- $EJ_{DH} = EJ$
- $EJ_{GA} = EJ$



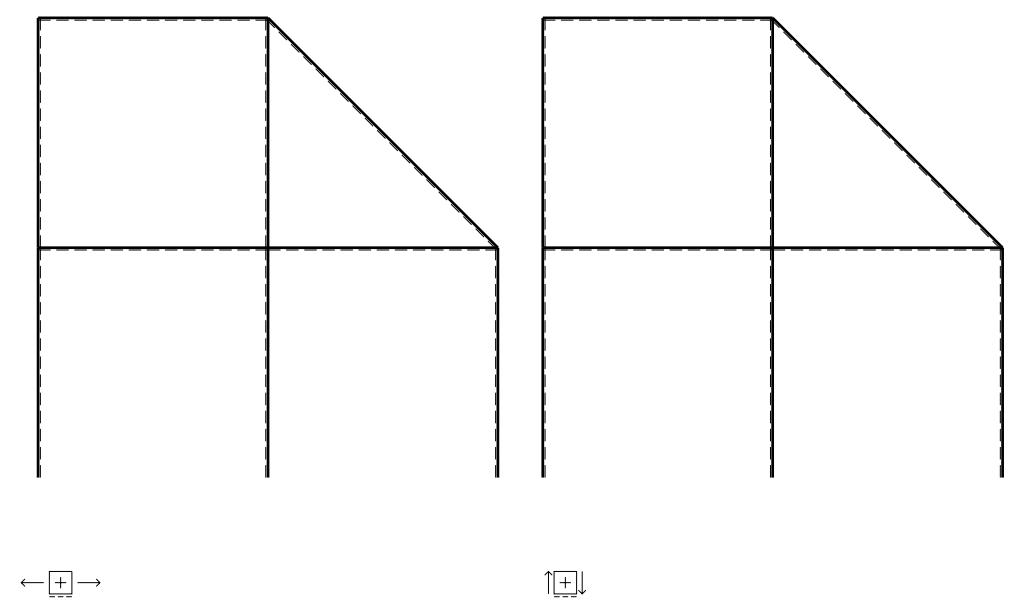
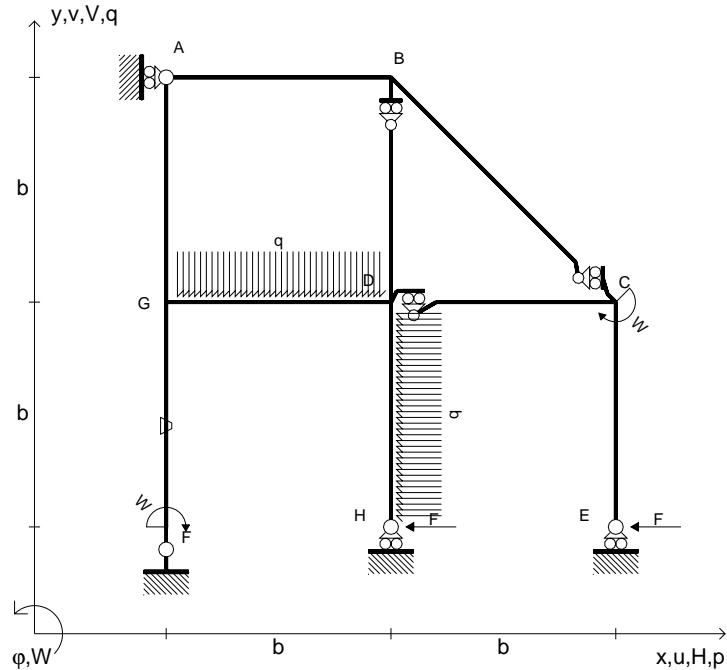
ANALISI STRUTTURALE CON PLV
 RIPORTARE SUL FILE "ESAME" SOLO LE SEGUENTI RICHIESTE

- Sul fronte:
- 1) Declassamento con indicazione dell'iperstatica scelta
 - 2) Diagrammi finali delle azioni interne
 - 3) Sforzi richiesti
(nota: profilo COMPATTO)
- Sul retro:
- 4) Analisi cinematica
 - 5) Diagrammi del momento M_0 e M^*
 - 6) Espressione del PLV
 - 7) Valore numerico dell'iperstatica

Carichi e deformazioni date hanno verso efficace in disegno.
 Calcolare reazioni vincolari della struttura e delle aste.
 Tracciare i diagrammi quotati delle azioni interne nelle aste.
 $J_{YZ} - x_{YZ} - \theta_{YZ}$ riferimento locale asta YZ con origine in Y.
 La trave DC ha la sezione riportata e dimensioni in mm, con:
 $b = 710 \text{ mm}$, $F = 1490 \text{ N}$
 Calcolare sulla sezione C la massima tensione normale σ_m .
 Calcolare in * le tensioni σ_c, τ_c e la tensione di von Mises.
 Lembo inferiore sezione su tratteggio trave, a destra da D a C
 Curvatura θ asta FG positiva se convessa a destra con inizio F.
 @ Adolfo Zavelani Rossi, Politecnico di Milano, vers.27.03.13



- $H_E = -F$
- $H_H = -F$
- $W_C = -W = -Fb$
- $W_F = -W = -Fb$
- $q_{GD} = -q = -F/b$
- $p_{DH} = -q = -F/b$
- $\theta_{FG} = -\theta = -\alpha T/b = -bF/EJ$
- $EJ_{AB} = EJ$
- $EJ_{BC} = EJ$
- $EJ_{BD} = EJ$
- $EJ_{DC} = EJ$
- $EJ_{CE} = EJ$
- $EJ_{FG} = EJ$
- $EJ_{GD} = EJ$
- $EJ_{DH} = EJ$
- $EJ_{GA} = EJ$



ANALISI STRUTTURALE CON PLV

RIPORTARE SUL FILE "ESAME" SOLO LE SEGUENTI RICHIESTE

Sul fronte:

- 1) Declassamento con indicazione dell'iperstatica scelta
- 2) Diagrammi finali delle azioni interne
- 3) Sforzi richiesti (nota: profilo COMPATTO)

Sul retro:

- 4) Analisi cinematica
- 5) Diagrammi del momento M_0 e M^*
- 6) Espressione del PLV
- 7) Valore numerico dell'iperstatica

Carichi e deformazioni date hanno verso efficace in disegno.

Calcolare reazioni vincolari della struttura e delle aste.

Tracciare i diagrammi quotati delle azioni interne nelle aste.

$J_{YZ} - x_{YZ} - \theta_{YZ}$ riferimento locale asta YZ con origine in Y.

La trave DC ha la sezione riportata e dimensioni in mm, con:

$b = 760 \text{ mm}$, $F = 1560 \text{ N}$

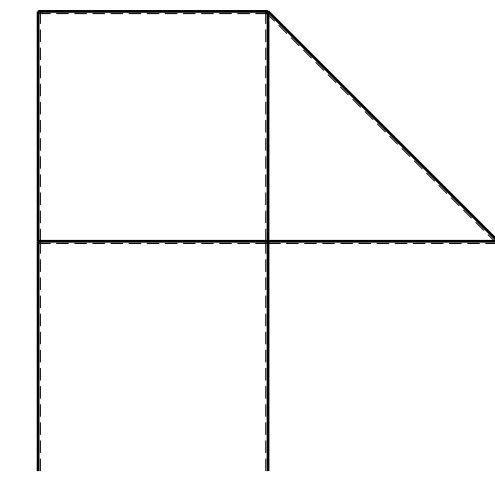
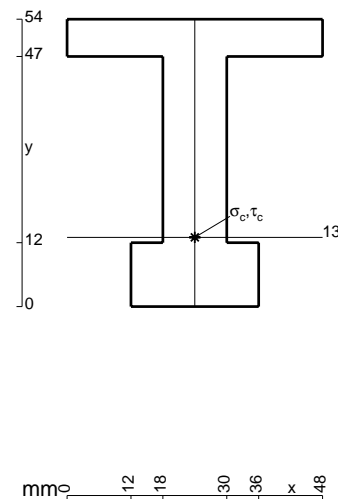
Calcolare sulla sezione C la massima tensione normale σ_m .

Calcolare in * le tensioni σ_c, τ_c e la tensione di von Mises.

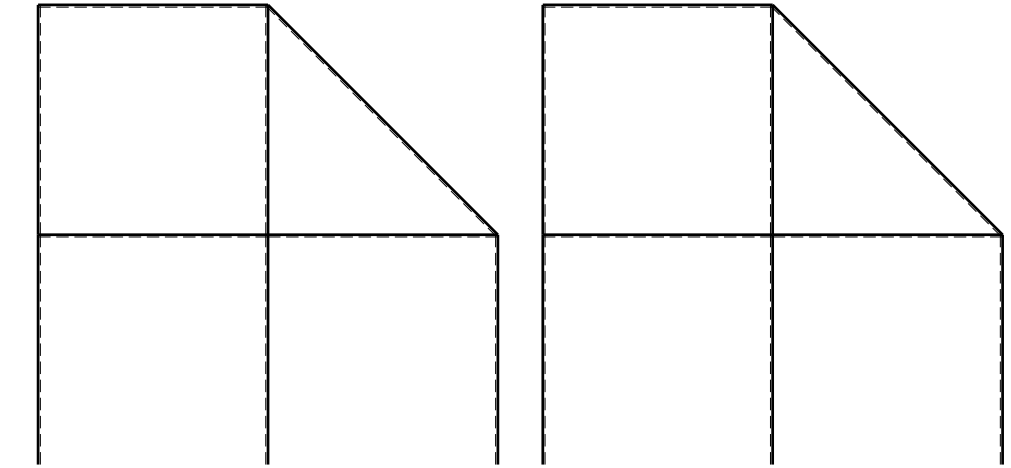
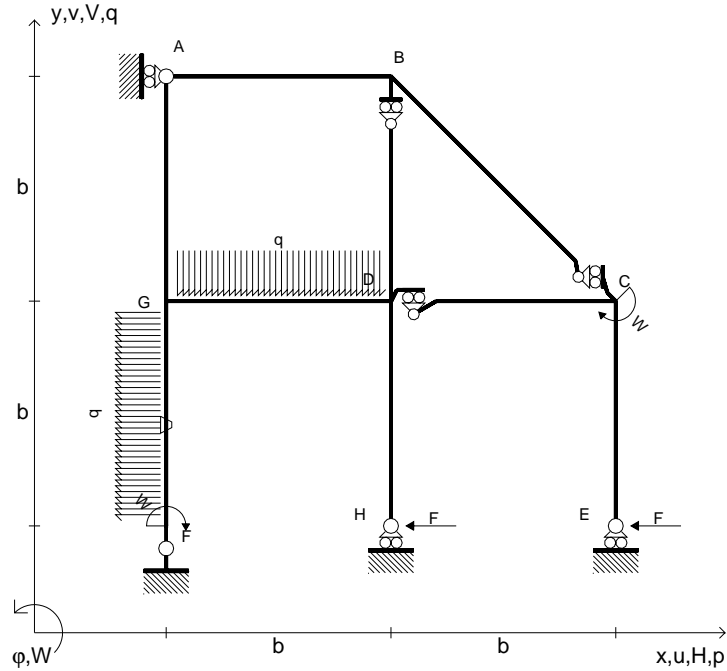
Le mbo inferiore sezione su tratteggio trave, a destra da D a C

Curvatura θ asta FG positiva se convessa a destra con inizio F.

@ Adolfo Zavelani Rossi, Politecnico di Milano, vers.27.03.13



- $H_E = -F$
- $H_H = -F$
- $W_C = -W = -Fb$
- $W_F = -W = -Fb$
- $q_{GD} = -q = -F/b$
- $p_{FG} = -q = -F/b$
- $\theta_{FG} = -\theta = -\alpha T/b = -bF/EJ$
- $EJ_{AB} = EJ$
- $EJ_{BC} = EJ$
- $EJ_{BD} = EJ$
- $EJ_{DC} = EJ$
- $EJ_{CE} = EJ$
- $EJ_{FG} = EJ$
- $EJ_{GD} = EJ$
- $EJ_{DH} = EJ$
- $EJ_{GA} = EJ$



← ⊕ →

↑ ⊕ ↓

ANALISI STRUTTURALE CON PLV

RIPORTARE SUL FILE "ESAME" SOLO LE SEGUENTI RICHIESTE

Sul fronte:

- 1) Declassamento con indicazione dell'iperstatica scelta
- 2) Diagrammi finali delle azioni interne
- 3) Sforzi richiesti (nota: profilo COMPATTO)

Sul retro:

- 4) Analisi cinematica
- 5) Diagrammi del momento M_0 e M^*
- 6) Espressione del PLV
- 7) Valore numerico dell'iperstatica

Carichi e deformazioni date hanno verso efficace in disegno.

Calcolare reazioni vincolari della struttura e delle aste.

Tracciare i diagrammi quotati delle azioni interne nelle aste.

$J_{YZ} - x_{YZ} - \theta_{YZ}$ riferimento locale asta YZ con origine in Y.

La trave DC ha la sezione riportata e dimensioni in mm, con:

$b = 810 \text{ mm}$, $F = 1570 \text{ N}$

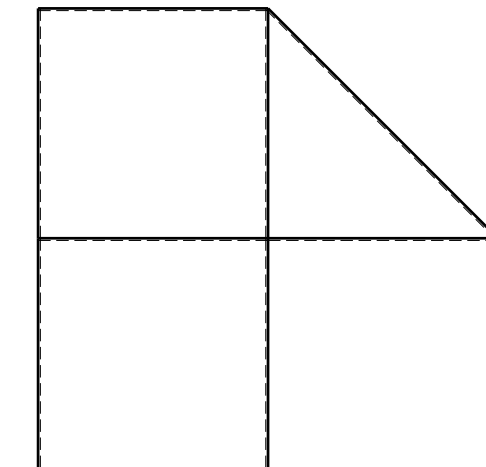
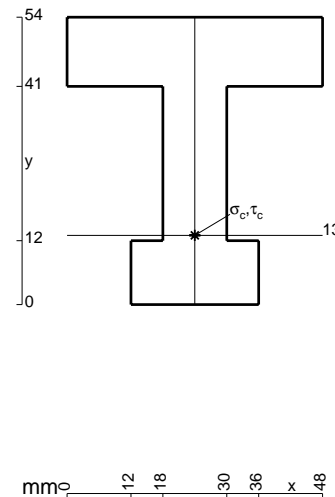
Calcolare sulla sezione C la massima tensione normale σ_m .

Calcolare in * le tensioni σ_c, τ_c e la tensione di von Mises.

Leombo inferiore sezione su tratteggio trave, a destra da D a C

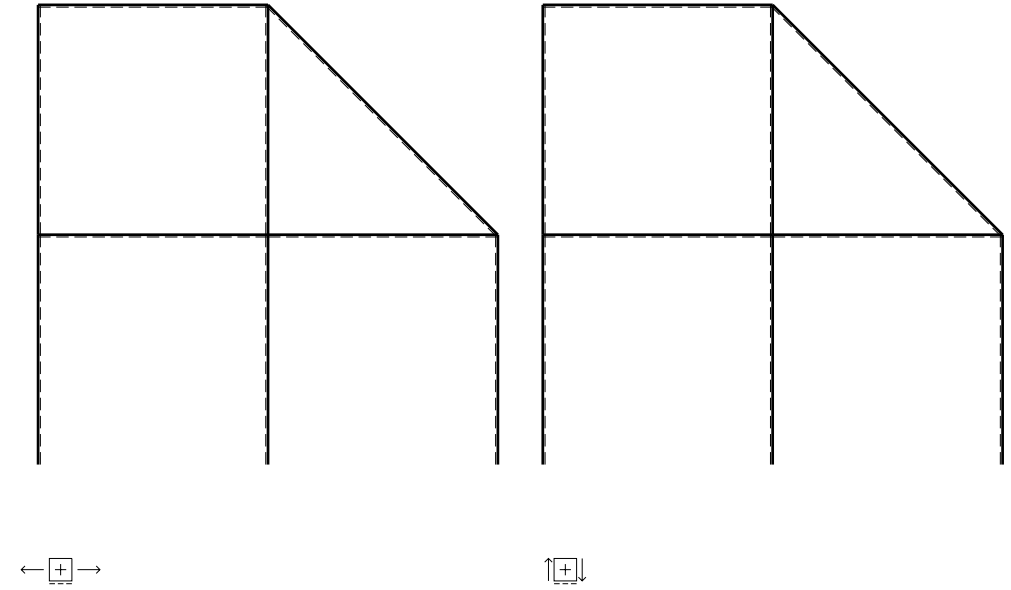
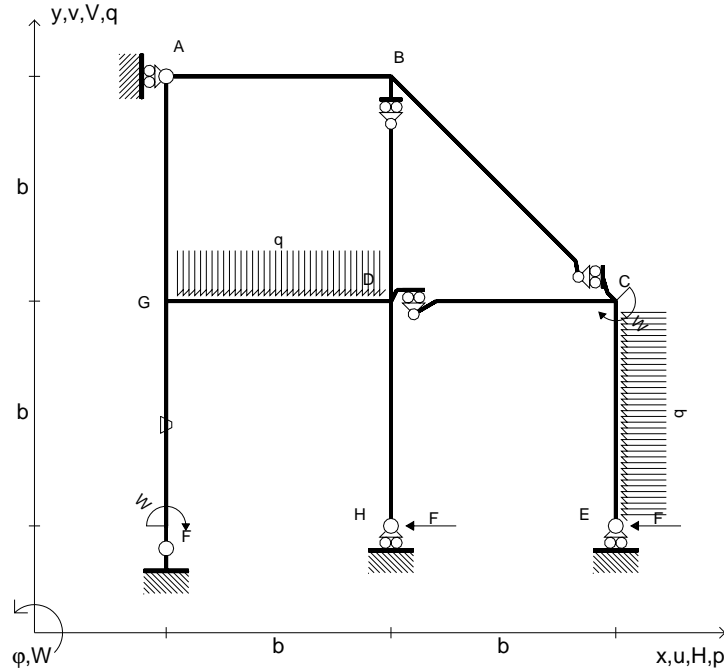
Curvatura θ asta FG positiva se convessa a destra con inizio F.

@ Adolfo Zavelani Rossi, Politecnico di Milano, vers.27.03.13



⊕ ↺

- $H_E = -F$
- $H_H = -F$
- $W_C = -W = -Fb$
- $W_F = -W = -Fb$
- $q_{GD} = -q = -F/b$
- $p_{CE} = -q = -F/b$
- $\theta_{FG} = -\theta = -\alpha T/b = -bF/EJ$
- $EJ_{AB} = EJ$
- $EJ_{BC} = EJ$
- $EJ_{BD} = EJ$
- $EJ_{DC} = EJ$
- $EJ_{CE} = EJ$
- $EJ_{FG} = EJ$
- $EJ_{GD} = EJ$
- $EJ_{DH} = EJ$
- $EJ_{GA} = EJ$



ANALISI STRUTTURALE CON PLV
 RIPORTARE SUL FILE "ESAME" SOLO LE SEGUENTI RICHIESTE

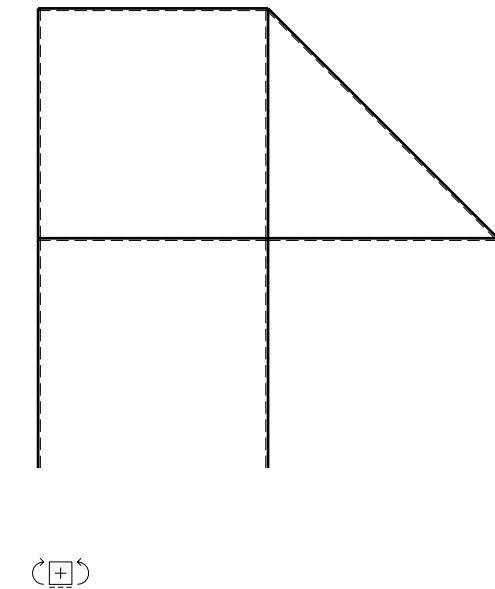
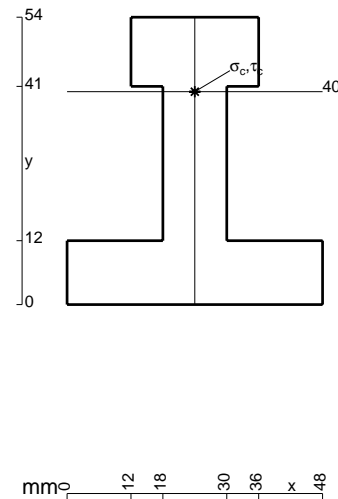
- Sul fronte:
- 1) Declassamento con indicazione dell'iperstatica scelta
 - 2) Diagrammi finali delle azioni interne
 - 3) Sforzi richiesti (nota: profilo COMPATTO)

- Sul retro:
- 4) Analisi cinematica
 - 5) Diagrammi del momento M_0 e M^*
 - 6) Espressione del PLV
 - 7) Valore numerico dell'iperstatica

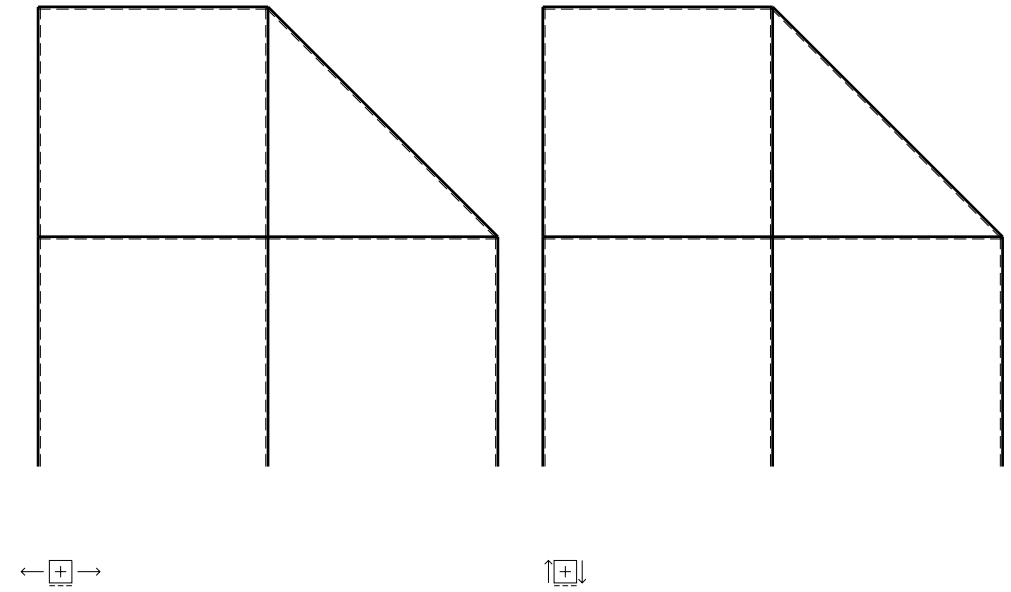
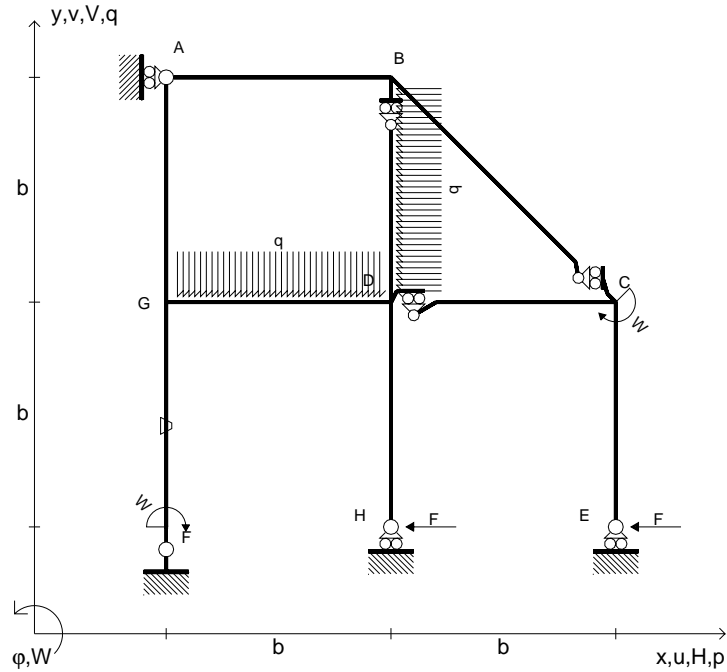
Carichi e deformazioni date hanno verso efficace in disegno.
 Calcolare reazioni vincolari della struttura e delle aste.
 Tracciare i diagrammi quotati delle azioni interne nelle aste.

$J_{YZ} - x_{YZ} - \theta_{YZ}$ riferimento locale asta YZ con origine in Y.
 La trave DC ha la sezione riportata e dimensioni in mm, con:
 $b = 860 \text{ mm}$, $F = 1260 \text{ N}$

Calcolare sulla sezione C la massima tensione normale σ_m .
 Calcolare in * le tensioni σ_c, τ_c e la tensione di von Mises.
 Lembo inferiore sezione su tratteggio trave, a destra da D a C
 Curvatura θ asta FG positiva se convessa a destra con inizio F.
 © Adolfo Zavelani Rossi, Politecnico di Milano, vers.27.03.13



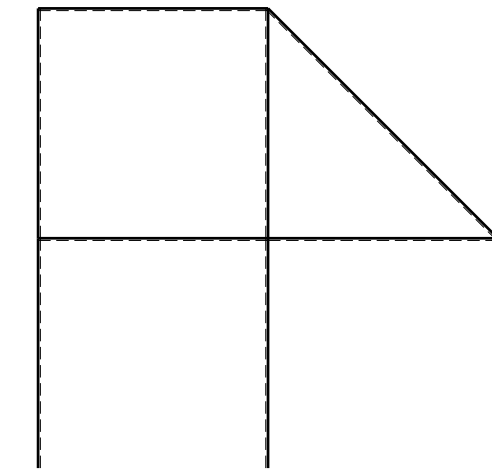
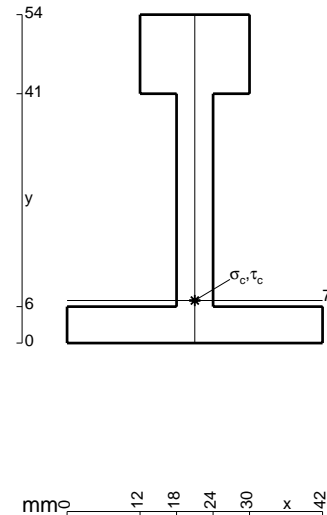
- $H_E = -F$
- $H_H = -F$
- $W_C = -W = -Fb$
- $W_F = -W = -Fb$
- $q_{GD} = -q = -F/b$
- $p_{BD} = -q = -F/b$
- $\theta_{FG} = -\theta = -\alpha T/b = -bF/EJ$
- $EJ_{AB} = EJ$
- $EJ_{BC} = EJ$
- $EJ_{BD} = EJ$
- $EJ_{DC} = EJ$
- $EJ_{CE} = EJ$
- $EJ_{FG} = EJ$
- $EJ_{GD} = EJ$
- $EJ_{DH} = EJ$
- $EJ_{GA} = EJ$



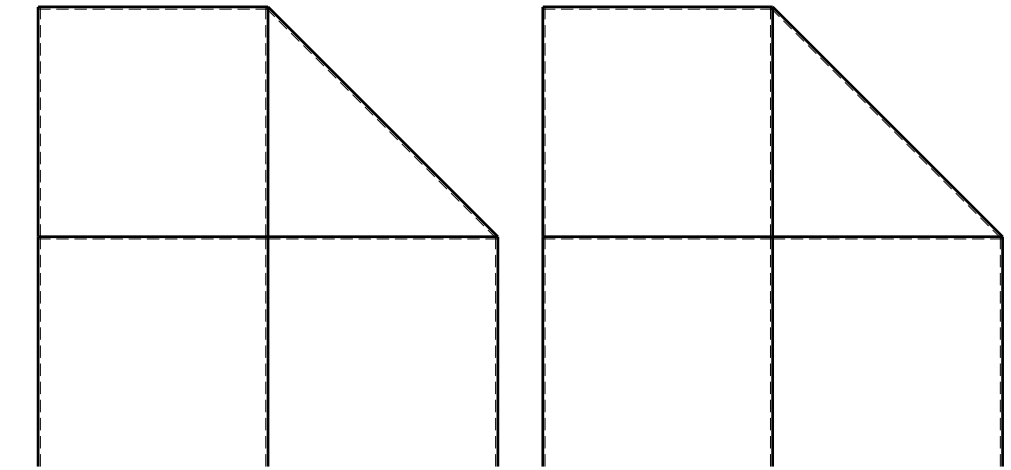
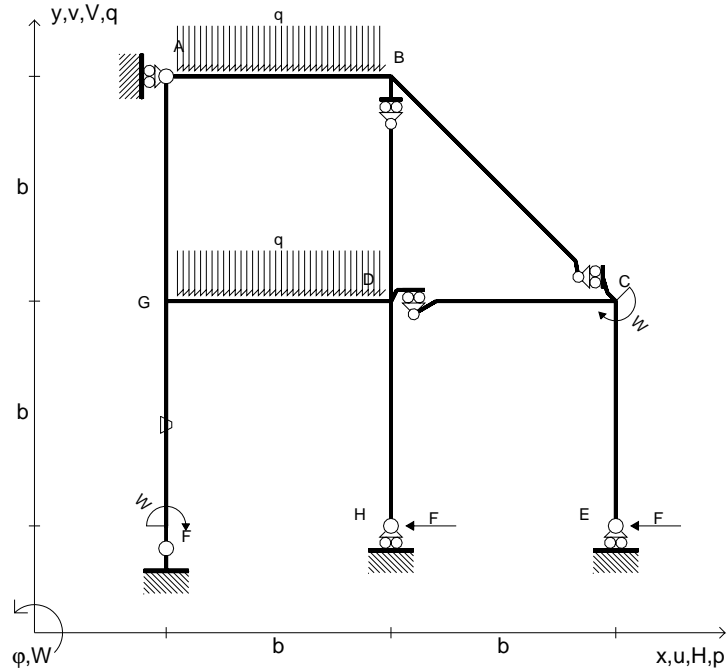
ANALISI STRUTTURALE CON PLV
 RIPORTARE SUL FILE "ESAME" SOLO LE SEGUENTI RICHIESTE

- Sul fronte:
- 1) Declassamento con indicazione dell'iperstatica scelta
 - 2) Diagrammi finali delle azioni interne
 - 3) Sforzi richiesti
(nota: profilo COMPATTO)
- Sul retro:
- 4) Analisi cinematica
 - 5) Diagrammi del momento M_0 e M^*
 - 6) Espressione del PLV
 - 7) Valore numerico dell'iperstatica

Carichi e deformazioni date hanno verso efficace in disegno.
 Calcolare reazioni vincolari della struttura e delle aste.
 Tracciare i diagrammi quotati delle azioni interne nelle aste.
 $J_{YZ} - x_{YZ} - \theta_{YZ}$ riferimento locale asta YZ con origine in Y.
 La trave DC ha la sezione riportata e dimensioni in mm, con:
 $b = 910 \text{ mm}$, $F = 1120 \text{ N}$
 Calcolare sulla sezione C la massima tensione normale σ_m .
 Calcolare in * le tensioni σ_c, τ_c e la tensione di von Mises.
 Lembo inferiore sezione su tratteggio trave, a destra da D a C
 Curvatura θ asta FG positiva se convessa a destra con inizio F.
 © Adolfo Zavelani Rossi, Politecnico di Milano, vers.27.03.13



- $H_E = -F$
- $H_H = -F$
- $W_C = -W = -Fb$
- $W_F = -W = -Fb$
- $q_{GD} = -q = -F/b$
- $q_{AB} = -q = -F/b$
- $\theta_{FG} = -\theta = -\alpha T/b = -bF/EJ$
- $EJ_{AB} = EJ$
- $EJ_{BC} = EJ$
- $EJ_{BD} = EJ$
- $EJ_{DC} = EJ$
- $EJ_{CE} = EJ$
- $EJ_{FG} = EJ$
- $EJ_{GD} = EJ$
- $EJ_{DH} = EJ$
- $EJ_{GA} = EJ$



← ⊕ →

↑ ⊕ ↓

ANALISI STRUTTURALE CON PLV

RIPORTARE SUL FILE "ESAME" SOLO LE SEGUENTI RICHIESTE

Sul fronte:

- 1) Declassamento con indicazione dell'iperstatica scelta
- 2) Diagrammi finali delle azioni interne
- 3) Sforzi richiesti (nota: profilo COMPATTO)

Sul retro:

- 4) Analisi cinematica
- 5) Diagrammi del momento M_0 e M^*
- 6) Espressione del PLV
- 7) Valore numerico dell'iperstatica

Carichi e deformazioni date hanno verso efficace in disegno.

Calcolare reazioni vincolari della struttura e delle aste.

Tracciare i diagrammi quotati delle azioni interne nelle aste.

$J_{YZ} - x_{YZ} - \theta_{YZ}$ riferimento locale asta YZ con origine in Y.

La trave DC ha la sezione riportata e dimensioni in mm, con:

$b = 960 \text{ mm}$, $F = 1300 \text{ N}$

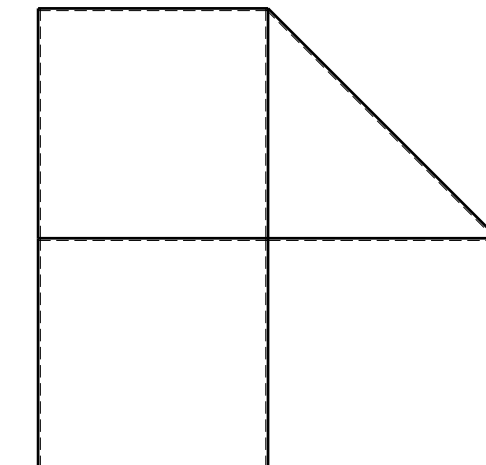
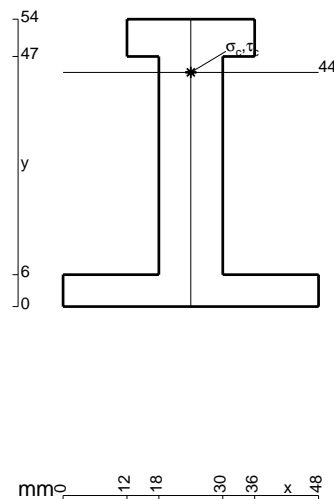
Calcolare sulla sezione C la massima tensione normale σ_m .

Calcolare in * le tensioni σ_c, τ_c e la tensione di von Mises.

Leombo inferiore sezione su tratteggio trave, a destra da D a C

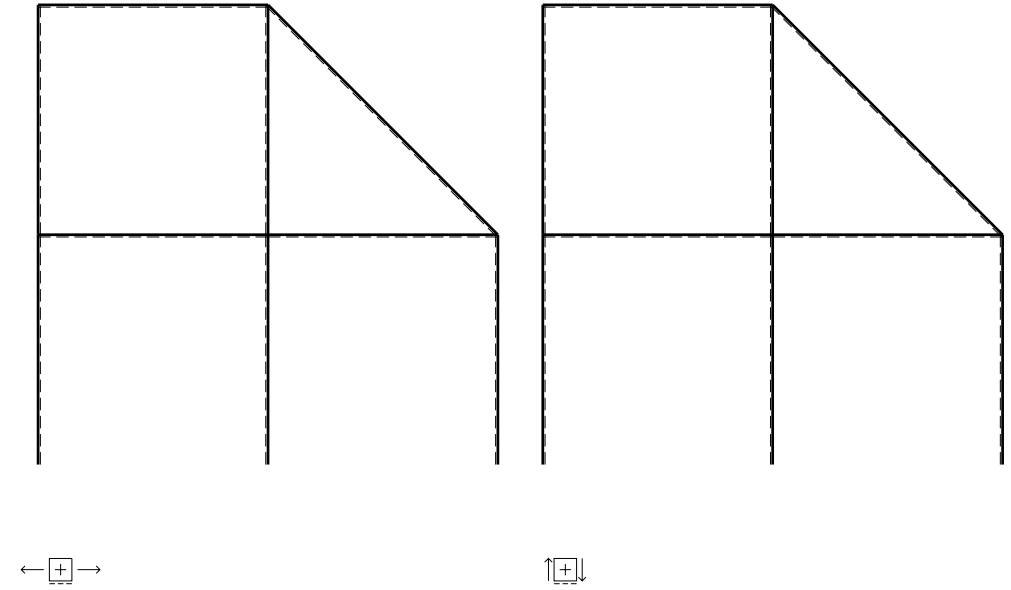
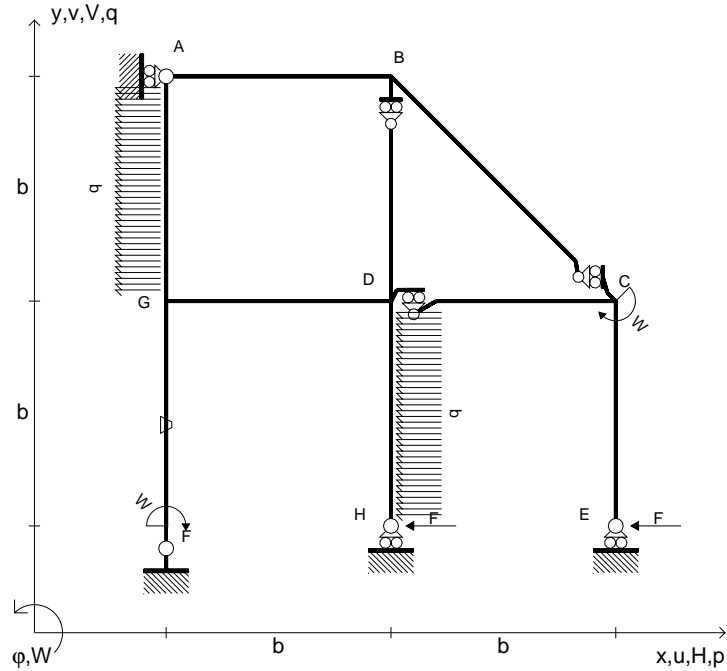
Curvatura θ asta FG positiva se convessa a destra con inizio F.

@ Adolfo Zavelani Rossi, Politecnico di Milano, vers.27.03.13



⊕ ↻

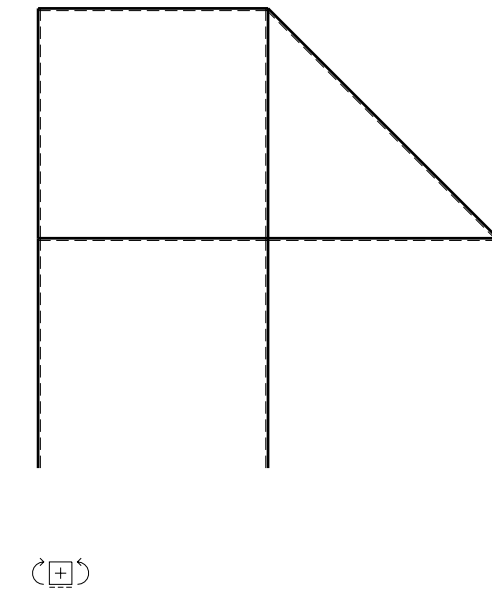
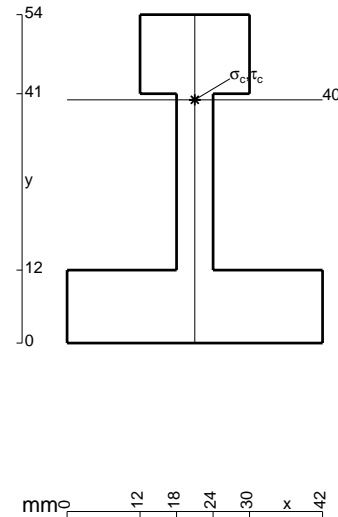
- $H_E = -F$
- $H_H = -F$
- $W_C = -W = -Fb$
- $W_F = -W = -Fb$
- $p_{DH} = -q = -F/b$
- $p_{GA} = -q = -F/b$
- $\theta_{FG} = -\theta = -\alpha T/b = -bF/EJ$
- $EJ_{AB} = EJ$
- $EJ_{BC} = EJ$
- $EJ_{BD} = EJ$
- $EJ_{DC} = EJ$
- $EJ_{CE} = EJ$
- $EJ_{FG} = EJ$
- $EJ_{GD} = EJ$
- $EJ_{DH} = EJ$
- $EJ_{GA} = EJ$



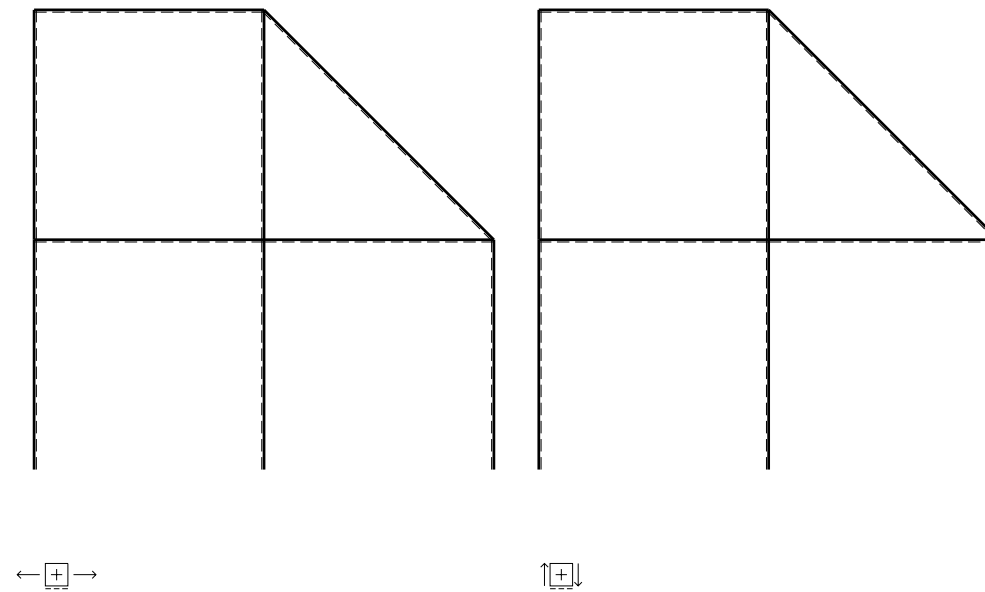
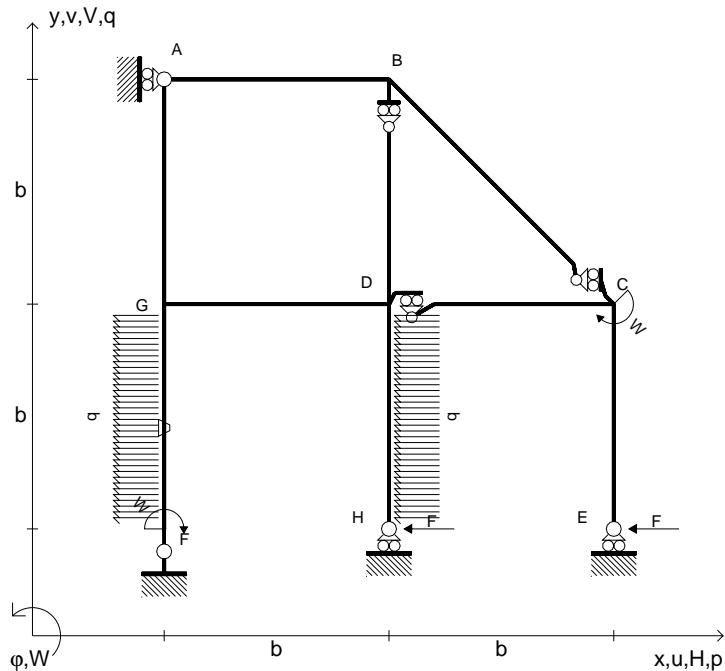
ANALISI STRUTTURALE CON PLV
 RIPORTARE SUL FILE "ESAME" SOLO LE SEGUENTI RICHIESTE

- Sul fronte:
- 1) Declassamento con indicazione dell'iperstatica scelta
 - 2) Diagrammi finali delle azioni interne
 - 3) Sforzi richiesti (nota: profilo COMPATTO)
- Sul retro:
- 4) Analisi cinematica
 - 5) Diagrammi del momento M_0 e M^*
 - 6) Espressione del PLV
 - 7) Valore numerico dell'iperstatica

Carichi e deformazioni date hanno verso efficace in disegno.
 Calcolare reazioni vincolari della struttura e delle aste.
 Tracciare i diagrammi quotati delle azioni interne nelle aste.
 $J_{YZ} - x_{YZ} - \theta_{YZ}$ riferimento locale asta YZ con origine in Y.
 La trave DC ha la sezione riportata e dimensioni in mm, con:
 $b = 510 \text{ mm}$, $F = 1780 \text{ N}$
 Calcolare sulla sezione C la massima tensione normale σ_m .
 Calcolare in * le tensioni σ_c, τ_c e la tensione di von Mises.
 Lembo inferiore sezione su tratteggio trave, a destra da D a C
 Curvatura θ asta FG positiva se convessa a destra con inizio F.
 © Adolfo Zavelani Rossi, Politecnico di Milano, vers.27.03.13



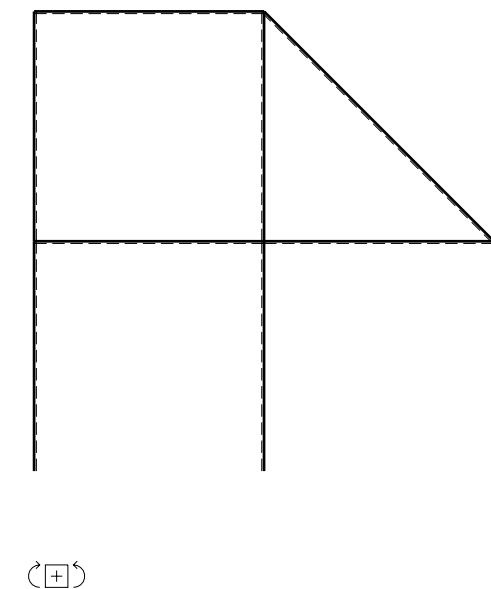
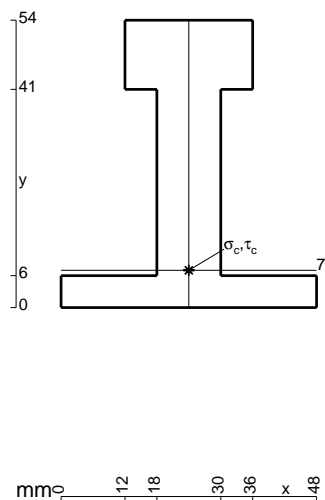
- $H_E = -F$
- $H_H = -F$
- $W_C = -W = -Fb$
- $W_F = -W = -Fb$
- $p_{DH} = -q = -F/b$
- $p_{FG} = -q = -F/b$
- $\theta_{FG} = -\theta = -\alpha T/b = -bF/EJ$
- $EJ_{AB} = EJ$
- $EJ_{BC} = EJ$
- $EJ_{BD} = EJ$
- $EJ_{DC} = EJ$
- $EJ_{CE} = EJ$
- $EJ_{FG} = EJ$
- $EJ_{GD} = EJ$
- $EJ_{DH} = EJ$
- $EJ_{GA} = EJ$



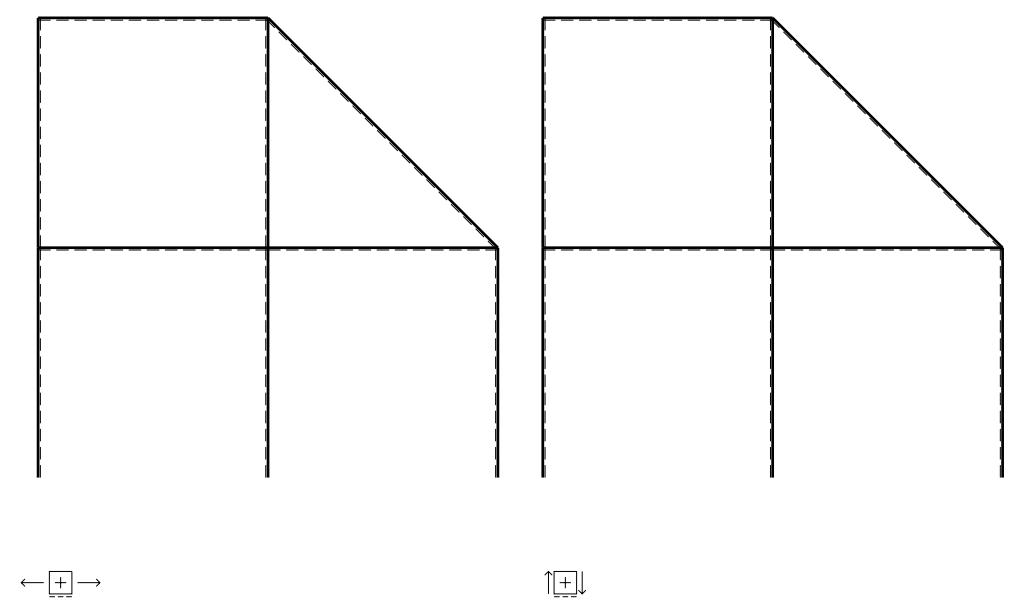
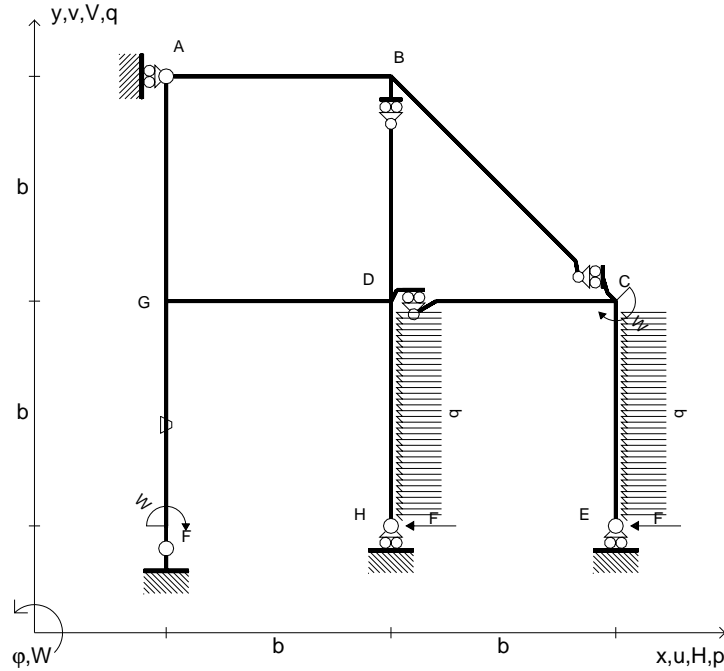
ANALISI STRUTTURALE CON PLV
 RIPORTARE SUL FILE "ESAME" SOLO LE SEGUENTI RICHIESTE

- Sul fronte:
- 1) Declassamento con indicazione dell'iperstatica scelta
 - 2) Diagrammi finali delle azioni interne
 - 3) Sforzi richiesti (nota: profilo COMPATTO)
- Sul retro:
- 4) Analisi cinematica
 - 5) Diagrammi del momento M_0 e M^*
 - 6) Espressione del PLV
 - 7) Valore numerico dell'iperstatica

Carichi e deformazioni date hanno verso efficace in disegno.
 Calcolare reazioni vincolari della struttura e delle aste.
 Tracciare i diagrammi quotati delle azioni interne nelle aste.
 $J_{YZ} - x_{YZ} - \theta_{YZ}$ riferimento locale asta YZ con origine in Y.
 La trave DC ha la sezione riportata e dimensioni in mm, con:
 $b = 610 \text{ mm}$, $F = 2150 \text{ N}$
 Calcolare sulla sezione C la massima tensione normale σ_m .
 Calcolare in * le tensioni σ_c, τ_c e la tensione di von Mises.
 Lembo inferiore sezione su tratteggio trave, a destra da D a C
 Curvatura θ asta FG positiva se convessa a destra con inizio F.
 © Adolfo Zavelani Rossi, Politecnico di Milano, vers.27.03.13



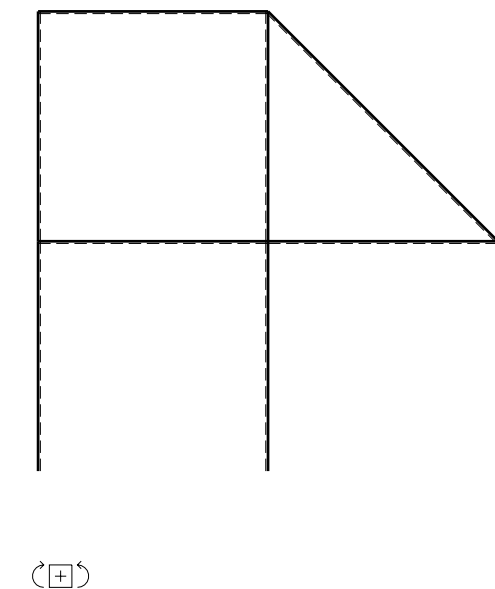
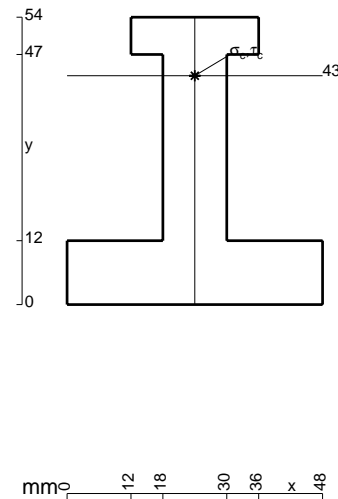
- $H_E = -F$
- $H_H = -F$
- $W_C = -W = -Fb$
- $W_F = -W = -Fb$
- $p_{DH} = -q = -F/b$
- $p_{CE} = -q = -F/b$
- $\theta_{FG} = -\theta = -\alpha T/b = -bF/EJ$
- $EJ_{AB} = EJ$
- $EJ_{BC} = EJ$
- $EJ_{BD} = EJ$
- $EJ_{DC} = EJ$
- $EJ_{CE} = EJ$
- $EJ_{FG} = EJ$
- $EJ_{GD} = EJ$
- $EJ_{DH} = EJ$
- $EJ_{GA} = EJ$



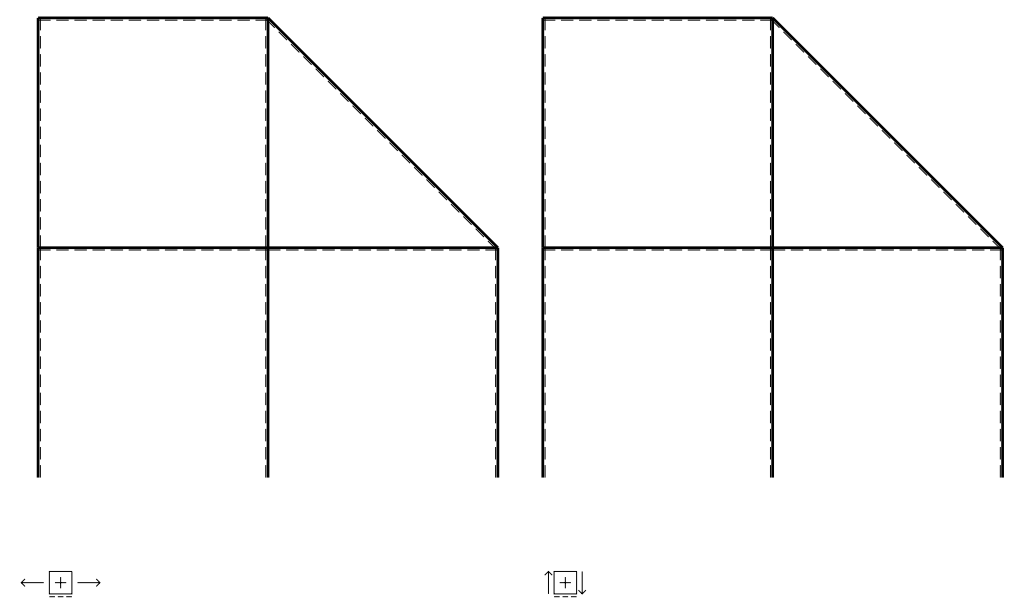
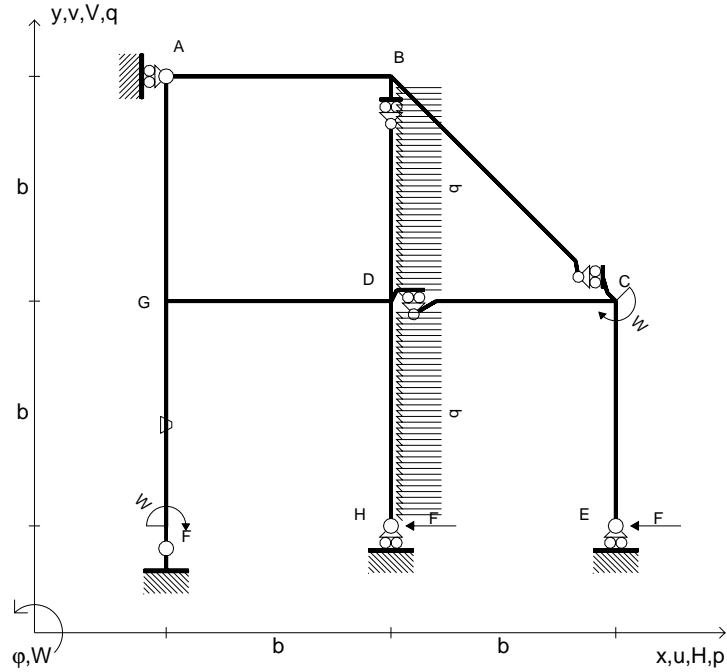
ANALISI STRUTTURALE CON PLV
 RIPORTARE SUL FILE "ESAME" SOLO LE SEGUENTI RICHIESTE

- Sul fronte:
- 1) Declassamento con indicazione dell'iperstatica scelta
 - 2) Diagrammi finali delle azioni interne
 - 3) Sforzi richiesti (nota: profilo COMPATTO)
- Sul retro:
- 4) Analisi cinematica
 - 5) Diagrammi del momento M_0 e M^*
 - 6) Espressione del PLV
 - 7) Valore numerico dell'iperstatica

Carichi e deformazioni date hanno verso efficace in disegno.
 Calcolare reazioni vincolari della struttura e delle aste.
 Tracciare i diagrammi quotati delle azioni interne nelle aste.
 $J_{YZ} - x_{YZ} - \theta_{YZ}$ riferimento locale asta YZ con origine in Y.
 La trave DC ha la sezione riportata e dimensioni in mm, con:
 $b = 660 \text{ mm}$, $F = 1500 \text{ N}$
 Calcolare sulla sezione C la massima tensione normale σ_m .
 Calcolare in * le tensioni σ_c, τ_c e la tensione di von Mises.
 Lembo inferiore sezione su tratteggio trave, a destra da D a C
 Curvatura θ asta FG positiva se convessa a destra con inizio F.
 © Adolfo Zavelani Rossi, Politecnico di Milano, vers.27.03.13



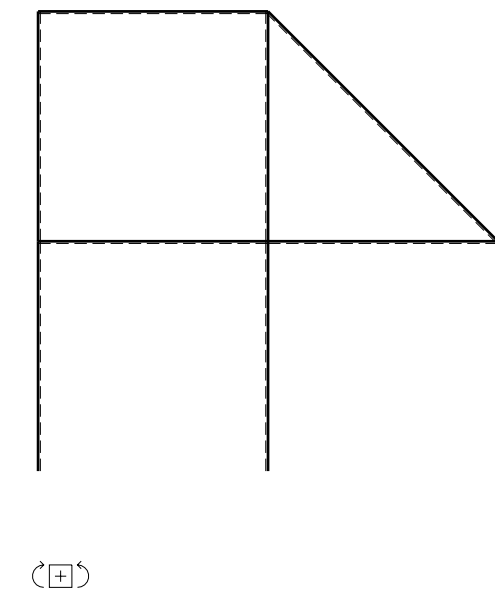
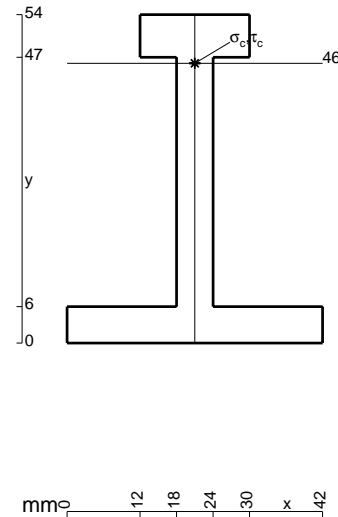
- $H_E = -F$
- $H_H = -F$
- $W_C = -W = -Fb$
- $W_F = -W = -Fb$
- $p_{DH} = -q = -F/b$
- $p_{BD} = -q = -F/b$
- $\theta_{FG} = -\theta = -\alpha T/b = -bF/EJ$
- $EJ_{AB} = EJ$
- $EJ_{BC} = EJ$
- $EJ_{BD} = EJ$
- $EJ_{DC} = EJ$
- $EJ_{CE} = EJ$
- $EJ_{FG} = EJ$
- $EJ_{GD} = EJ$
- $EJ_{DH} = EJ$
- $EJ_{GA} = EJ$



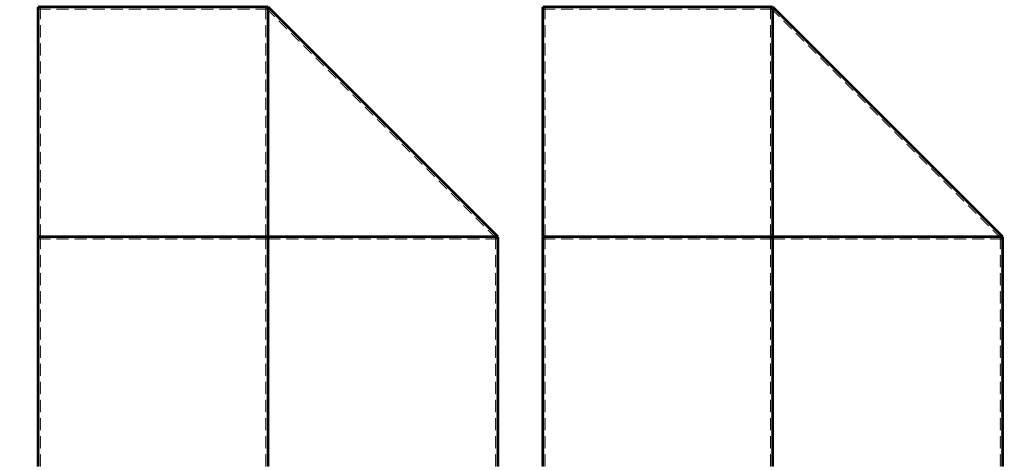
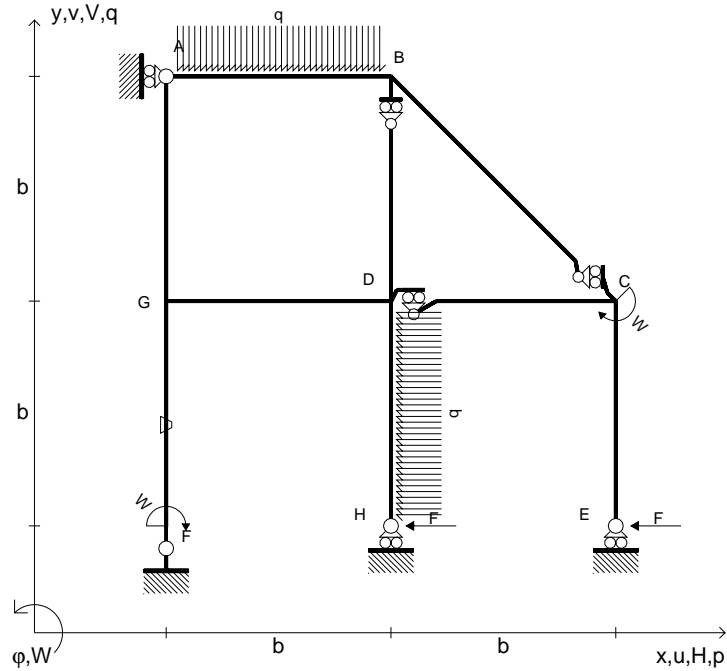
ANALISI STRUTTURALE CON PLV
 RIPORTARE SUL FILE "ESAME" SOLO LE SEGUENTI RICHIESTE

- Sul fronte:
- 1) Declassamento con indicazione dell'iperstatica scelta
 - 2) Diagrammi finali delle azioni interne
 - 3) Sforzi richiesti
(nota: profilo COMPATTO)
- Sul retro:
- 4) Analisi cinematica
 - 5) Diagrammi del momento M_0 e M^*
 - 6) Espressione del PLV
 - 7) Valore numerico dell'iperstatica

Carichi e deformazioni date hanno verso efficace in disegno.
 Calcolare reazioni vincolari della struttura e delle aste.
 Tracciare i diagrammi quotati delle azioni interne nelle aste.
 $J_{YZ} - x_{YZ} - \theta_{YZ}$ riferimento locale asta YZ con origine in Y.
 La trave DC ha la sezione riportata e dimensioni in mm, con:
 $b = 710 \text{ mm}$, $F = 1230 \text{ N}$
 Calcolare sulla sezione C la massima tensione normale σ_m .
 Calcolare in * le tensioni σ_c, τ_c e la tensione di von Mises.
 Lembo inferiore sezione su tratteggio trave, a destra da D a C
 Curvatura θ asta FG positiva se convessa a destra con inizio F.
 © Adolfo Zavelani Rossi, Politecnico di Milano, vers.27.03.13



- $H_E = -F$
- $H_H = -F$
- $W_C = -W = -Fb$
- $W_F = -W = -Fb$
- $p_{DH} = -q = -F/b$
- $q_{AB} = -q = -F/b$
- $\theta_{FG} = -\theta = -\alpha T/b = -bF/EJ$
- $EJ_{AB} = EJ$
- $EJ_{BC} = EJ$
- $EJ_{BD} = EJ$
- $EJ_{DC} = EJ$
- $EJ_{CE} = EJ$
- $EJ_{FG} = EJ$
- $EJ_{GD} = EJ$
- $EJ_{DH} = EJ$
- $EJ_{GA} = EJ$



ANALISI STRUTTURALE CON PLV

RIPORTARE SUL FILE "ESAME" SOLO LE SEGUENTI RICHIESTE

Sul fronte:

- 1) Declassamento con indicazione dell'iperstatica scelta
- 2) Diagrammi finali delle azioni interne
- 3) Sforzi richiesti
(nota: profilo COMPATTO)

Sul retro:

- 4) Analisi cinematica
- 5) Diagrammi del momento M_0 e M^*
- 6) Espressione del PLV
- 7) Valore numerico dell'iperstatica

Carichi e deformazioni date hanno verso efficace in disegno.

Calcolare reazioni vincolari della struttura e delle aste.

Tracciare i diagrammi quotati delle azioni interne nelle aste.

$J_{YZ} - x_{YZ} - \theta_{YZ}$ riferimento locale asta YZ con origine in Y.

La trave DC ha la sezione riportata e dimensioni in mm, con:

$b = 750 \text{ mm}$, $F = 890 \text{ N}$

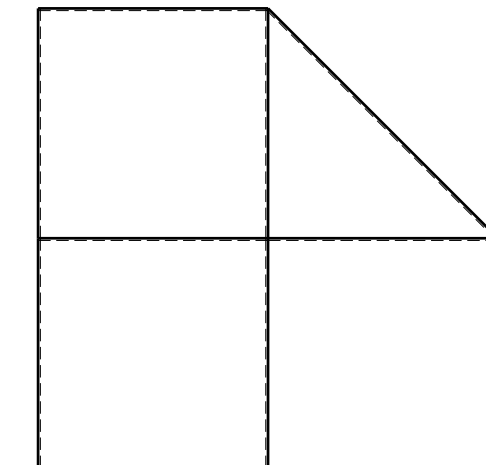

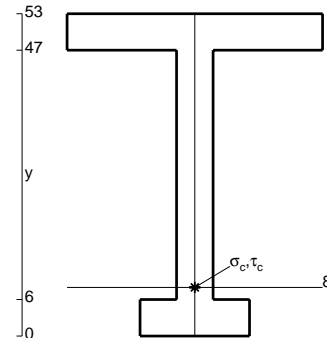
Calcolare sulla sezione C la massima tensione normale σ_m .

Calcolare in * le tensioni σ_c, τ_c e la tensione di von Mises.

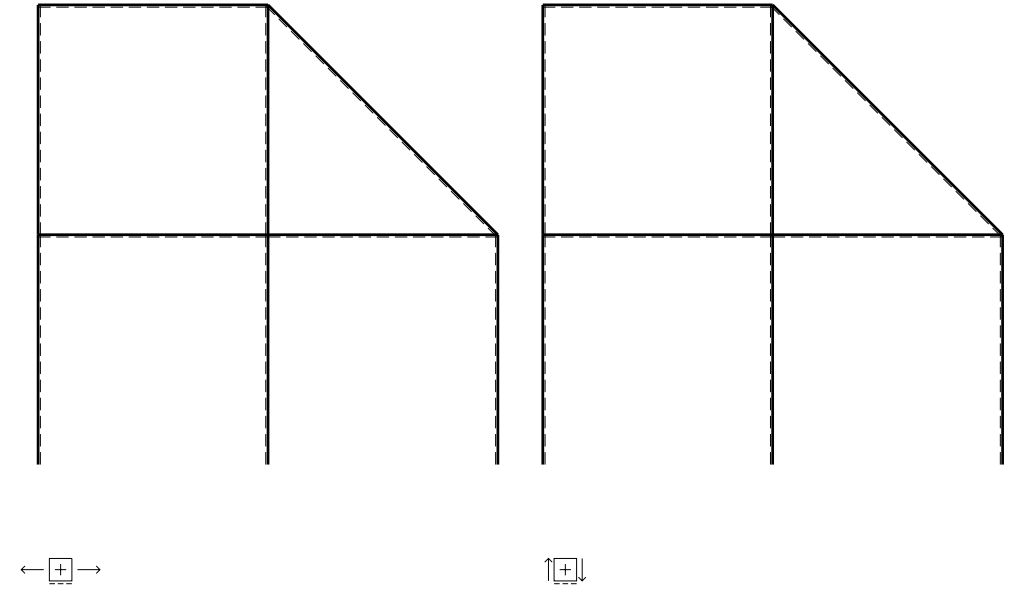
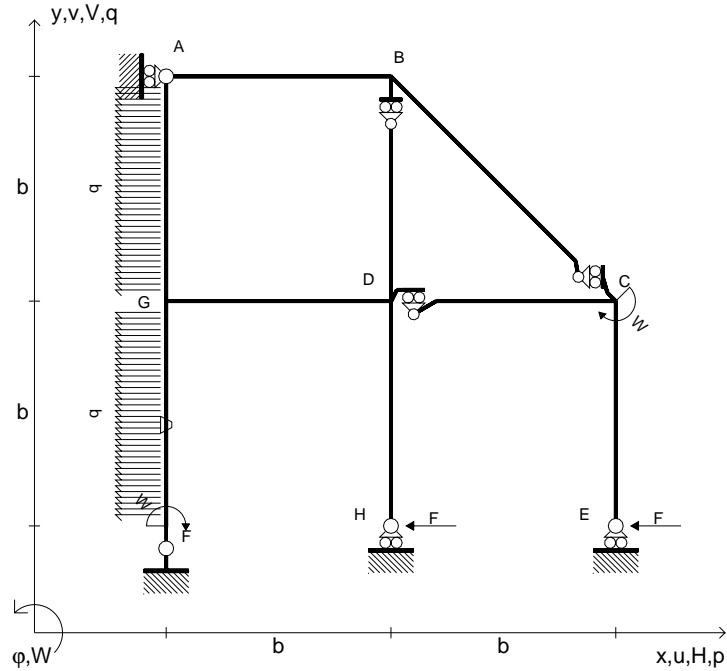
Leombo inferiore sezione su tratteggio trave, a destra da D a C

Curvatura θ asta FG positiva se convessa a destra con inizio F.

@ Adolfo Zavelani Rossi, Politecnico di Milano, vers.27.03.13



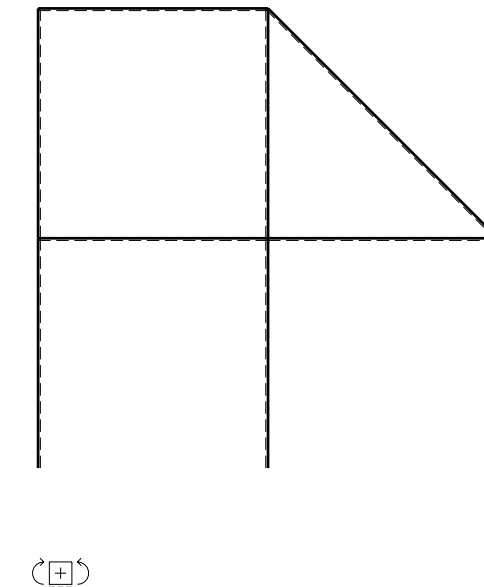
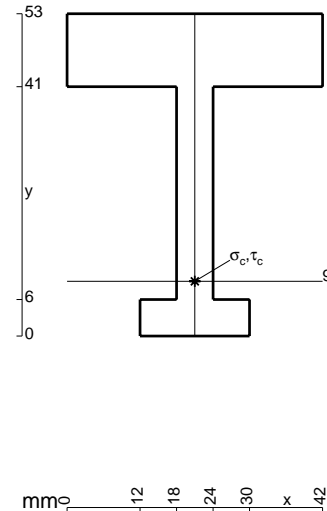
- $H_E = -F$
- $H_H = -F$
- $W_C = -W = -Fb$
- $W_F = -W = -Fb$
- $p_{FG} = -q = -F/b$
- $p_{GA} = -q = -F/b$
- $\theta_{FG} = -\theta = -\alpha T/b = -bF/EJ$
- $EJ_{AB} = EJ$
- $EJ_{BC} = EJ$
- $EJ_{BD} = EJ$
- $EJ_{DC} = EJ$
- $EJ_{CE} = EJ$
- $EJ_{FG} = EJ$
- $EJ_{GD} = EJ$
- $EJ_{DH} = EJ$
- $EJ_{GA} = EJ$



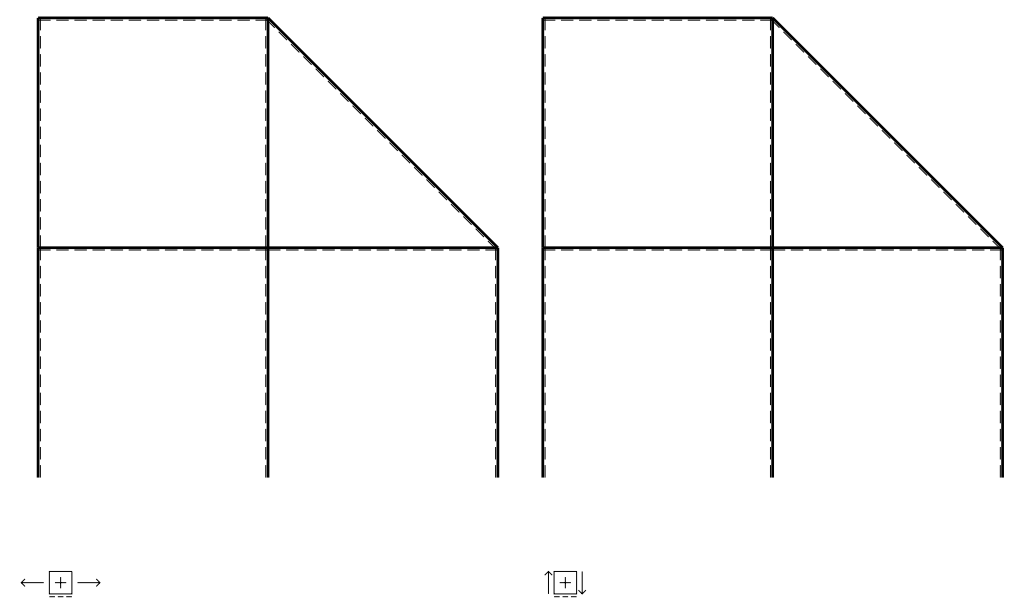
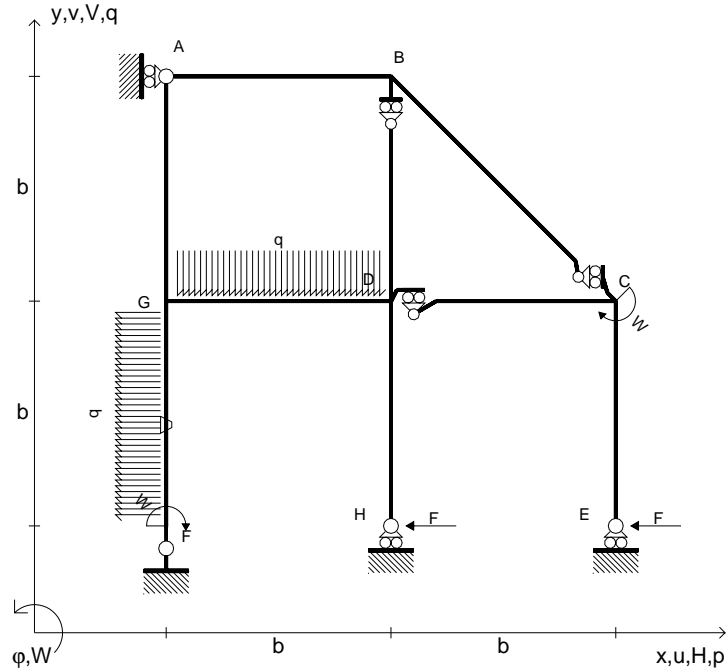
ANALISI STRUTTURALE CON PLV
 RIPORTARE SUL FILE "ESAME" SOLO LE SEGUENTI RICHIESTE

- Sul fronte:
- 1) Declassamento con indicazione dell'iperstatica scelta
 - 2) Diagrammi finali delle azioni interne
 - 3) Sforzi richiesti
(nota: profilo COMPATTO)
- Sul retro:
- 4) Analisi cinematica
 - 5) Diagrammi del momento M_0 e M^*
 - 6) Espressione del PLV
 - 7) Valore numerico dell'iperstatica

Carichi e deformazioni date hanno verso efficace in disegno.
 Calcolare reazioni vincolari della struttura e delle aste.
 Tracciare i diagrammi quotati delle azioni interne nelle aste.
 $J_{YZ} - x_{YZ} - \theta_{YZ}$ riferimento locale asta YZ con origine in Y.
 La trave DC ha la sezione riportata e dimensioni in mm, con:
 $b = 800$ mm, $F = 880$ N
 Calcolare sulla sezione C la massima tensione normale σ_m .
 Calcolare in * le tensioni σ_c, τ_c e la tensione di von Mises.
 Lembo inferiore sezione su tratteggio trave, a destra da D a C
 Curvatura θ asta FG positiva se convessa a destra con inizio F.
 @ Adolfo Zavelani Rossi, Politecnico di Milano, vers.27.03.13



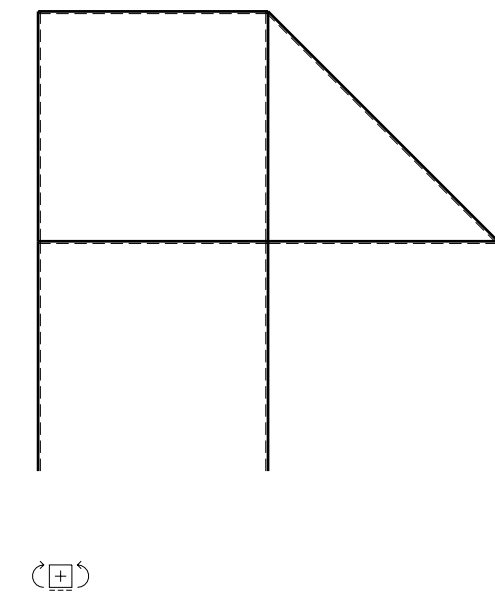
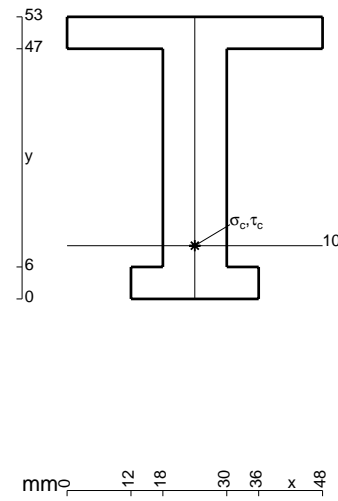
- $H_E = -F$
- $H_H = -F$
- $W_C = -W = -Fb$
- $W_F = -W = -Fb$
- $p_{FG} = -q = -F/b$
- $q_{GD} = -q = -F/b$
- $\theta_{FG} = -\theta = -\alpha T/b = -bF/EJ$
- $EJ_{AB} = EJ$
- $EJ_{BC} = EJ$
- $EJ_{BD} = EJ$
- $EJ_{DC} = EJ$
- $EJ_{CE} = EJ$
- $EJ_{FG} = EJ$
- $EJ_{GD} = EJ$
- $EJ_{DH} = EJ$
- $EJ_{GA} = EJ$



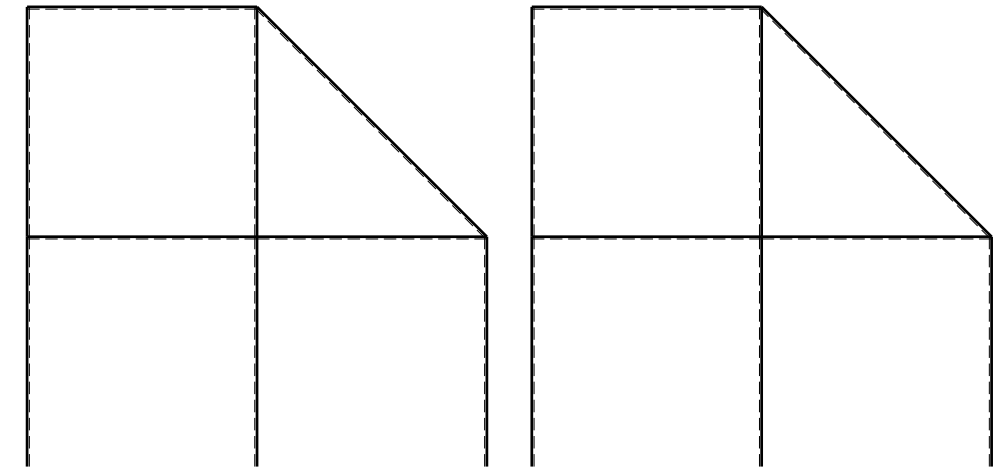
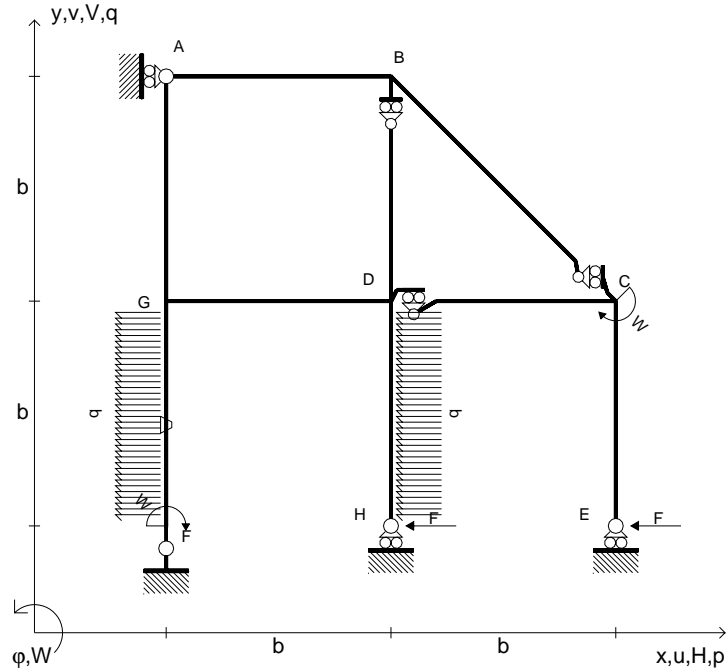
ANALISI STRUTTURALE CON PLV
 RIPORTARE SUL FILE "ESAME" SOLO LE SEGUENTI RICHIESTE

- Sul fronte:
- 1) Declassamento con indicazione dell'iperstatica scelta
 - 2) Diagrammi finali delle azioni interne
 - 3) Sforzi richiesti (nota: profilo COMPATTO)
- Sul retro:
- 4) Analisi cinematica
 - 5) Diagrammi del momento M_0 e M^*
 - 6) Espressione del PLV
 - 7) Valore numerico dell'iperstatica

Carichi e deformazioni date hanno verso efficace in disegno.
 Calcolare reazioni vincolari della struttura e delle aste.
 Tracciare i diagrammi quotati delle azioni interne nelle aste.
 $J_{YZ} - x_{YZ} - \theta_{YZ}$ riferimento locale asta YZ con origine in Y.
 La trave DC ha la sezione riportata e dimensioni in mm, con:
 $b = 850 \text{ mm}$, $F = 1270 \text{ N}$
 Calcolare sulla sezione C la massima tensione normale σ_m .
 Calcolare in * le tensioni σ_c, τ_c e la tensione di von Mises.
 Lembo inferiore sezione su tratteggio trave, a destra da D a C
 Curvatura θ asta FG positiva se convessa a destra con inizio F.
 @ Adolfo Zavelani Rossi, Politecnico di Milano, vers.27.03.13



- $H_E = -F$
- $H_H = -F$
- $W_C = -W = -Fb$
- $W_F = -W = -Fb$
- $p_{FG} = -q = -F/b$
- $p_{DH} = -q = -F/b$
- $\theta_{FG} = -\theta = -\alpha T/b = -bF/EJ$
- $EJ_{AB} = EJ$
- $EJ_{BC} = EJ$
- $EJ_{BD} = EJ$
- $EJ_{DC} = EJ$
- $EJ_{CE} = EJ$
- $EJ_{FG} = EJ$
- $EJ_{GD} = EJ$
- $EJ_{DH} = EJ$
- $EJ_{GA} = EJ$



← ⊕ →

↑ ⊕ ↓

ANALISI STRUTTURALE CON PLV

RIPORTARE SUL FILE "ESAME" SOLO LE SEGUENTI RICHIESTE

Sul fronte:

- 1) Declassamento con indicazione dell'iperstatica scelta
- 2) Diagrammi finali delle azioni interne
- 3) Sforzi richiesti
(nota: profilo COMPATTO)

Sul retro:

- 4) Analisi cinematica
- 5) Diagrammi del momento M_0 e M^*
- 6) Espressione del PLV
- 7) Valore numerico dell'iperstatica

Carichi e deformazioni date hanno verso efficace in disegno.

Calcolare reazioni vincolari della struttura e delle aste.

Tracciare i diagrammi quotati delle azioni interne nelle aste.

$J_{YZ} - x_{YZ} - \theta_{YZ}$ riferimento locale asta YZ con origine in Y.

La trave DC ha la sezione riportata e dimensioni in mm, con:

$b = 900$ mm, $F = 1280$ N

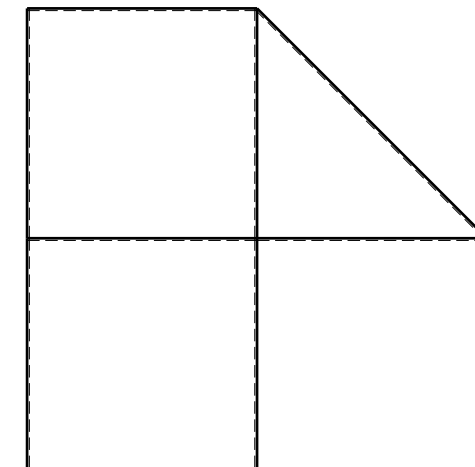
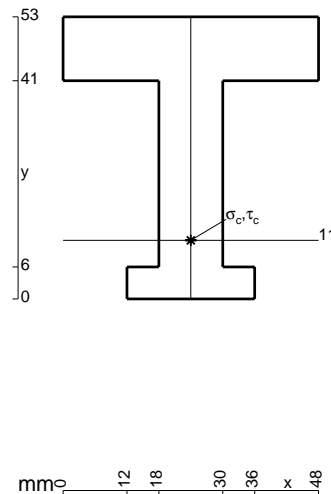
Calcolare sulla sezione C la massima tensione normale σ_m .

Calcolare in * le tensioni σ_c, τ_c e la tensione di von Mises.

Leombo inferiore sezione su tratteggio trave, a destra da D a C

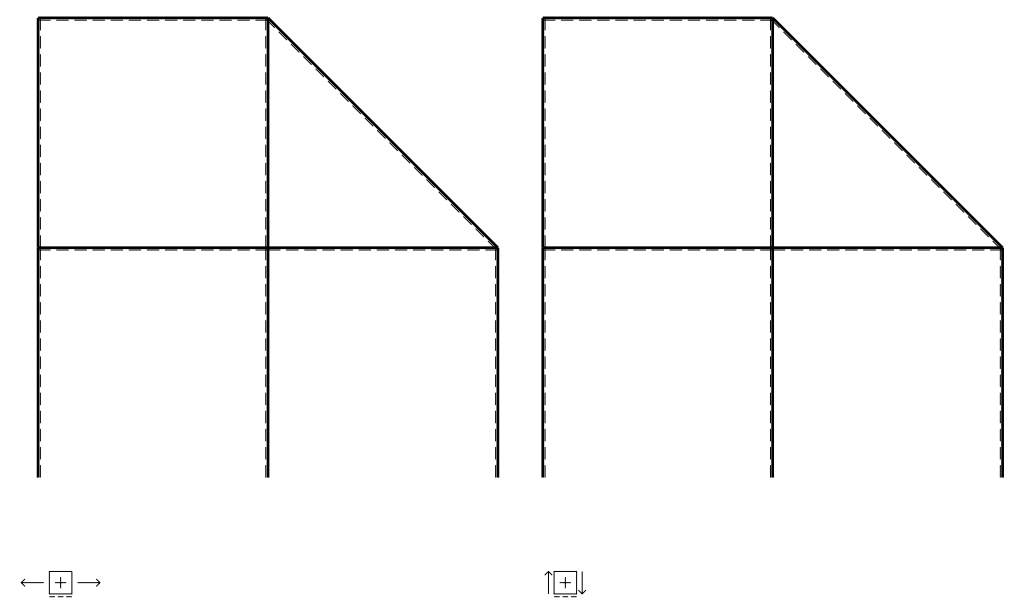
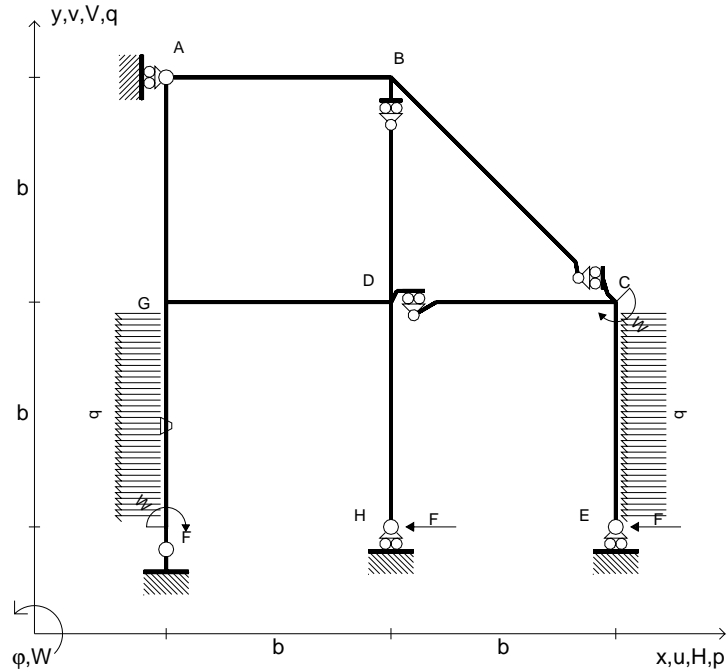
Curvatura θ asta FG positiva se convessa a destra con inizio F.

@ Adolfo Zavelani Rossi, Politecnico di Milano, vers.27.03.13



← ⊕ →

- $H_E = -F$
- $H_H = -F$
- $W_C = -W = -Fb$
- $W_F = -W = -Fb$
- $p_{FG} = -q = -F/b$
- $p_{CE} = -q = -F/b$
- $\theta_{FG} = -\theta = -\alpha T/b = -bF/EJ$
- $EJ_{AB} = EJ$
- $EJ_{BC} = EJ$
- $EJ_{BD} = EJ$
- $EJ_{DC} = EJ$
- $EJ_{CE} = EJ$
- $EJ_{FG} = EJ$
- $EJ_{GD} = EJ$
- $EJ_{DH} = EJ$
- $EJ_{GA} = EJ$



ANALISI STRUTTURALE CON PLV

RIPORTARE SUL FILE "ESAME" SOLO LE SEGUENTI RICHIESTE

Sul fronte:

- 1) Declassamento con indicazione dell'iperstatica scelta
- 2) Diagrammi finali delle azioni interne
- 3) Sforzi richiesti
(nota: profilo COMPATTO)

Sul retro:

- 4) Analisi cinematica
- 5) Diagrammi del momento M_0 e M^*
- 6) Espressione del PLV
- 7) Valore numerico dell'iperstatica

Carichi e deformazioni date hanno verso efficace in disegno.

Calcolare reazioni vincolari della struttura e delle aste.

Tracciare i diagrammi quotati delle azioni interne nelle aste.

$J_{YZ} - x_{YZ} - \theta_{YZ}$ riferimento locale asta YZ con origine in Y.

La trave DC ha la sezione riportata e dimensioni in mm, con:

$b = 950 \text{ mm}$, $F = 850 \text{ N}$

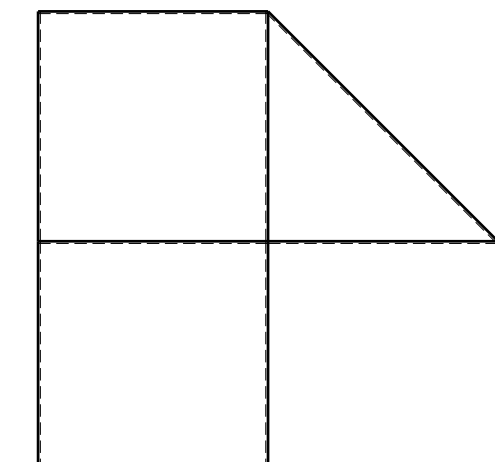
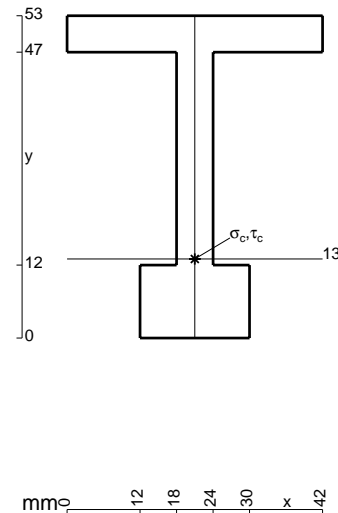
Calcolare sulla sezione C la massima tensione normale σ_m .

Calcolare in * le tensioni σ_c, τ_c e la tensione di von Mises.

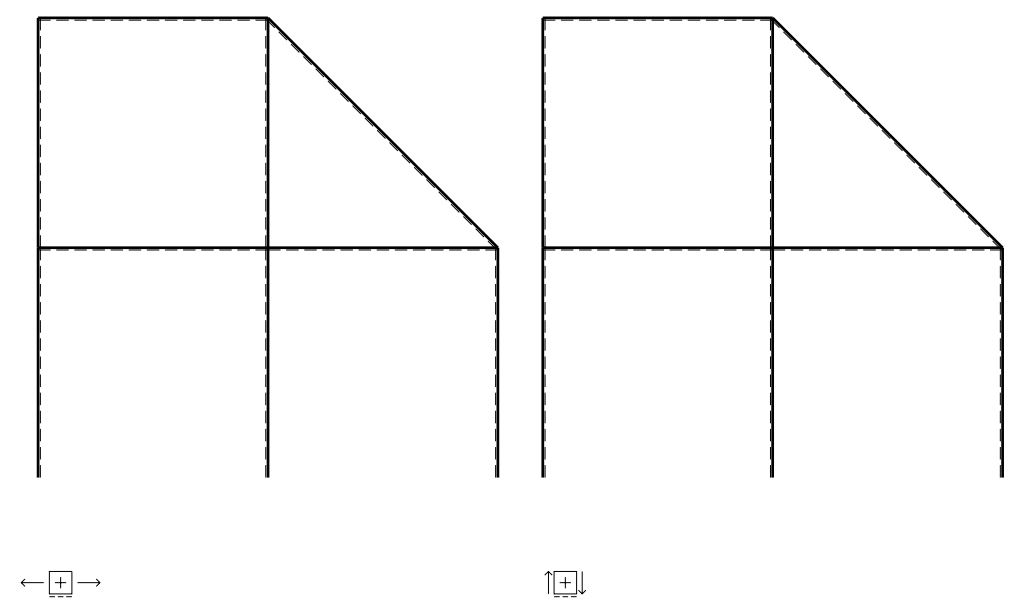
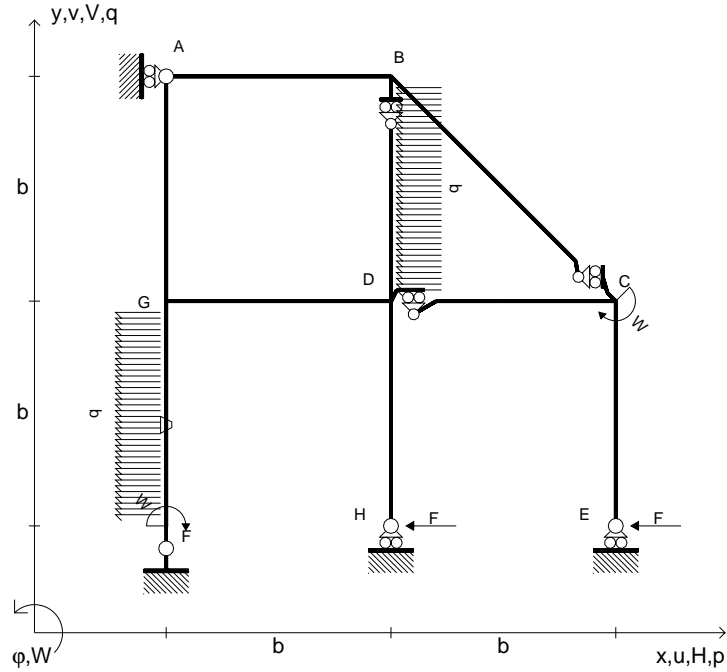
Leombo inferiore sezione su tratteggio trave, a destra da D a C

Curvatura θ asta FG positiva se convessa a destra con inizio F.

@ Adolfo Zavelani Rossi, Politecnico di Milano, vers.27.03.13



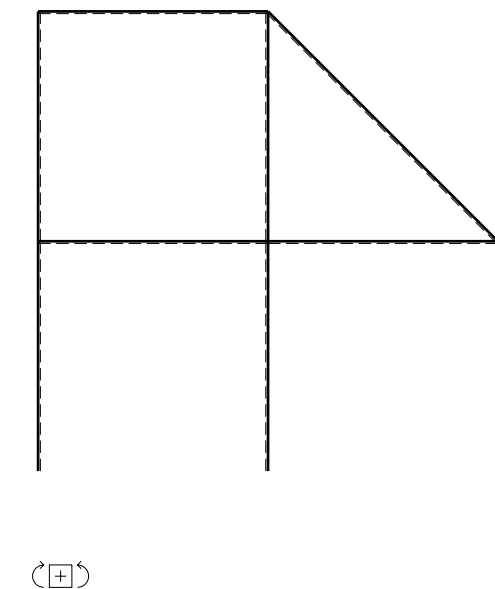
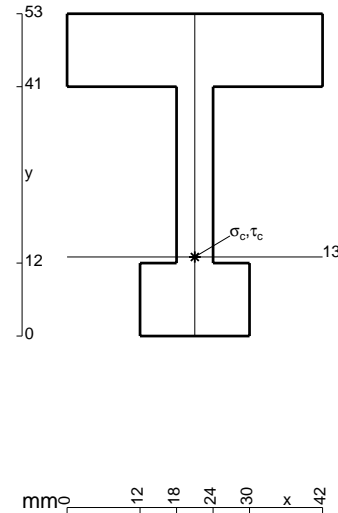
- $H_E = -F$
- $H_H = -F$
- $W_C = -W = -Fb$
- $W_F = -W = -Fb$
- $p_{FG} = -q = -F/b$
- $p_{BD} = -q = -F/b$
- $\theta_{FG} = -\theta = -\alpha T/b = -bF/EJ$
- $EJ_{AB} = EJ$
- $EJ_{BC} = EJ$
- $EJ_{BD} = EJ$
- $EJ_{DC} = EJ$
- $EJ_{CE} = EJ$
- $EJ_{FG} = EJ$
- $EJ_{GD} = EJ$
- $EJ_{DH} = EJ$
- $EJ_{GA} = EJ$



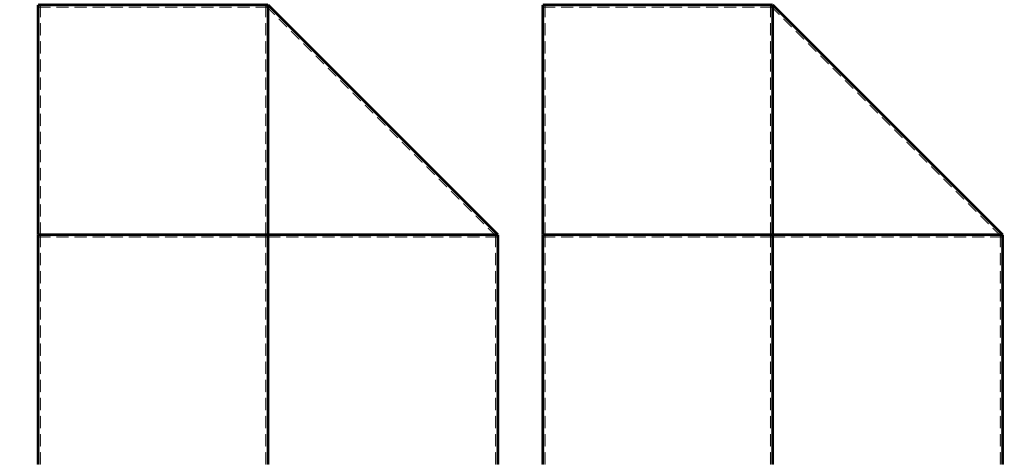
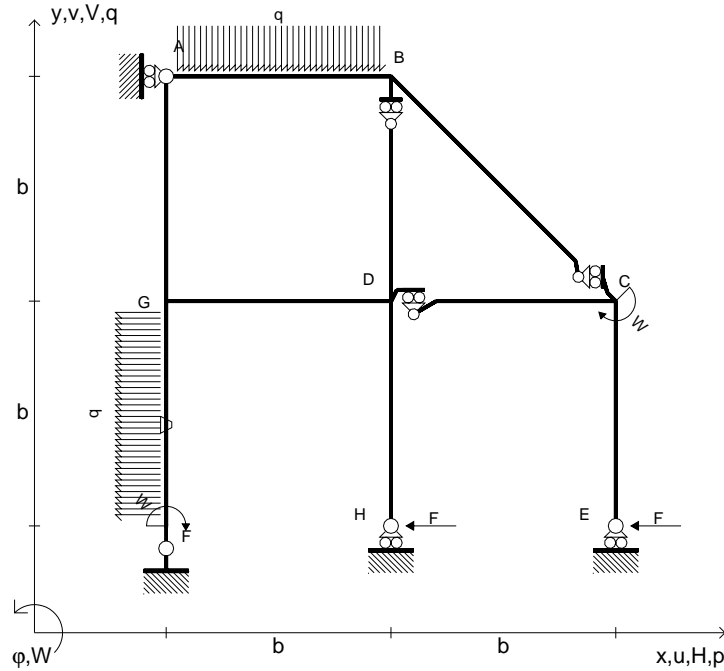
ANALISI STRUTTURALE CON PLV
 RIPORTARE SUL FILE "ESAME" SOLO LE SEGUENTI RICHIESTE

- Sul fronte:
- 1) Declassamento con indicazione dell'iperstatica scelta
 - 2) Diagrammi finali delle azioni interne
 - 3) Sforzi richiesti (nota: profilo COMPATTO)
- Sul retro:
- 4) Analisi cinematica
 - 5) Diagrammi del momento M_0 e M^*
 - 6) Espressione del PLV
 - 7) Valore numerico dell'iperstatica

Carichi e deformazioni date hanno verso efficace in disegno.
 Calcolare reazioni vincolari della struttura e delle aste.
 Tracciare i diagrammi quotati delle azioni interne nelle aste.
 $J_{YZ} - x_{YZ} - \theta_{YZ}$ riferimento locale asta YZ con origine in Y.
 La trave DC ha la sezione riportata e dimensioni in mm, con:
 $b = 500 \text{ mm}$, $F = 1710 \text{ N}$
 Calcolare sulla sezione C la massima tensione normale σ_m .
 Calcolare in * le tensioni σ_c, τ_c e la tensione di von Mises.
 Lembo inferiore sezione su tratteggio trave, a destra da D a C
 Curvatura θ asta FG positiva se convessa a destra con inizio F.
 @ Adolfo Zavelani Rossi, Politecnico di Milano, vers.27.03.13



- $H_E = -F$
- $H_H = -F$
- $W_C = -W = -Fb$
- $W_F = -W = -Fb$
- $p_{FG} = -q = -F/b$
- $q_{AB} = -q = -F/b$
- $\theta_{FG} = -\theta = -\alpha T/b = -bF/EJ$
- $EJ_{AB} = EJ$
- $EJ_{BC} = EJ$
- $EJ_{BD} = EJ$
- $EJ_{DC} = EJ$
- $EJ_{CE} = EJ$
- $EJ_{FG} = EJ$
- $EJ_{GD} = EJ$
- $EJ_{DH} = EJ$
- $EJ_{GA} = EJ$



← ⊕ →

↑ ⊕ ↓

ANALISI STRUTTURALE CON PLV
 RIPORTARE SUL FILE "ESAME" SOLO LE SEGUENTI RICHIESTE

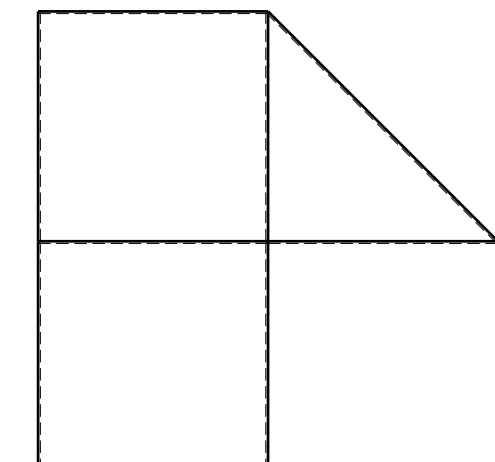
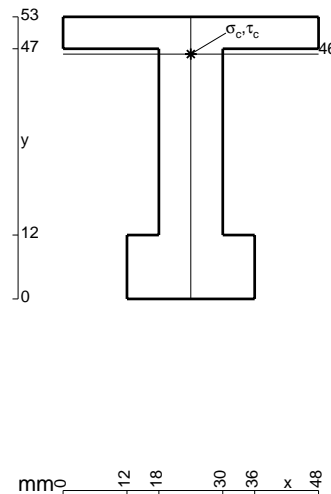
- Sul fronte:
- 1) Declassamento con indicazione dell'iperstatica scelta
 - 2) Diagrammi finali delle azioni interne
 - 3) Sforzi richiesti (nota: profilo COMPATTO)

- Sul retro:
- 4) Analisi cinematica
 - 5) Diagrammi del momento M_0 e M^*
 - 6) Espressione del PLV
 - 7) Valore numerico dell'iperstatica

Carichi e deformazioni date hanno verso efficace in disegno.
 Calcolare reazioni vincolari della struttura e delle aste.
 Tracciare i diagrammi quotati delle azioni interne nelle aste.

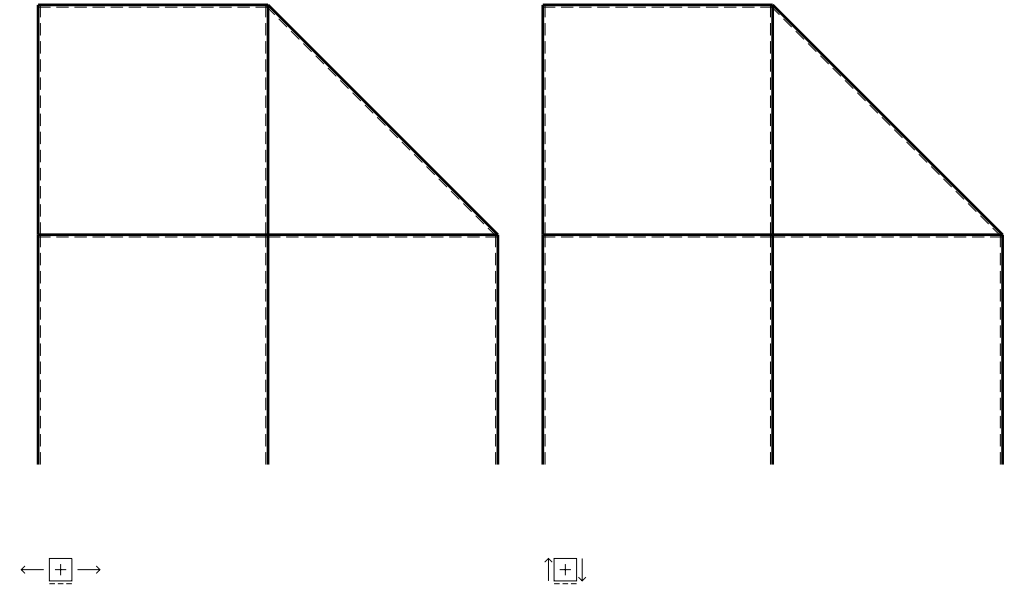
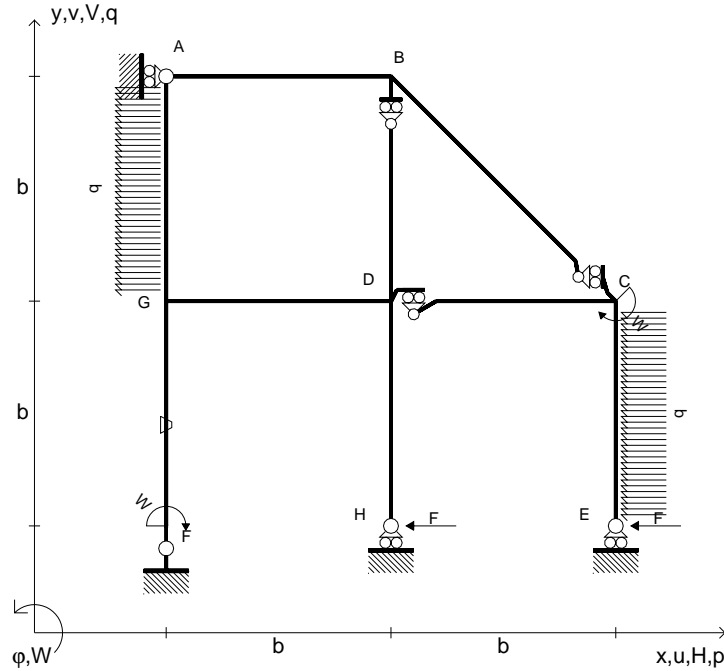
$J_{YZ} - x_{YZ} - \theta_{YZ}$ riferimento locale asta YZ con origine in Y.
 La trave DC ha la sezione riportata e dimensioni in mm, con:
 $b = 550$ mm, $F = 2170$ N

Calcolare sulla sezione C la massima tensione normale σ_m .
 Calcolare in * le tensioni σ_c, τ_c e la tensione di von Mises.
 Lembo inferiore sezione su tratteggio trave, a destra da D a C
 Curvatura θ asta FG positiva se convessa a destra con inizio F.
 © Adolfo Zavelani Rossi, Politecnico di Milano, vers.27.03.13



⊕ ↻

- $H_E = -F$
- $H_H = -F$
- $W_C = -W = -Fb$
- $W_F = -W = -Fb$
- $p_{CE} = -q = -F/b$
- $p_{GA} = -q = -F/b$
- $\theta_{FG} = -\theta = -\alpha T/b = -bF/EJ$
- $EJ_{AB} = EJ$
- $EJ_{BC} = EJ$
- $EJ_{BD} = EJ$
- $EJ_{DC} = EJ$
- $EJ_{CE} = EJ$
- $EJ_{FG} = EJ$
- $EJ_{GD} = EJ$
- $EJ_{DH} = EJ$
- $EJ_{GA} = EJ$



ANALISI STRUTTURALE CON PLV

RIPORTARE SUL FILE "ESAME" SOLO LE SEGUENTI RICHIESTE

Sul fronte:

- 1) Declassamento con indicazione dell'iperstatica scelta
- 2) Diagrammi finali delle azioni interne
- 3) Sforzi richiesti
(nota: profilo COMPATTO)

Sul retro:

- 4) Analisi cinematica
- 5) Diagrammi del momento M_0 e M^*
- 6) Espressione del PLV
- 7) Valore numerico dell'iperstatica

Carichi e deformazioni date hanno verso efficace in disegno.

Calcolare reazioni vincolari della struttura e delle aste.

Tracciare i diagrammi quotati delle azioni interne nelle aste.

$J_{YZ} - x_{YZ} - \theta_{YZ}$ riferimento locale asta YZ con origine in Y.

La trave DC ha la sezione riportata e dimensioni in mm, con:

$b = 600 \text{ mm}$, $F = 1720 \text{ N}$

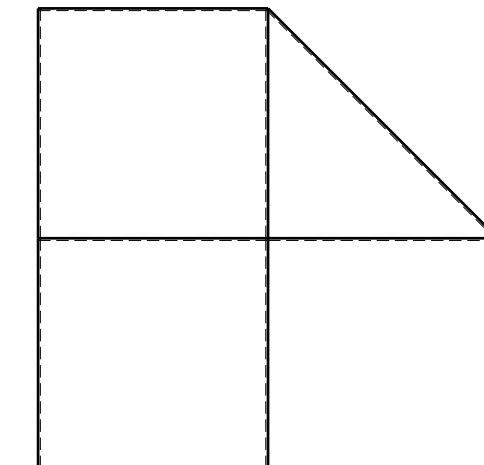
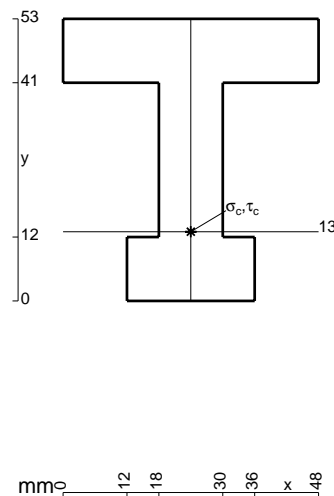
Calcolare sulla sezione C la massima tensione normale σ_m .

Calcolare in * le tensioni σ_c, τ_c e la tensione di von Mises.

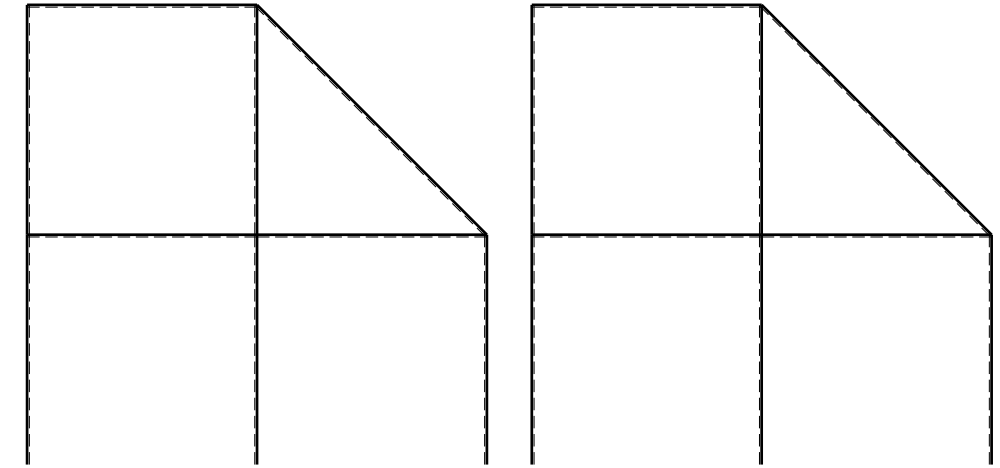
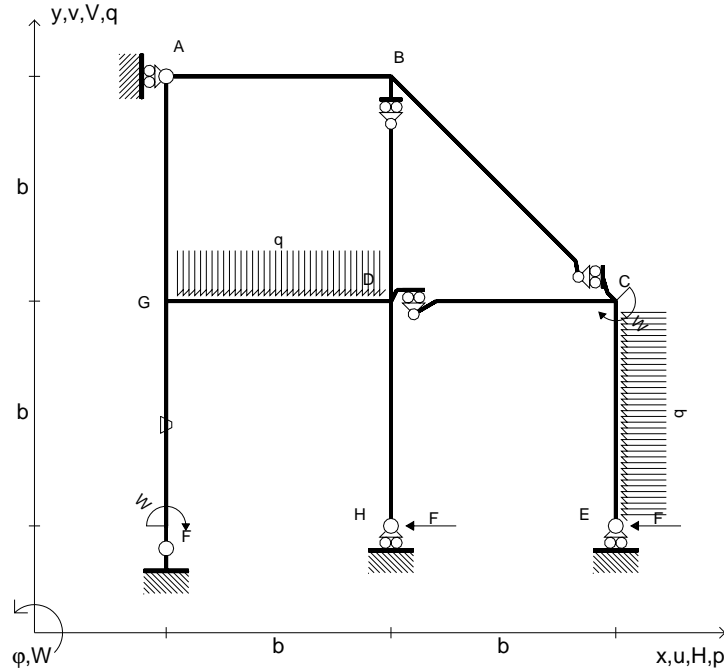
Leombo inferiore sezione su tratteggio trave, a destra da D a C

Curvatura θ asta FG positiva se convessa a destra con inizio F.

@ Adolfo Zavelani Rossi, Politecnico di Milano, vers.27.03.13



- $H_E = -F$
- $H_H = -F$
- $W_C = -W = -Fb$
- $W_F = -W = -Fb$
- $p_{CE} = -q = -F/b$
- $q_{GD} = -q = -F/b$
- $\theta_{FG} = -\theta = -\alpha T/b = -bF/EJ$
- $EJ_{AB} = EJ$
- $EJ_{BC} = EJ$
- $EJ_{BD} = EJ$
- $EJ_{DC} = EJ$
- $EJ_{CE} = EJ$
- $EJ_{FG} = EJ$
- $EJ_{GD} = EJ$
- $EJ_{DH} = EJ$
- $EJ_{GA} = EJ$



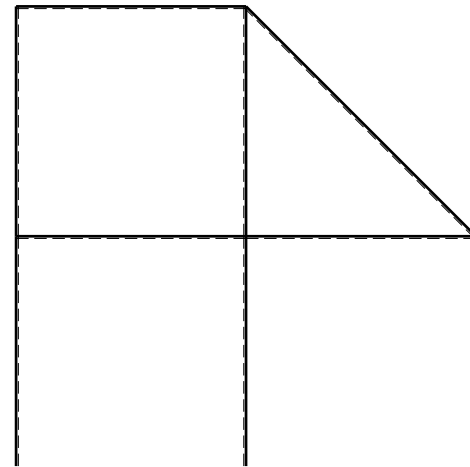
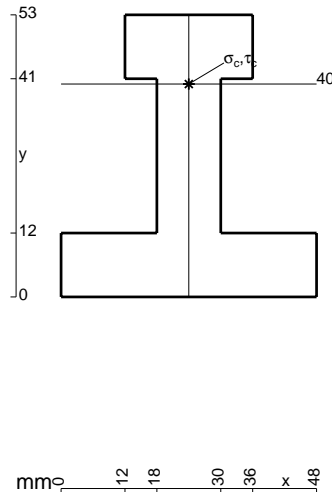
← ⊕ →

↑ ⊕ ↓

ANALISI STRUTTURALE CON PLV
RIPORTARE SUL FILE "ESAME" SOLO LE SEGUENTI RICHIESTE

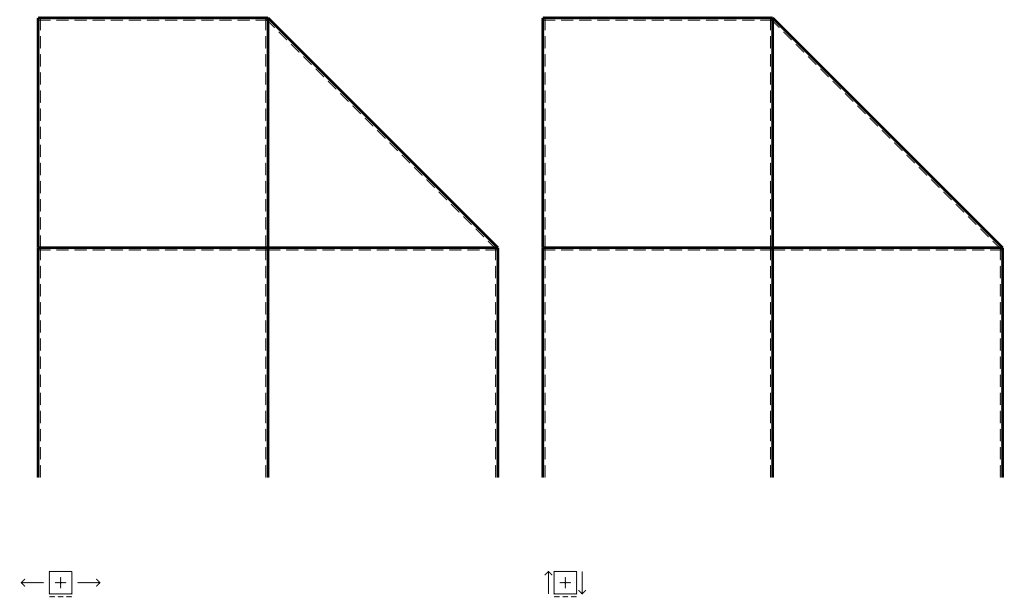
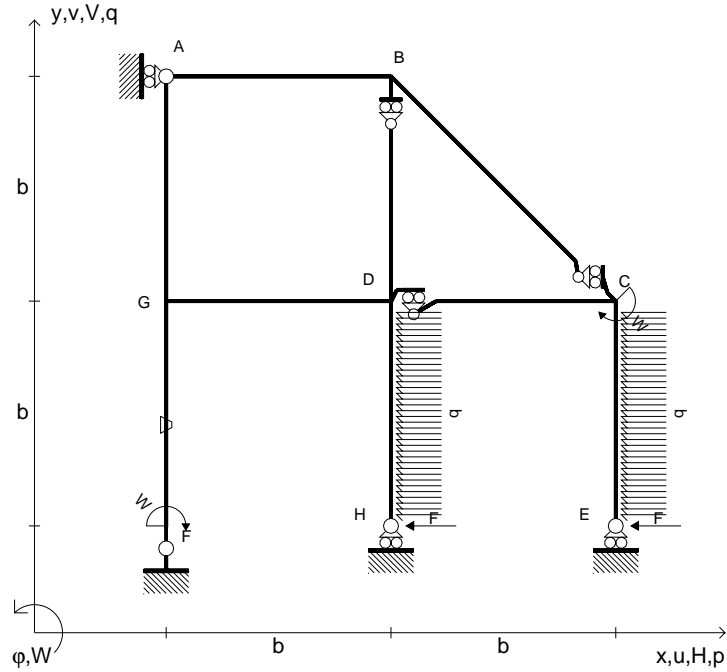
- Sul fronte:
- 1) Declassamento con indicazione dell'iperstatica scelta
 - 2) Diagrammi finali delle azioni interne
 - 3) Sforzi richiesti
(nota: profilo COMPATTO)
- Sul retro:
- 4) Analisi cinematica
 - 5) Diagrammi del momento M_0 e M^*
 - 6) Espressione del PLV
 - 7) Valore numerico dell'iperstatica

Carichi e deformazioni date hanno verso efficace in disegno.
Calcolare reazioni vincolari della struttura e delle aste.
Tracciare i diagrammi quotati delle azioni interne nelle aste.
 $J_{YZ} - x_{YZ} - \theta_{YZ}$ riferimento locale asta YZ con origine in Y.
La trave DC ha la sezione riportata e dimensioni in mm, con:
 $b = 650 \text{ mm}$, $F = 1660 \text{ N}$
Calcolare sulla sezione C la massima tensione normale σ_m .
Calcolare in * le tensioni σ_c, τ_c e la tensione di von Mises.
Lembo inferiore sezione su tratteggio trave, a destra da D a C
Curvatura θ asta FG positiva se convessa a destra con inizio F.
© Adolfo Zavelani Rossi, Politecnico di Milano, vers.27.03.13



← ⊕ →

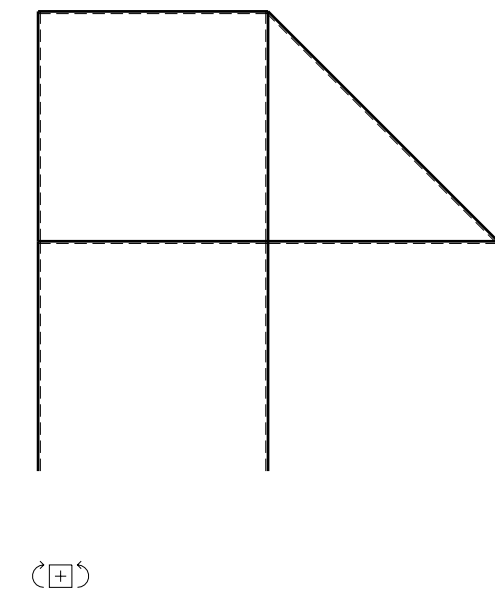
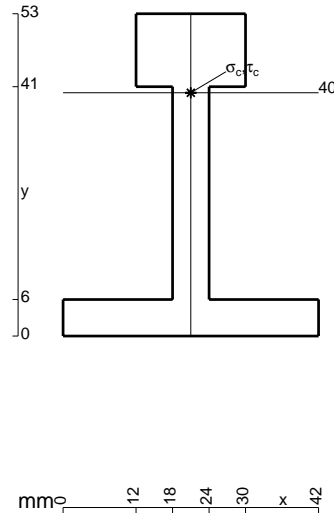
- $H_E = -F$
- $H_H = -F$
- $W_C = -W = -Fb$
- $W_F = -W = -Fb$
- $p_{CE} = -q = -F/b$
- $p_{DH} = -q = -F/b$
- $\theta_{FG} = -\theta = -\alpha T/b = -bF/EJ$
- $EJ_{AB} = EJ$
- $EJ_{BC} = EJ$
- $EJ_{BD} = EJ$
- $EJ_{DC} = EJ$
- $EJ_{CE} = EJ$
- $EJ_{FG} = EJ$
- $EJ_{GD} = EJ$
- $EJ_{DH} = EJ$
- $EJ_{GA} = EJ$



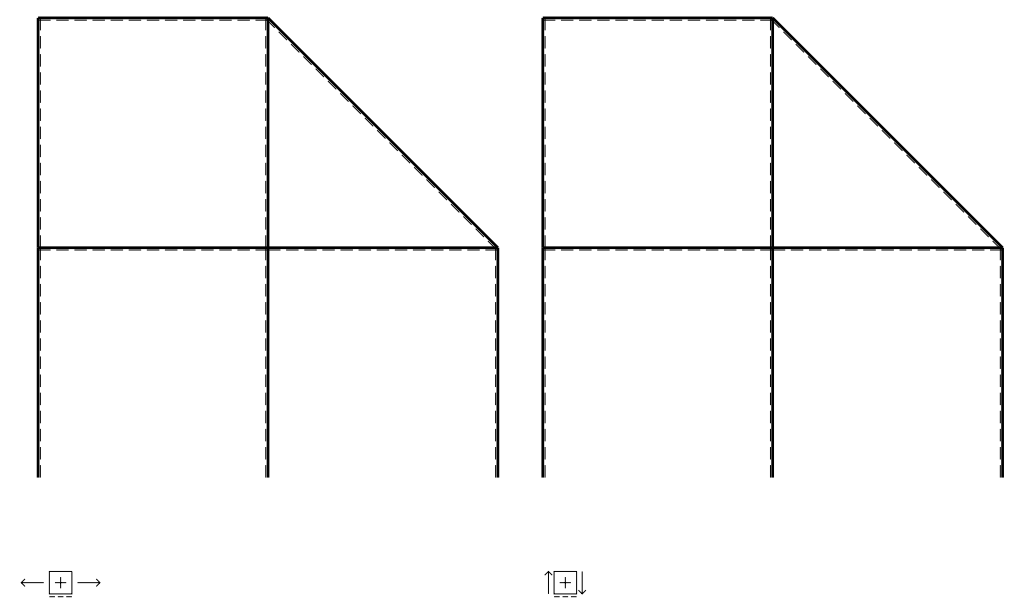
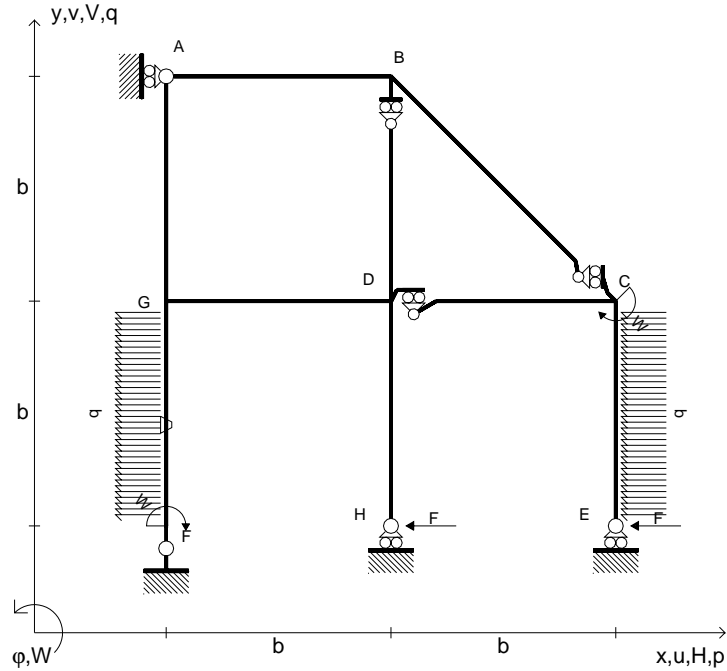
ANALISI STRUTTURALE CON PLV
 RIPORTARE SUL FILE "ESAME" SOLO LE SEGUENTI RICHIESTE

- Sul fronte:
- 1) Declassamento con indicazione dell'iperstatica scelta
 - 2) Diagrammi finali delle azioni interne
 - 3) Sforzi richiesti (nota: profilo COMPATTO)
- Sul retro:
- 4) Analisi cinematica
 - 5) Diagrammi del momento M_0 e M^*
 - 6) Espressione del PLV
 - 7) Valore numerico dell'iperstatica

Carichi e deformazioni date hanno verso efficace in disegno.
 Calcolare reazioni vincolari della struttura e delle aste.
 Tracciare i diagrammi quotati delle azioni interne nelle aste.
 $J_{YZ} - x_{YZ} - \theta_{YZ}$ riferimento locale asta YZ con origine in Y.
 La trave DC ha la sezione riportata e dimensioni in mm, con:
 $b = 700 \text{ mm}$, $F = 1150 \text{ N}$
 Calcolare sulla sezione C la massima tensione normale σ_m .
 Calcolare in * le tensioni σ_c, τ_c e la tensione di von Mises.
 Lembo inferiore sezione su tratteggio trave, a destra da D a C
 Curvatura θ asta FG positiva se convessa a destra con inizio F.
 © Adolfo Zavelani Rossi, Politecnico di Milano, vers.27.03.13



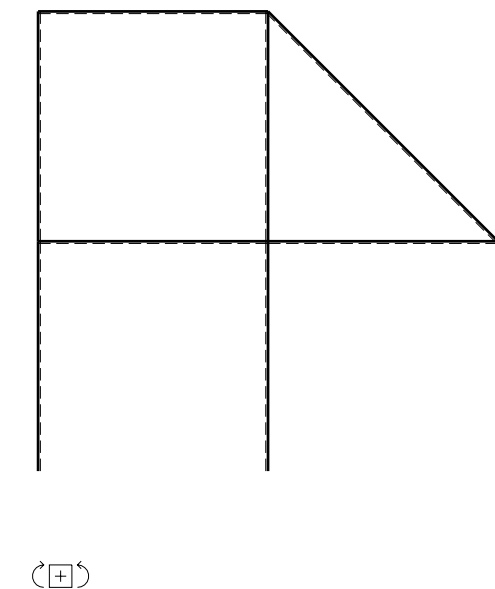
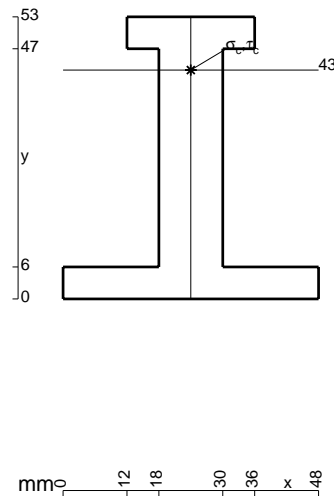
- $H_E = -F$
- $H_H = -F$
- $W_C = -W = -Fb$
- $W_F = -W = -Fb$
- $p_{CE} = -q = -F/b$
- $p_{FG} = -q = -F/b$
- $\theta_{FG} = -\theta = -\alpha T/b = -bF/EJ$
- $EJ_{AB} = EJ$
- $EJ_{BC} = EJ$
- $EJ_{BD} = EJ$
- $EJ_{DC} = EJ$
- $EJ_{CE} = EJ$
- $EJ_{FG} = EJ$
- $EJ_{GD} = EJ$
- $EJ_{DH} = EJ$
- $EJ_{GA} = EJ$



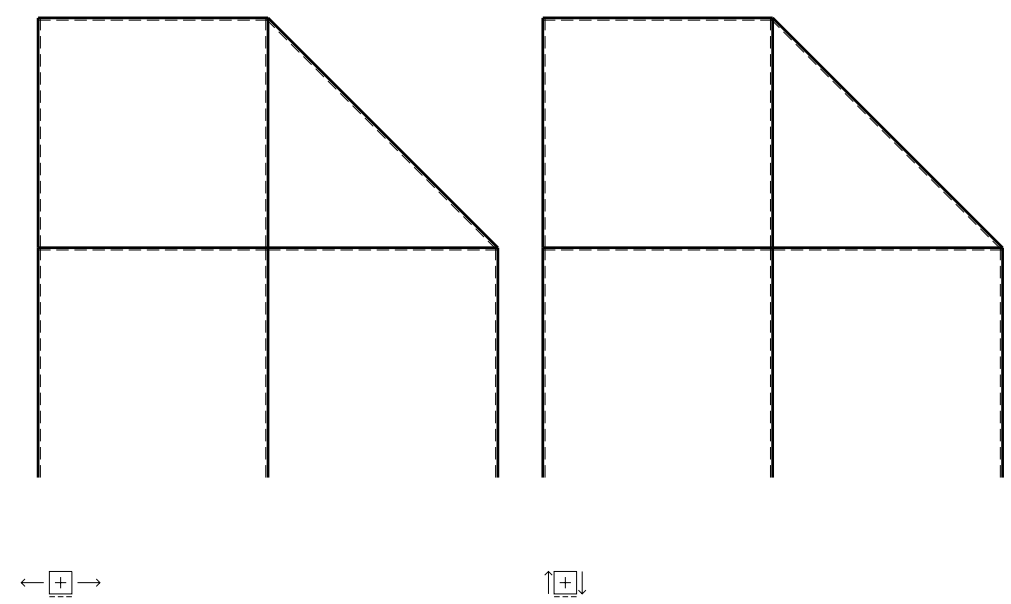
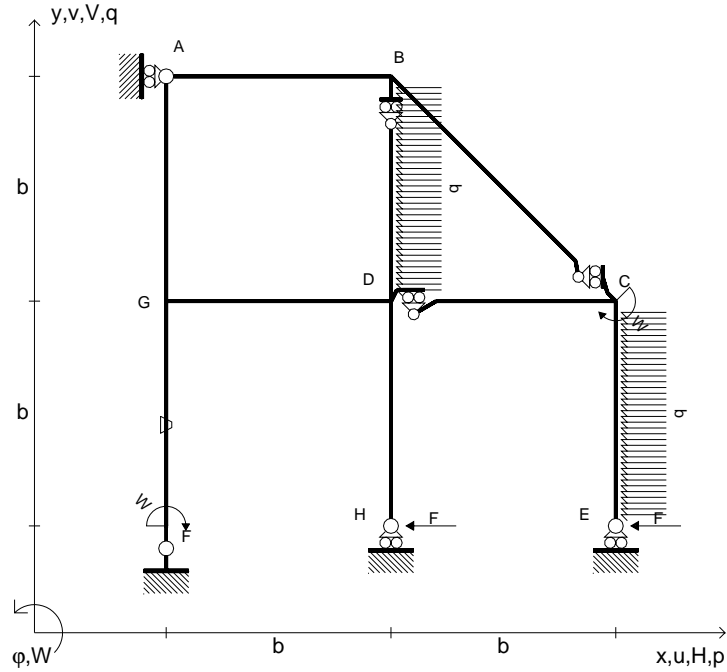
ANALISI STRUTTURALE CON PLV
 RIPORTARE SUL FILE "ESAME" SOLO LE SEGUENTI RICHIESTE

- Sul fronte:
- 1) Declassamento con indicazione dell'iperstatica scelta
 - 2) Diagrammi finali delle azioni interne
 - 3) Sforzi richiesti
(nota: profilo COMPATTO)
- Sul retro:
- 4) Analisi cinematica
 - 5) Diagrammi del momento M_0 e M^*
 - 6) Espressione del PLV
 - 7) Valore numerico dell'iperstatica

Carichi e deformazioni date hanno verso efficace in disegno.
 Calcolare reazioni vincolari della struttura e delle aste.
 Tracciare i diagrammi quotati delle azioni interne nelle aste.
 $J_{YZ} - x_{YZ} - \theta_{YZ}$ riferimento locale asta YZ con origine in Y.
 La trave DC ha la sezione riportata e dimensioni in mm, con:
 $b = 750 \text{ mm}$, $F = 1040 \text{ N}$
 Calcolare sulla sezione C la massima tensione normale σ_m .
 Calcolare in * le tensioni σ_c, τ_c e la tensione di von Mises.
 Lembo inferiore sezione su tratteggio trave, a destra da D a C
 Curvatura θ asta FG positiva se convessa a destra con inizio F.
 @ Adolfo Zavelani Rossi, Politecnico di Milano, vers.27.03.13



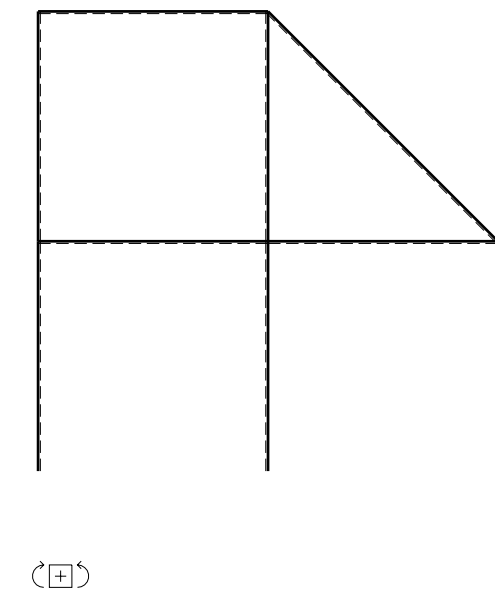
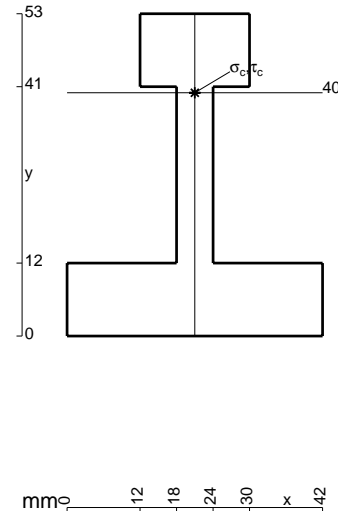
- $H_E = -F$
- $H_H = -F$
- $W_C = -W = -Fb$
- $W_F = -W = -Fb$
- $p_{CE} = -q = -F/b$
- $p_{BD} = -q = -F/b$
- $\theta_{FG} = -\theta = -\alpha T/b = -bF/EJ$
- $EJ_{AB} = EJ$
- $EJ_{BC} = EJ$
- $EJ_{BD} = EJ$
- $EJ_{DC} = EJ$
- $EJ_{CE} = EJ$
- $EJ_{FG} = EJ$
- $EJ_{GD} = EJ$
- $EJ_{DH} = EJ$
- $EJ_{GA} = EJ$



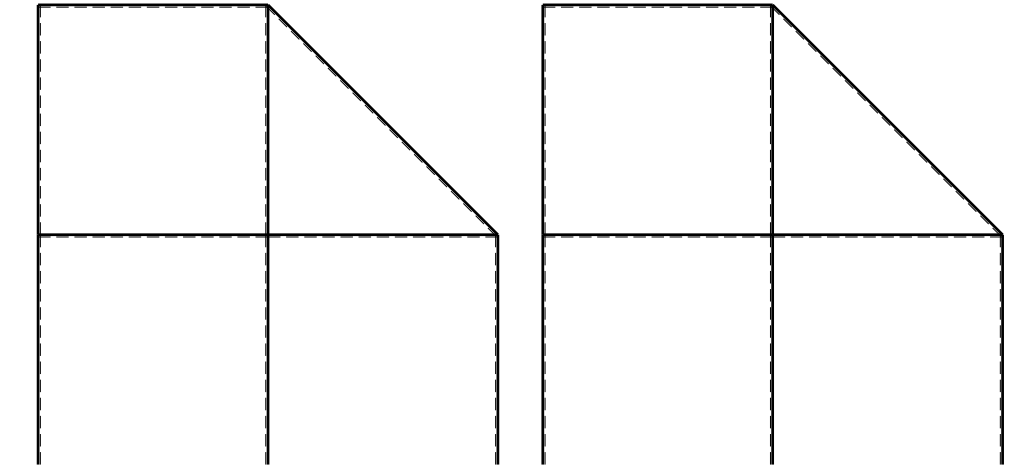
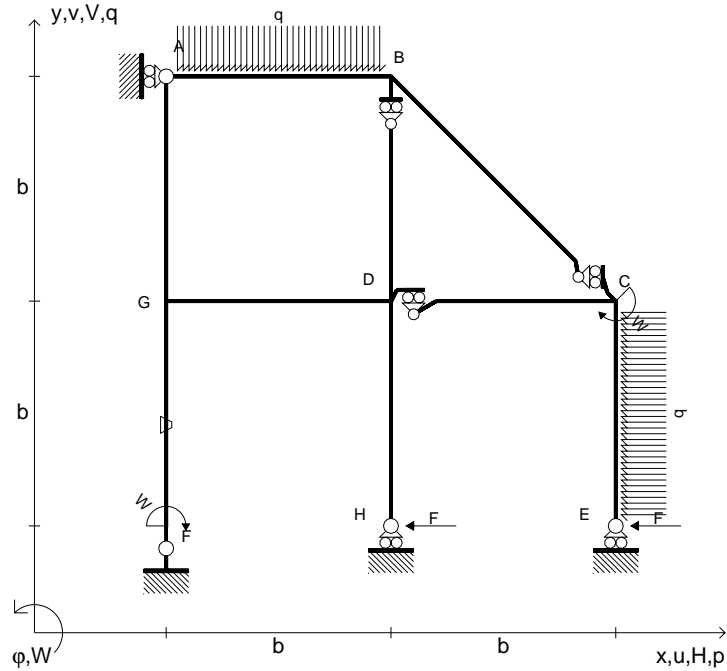
ANALISI STRUTTURALE CON PLV
 RIPORTARE SUL FILE "ESAME" SOLO LE SEGUENTI RICHIESTE

- Sul fronte:
- 1) Declassamento con indicazione dell'iperstatica scelta
 - 2) Diagrammi finali delle azioni interne
 - 3) Sforzi richiesti (nota: profilo COMPATTO)
- Sul retro:
- 4) Analisi cinematica
 - 5) Diagrammi del momento M_0 e M^*
 - 6) Espressione del PLV
 - 7) Valore numerico dell'iperstatica

Carichi e deformazioni date hanno verso efficace in disegno.
 Calcolare reazioni vincolari della struttura e delle aste.
 Tracciare i diagrammi quotati delle azioni interne nelle aste.
 $J_{YZ} - x_{YZ} - \theta_{YZ}$ riferimento locale asta YZ con origine in Y.
 La trave DC ha la sezione riportata e dimensioni in mm, con:
 $b = 800 \text{ mm}$, $F = 900 \text{ N}$
 Calcolare sulla sezione C la massima tensione normale σ_m .
 Calcolare in * le tensioni σ_c, τ_c e la tensione di von Mises.
 Lembo inferiore sezione su tratteggio trave, a destra da D a C
 Curvatura θ asta FG positiva se convessa a destra con inizio F.
 @ Adolfo Zavelani Rossi, Politecnico di Milano, vers.27.03.13



- $H_E = -F$
- $H_H = -F$
- $W_C = -W = -Fb$
- $W_F = -W = -Fb$
- $p_{CE} = -q = -F/b$
- $q_{AB} = -q = -F/b$
- $\theta_{FG} = -\theta = -\alpha T/b = -bF/EJ$
- $EJ_{AB} = EJ$
- $EJ_{BC} = EJ$
- $EJ_{BD} = EJ$
- $EJ_{DC} = EJ$
- $EJ_{CE} = EJ$
- $EJ_{FG} = EJ$
- $EJ_{GD} = EJ$
- $EJ_{DH} = EJ$
- $EJ_{GA} = EJ$



← ⊕ →

↑ ⊕ ↓

ANALISI STRUTTURALE CON PLV

RIPORTARE SUL FILE "ESAME" SOLO LE SEGUENTI RICHIESTE

Sul fronte:

- 1) Declassamento con indicazione dell'iperstatica scelta
- 2) Diagrammi finali delle azioni interne
- 3) Sforzi richiesti
(nota: profilo COMPATTO)

Sul retro:

- 4) Analisi cinematica
- 5) Diagrammi del momento M_0 e M^*
- 6) Espressione del PLV
- 7) Valore numerico dell'iperstatica

Carichi e deformazioni date hanno verso efficace in disegno.

Calcolare reazioni vincolari della struttura e delle aste.

Tracciare i diagrammi quotati delle azioni interne nelle aste.

$J_{YZ} - x_{YZ} - \theta_{YZ}$ riferimento locale asta YZ con origine in Y.

La trave DC ha la sezione riportata e dimensioni in mm, con:

$b = 850 \text{ mm}$, $F = 700 \text{ N}$

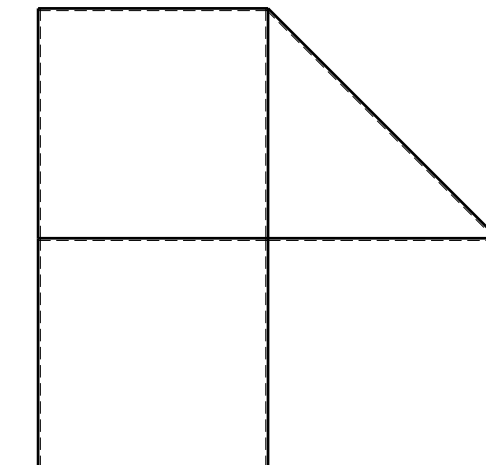

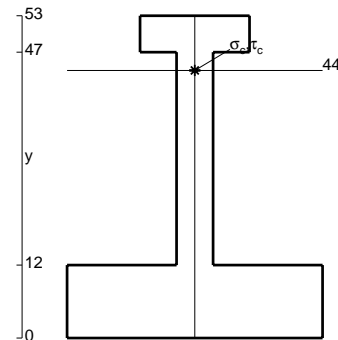
Calcolare sulla sezione C la massima tensione normale σ_m .

Calcolare in * le tensioni σ_c, τ_c e la tensione di von Mises.

Leombo inferiore sezione su tratteggio trave, a destra da D a C

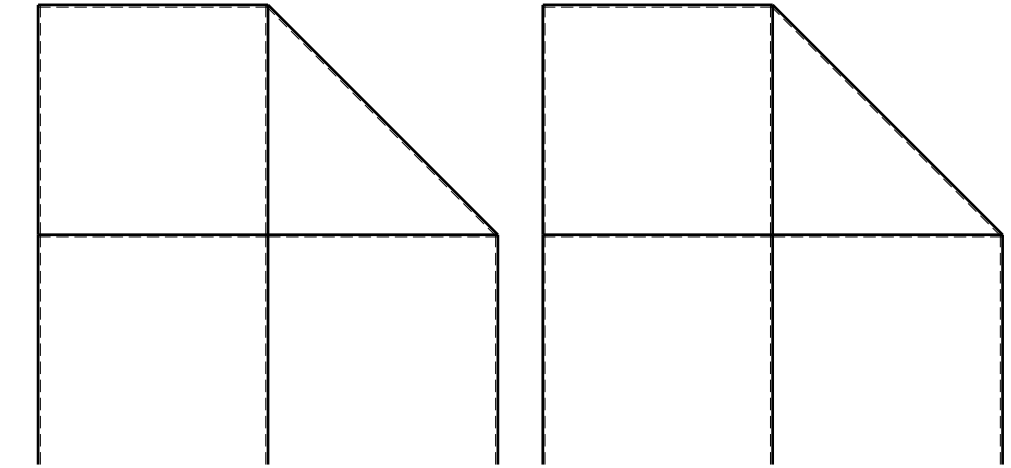
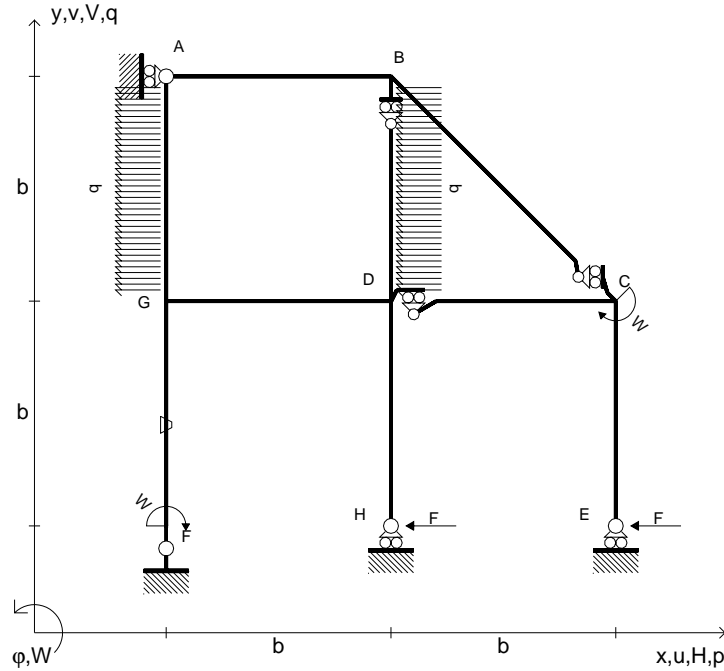
Curvatura θ asta FG positiva se convessa a destra con inizio F.

@ Adolfo Zavelani Rossi, Politecnico di Milano, vers.27.03.13



← ⊕ →

- $H_E = -F$
- $H_H = -F$
- $W_C = -W = -Fb$
- $W_F = -W = -Fb$
- $p_{BD} = -q = -F/b$
- $p_{GA} = -q = -F/b$
- $\theta_{FG} = -\theta = -\alpha T/b = -bF/EJ$
- $EJ_{AB} = EJ$
- $EJ_{BC} = EJ$
- $EJ_{BD} = EJ$
- $EJ_{DC} = EJ$
- $EJ_{CE} = EJ$
- $EJ_{FG} = EJ$
- $EJ_{GD} = EJ$
- $EJ_{DH} = EJ$
- $EJ_{GA} = EJ$



← ⊕ →

↑ ⊕ ↓

ANALISI STRUTTURALE CON PLV

RIPORTARE SUL FILE "ESAME" SOLO LE SEGUENTI RICHIESTE

Sul fronte:

- 1) Declassamento con indicazione dell'iperstatica scelta
- 2) Diagrammi finali delle azioni interne
- 3) Sforzi richiesti (nota: profilo COMPATTO)

Sul retro:

- 4) Analisi cinematica
- 5) Diagrammi del momento M_0 e M^*
- 6) Espressione del PLV
- 7) Valore numerico dell'iperstatica

Carichi e deformazioni date hanno verso efficace in disegno.

Calcolare reazioni vincolari della struttura e delle aste.

Tracciare i diagrammi quotati delle azioni interne nelle aste.

$J_{YZ} - x_{YZ} - \theta_{YZ}$ riferimento locale asta YZ con origine in Y.

La trave DC ha la sezione riportata e dimensioni in mm, con:

$b = 900 \text{ mm}$, $F = 1450 \text{ N}$

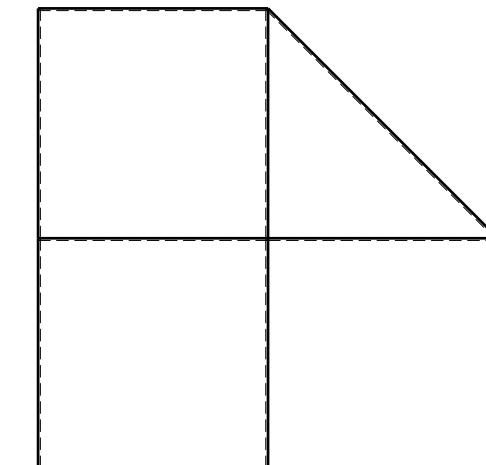
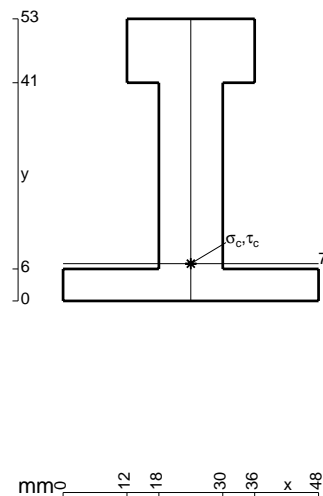
Calcolare sulla sezione C la massima tensione normale σ_m .

Calcolare in * le tensioni σ_c, τ_c e la tensione di von Mises.

Leombo inferiore sezione su tratteggio trave, a destra da D a C

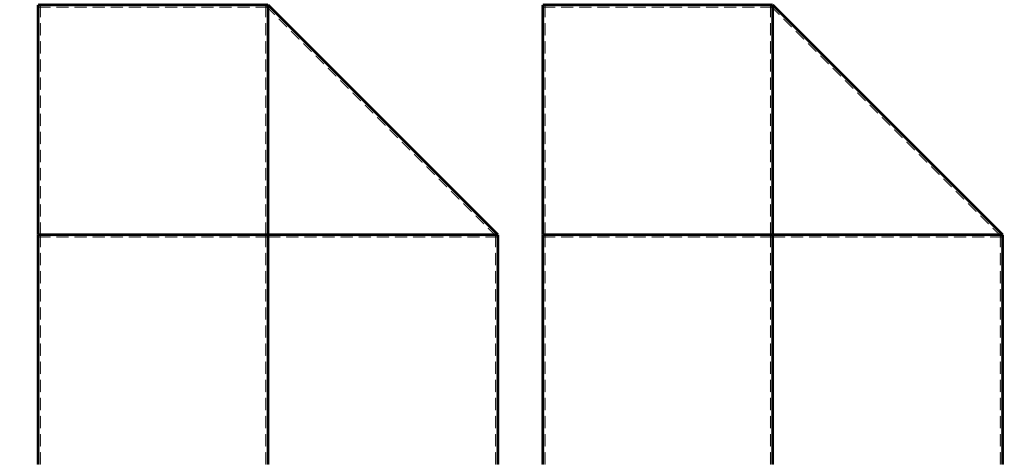
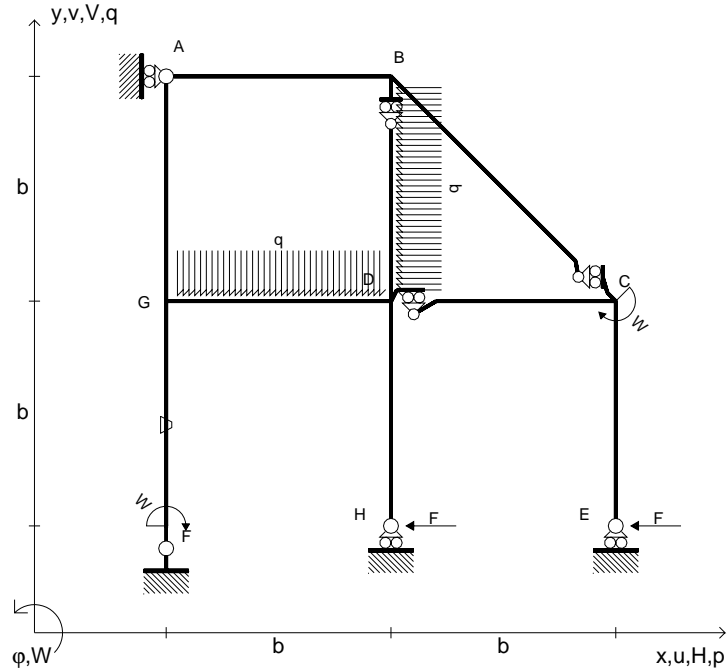
Curvatura θ asta FG positiva se convessa a destra con inizio F.

@ Adolfo Zavelani Rossi, Politecnico di Milano, vers.27.03.13



⊕ ↻

- $H_E = -F$
- $H_H = -F$
- $W_C = -W = -Fb$
- $W_F = -W = -Fb$
- $p_{BD} = -q = -F/b$
- $q_{GD} = -q = -F/b$
- $\theta_{FG} = -\theta = -\alpha T/b = -bF/EJ$
- $EJ_{AB} = EJ$
- $EJ_{BC} = EJ$
- $EJ_{BD} = EJ$
- $EJ_{DC} = EJ$
- $EJ_{CE} = EJ$
- $EJ_{FG} = EJ$
- $EJ_{GD} = EJ$
- $EJ_{DH} = EJ$
- $EJ_{GA} = EJ$



← ⊕ →

↑ ⊕ ↓

ANALISI STRUTTURALE CON PLV

RIPORTARE SUL FILE "ESAME" SOLO LE SEGUENTI RICHIESTE

Sul fronte:

- 1) Declassamento con indicazione dell'iperstatica scelta
- 2) Diagrammi finali delle azioni interne
- 3) Sforzi richiesti
(nota: profilo COMPATTO)

Sul retro:

- 4) Analisi cinematica
- 5) Diagrammi del momento M_0 e M^*
- 6) Espressione del PLV
- 7) Valore numerico dell'iperstatica

Carichi e deformazioni date hanno verso efficace in disegno.

Calcolare reazioni vincolari della struttura e delle aste.

Tracciare i diagrammi quotati delle azioni interne nelle aste.

$J_{YZ} - x_{YZ} - \theta_{YZ}$ riferimento locale asta YZ con origine in Y.

La trave DC ha la sezione riportata e dimensioni in mm, con:

$b = 950 \text{ mm}$, $F = 1270 \text{ N}$

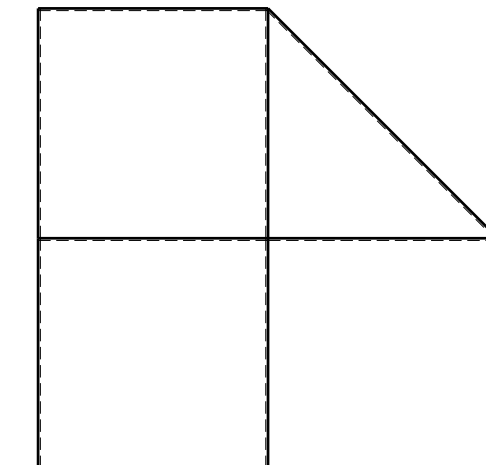
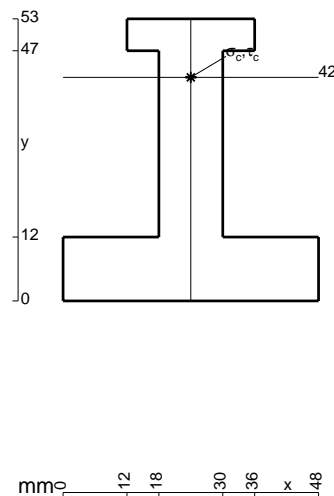
Calcolare sulla sezione C la massima tensione normale σ_m .

Calcolare in * le tensioni σ_c, τ_c e la tensione di von Mises.

Leombo inferiore sezione su tratteggio trave, a destra da D a C

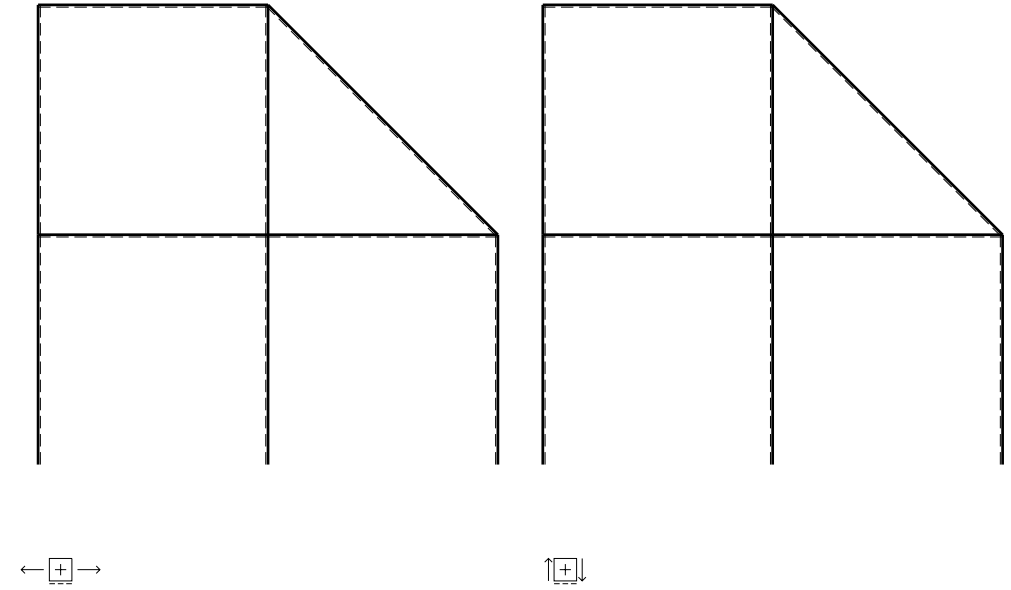
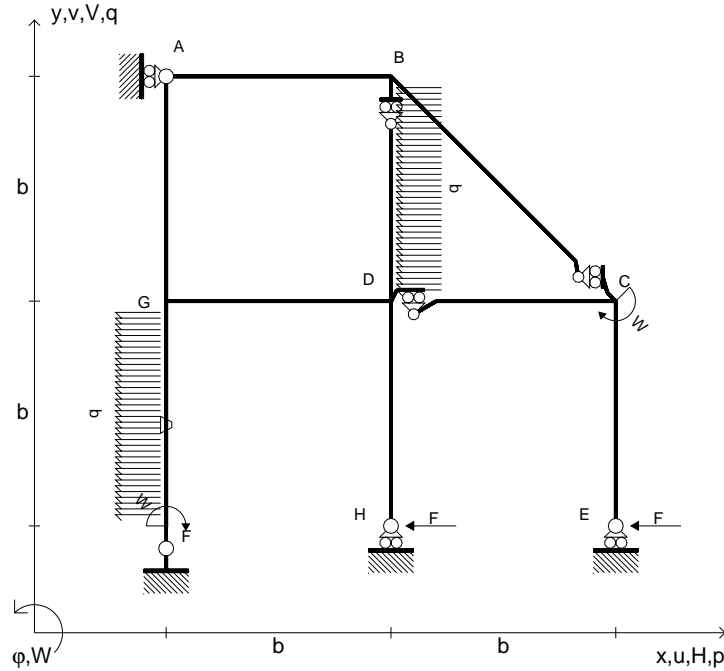
Curvatura θ asta FG positiva se convessa a destra con inizio F.

@ Adolfo Zavelani Rossi, Politecnico di Milano, vers.27.03.13



⊕ ⊖

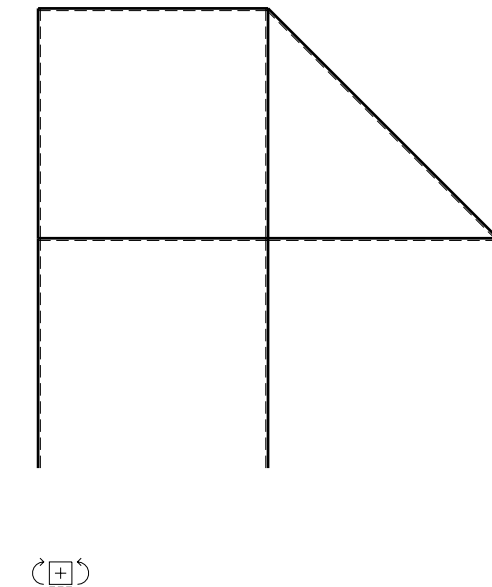
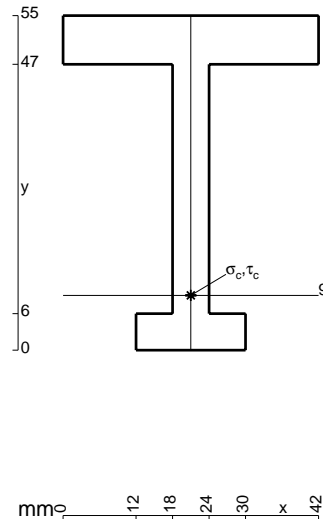
- $H_E = -F$
- $H_H = -F$
- $W_C = -W = -Fb$
- $W_F = -W = -Fb$
- $p_{BD} = -q = -F/b$
- $p_{FG} = -q = -F/b$
- $\theta_{FG} = -\theta = -\alpha T/b = -bF/EJ$
- $EJ_{AB} = EJ$
- $EJ_{BC} = EJ$
- $EJ_{BD} = EJ$
- $EJ_{DC} = EJ$
- $EJ_{CE} = EJ$
- $EJ_{FG} = EJ$
- $EJ_{GD} = EJ$
- $EJ_{DH} = EJ$
- $EJ_{GA} = EJ$



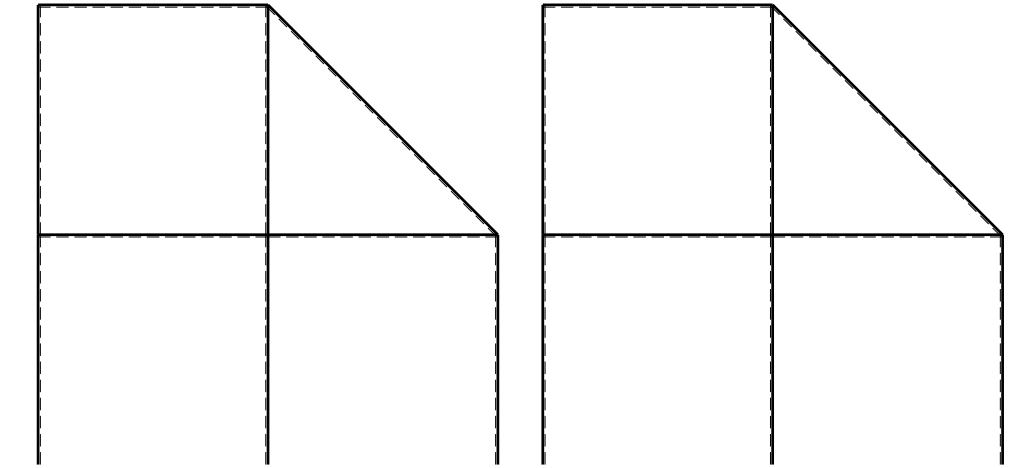
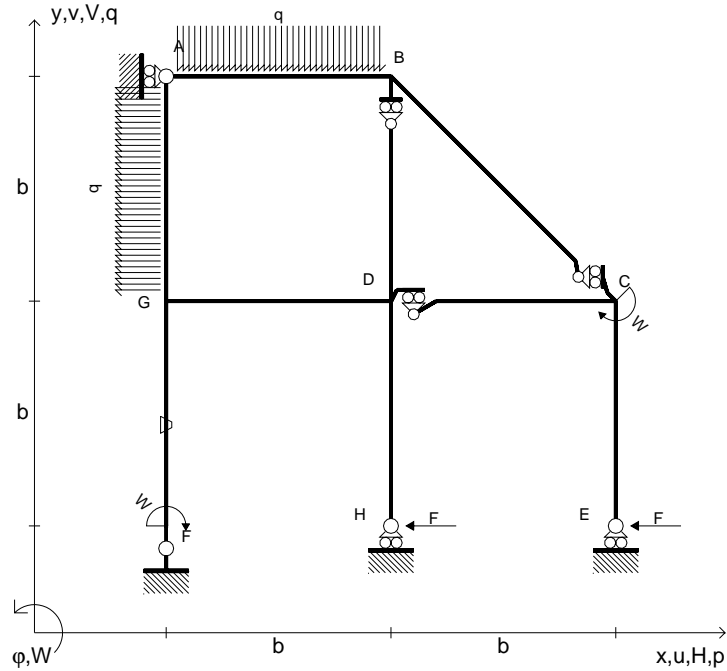
ANALISI STRUTTURALE CON PLV
 RIPORTARE SUL FILE "ESAME" SOLO LE SEGUENTI RICHIESTE

- Sul fronte:
- 1) Declassamento con indicazione dell'iperstatica scelta
 - 2) Diagrammi finali delle azioni interne
 - 3) Sforzi richiesti (nota: profilo COMPATTO)
- Sul retro:
- 4) Analisi cinematica
 - 5) Diagrammi del momento M_0 e M^*
 - 6) Espressione del PLV
 - 7) Valore numerico dell'iperstatica

Carichi e deformazioni date hanno verso efficace in disegno.
 Calcolare reazioni vincolari della struttura e delle aste.
 Tracciare i diagrammi quotati delle azioni interne nelle aste.
 $J_{YZ} - x_{YZ} - \theta_{YZ}$ riferimento locale asta YZ con origine in Y.
 La trave DC ha la sezione riportata e dimensioni in mm, con:
 $b = 570 \text{ mm}$, $F = 1330 \text{ N}$
 Calcolare sulla sezione C la massima tensione normale σ_m .
 Calcolare in * le tensioni σ_c, τ_c e la tensione di von Mises.
 Lembo inferiore sezione su tratteggio trave, a destra da D a C
 Curvatura θ asta FG positiva se convessa a destra con inizio F.
 © Adolfo Zavelani Rossi, Politecnico di Milano, vers.27.03.13



- $H_E = -F$
- $H_H = -F$
- $W_C = -W = -Fb$
- $W_F = -W = -Fb$
- $q_{AB} = -q = -F/b$
- $p_{GA} = -q = -F/b$
- $\theta_{FG} = -\theta = -\alpha T/b = -bF/EJ$
- $EJ_{AB} = EJ$
- $EJ_{BC} = EJ$
- $EJ_{BD} = EJ$
- $EJ_{DC} = EJ$
- $EJ_{CE} = EJ$
- $EJ_{FG} = EJ$
- $EJ_{GD} = EJ$
- $EJ_{DH} = EJ$
- $EJ_{GA} = EJ$



← ⊕ →

↑ ⊕ ↓

ANALISI STRUTTURALE CON PLV

RIPORTARE SUL FILE "ESAME" SOLO LE SEGUENTI RICHIESTE

Sul fronte:

- 1) Declassamento con indicazione dell'iperstatica scelta
- 2) Diagrammi finali delle azioni interne
- 3) Sforzi richiesti
(nota: profilo COMPATTO)

Sul retro:

- 4) Analisi cinematica
- 5) Diagrammi del momento M_0 e M^*
- 6) Espressione del PLV
- 7) Valore numerico dell'iperstatica

Carichi e deformazioni date hanno verso efficace in disegno.

Calcolare reazioni vincolari della struttura e delle aste.

Tracciare i diagrammi quotati delle azioni interne nelle aste.

$J_{YZ} - x_{YZ} - \theta_{YZ}$ riferimento locale asta YZ con origine in Y.

La trave DC ha la sezione riportata e dimensioni in mm, con:

$b = 720 \text{ mm}$, $F = 1790 \text{ N}$

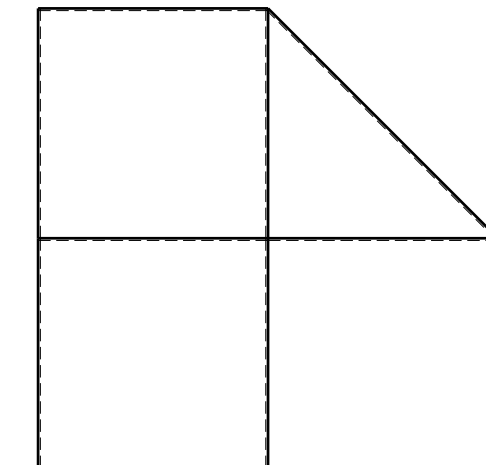

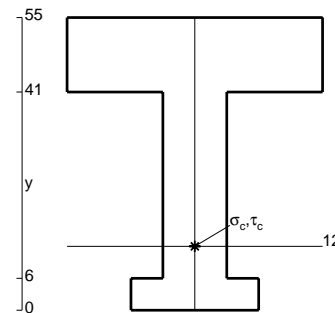
Calcolare sulla sezione C la massima tensione normale σ_m .

Calcolare in * le tensioni σ_c, τ_c e la tensione di von Mises.

Le mbo inferiore sezione su tratteggio trave, a destra da D a C

Curvatura θ asta FG positiva se convessa a destra con inizio F.

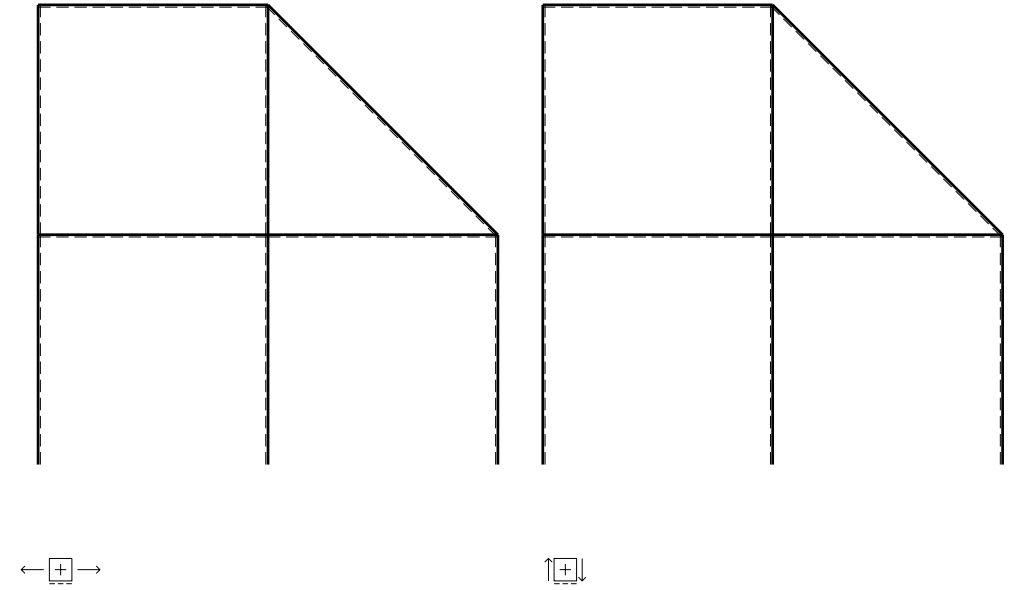
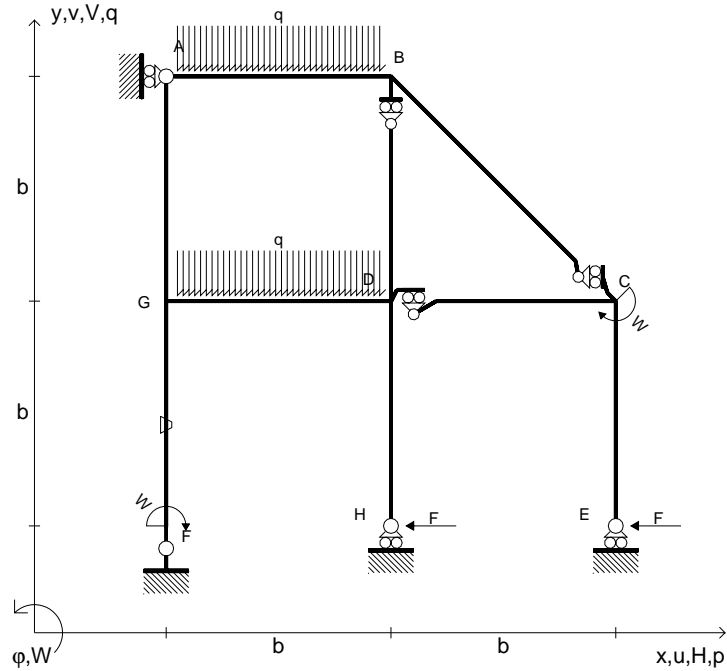
@ Adolfo Zavelani Rossi, Politecnico di Milano, vers.27.03.13



← ⊕ →

@ Adolfo Zavelani Rossi, Politecnico di Milano, vers.27.03.13

- $H_E = -F$
- $H_H = -F$
- $W_C = -W = -Fb$
- $W_F = -W = -Fb$
- $q_{AB} = -q = -F/b$
- $q_{GD} = -q = -F/b$
- $\theta_{FG} = -\theta = -\alpha T/b = -bF/EJ$
- $EJ_{AB} = EJ$
- $EJ_{BC} = EJ$
- $EJ_{BD} = EJ$
- $EJ_{DC} = EJ$
- $EJ_{CE} = EJ$
- $EJ_{FG} = EJ$
- $EJ_{GD} = EJ$
- $EJ_{DH} = EJ$
- $EJ_{GA} = EJ$



ANALISI STRUTTURALE CON PLV

RIPORTARE SUL FILE "ESAME" SOLO LE SEGUENTI RICHIESTE

Sul fronte:

- 1) Declassamento con indicazione dell'iperstatica scelta
- 2) Diagrammi finali delle azioni interne
- 3) Sforzi richiesti (nota: profilo COMPATTO)

Sul retro:

- 4) Analisi cinematica
- 5) Diagrammi del momento M_0 e M^*
- 6) Espressione del PLV
- 7) Valore numerico dell'iperstatica

Carichi e deformazioni date hanno verso efficace in disegno.

Calcolare reazioni vincolari della struttura e delle aste.

Tracciare i diagrammi quotati delle azioni interne nelle aste.

$J_{YZ} - x_{YZ} - \theta_{YZ}$ riferimento locale asta YZ con origine in Y.

La trave DC ha la sezione riportata e dimensioni in mm, con:

$b = 780 \text{ mm}$, $F = 1160 \text{ N}$

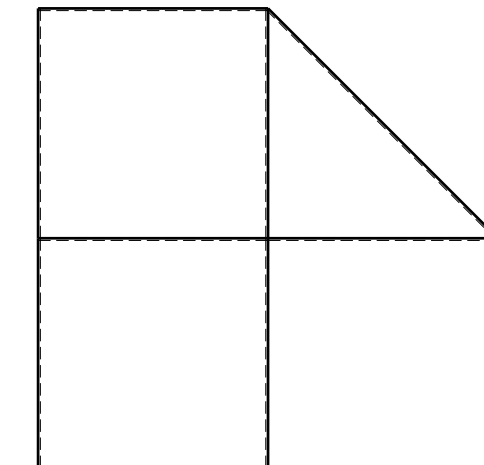
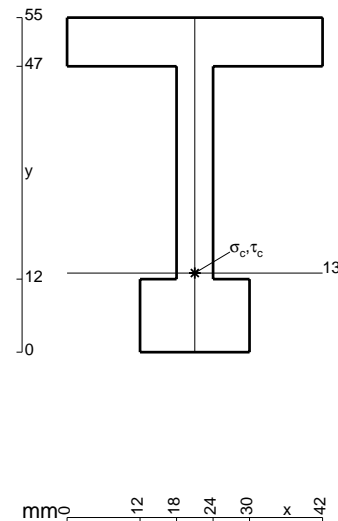
Calcolare sulla sezione C la massima tensione normale σ_m .

Calcolare in * le tensioni σ_c, τ_c e la tensione di von Mises.

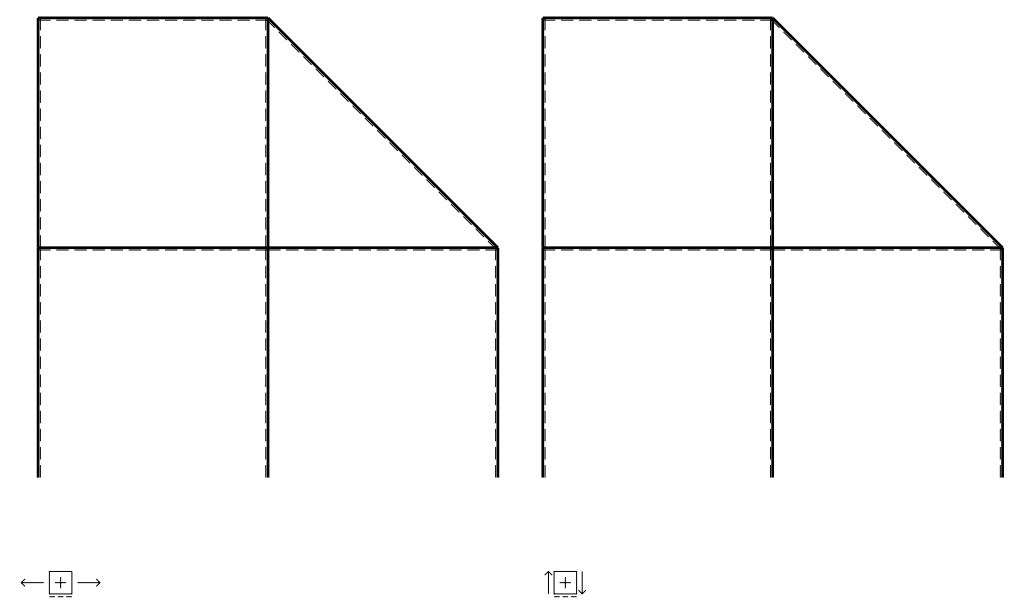
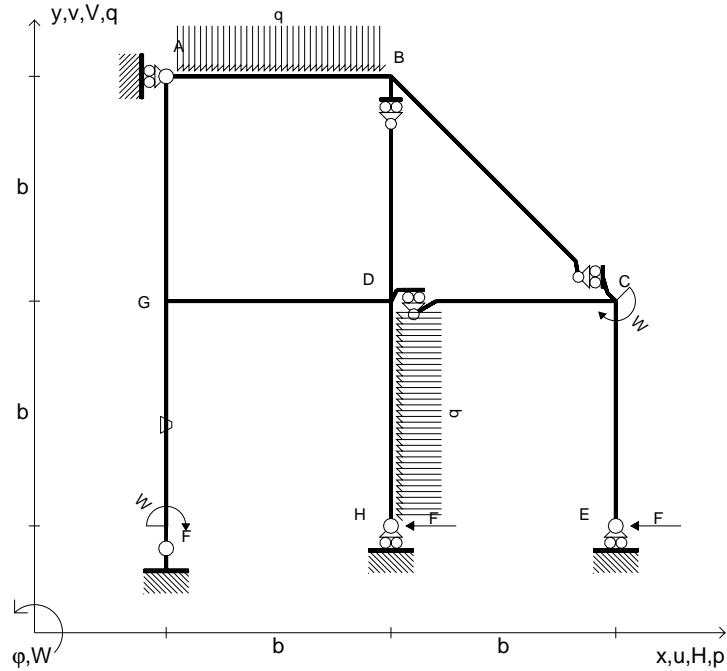
Leombo inferiore sezione su tratteggio trave, a destra da D a C

Curvatura θ asta FG positiva se convessa a destra con inizio F.

@ Adolfo Zavelani Rossi, Politecnico di Milano, vers.27.03.13



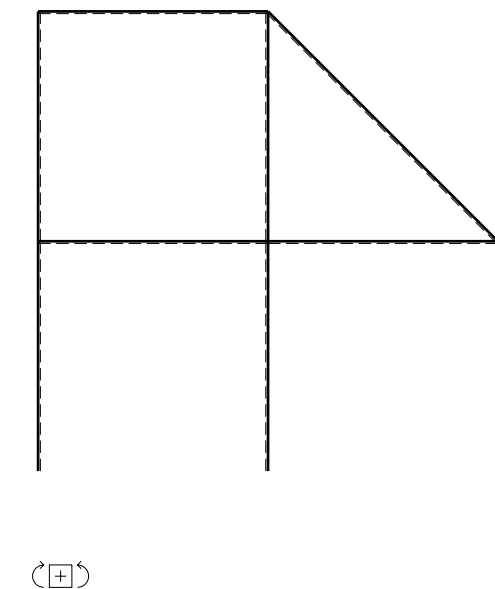
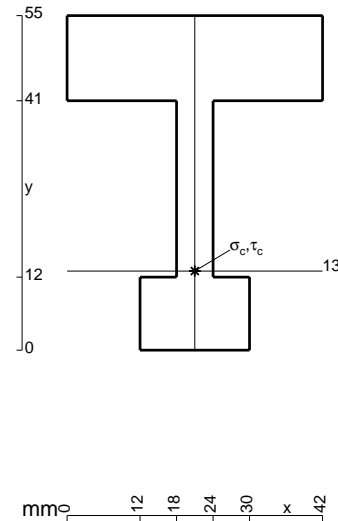
- $H_E = -F$
- $H_H = -F$
- $W_C = -W = -Fb$
- $W_F = -W = -Fb$
- $q_{AB} = -q = -F/b$
- $p_{DH} = -q = -F/b$
- $\theta_{FG} = -\theta = -\alpha T/b = -bF/EJ$
- $EJ_{AB} = EJ$
- $EJ_{BC} = EJ$
- $EJ_{BD} = EJ$
- $EJ_{DC} = EJ$
- $EJ_{CE} = EJ$
- $EJ_{FG} = EJ$
- $EJ_{GD} = EJ$
- $EJ_{DH} = EJ$
- $EJ_{GA} = EJ$



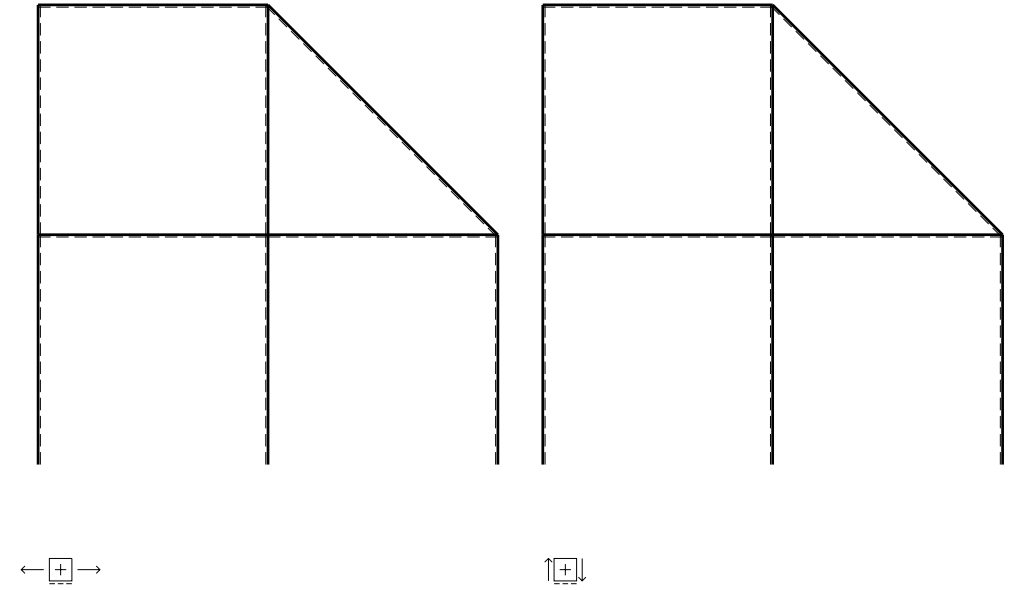
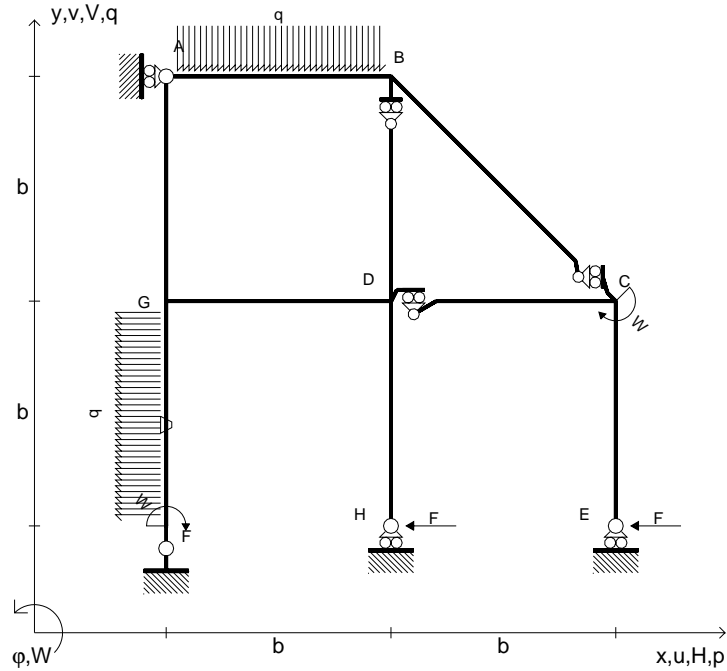
ANALISI STRUTTURALE CON PLV
 RIPORTARE SUL FILE "ESAME" SOLO LE SEGUENTI RICHIESTE

- Sul fronte:
- 1) Declassamento con indicazione dell'iperstatica scelta
 - 2) Diagrammi finali delle azioni interne
 - 3) Sforzi richiesti (nota: profilo COMPATTO)
- Sul retro:
- 4) Analisi cinematica
 - 5) Diagrammi del momento M_0 e M^*
 - 6) Espressione del PLV
 - 7) Valore numerico dell'iperstatica

Carichi e deformazioni date hanno verso efficace in disegno.
 Calcolare reazioni vincolari della struttura e delle aste.
 Tracciare i diagrammi quotati delle azioni interne nelle aste.
 $J_{YZ} - x_{YZ} - \theta_{YZ}$ riferimento locale asta YZ con origine in Y.
 La trave DC ha la sezione riportata e dimensioni in mm, con:
 $b = 830 \text{ mm}$, $F = 1150 \text{ N}$
 Calcolare sulla sezione C la massima tensione normale σ_m .
 Calcolare in * le tensioni σ_c, τ_c e la tensione di von Mises.
 Lembo inferiore sezione su tratteggio trave, a destra da D a C
 Curvatura θ asta FG positiva se convessa a destra con inizio F.
 @ Adolfo Zavelani Rossi, Politecnico di Milano, vers.27.03.13



- $H_E = -F$
- $H_H = -F$
- $W_C = -W = -Fb$
- $W_F = -W = -Fb$
- $q_{AB} = -q = -F/b$
- $p_{FG} = -q = -F/b$
- $\theta_{FG} = -\theta = -\alpha T/b = -bF/EJ$
- $EJ_{AB} = EJ$
- $EJ_{BC} = EJ$
- $EJ_{BD} = EJ$
- $EJ_{DC} = EJ$
- $EJ_{CE} = EJ$
- $EJ_{FG} = EJ$
- $EJ_{GD} = EJ$
- $EJ_{DH} = EJ$
- $EJ_{GA} = EJ$



ANALISI STRUTTURALE CON PLV

RIPORTARE SUL FILE "ESAME" SOLO LE SEGUENTI RICHIESTE

Sul fronte:

- 1) Declassamento con indicazione dell'iperstatica scelta
- 2) Diagrammi finali delle azioni interne
- 3) Sforzi richiesti
(nota: profilo COMPATTO)

Sul retro:

- 4) Analisi cinematica
- 5) Diagrammi del momento M_0 e M^*
- 6) Espressione del PLV
- 7) Valore numerico dell'iperstatica

Carichi e deformazioni date hanno verso efficace in disegno.

Calcolare reazioni vincolari della struttura e delle aste.

Tracciare i diagrammi quotati delle azioni interne nelle aste.

$J_{YZ} - x_{YZ} - \theta_{YZ}$ riferimento locale asta YZ con origine in Y.

La trave DC ha la sezione riportata e dimensioni in mm, con:

$b = 880 \text{ mm}$, $F = 1550 \text{ N}$

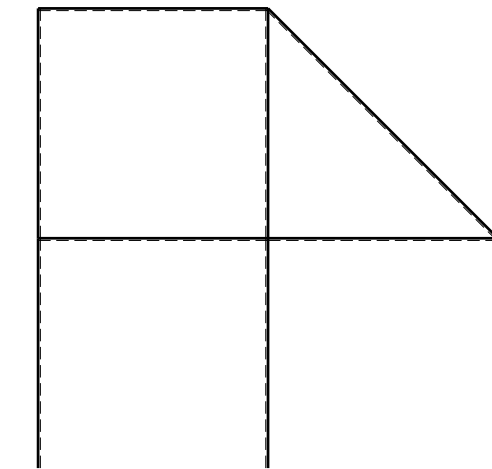
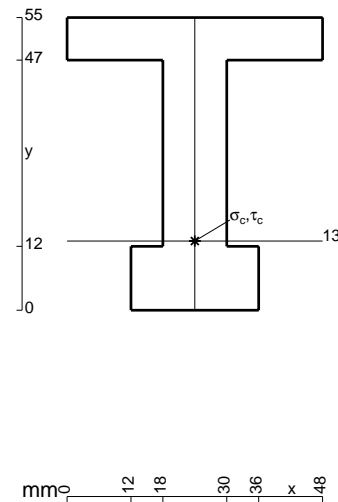
Calcolare sulla sezione C la massima tensione normale σ_m .

Calcolare in * le tensioni σ_c, τ_c e la tensione di von Mises.

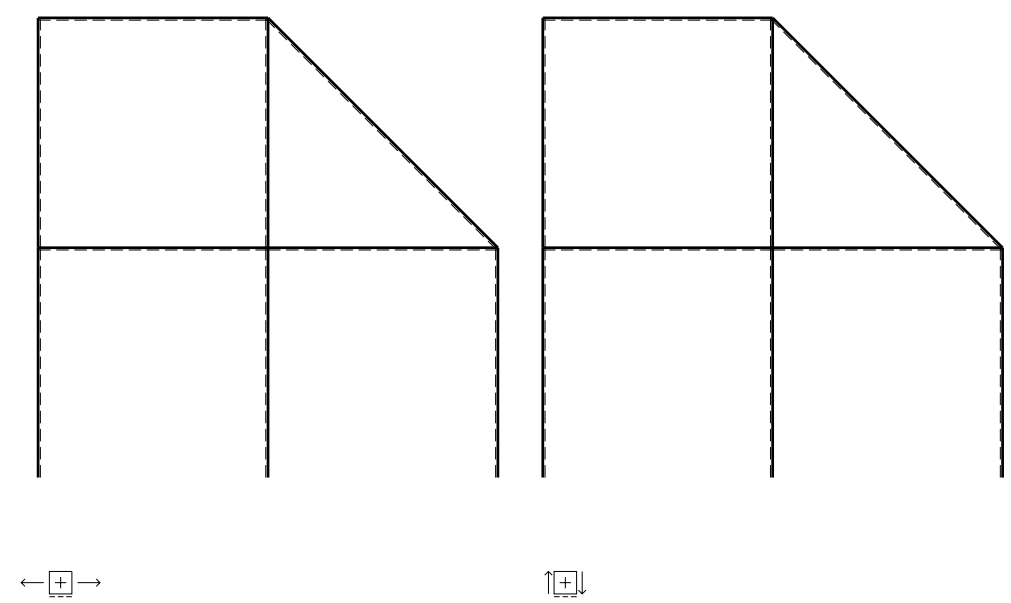
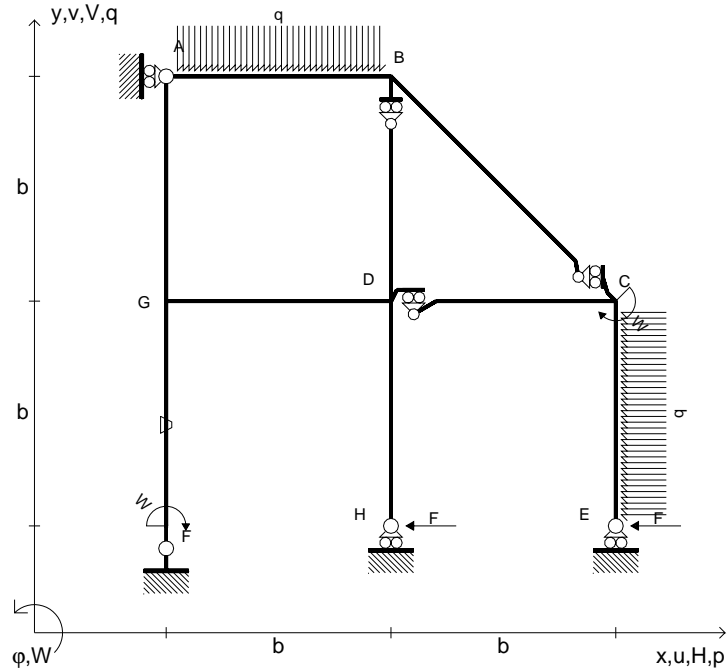
Leombo inferiore sezione su tratteggio trave, a destra da D a C

Curvatura θ asta FG positiva se convessa a destra con inizio F.

@ Adolfo Zavelani Rossi, Politecnico di Milano, vers.27.03.13



- $H_E = -F$
- $H_H = -F$
- $W_C = -W = -Fb$
- $W_F = -W = -Fb$
- $q_{AB} = -q = -F/b$
- $p_{CE} = -q = -F/b$
- $\theta_{FG} = -\theta = -\alpha T/b = -bF/EJ$
- $EJ_{AB} = EJ$
- $EJ_{BC} = EJ$
- $EJ_{BD} = EJ$
- $EJ_{DC} = EJ$
- $EJ_{CE} = EJ$
- $EJ_{FG} = EJ$
- $EJ_{GD} = EJ$
- $EJ_{DH} = EJ$
- $EJ_{GA} = EJ$



ANALISI STRUTTURALE CON PLV

RIPORTARE SUL FILE "ESAME" SOLO LE SEGUENTI RICHIESTE

Sul fronte:

- 1) Declassamento con indicazione dell'iperstatica scelta
- 2) Diagrammi finali delle azioni interne
- 3) Sforzi richiesti
(nota: profilo COMPATTO)

Sul retro:

- 4) Analisi cinematica
- 5) Diagrammi del momento M_0 e M^*
- 6) Espressione del PLV
- 7) Valore numerico dell'iperstatica

Carichi e deformazioni date hanno verso efficace in disegno.

Calcolare reazioni vincolari della struttura e delle aste.

Tracciare i diagrammi quotati delle azioni interne nelle aste.

$J_{YZ} - x_{YZ} - \theta_{YZ}$ riferimento locale asta YZ con origine in Y.

La trave DC ha la sezione riportata e dimensioni in mm, con:

$b = 930 \text{ mm}$, $F = 1240 \text{ N}$

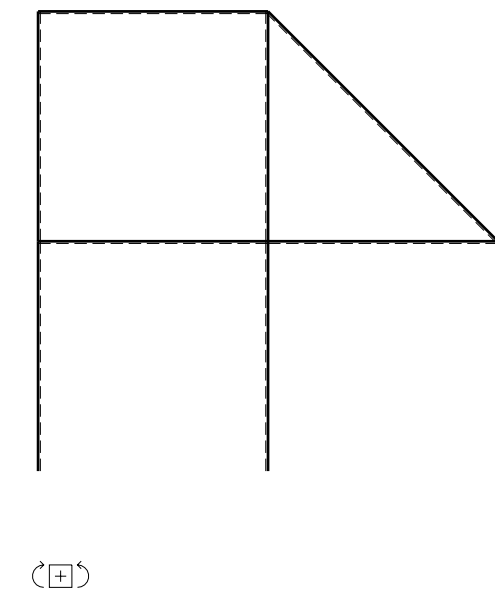
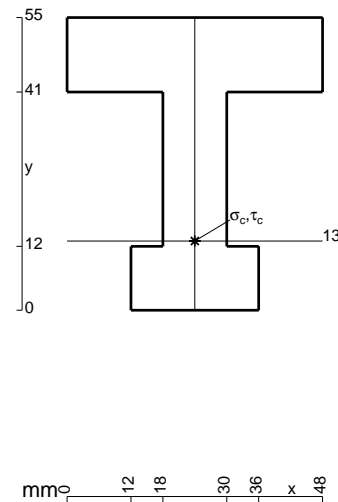
Calcolare sulla sezione C la massima tensione normale σ_m .

Calcolare in * le tensioni σ_c, τ_c e la tensione di von Mises.

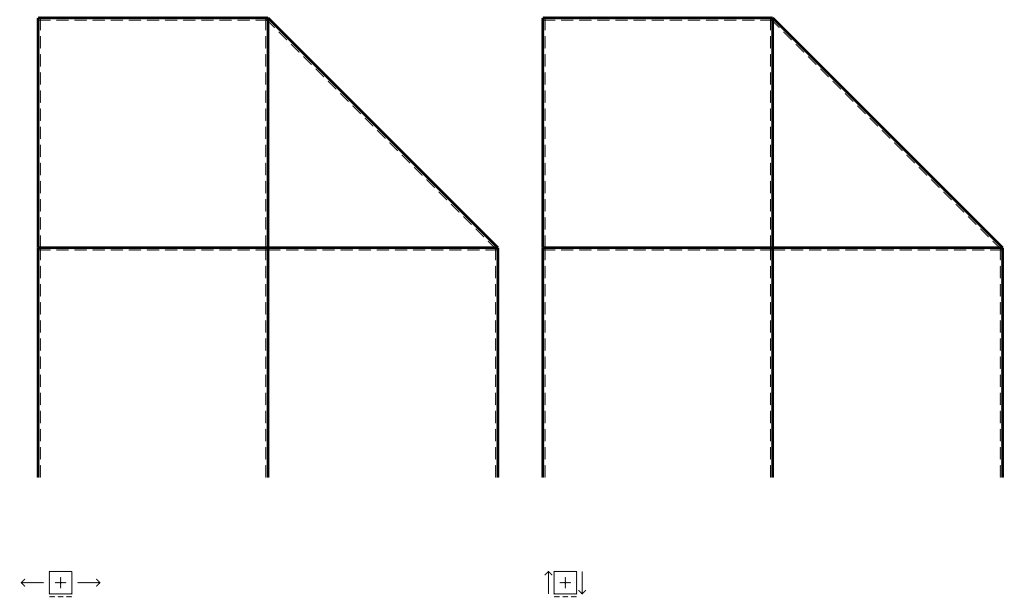
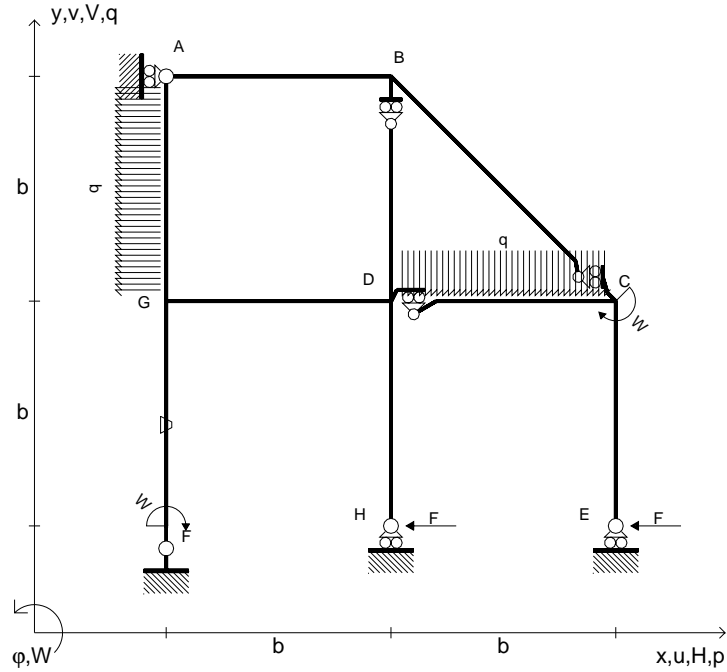
Le mbo inferiore sezione su tratteggio trave, a destra da D a C

Curvatura θ asta FG positiva se convessa a destra con inizio F.

@ Adolfo Zavelani Rossi, Politecnico di Milano, vers.27.03.13



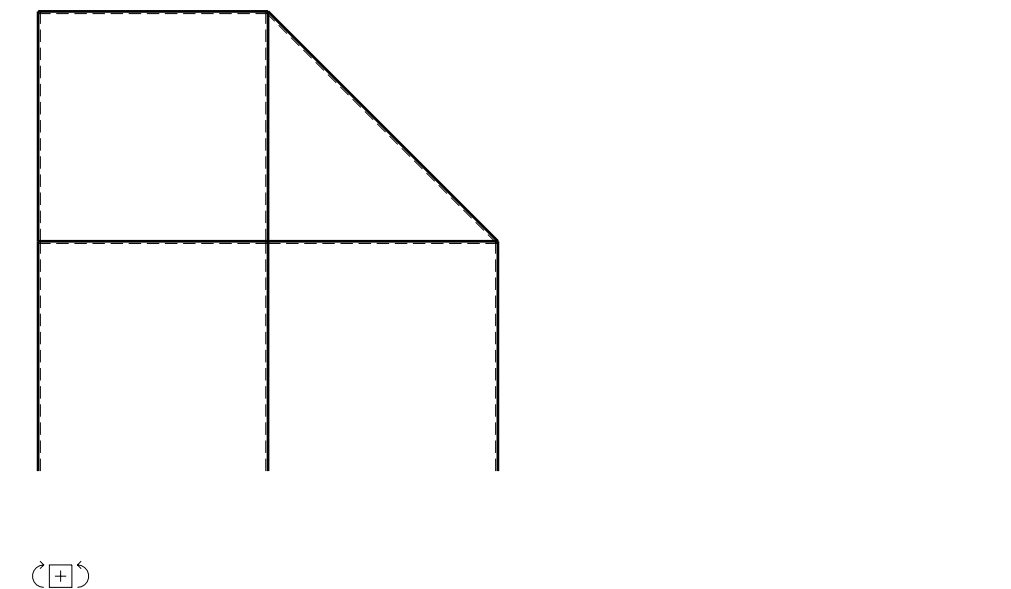
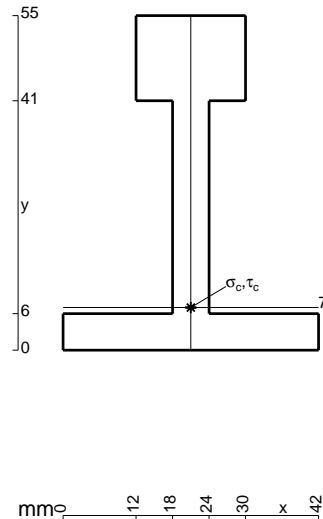
- $H_E = -F$
- $H_H = -F$
- $W_C = -W = -Fb$
- $W_F = -W = -Fb$
- $q_{DC} = -q = -F/b$
- $p_{GA} = -q = -F/b$
- $\theta_{FG} = -\theta = -\alpha T/b = -bF/EJ$
- $EJ_{AB} = EJ$
- $EJ_{BC} = EJ$
- $EJ_{BD} = EJ$
- $EJ_{DC} = EJ$
- $EJ_{CE} = EJ$
- $EJ_{FG} = EJ$
- $EJ_{GD} = EJ$
- $EJ_{DH} = EJ$
- $EJ_{GA} = EJ$



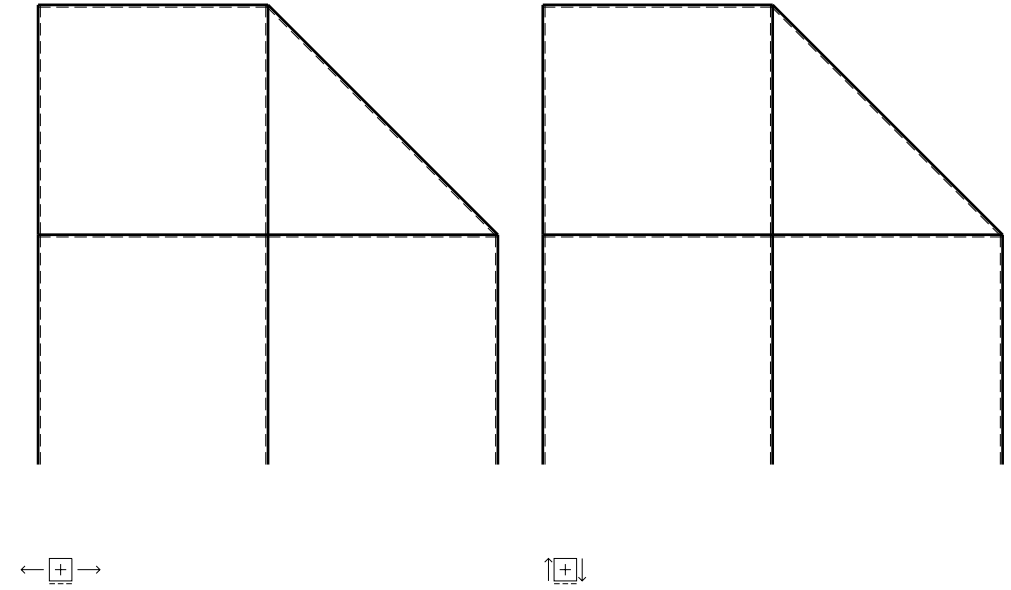
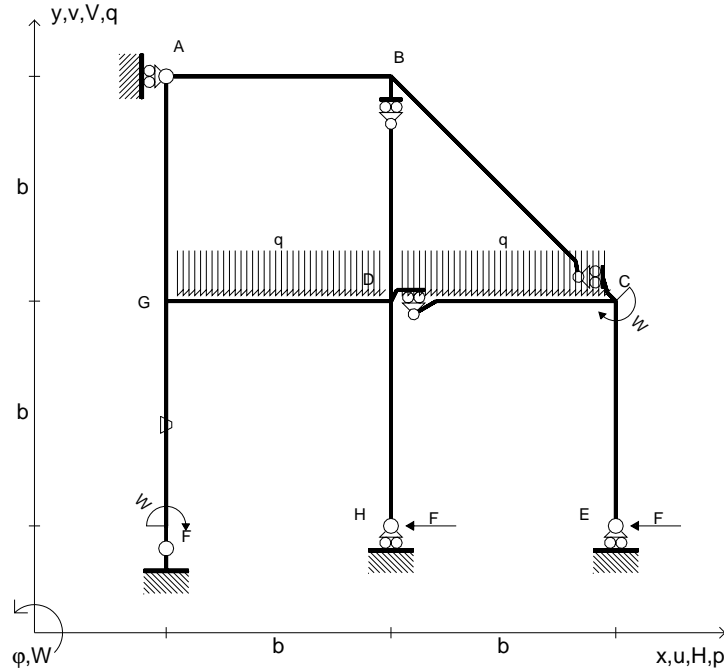
ANALISI STRUTTURALE CON PLV
 RIPORTARE SUL FILE "ESAME" SOLO LE SEGUENTI RICHIESTE

- Sul fronte:
- 1) Declassamento con indicazione dell'iperstatica scelta
 - 2) Diagrammi finali delle azioni interne
 - 3) Sforzi richiesti (nota: profilo COMPATTO)
- Sul retro:
- 4) Analisi cinematica
 - 5) Diagrammi del momento M_0 e M^*
 - 6) Espressione del PLV
 - 7) Valore numerico dell'iperstatica

Carichi e deformazioni date hanno verso efficace in disegno.
 Calcolare reazioni vincolari della struttura e delle aste.
 Tracciare i diagrammi quotati delle azioni interne nelle aste.
 $J_{YZ} - x_{YZ} - \theta_{YZ}$ riferimento locale asta YZ con origine in Y.
 La trave DC ha la sezione riportata e dimensioni in mm, con:
 $b = 520 \text{ mm}$, $F = 1800 \text{ N}$
 Calcolare sulla sezione C la massima tensione normale σ_m .
 Calcolare in * le tensioni σ_c, τ_c e la tensione di von Mises.
 Lembo inferiore sezione su tratteggio trave, a destra da D a C
 Curvatura θ asta FG positiva se convessa a destra con inizio F.
 @ Adolfo Zavelani Rossi, Politecnico di Milano, vers.27.03.13



- $H_E = -F$
- $H_H = -F$
- $W_C = -W = -Fb$
- $W_F = -W = -Fb$
- $q_{DC} = -q = -F/b$
- $q_{GD} = -q = -F/b$
- $\theta_{FG} = -\theta = -\alpha T/b = -bF/EJ$
- $EJ_{AB} = EJ$
- $EJ_{BC} = EJ$
- $EJ_{BD} = EJ$
- $EJ_{DC} = EJ$
- $EJ_{CE} = EJ$
- $EJ_{FG} = EJ$
- $EJ_{GD} = EJ$
- $EJ_{DH} = EJ$
- $EJ_{GA} = EJ$

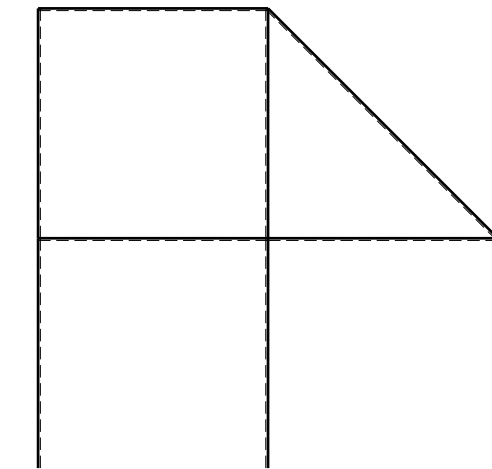
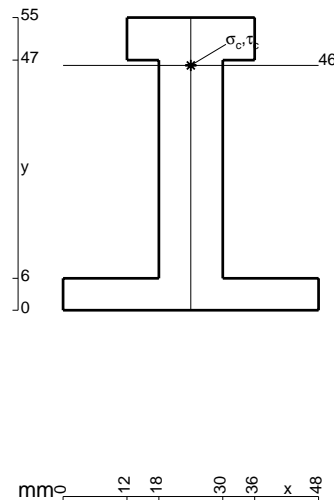


ANALISI STRUTTURALE CON PLV
 RIPORTARE SUL FILE "ESAME" SOLO LE SEGUENTI RICHIESTE

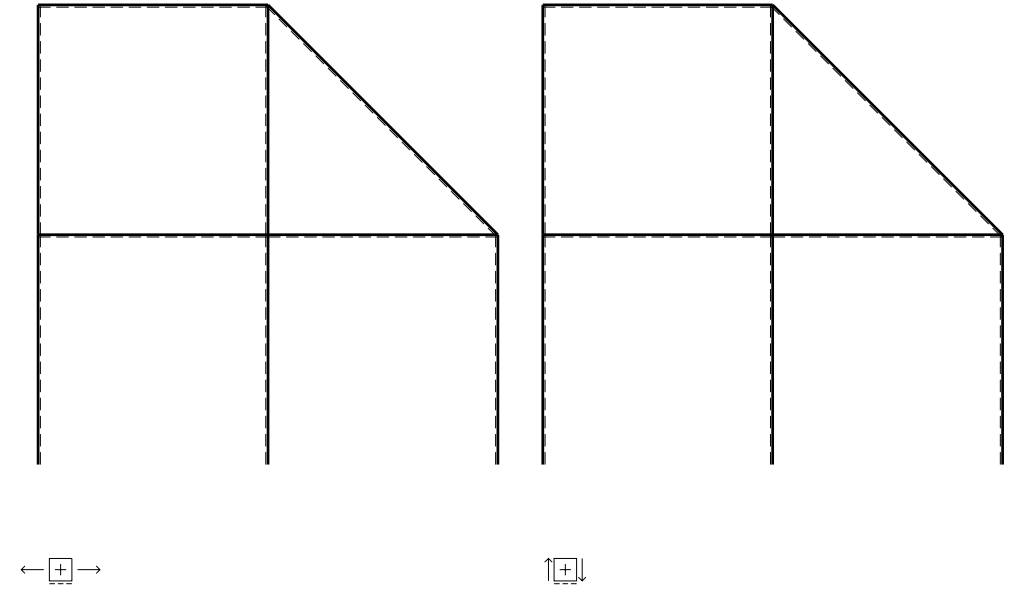
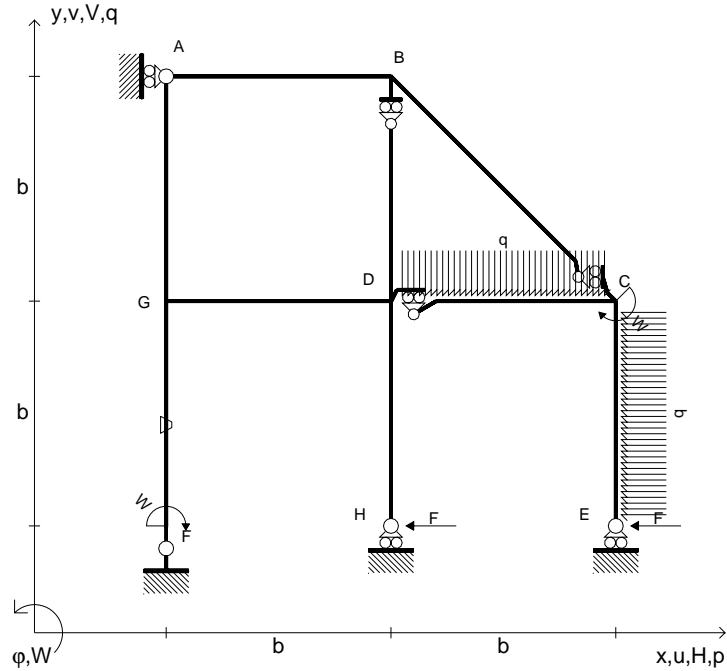
- Sul fronte:
- 1) Declassamento con indicazione dell'iperstatica scelta
 - 2) Diagrammi finali delle azioni interne
 - 3) Sforzi richiesti
 (nota: profilo COMPATTO)
- Sul retro:
- 4) Analisi cinematica
 - 5) Diagrammi del momento M_0 e M^*
 - 6) Espressione del PLV
 - 7) Valore numerico dell'iperstatica

Carichi e deformazioni date hanno verso efficace in disegno.
 Calcolare reazioni vincolari della struttura e delle aste.
 Tracciare i diagrammi quotati delle azioni interne nelle aste.
 $J_{YZ} - x_{YZ} - \theta_{YZ}$ riferimento locale asta YZ con origine in Y.
 La trave DC ha la sezione riportata e dimensioni in mm, con:
 $b = 570 \text{ mm}$, $F = 2040 \text{ N}$

Calcolare sulla sezione C la massima tensione normale σ_m .
 Calcolare in * le tensioni σ_c, τ_c e la tensione di von Mises.
 Lembo inferiore sezione su tratteggio trave, a destra da D a C
 Curvatura θ asta FG positiva se convessa a destra con inizio F.
 @ Adolfo Zavelani Rossi, Politecnico di Milano, vers.27.03.13



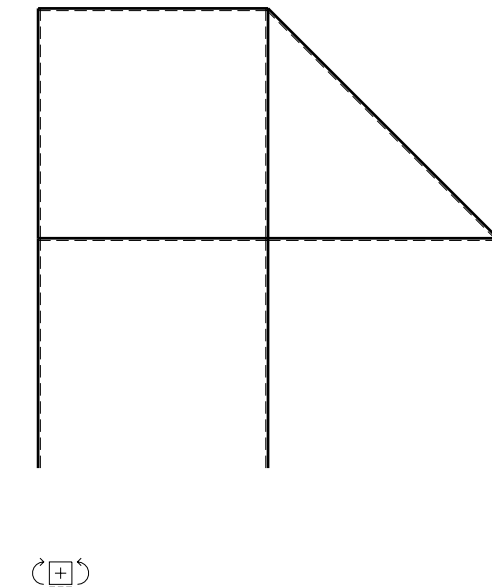
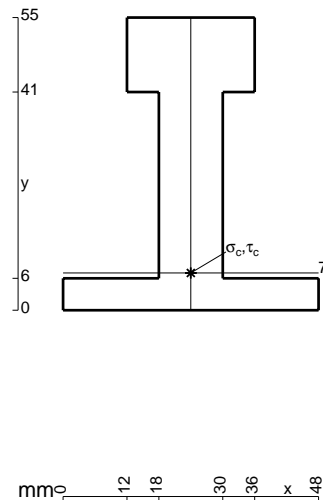
- $H_E = -F$
- $H_H = -F$
- $W_C = -W = -Fb$
- $W_F = -W = -Fb$
- $q_{DC} = -q = -F/b$
- $p_{CE} = -q = -F/b$
- $\theta_{FG} = -\theta = -\alpha T/b = -bF/EJ$
- $EJ_{AB} = EJ$
- $EJ_{BC} = EJ$
- $EJ_{BD} = EJ$
- $EJ_{DC} = EJ$
- $EJ_{CE} = EJ$
- $EJ_{FG} = EJ$
- $EJ_{GD} = EJ$
- $EJ_{DH} = EJ$
- $EJ_{GA} = EJ$



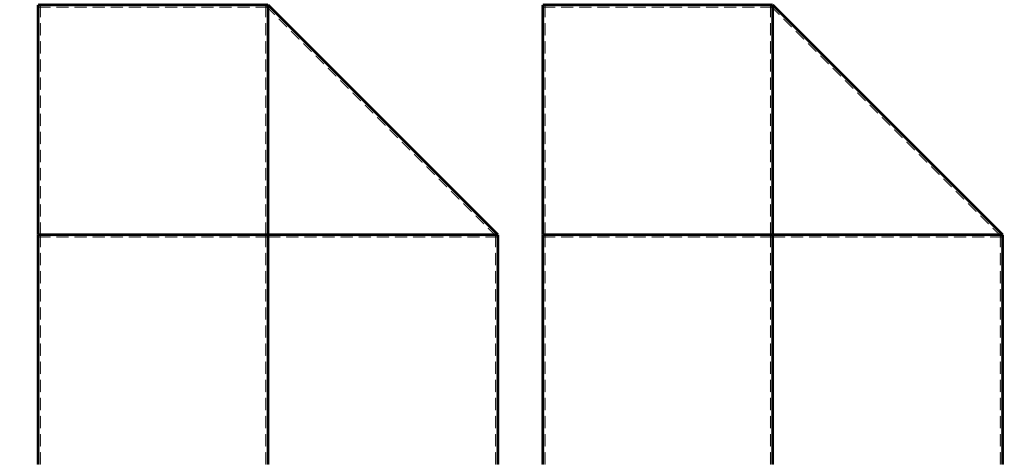
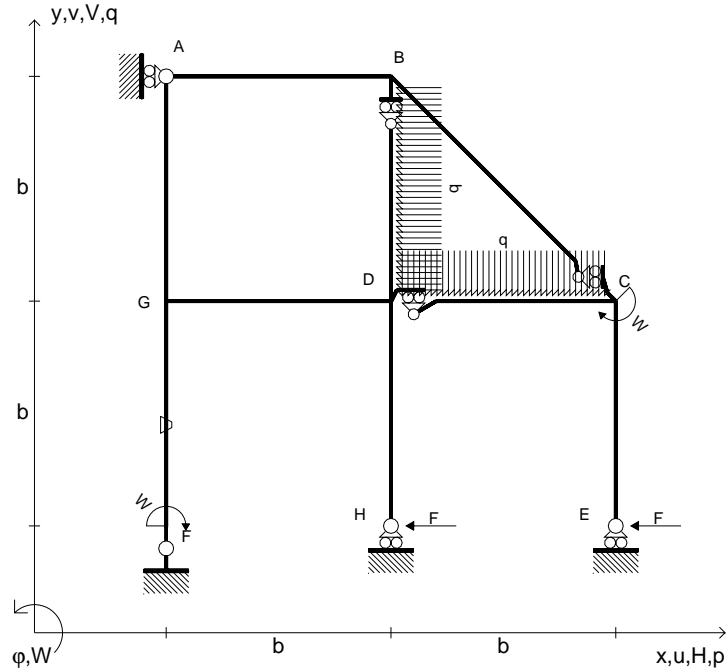
ANALISI STRUTTURALE CON PLV
 RIPORTARE SUL FILE "ESAME" SOLO LE SEGUENTI RICHIESTE

- Sul fronte:
- 1) Declassamento con indicazione dell'iperstatica scelta
 - 2) Diagrammi finali delle azioni interne
 - 3) Sforzi richiesti (nota: profilo COMPATTO)
- Sul retro:
- 4) Analisi cinematica
 - 5) Diagrammi del momento M_0 e M^*
 - 6) Espressione del PLV
 - 7) Valore numerico dell'iperstatica

Carichi e deformazioni date hanno verso efficace in disegno.
 Calcolare reazioni vincolari della struttura e delle aste.
 Tracciare i diagrammi quotati delle azioni interne nelle aste.
 $J_{YZ} - x_{YZ} - \theta_{YZ}$ riferimento locale asta YZ con origine in Y.
 La trave DC ha la sezione riportata e dimensioni in mm, con:
 $b = 720 \text{ mm}$, $F = 1670 \text{ N}$
 Calcolare sulla sezione C la massima tensione normale σ_m .
 Calcolare in * le tensioni σ_c, τ_c e la tensione di von Mises.
 Lembo inferiore sezione su tratteggio trave, a destra da D a C
 Curvatura θ asta FG positiva se convessa a destra con inizio F.
 © Adolfo Zavelani Rossi, Politecnico di Milano, vers.27.03.13



- $H_E = -F$
- $H_H = -F$
- $W_C = -W = -Fb$
- $W_F = -W = -Fb$
- $q_{DC} = -q = -F/b$
- $p_{BD} = -q = -F/b$
- $\theta_{FG} = -\theta = -\alpha T/b = -bF/EJ$
- $EJ_{AB} = EJ$
- $EJ_{BC} = EJ$
- $EJ_{BD} = EJ$
- $EJ_{DC} = EJ$
- $EJ_{CE} = EJ$
- $EJ_{FG} = EJ$
- $EJ_{GD} = EJ$
- $EJ_{DH} = EJ$
- $EJ_{GA} = EJ$



← ⊕ →

↑ ⊕ ↓

ANALISI STRUTTURALE CON PLV

RIPORTARE SUL FILE "ESAME" SOLO LE SEGUENTI RICHIESTE

Sul fronte:

- 1) Declassamento con indicazione dell'iperstatica scelta
- 2) Diagrammi finali delle azioni interne
- 3) Sforzi richiesti
(nota: profilo COMPATTO)

Sul retro:

- 4) Analisi cinematica
- 5) Diagrammi del momento M_0 e M^*
- 6) Espressione del PLV
- 7) Valore numerico dell'iperstatica

Carichi e deformazioni date hanno verso efficace in disegno.

Calcolare reazioni vincolari della struttura e delle aste.

Tracciare i diagrammi quotati delle azioni interne nelle aste.

$J_{YZ} - x_{YZ} - \theta_{YZ}$ riferimento locale asta YZ con origine in Y.

La trave DC ha la sezione riportata e dimensioni in mm, con:

$b = 780 \text{ mm}$, $F = 1460 \text{ N}$

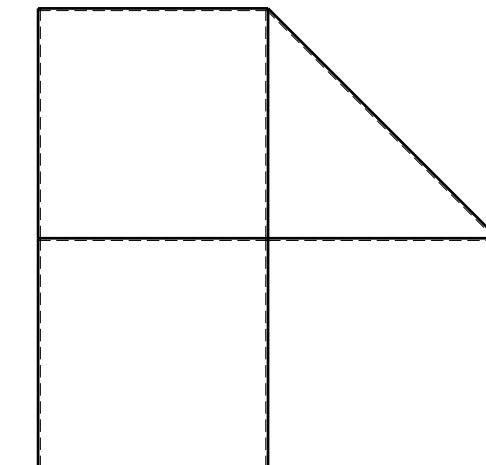

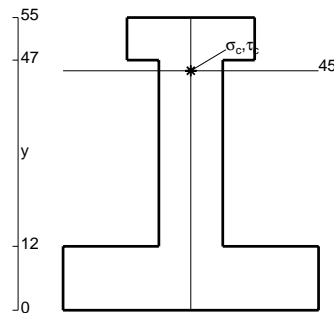
Calcolare sulla sezione C la massima tensione normale σ_m .

Calcolare in * le tensioni σ_c, τ_c e la tensione di von Mises.

Leombo inferiore sezione su tratteggio trave, a destra da D a C

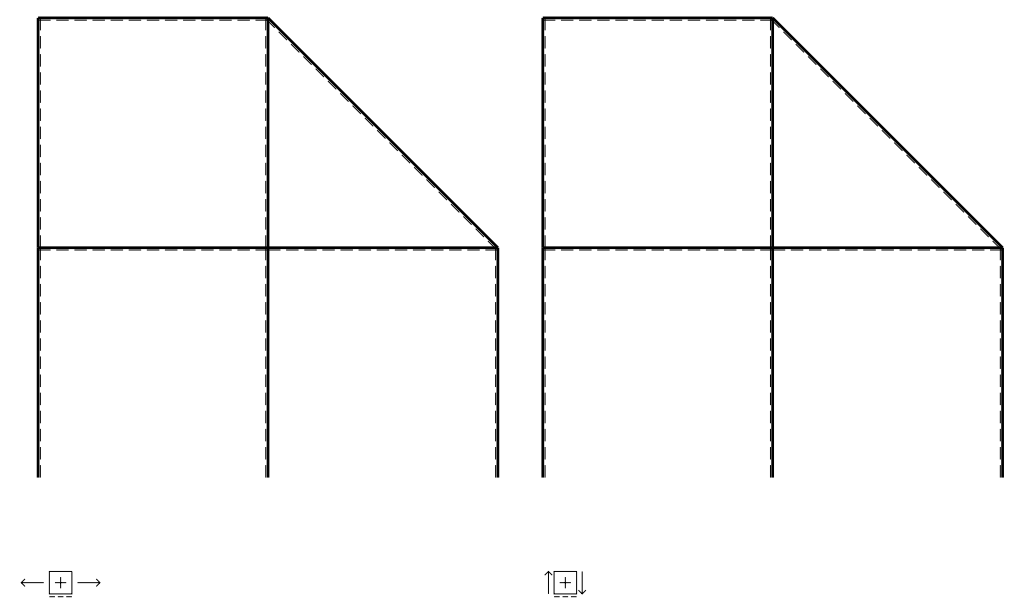
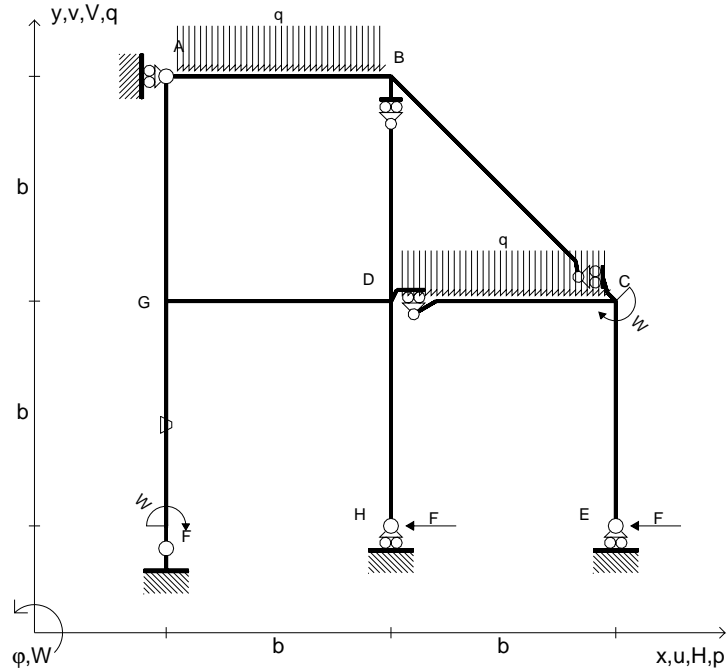
Curvatura θ asta FG positiva se convessa a destra con inizio F.

@ Adolfo Zavelani Rossi, Politecnico di Milano, vers.27.03.13



⊕ ↻

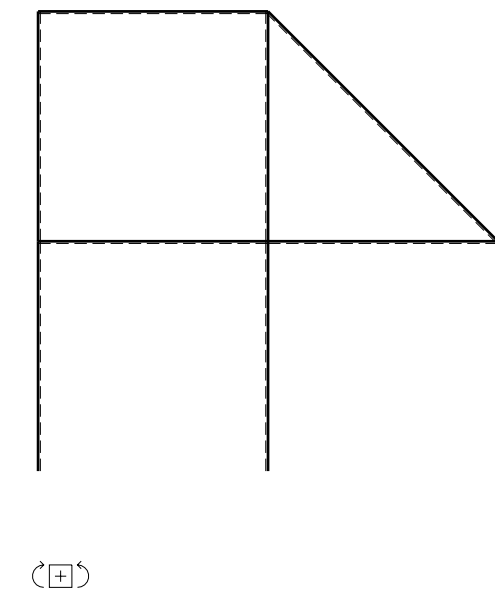
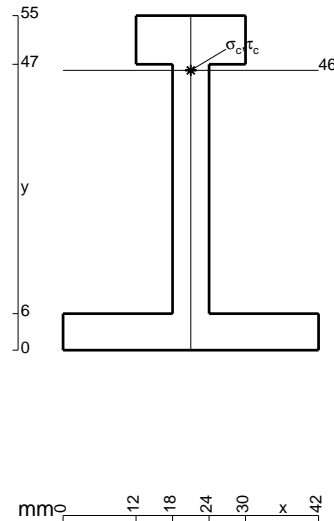
- $H_E = -F$
- $H_H = -F$
- $W_C = -W = -Fb$
- $W_F = -W = -Fb$
- $q_{DC} = -q = -F/b$
- $q_{AB} = -q = -F/b$
- $\theta_{FG} = -\theta = -\alpha T/b = -bF/EJ$
- $EJ_{AB} = EJ$
- $EJ_{BC} = EJ$
- $EJ_{BD} = EJ$
- $EJ_{DC} = EJ$
- $EJ_{CE} = EJ$
- $EJ_{FG} = EJ$
- $EJ_{GD} = EJ$
- $EJ_{DH} = EJ$
- $EJ_{GA} = EJ$



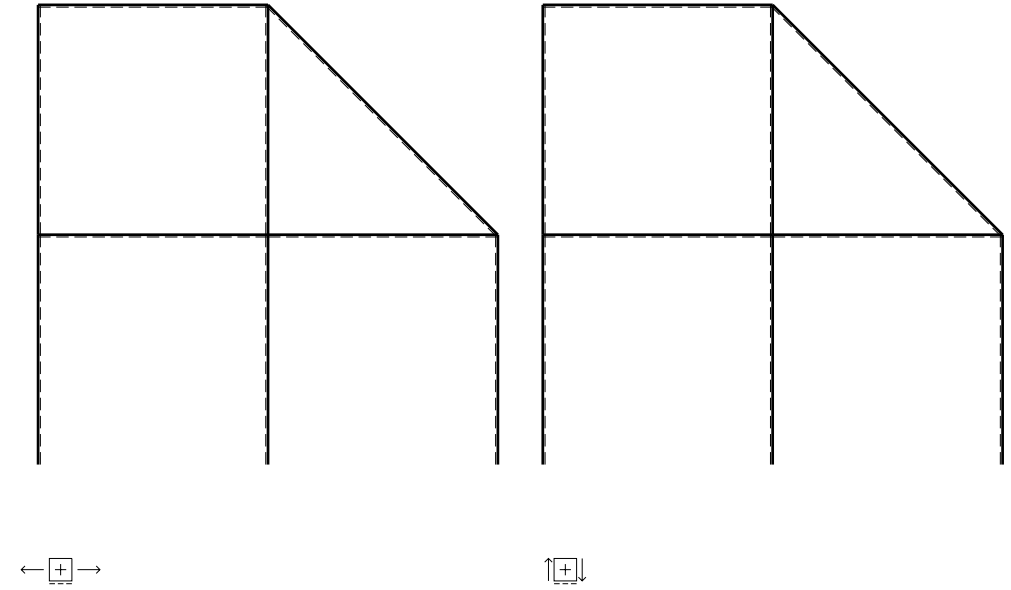
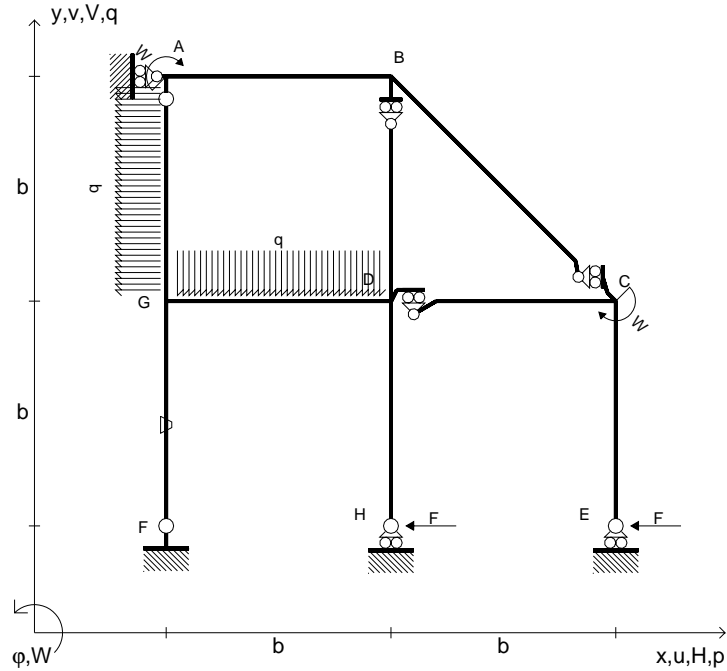
ANALISI STRUTTURALE CON PLV
 RIPORTARE SUL FILE "ESAME" SOLO LE SEGUENTI RICHIESTE

- Sul fronte:
- 1) Declassamento con indicazione dell'iperstatica scelta
 - 2) Diagrammi finali delle azioni interne
 - 3) Sforzi richiesti
(nota: profilo COMPATTO)
- Sul retro:
- 4) Analisi cinematica
 - 5) Diagrammi del momento M_0 e M^*
 - 6) Espressione del PLV
 - 7) Valore numerico dell'iperstatica

Carichi e deformazioni date hanno verso efficace in disegno.
 Calcolare reazioni vincolari della struttura e delle aste.
 Tracciare i diagrammi quotati delle azioni interne nelle aste.
 $J_{YZ} - x_{YZ} - \theta_{YZ}$ riferimento locale asta YZ con origine in Y.
 La trave DC ha la sezione riportata e dimensioni in mm, con:
 $b = 830 \text{ mm}$, $F = 990 \text{ N}$
 Calcolare sulla sezione C la massima tensione normale σ_m .
 Calcolare in * le tensioni σ_c, τ_c e la tensione di von Mises.
 Lembo inferiore sezione su tratteggio trave, a destra da D a C
 Curvatura θ asta FG positiva se convessa a destra con inizio F.
 © Adolfo Zavelani Rossi, Politecnico di Milano, vers.27.03.13



- $H_E = -F$
- $H_H = -F$
- $W_C = -W = -Fb$
- $W_A = -W = -Fb$
- $p_{GA} = -q = -F/b$
- $q_{GD} = -q = -F/b$
- $\theta_{FG} = -\theta = -\alpha T/b = -bF/EJ$
- $EJ_{AB} = EJ$
- $EJ_{BC} = EJ$
- $EJ_{BD} = EJ$
- $EJ_{DC} = EJ$
- $EJ_{CE} = EJ$
- $EJ_{FG} = EJ$
- $EJ_{GD} = EJ$
- $EJ_{DH} = EJ$
- $EJ_{GA} = EJ$



ANALISI STRUTTURALE CON PLV

RIPORTARE SUL FILE "ESAME" SOLO LE SEGUENTI RICHIESTE

Sul fronte:

- 1) Declassamento con indicazione dell'iperstatica scelta
- 2) Diagrammi finali delle azioni interne
- 3) Sforzi richiesti
(nota: profilo COMPATTO)

Sul retro:

- 4) Analisi cinematica
- 5) Diagrammi del momento M_0 e M^*
- 6) Espressione del PLV
- 7) Valore numerico dell'iperstatica

Carichi e deformazioni date hanno verso efficace in disegno.

Calcolare reazioni vincolari della struttura e delle aste.

Tracciare i diagrammi quotati delle azioni interne nelle aste.

$J_{YZ} - x_{YZ} - \theta_{YZ}$ riferimento locale asta YZ con origine in Y.

La trave DC ha la sezione riportata e dimensioni in mm, con:

$b = 860 \text{ mm}, F = 870 \text{ N}$

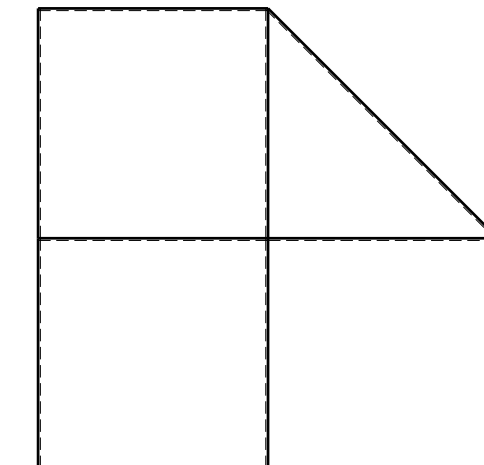
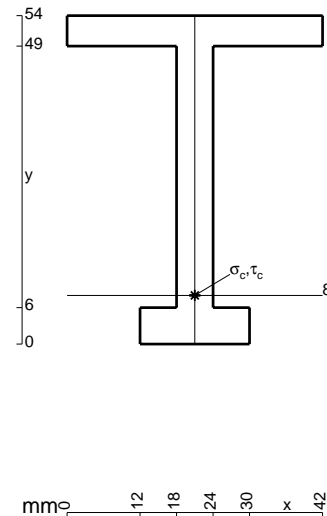
Calcolare sulla sezione C la massima tensione normale σ_m .

Calcolare in * le tensioni σ_c, τ_c e la tensione di von Mises.

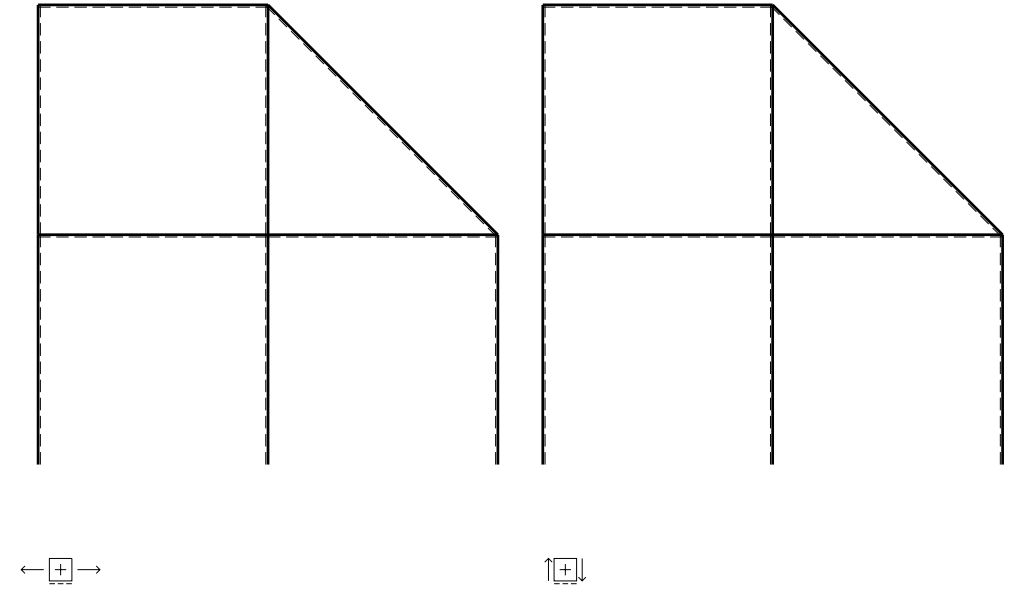
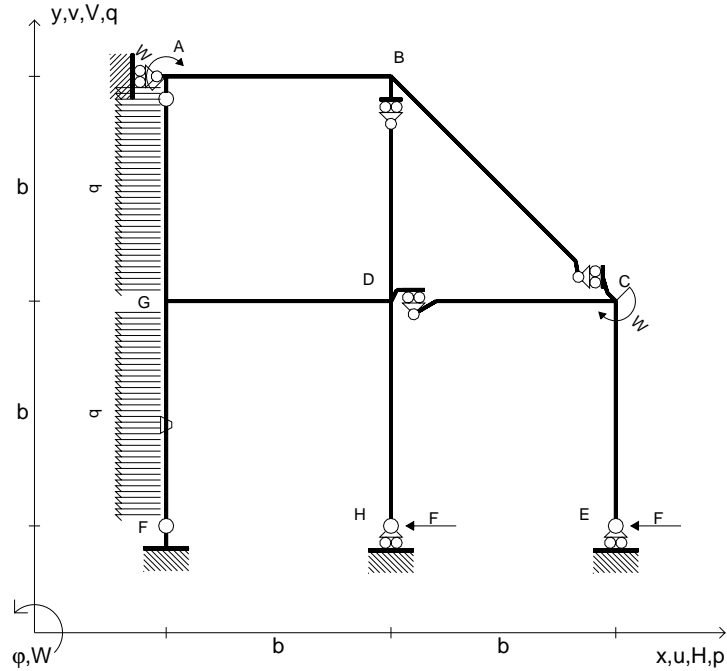
Le mbo inferiore sezione su tratteggio trave, a destra da D a C

Curvatura θ asta FG positiva se convessa a destra con inizio F.

@ Adolfo Zavelani Rossi, Politecnico di Milano, vers.27.03.13



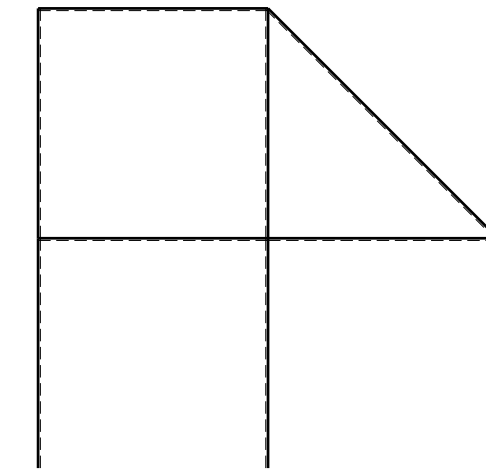
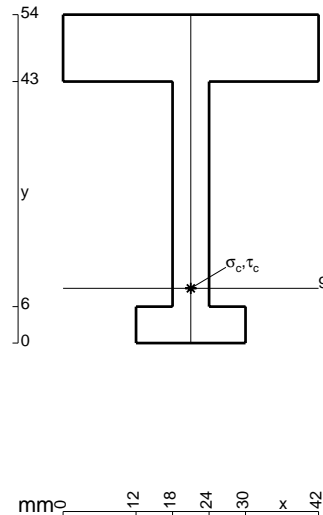
- $H_E = -F$
- $H_H = -F$
- $W_C = -W = -Fb$
- $W_A = -W = -Fb$
- $p_{GA} = -q = -F/b$
- $p_{FG} = -q = -F/b$
- $\theta_{FG} = -\theta = -\alpha T/b = -bF/EJ$
- $EJ_{AB} = EJ$
- $EJ_{BC} = EJ$
- $EJ_{BD} = EJ$
- $EJ_{DC} = EJ$
- $EJ_{CE} = EJ$
- $EJ_{FG} = EJ$
- $EJ_{GD} = EJ$
- $EJ_{DH} = EJ$
- $EJ_{GA} = EJ$



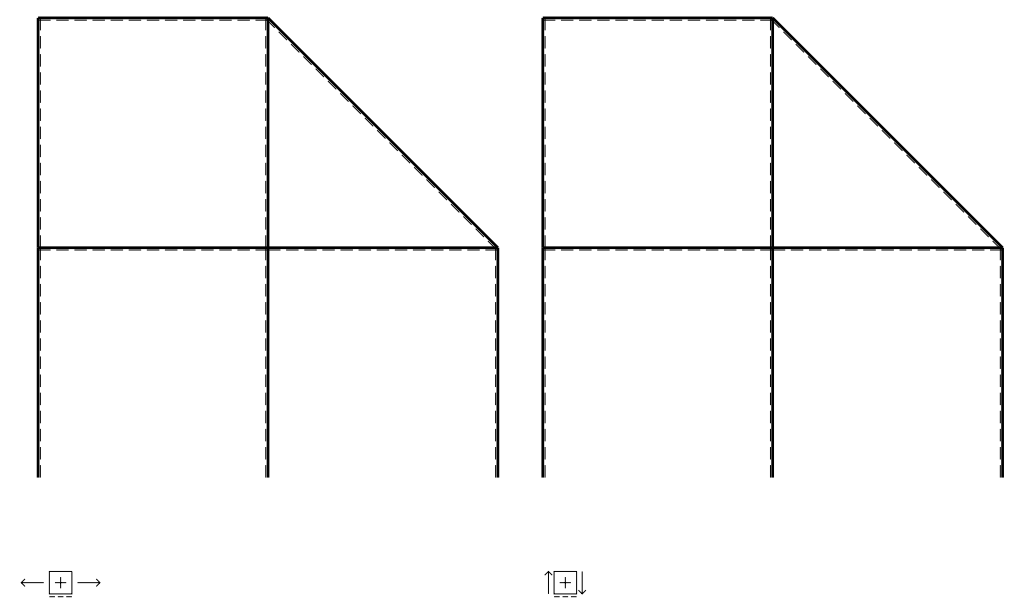
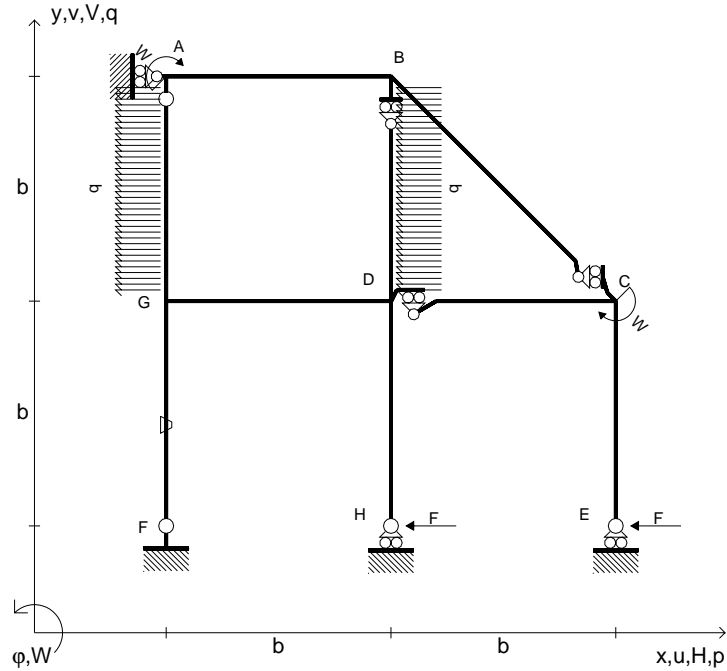
ANALISI STRUTTURALE CON PLV
 RIPORTARE SUL FILE "ESAME" SOLO LE SEGUENTI RICHIESTE

- Sul fronte:
- 1) Declassamento con indicazione dell'iperstatica scelta
 - 2) Diagrammi finali delle azioni interne
 - 3) Sforzi richiesti (nota: profilo COMPATTO)
- Sul retro:
- 4) Analisi cinematica
 - 5) Diagrammi del momento M_0 e M^*
 - 6) Espressione del PLV
 - 7) Valore numerico dell'iperstatica

Carichi e deformazioni date hanno verso efficace in disegno.
 Calcolare reazioni vincolari della struttura e delle aste.
 Tracciare i diagrammi quotati delle azioni interne nelle aste.
 $J_{YZ} - x_{YZ} - \theta_{YZ}$ riferimento locale asta YZ con origine in Y.
 La trave DC ha la sezione riportata e dimensioni in mm, con:
 $b = 910 \text{ mm}$, $F = 880 \text{ N}$
 Calcolare sulla sezione C la massima tensione normale σ_m .
 Calcolare in * le tensioni σ_c, τ_c e la tensione di von Mises.
 Lembo inferiore sezione su tratteggio trave, a destra da D a C
 Curvatura θ asta FG positiva se convessa a destra con inizio F.
 @ Adolfo Zavelani Rossi, Politecnico di Milano, vers.27.03.13



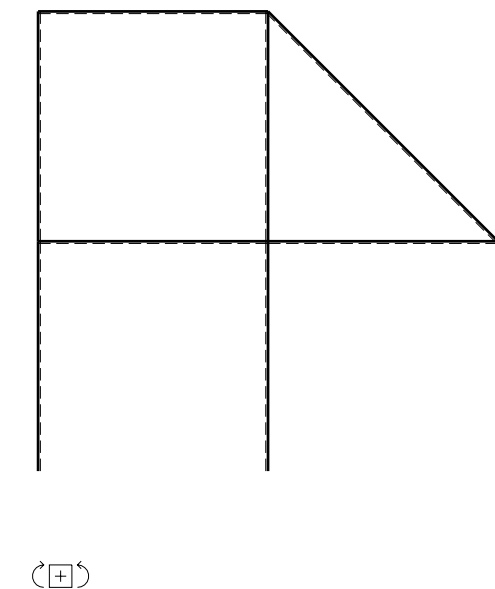
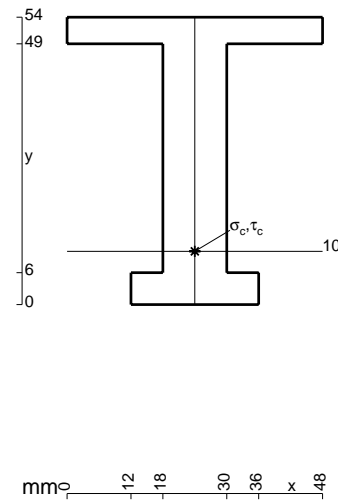
- $H_E = -F$
- $H_H = -F$
- $W_C = -W = -Fb$
- $W_A = -W = -Fb$
- $p_{GA} = -q = -F/b$
- $p_{BD} = -q = -F/b$
- $\theta_{FG} = -\theta = -\alpha T/b = -bF/EJ$
- $EJ_{AB} = EJ$
- $EJ_{BC} = EJ$
- $EJ_{BD} = EJ$
- $EJ_{DC} = EJ$
- $EJ_{CE} = EJ$
- $EJ_{FG} = EJ$
- $EJ_{GD} = EJ$
- $EJ_{DH} = EJ$
- $EJ_{GA} = EJ$



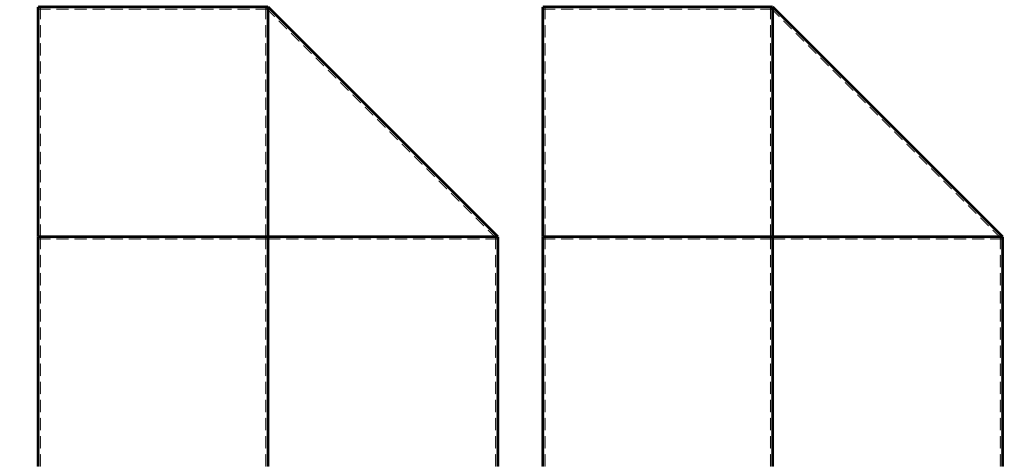
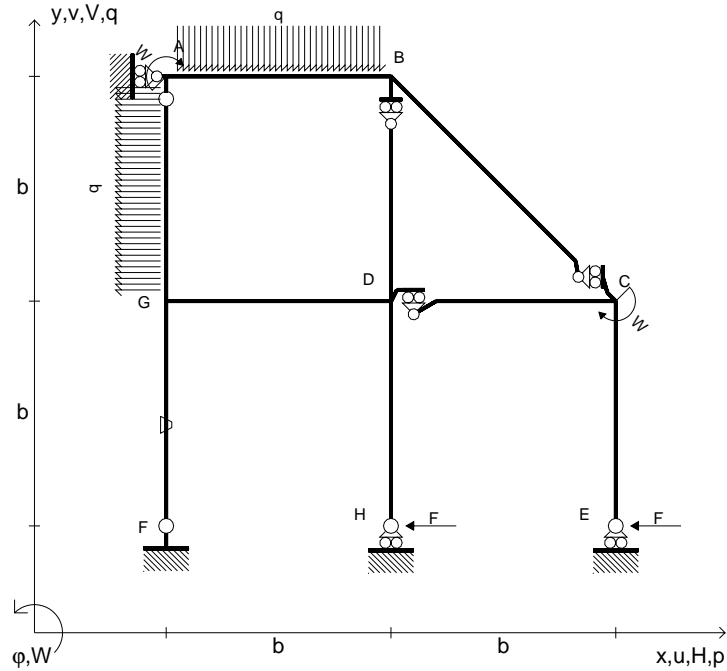
ANALISI STRUTTURALE CON PLV
 RIPORTARE SUL FILE "ESAME" SOLO LE SEGUENTI RICHIESTE

- Sul fronte:
- 1) Declassamento con indicazione dell'iperstatica scelta
 - 2) Diagrammi finali delle azioni interne
 - 3) Sforzi richiesti (nota: profilo COMPATTO)
- Sul retro:
- 4) Analisi cinematica
 - 5) Diagrammi del momento M_0 e M^*
 - 6) Espressione del PLV
 - 7) Valore numerico dell'iperstatica

Carichi e deformazioni date hanno verso efficace in disegno.
 Calcolare reazioni vincolari della struttura e delle aste.
 Tracciare i diagrammi quotati delle azioni interne nelle aste.
 $J_{YZ} - x_{YZ} - \theta_{YZ}$ riferimento locale asta YZ con origine in Y.
 La trave DC ha la sezione riportata e dimensioni in mm, con:
 $b = 960 \text{ mm}$, $F = 1240 \text{ N}$
 Calcolare sulla sezione C la massima tensione normale σ_m .
 Calcolare in * le tensioni σ_c, τ_c e la tensione di von Mises.
 Lembo inferiore sezione su tratteggio trave, a destra da D a C
 Curvatura θ asta FG positiva se convessa a destra con inizio F.
 © Adolfo Zavelani Rossi, Politecnico di Milano, vers.27.03.13



- $H_E = -F$
- $H_H = -F$
- $W_C = -W = -Fb$
- $W_A = -W = -Fb$
- $p_{GA} = -q = -F/b$
- $q_{AB} = -q = -F/b$
- $\theta_{FG} = -\theta = -\alpha T/b = -bF/EJ$
- $EJ_{AB} = EJ$
- $EJ_{BC} = EJ$
- $EJ_{BD} = EJ$
- $EJ_{DC} = EJ$
- $EJ_{CE} = EJ$
- $EJ_{FG} = EJ$
- $EJ_{GD} = EJ$
- $EJ_{DH} = EJ$
- $EJ_{GA} = EJ$



← ⊕ →

↑ ⊕ ↓

ANALISI STRUTTURALE CON PLV

RIPORTARE SUL FILE "ESAME" SOLO LE SEGUENTI RICHIESTE

Sul fronte:

- 1) Declassamento con indicazione dell'iperstatica scelta
- 2) Diagrammi finali delle azioni interne
- 3) Sforzi richiesti
(nota: profilo COMPATTO)

Sul retro:

- 4) Analisi cinematica
- 5) Diagrammi del momento M_0 e M^*
- 6) Espressione del PLV
- 7) Valore numerico dell'iperstatica

Carichi e deformazioni date hanno verso efficace in disegno.

Calcolare reazioni vincolari della struttura e delle aste.

Tracciare i diagrammi quotati delle azioni interne nelle aste.

$J_{YZ} - x_{YZ} - \theta_{YZ}$ riferimento locale asta YZ con origine in Y.

La trave DC ha la sezione riportata e dimensioni in mm, con:

$b = 510 \text{ mm}$, $F = 2040 \text{ N}$

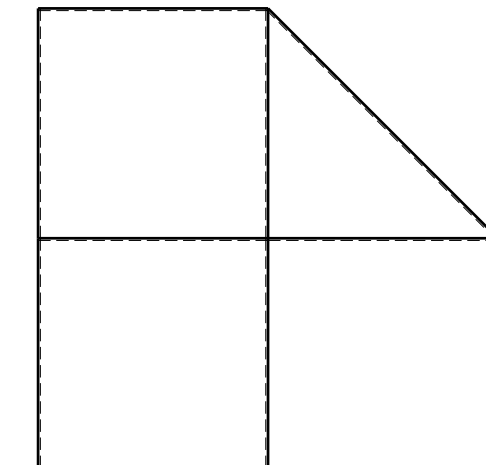

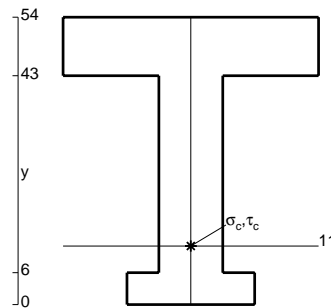
Calcolare sulla sezione C la massima tensione normale σ_m .

Calcolare in * le tensioni σ_c, τ_c e la tensione di von Mises.

Leombo inferiore sezione su tratteggio trave, a destra da D a C

Curvatura θ asta FG positiva se convessa a destra con inizio F.

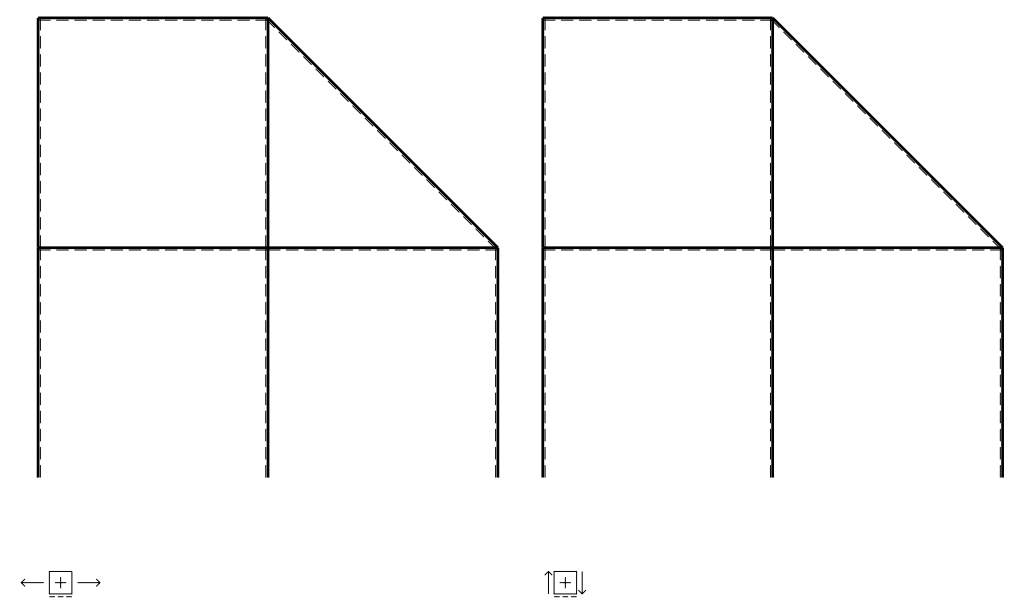
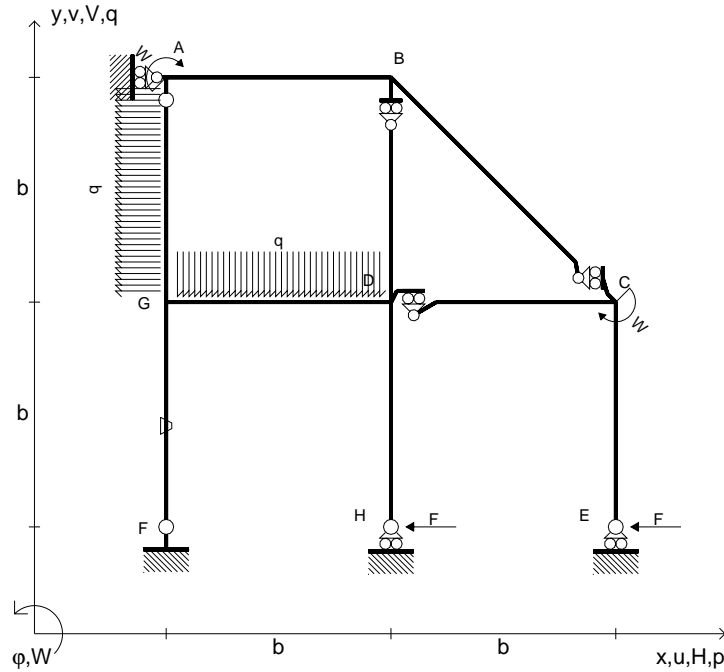
@ Adolfo Zavelani Rossi, Politecnico di Milano, vers.27.03.13



← ⊕ →

@ Adolfo Zavelani Rossi, Politecnico di Milano, vers.27.03.13

- $H_E = -F$
- $H_H = -F$
- $W_C = -W = -Fb$
- $W_A = -W = -Fb$
- $q_{GD} = -q = -F/b$
- $p_{GA} = -q = -F/b$
- $\theta_{FG} = -\theta = -\alpha T/b = -bF/EJ$
- $EJ_{AB} = EJ$
- $EJ_{BC} = EJ$
- $EJ_{BD} = EJ$
- $EJ_{DC} = EJ$
- $EJ_{CE} = EJ$
- $EJ_{FG} = EJ$
- $EJ_{GD} = EJ$
- $EJ_{DH} = EJ$
- $EJ_{GA} = EJ$



ANALISI STRUTTURALE CON PLV

RIPORTARE SUL FILE "ESAME" SOLO LE SEGUENTI RICHIESTE

Sul fronte:

- 1) Declassamento con indicazione dell'iperstatica scelta
- 2) Diagrammi finali delle azioni interne
- 3) Sforzi richiesti
(nota: profilo COMPATTO)

Sul retro:

- 4) Analisi cinematica
- 5) Diagrammi del momento M_0 e M^*
- 6) Espressione del PLV
- 7) Valore numerico dell'iperstatica

Carichi e deformazioni date hanno verso efficace in disegno.

Calcolare reazioni vincolari della struttura e delle aste.

Tracciare i diagrammi quotati delle azioni interne nelle aste.

$J_{YZ} - x_{YZ} - \theta_{YZ}$ riferimento locale asta YZ con origine in Y.

La trave DC ha la sezione riportata e dimensioni in mm, con:

$b = 560 \text{ mm}$, $F = 1600 \text{ N}$

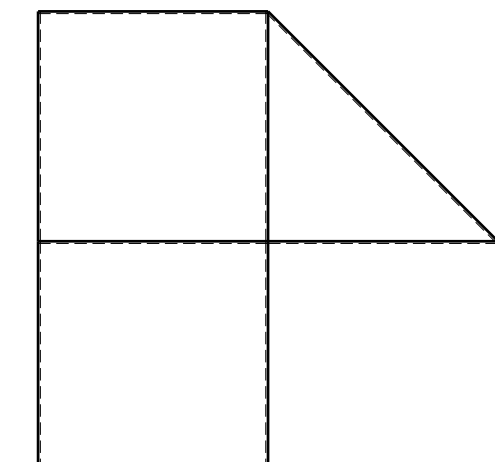
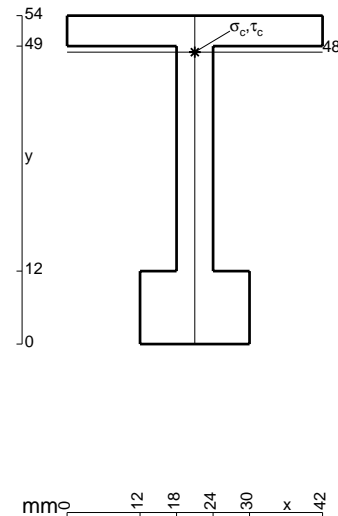
Calcolare sulla sezione C la massima tensione normale σ_m .

Calcolare in * le tensioni σ_c, τ_c e la tensione di von Mises.

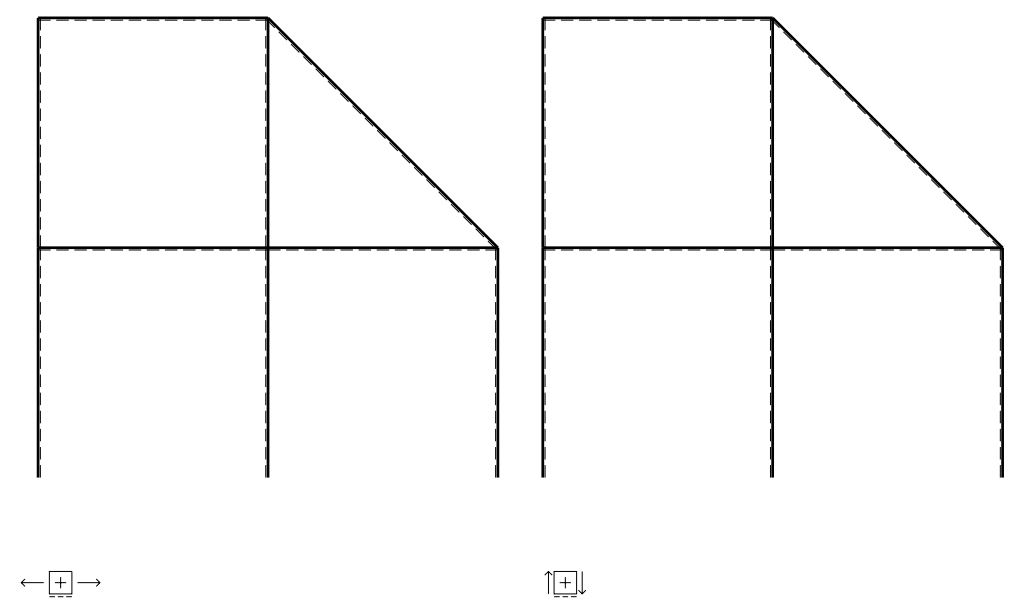
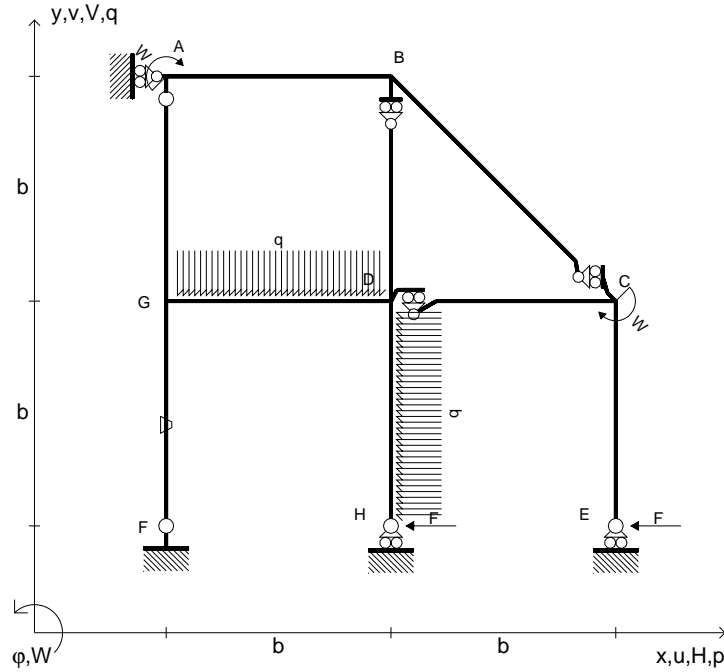
Le mbo inferiore sezione su tratteggio trave, a destra da D a C

Curvatura θ asta FG positiva se convessa a destra con inizio F.

@ Adolfo Zavelani Rossi, Politecnico di Milano, vers.27.03.13



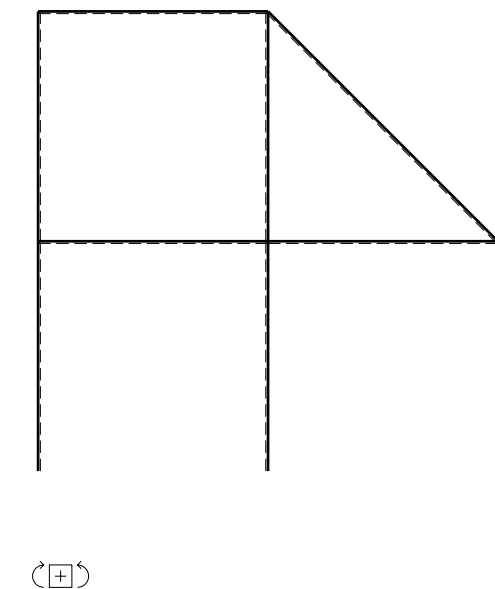
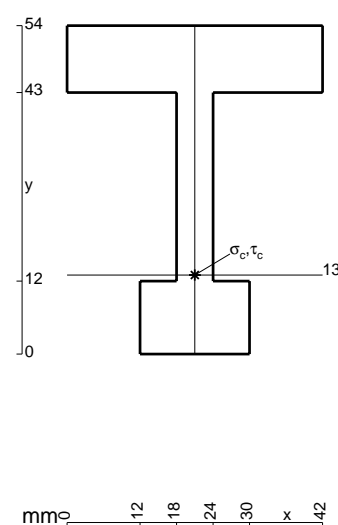
- $H_E = -F$
- $H_H = -F$
- $W_C = -W = -Fb$
- $W_A = -W = -Fb$
- $q_{GD} = -q = -F/b$
- $p_{DH} = -q = -F/b$
- $\theta_{FG} = -\theta = -\alpha T/b = -bF/EJ$
- $EJ_{AB} = EJ$
- $EJ_{BC} = EJ$
- $EJ_{BD} = EJ$
- $EJ_{DC} = EJ$
- $EJ_{CE} = EJ$
- $EJ_{FG} = EJ$
- $EJ_{GD} = EJ$
- $EJ_{DH} = EJ$
- $EJ_{GA} = EJ$



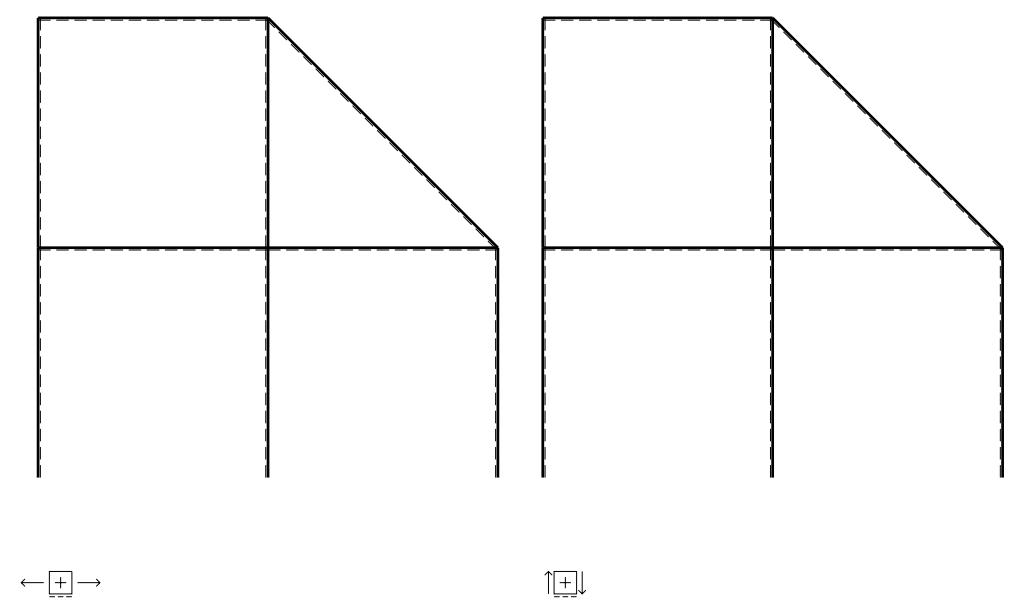
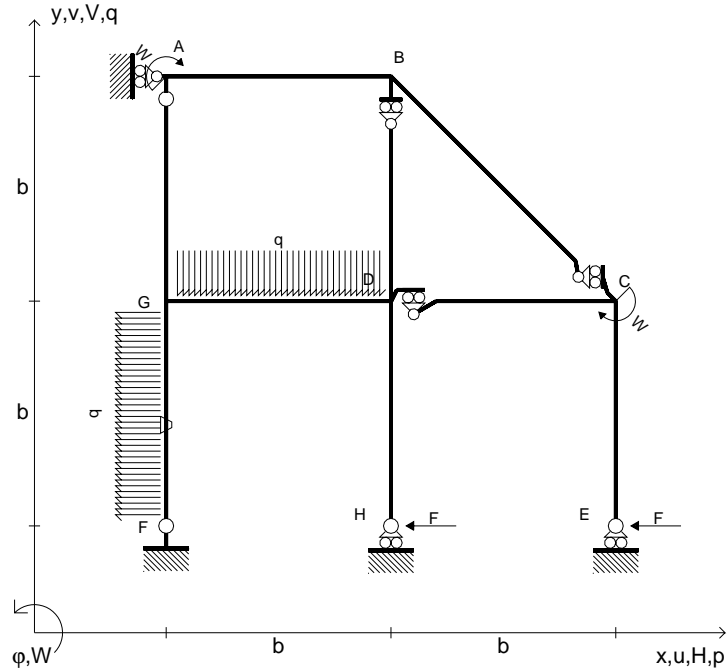
ANALISI STRUTTURALE CON PLV
 RIPORTARE SUL FILE "ESAME" SOLO LE SEGUENTI RICHIESTE

- Sul fronte:
- 1) Declassamento con indicazione dell'iperstatica scelta
 - 2) Diagrammi finali delle azioni interne
 - 3) Sforzi richiesti (nota: profilo COMPATTO)
- Sul retro:
- 4) Analisi cinematica
 - 5) Diagrammi del momento M_0 e M^*
 - 6) Espressione del PLV
 - 7) Valore numerico dell'iperstatica

Carichi e deformazioni date hanno verso efficace in disegno.
 Calcolare reazioni vincolari della struttura e delle aste.
 Tracciare i diagrammi quotati delle azioni interne nelle aste.
 $J_{YZ} - x_{YZ} - \theta_{YZ}$ riferimento locale asta YZ con origine in Y.
 La trave DC ha la sezione riportata e dimensioni in mm, con:
 $b = 610 \text{ mm}$, $F = 1600 \text{ N}$
 Calcolare sulla sezione C la massima tensione normale σ_m .
 Calcolare in * le tensioni σ_c, τ_c e la tensione di von Mises.
 Lembo inferiore sezione su tratteggio trave, a destra da D a C
 Curvatura θ asta FG positiva se convessa a destra con inizio F.
 @ Adolfo Zavelani Rossi, Politecnico di Milano, vers.27.03.13



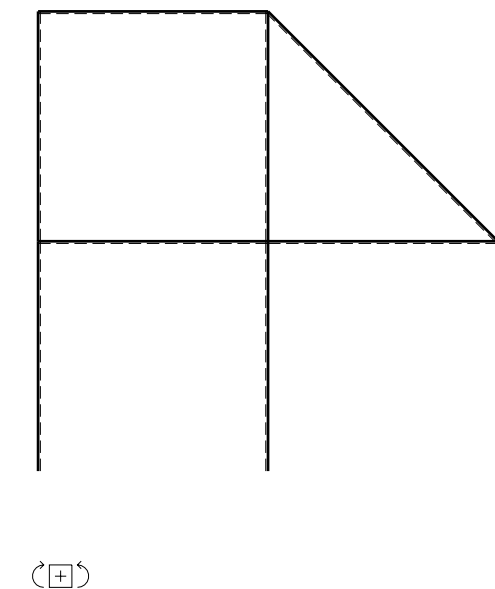
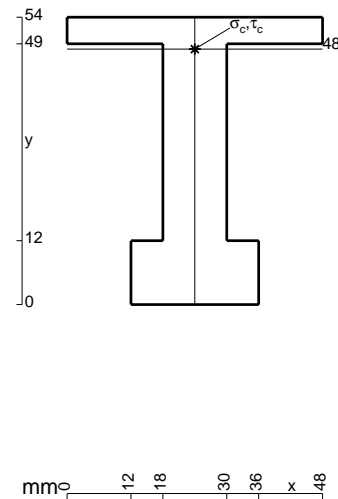
- $H_E = -F$
- $H_H = -F$
- $W_C = -W = -Fb$
- $W_A = -W = -Fb$
- $q_{GD} = -q = -F/b$
- $p_{FG} = -q = -F/b$
- $\theta_{FG} = -\theta = -\alpha T/b = -bF/EJ$
- $EJ_{AB} = EJ$
- $EJ_{BC} = EJ$
- $EJ_{BD} = EJ$
- $EJ_{DC} = EJ$
- $EJ_{CE} = EJ$
- $EJ_{FG} = EJ$
- $EJ_{GD} = EJ$
- $EJ_{DH} = EJ$
- $EJ_{GA} = EJ$



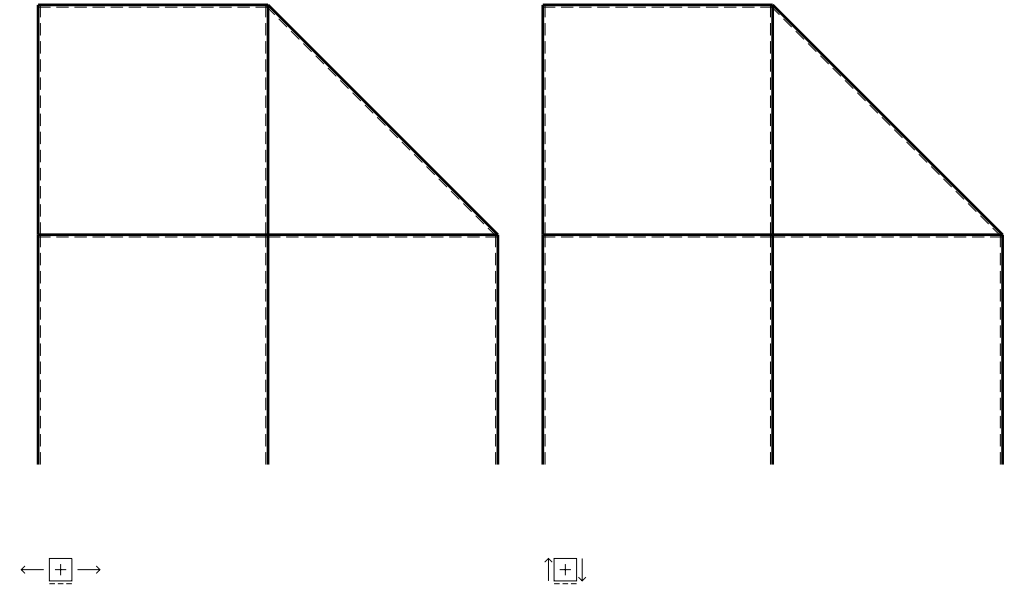
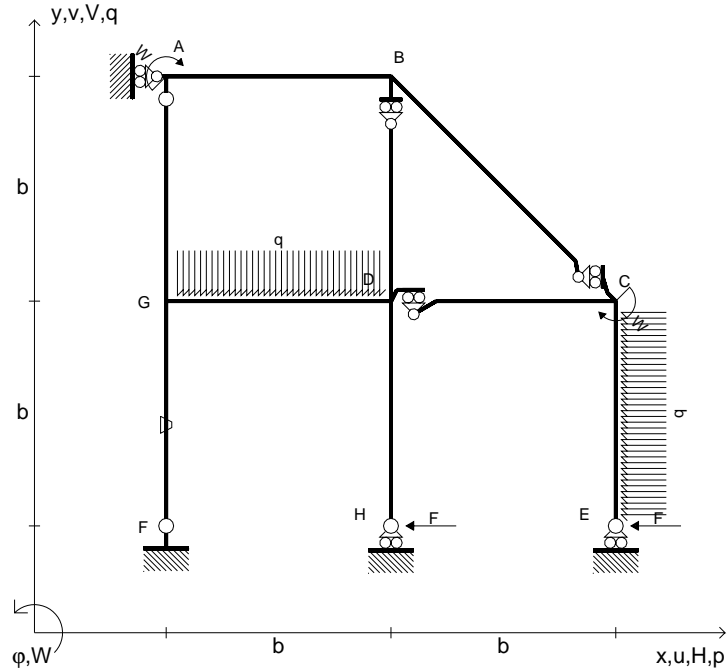
ANALISI STRUTTURALE CON PLV
 RIPORTARE SUL FILE "ESAME" SOLO LE SEGUENTI RICHIESTE

- Sul fronte:
- 1) Declassamento con indicazione dell'iperstatica scelta
 - 2) Diagrammi finali delle azioni interne
 - 3) Sforzi richiesti
(nota: profilo COMPATTO)
- Sul retro:
- 4) Analisi cinematica
 - 5) Diagrammi del momento M_0 e M^*
 - 6) Espressione del PLV
 - 7) Valore numerico dell'iperstatica

Carichi e deformazioni date hanno verso efficace in disegno.
 Calcolare reazioni vincolari della struttura e delle aste.
 Tracciare i diagrammi quotati delle azioni interne nelle aste.
 $J_{YZ} - x_{YZ} - \theta_{YZ}$ riferimento locale asta YZ con origine in Y.
 La trave DC ha la sezione riportata e dimensioni in mm, con:
 $b = 660 \text{ mm}$, $F = 2010 \text{ N}$
 Calcolare sulla sezione C la massima tensione normale σ_m .
 Calcolare in * le tensioni σ_c, τ_c e la tensione di von Mises.
 Lembo inferiore sezione su tratteggio trave, a destra da D a C
 Curvatura θ asta FG positiva se convessa a destra con inizio F.
 © Adolfo Zavelani Rossi, Politecnico di Milano, vers.27.03.13



- $H_E = -F$
- $H_H = -F$
- $W_C = -W = -Fb$
- $W_A = -W = -Fb$
- $q_{GD} = -q = -F/b$
- $p_{CE} = -q = -F/b$
- $\theta_{FG} = -\theta = -\alpha T/b = -bF/EJ$
- $EJ_{AB} = EJ$
- $EJ_{BC} = EJ$
- $EJ_{BD} = EJ$
- $EJ_{DC} = EJ$
- $EJ_{CE} = EJ$
- $EJ_{FG} = EJ$
- $EJ_{GD} = EJ$
- $EJ_{DH} = EJ$
- $EJ_{GA} = EJ$



ANALISI STRUTTURALE CON PLV

RIPORTARE SUL FILE "ESAME" SOLO LE SEGUENTI RICHIESTE

Sul fronte:

- 1) Declassamento con indicazione dell'iperstatica scelta
- 2) Diagrammi finali delle azioni interne
- 3) Sforzi richiesti (nota: profilo COMPATTO)

Sul retro:

- 4) Analisi cinematica
- 5) Diagrammi del momento M_0 e M^*
- 6) Espressione del PLV
- 7) Valore numerico dell'iperstatica

Carichi e deformazioni date hanno verso efficace in disegno.

Calcolare reazioni vincolari della struttura e delle aste.

Tracciare i diagrammi quotati delle azioni interne nelle aste.

$J_{YZ} - x_{YZ} - \theta_{YZ}$ riferimento locale asta YZ con origine in Y.

La trave DC ha la sezione riportata e dimensioni in mm, con:

$b = 710 \text{ mm}$, $F = 1640 \text{ N}$

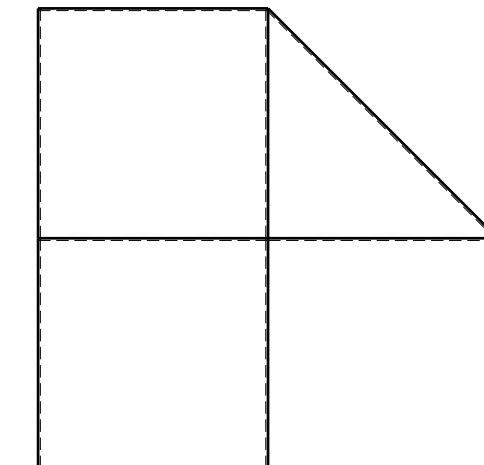
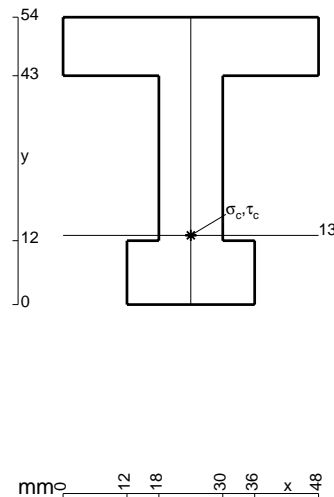
Calcolare sulla sezione C la massima tensione normale σ_m .

Calcolare in * le tensioni σ_c, τ_c e la tensione di von Mises.

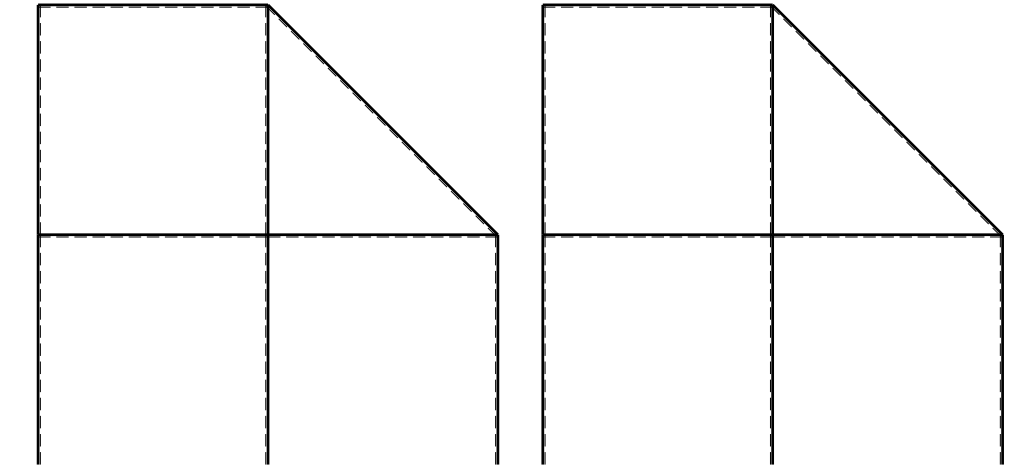
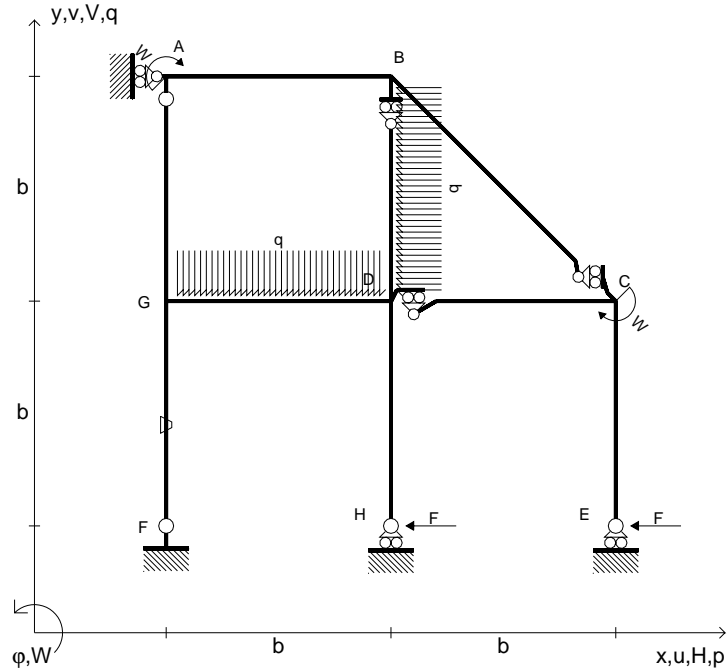
Le mbo inferiore sezione su tratteggio trave, a destra da D a C

Curvatura θ asta FG positiva se convessa a destra con inizio F.

@ Adolfo Zavelani Rossi, Politecnico di Milano, vers.27.03.13



- $H_E = -F$
- $H_H = -F$
- $W_C = -W = -Fb$
- $W_A = -W = -Fb$
- $q_{GD} = -q = -F/b$
- $p_{BD} = -q = -F/b$
- $\theta_{FG} = -\theta = -\alpha T/b = -bF/EJ$
- $EJ_{AB} = EJ$
- $EJ_{BC} = EJ$
- $EJ_{BD} = EJ$
- $EJ_{DC} = EJ$
- $EJ_{CE} = EJ$
- $EJ_{FG} = EJ$
- $EJ_{GD} = EJ$
- $EJ_{DH} = EJ$
- $EJ_{GA} = EJ$



← ⊕ →

↑ ⊕ ↓

ANALISI STRUTTURALE CON PLV

RIPORTARE SUL FILE "ESAME" SOLO LE SEGUENTI RICHIESTE

Sul fronte:

- 1) Declassamento con indicazione dell'iperstatica scelta
- 2) Diagrammi finali delle azioni interne
- 3) Sforzi richiesti
(nota: profilo COMPATTO)

Sul retro:

- 4) Analisi cinematica
- 5) Diagrammi del momento M_0 e M^*
- 6) Espressione del PLV
- 7) Valore numerico dell'iperstatica

Carichi e deformazioni date hanno verso efficace in disegno.

Calcolare reazioni vincolari della struttura e delle aste.

Tracciare i diagrammi quotati delle azioni interne nelle aste.

$J_{YZ} - x_{YZ} - \theta_{YZ}$ riferimento locale asta YZ con origine in Y.

La trave DC ha la sezione riportata e dimensioni in mm, con:

$b = 760 \text{ mm}$, $F = 1560 \text{ N}$

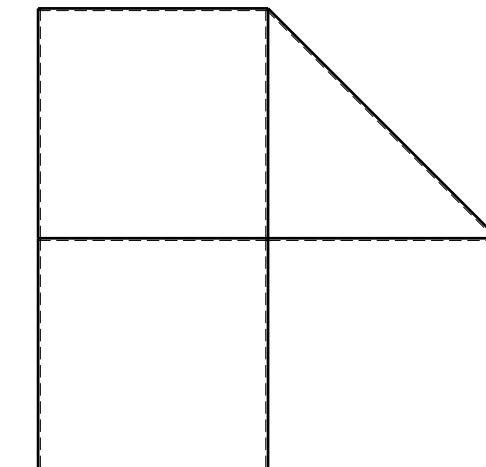
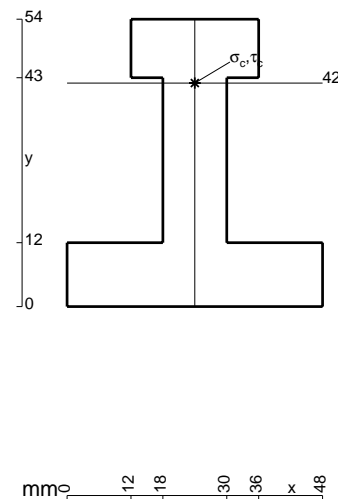
Calcolare sulla sezione C la massima tensione normale σ_m .

Calcolare in * le tensioni σ_c, τ_c e la tensione di von Mises.

Leombo inferiore sezione su tratteggio trave, a destra da D a C

Curvatura θ asta FG positiva se convessa a destra con inizio F.

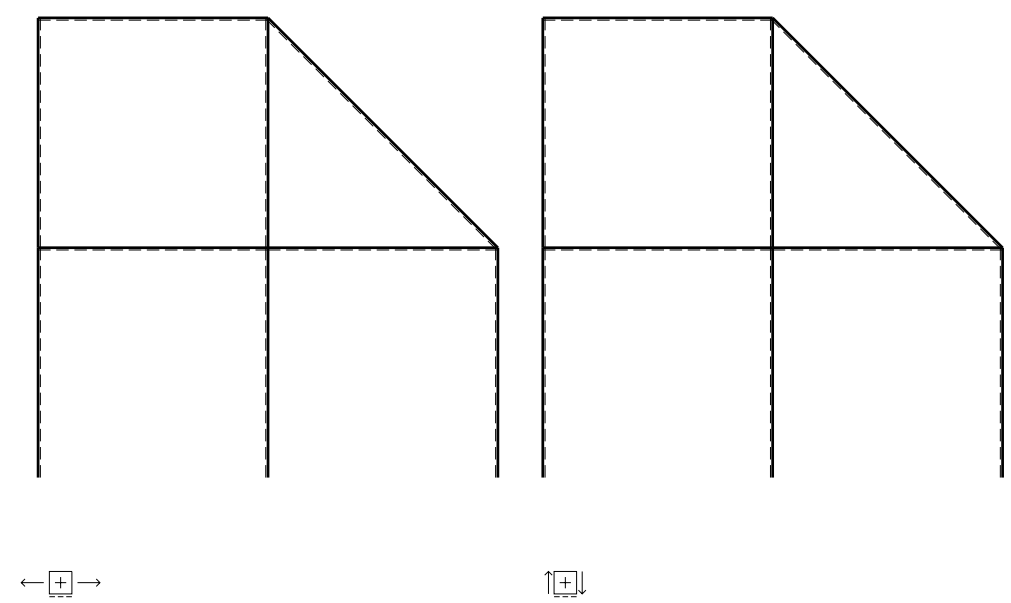
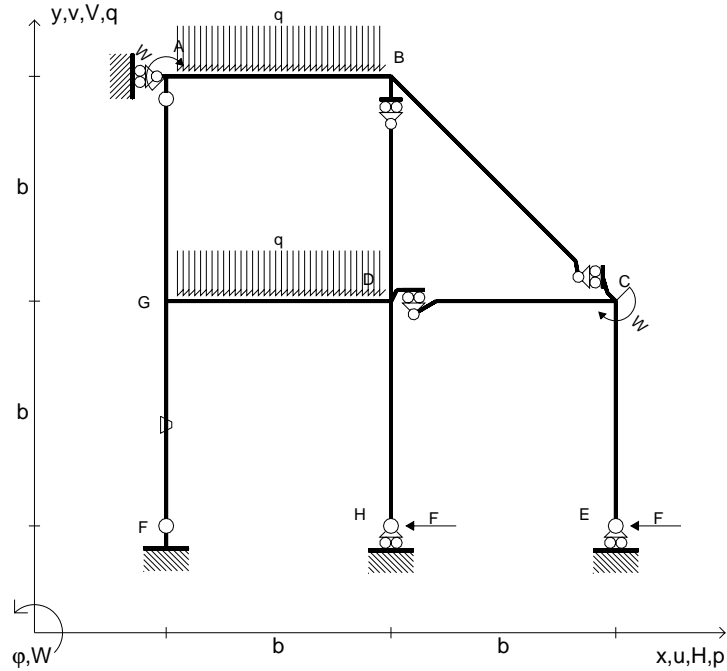
@ Adolfo Zavelani Rossi, Politecnico di Milano, vers.27.03.13



⊕ ↻

@ Adolfo Zavelani Rossi, Politecnico di Milano, vers.27.03.13

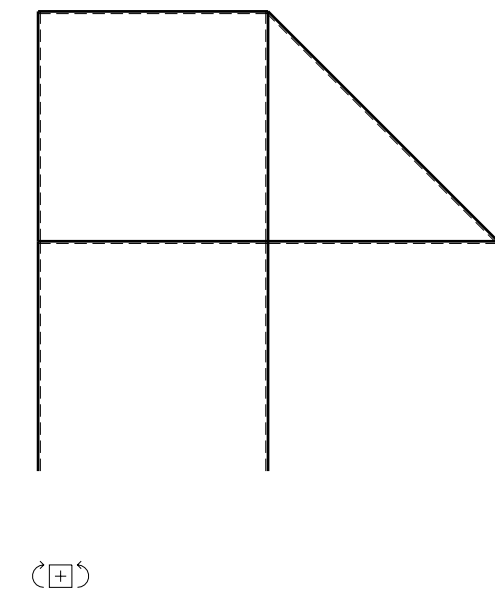
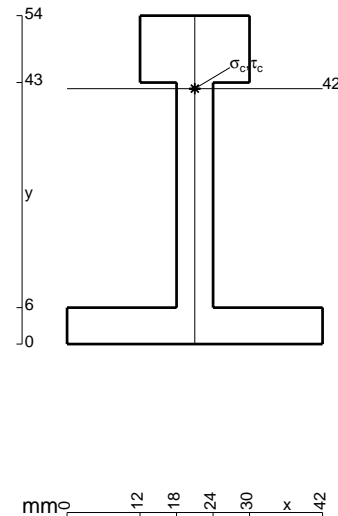
- $H_E = -F$
- $H_H = -F$
- $W_C = -W = -Fb$
- $W_A = -W = -Fb$
- $q_{GD} = -q = -F/b$
- $q_{AB} = -q = -F/b$
- $\theta_{FG} = -\theta = -\alpha T/b = -bF/EJ$
- $EJ_{AB} = EJ$
- $EJ_{BC} = EJ$
- $EJ_{BD} = EJ$
- $EJ_{DC} = EJ$
- $EJ_{CE} = EJ$
- $EJ_{FG} = EJ$
- $EJ_{GD} = EJ$
- $EJ_{DH} = EJ$
- $EJ_{GA} = EJ$



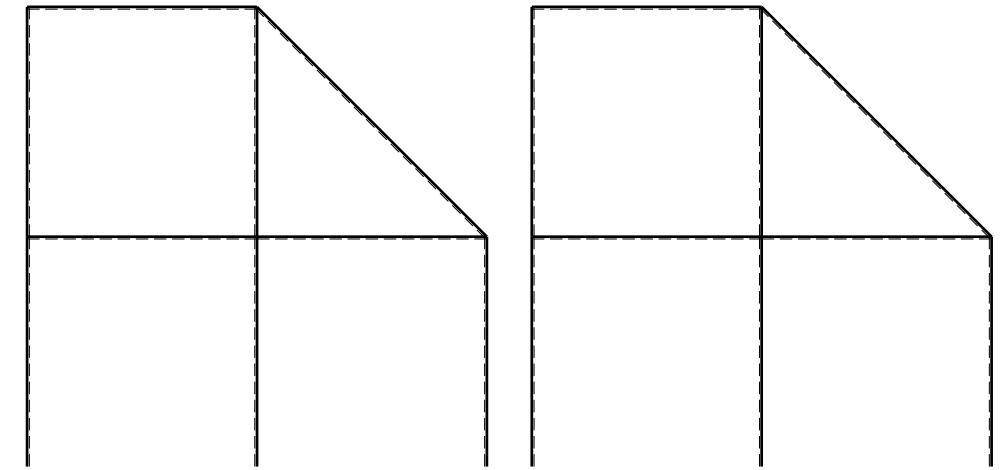
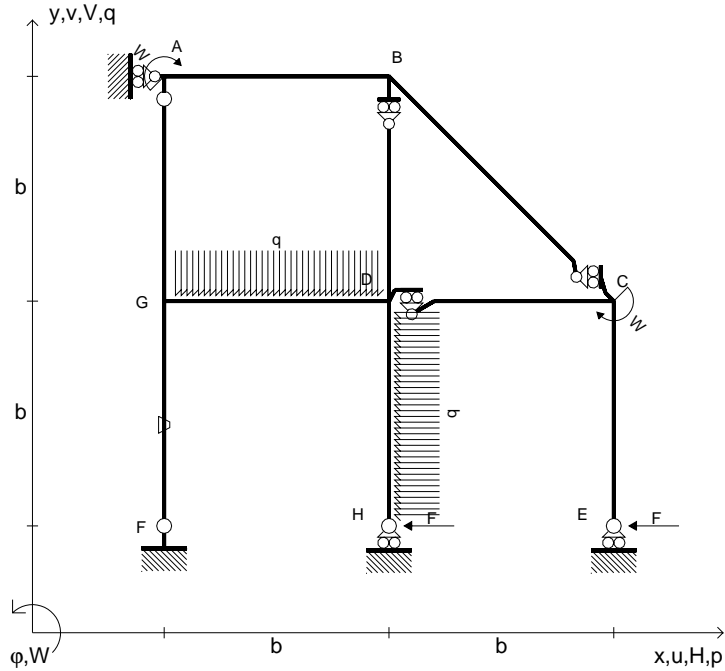
ANALISI STRUTTURALE CON PLV
 RIPORTARE SUL FILE "ESAME" SOLO LE SEGUENTI RICHIESTE

- Sul fronte:
- 1) Declassamento con indicazione dell'iperstatica scelta
 - 2) Diagrammi finali delle azioni interne
 - 3) Sforzi richiesti
 (nota: profilo COMPATTO)
- Sul retro:
- 4) Analisi cinematica
 - 5) Diagrammi del momento M_0 e M^*
 - 6) Espressione del PLV
 - 7) Valore numerico dell'iperstatica

Carichi e deformazioni date hanno verso efficace in disegno.
 Calcolare reazioni vincolari della struttura e delle aste.
 Tracciare i diagrammi quotati delle azioni interne nelle aste.
 $J_{YZ} - x_{YZ} - \theta_{YZ}$ riferimento locale asta YZ con origine in Y.
 La trave DC ha la sezione riportata e dimensioni in mm, con:
 $b = 810 \text{ mm}$, $F = 1090 \text{ N}$
 Calcolare sulla sezione C la massima tensione normale σ_m .
 Calcolare in * le tensioni σ_c, τ_c e la tensione di von Mises.
 Lembo inferiore sezione su tratteggio trave, a destra da D a C
 Curvatura θ asta FG positiva se convessa a destra con inizio F.
 © Adolfo Zavelani Rossi, Politecnico di Milano, vers.27.03.13



- $H_E = -F$
- $H_H = -F$
- $W_C = -W = -Fb$
- $W_A = -W = -Fb$
- $p_{DH} = -q = -F/b$
- $q_{GD} = -q = -F/b$
- $\theta_{FG} = -\theta = -\alpha T/b = -bF/EJ$
- $EJ_{AB} = EJ$
- $EJ_{BC} = EJ$
- $EJ_{BD} = EJ$
- $EJ_{DC} = EJ$
- $EJ_{CE} = EJ$
- $EJ_{FG} = EJ$
- $EJ_{GD} = EJ$
- $EJ_{DH} = EJ$
- $EJ_{GA} = EJ$



ANALISI STRUTTURALE CON PLV

RIPORTARE SUL FILE "ESAME" SOLO LE SEGUENTI RICHIESTE

Sul fronte:

- 1) Declassamento con indicazione dell'iperstatica scelta
- 2) Diagrammi finali delle azioni interne
- 3) Sforzi richiesti (nota: profilo COMPATTO)

Sul retro:

- 4) Analisi cinematica
- 5) Diagrammi del momento M_0 e M^*
- 6) Espressione del PLV
- 7) Valore numerico dell'iperstatica

Carichi e deformazioni date hanno verso efficace in disegno.

Calcolare reazioni vincolari della struttura e delle aste.

Tracciare i diagrammi quotati delle azioni interne nelle aste.

$J_{YZ} - x_{YZ} - \theta_{YZ}$ riferimento locale asta YZ con origine in Y.

La trave DC ha la sezione riportata e dimensioni in mm, con:

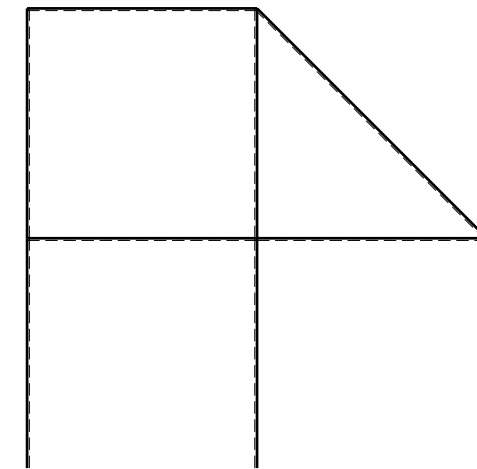
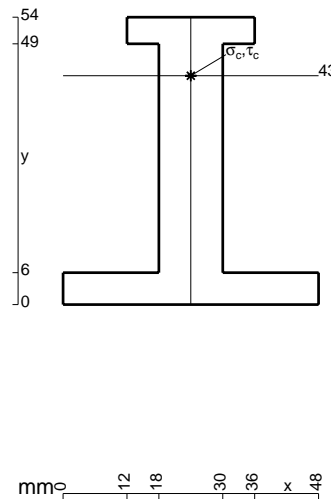
$b = 860 \text{ mm}$, $F = 1250 \text{ N}$

Calcolare sulla sezione C la massima tensione normale σ_m .

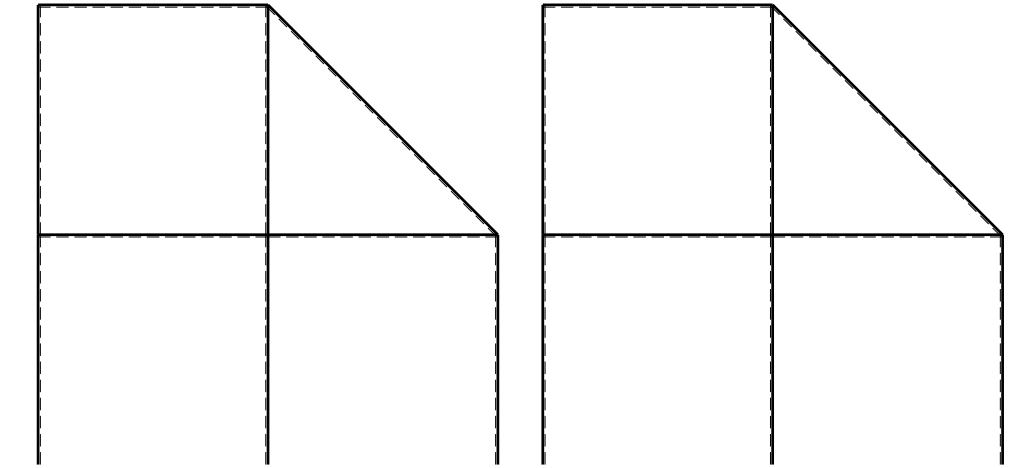
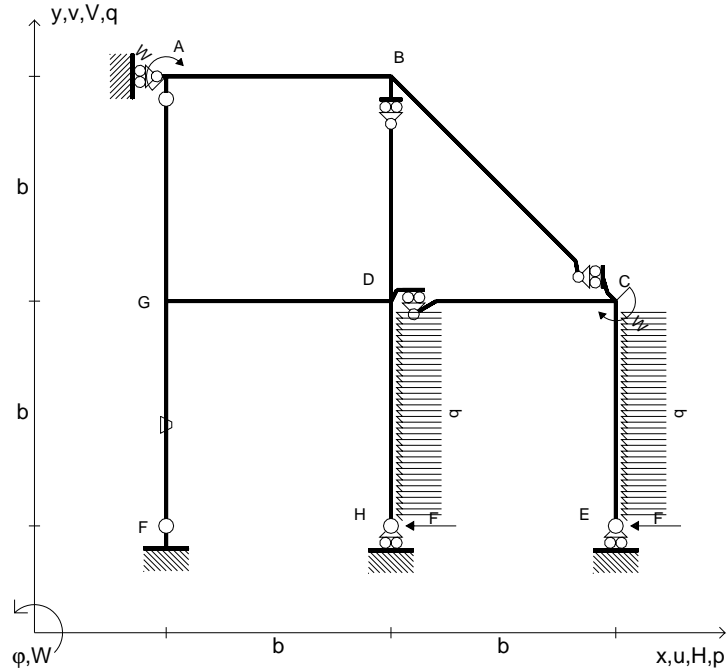
Calcolare in * le tensioni σ_c, τ_c e la tensione di von Mises.

Le mbo inferiore sezione su tratteggio trave, a destra da D a C
Curvatura θ asta FG positiva se convessa a destra con inizio F.

@ Adolfo Zavelani Rossi, Politecnico di Milano, vers.27.03.13



- $H_E = -F$
- $H_H = -F$
- $W_C = -W = -Fb$
- $W_A = -W = -Fb$
- $p_{DH} = -q = -F/b$
- $p_{CE} = -q = -F/b$
- $\theta_{FG} = -\theta = -\alpha T/b = -bF/EJ$
- $EJ_{AB} = EJ$
- $EJ_{BC} = EJ$
- $EJ_{BD} = EJ$
- $EJ_{DC} = EJ$
- $EJ_{CE} = EJ$
- $EJ_{FG} = EJ$
- $EJ_{GD} = EJ$
- $EJ_{DH} = EJ$
- $EJ_{GA} = EJ$



← ⊕ →

↑ ⊕ ↓

ANALISI STRUTTURALE CON PLV

RIPORTARE SUL FILE "ESAME" SOLO LE SEGUENTI RICHIESTE

Sul fronte:

- 1) Declassamento con indicazione dell'iperstatica scelta
- 2) Diagrammi finali delle azioni interne
- 3) Sforzi richiesti
(nota: profilo COMPATTO)

Sul retro:

- 4) Analisi cinematica
- 5) Diagrammi del momento M_0 e M^*
- 6) Espressione del PLV
- 7) Valore numerico dell'iperstatica

Carichi e deformazioni date hanno verso efficace in disegno.

Calcolare reazioni vincolari della struttura e delle aste.

Tracciare i diagrammi quotati delle azioni interne nelle aste.

$J_{YZ} - x_{YZ} - \theta_{YZ}$ riferimento locale asta YZ con origine in Y.

La trave DC ha la sezione riportata e dimensioni in mm, con:

$b = 910 \text{ mm}$, $F = 870 \text{ N}$

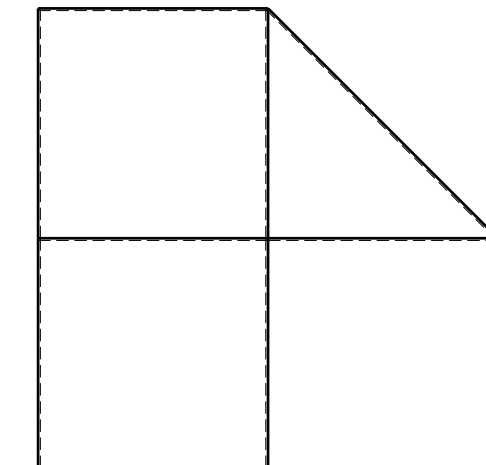

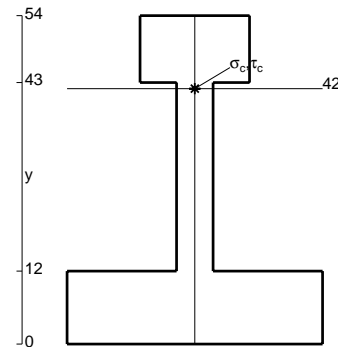
Calcolare sulla sezione C la massima tensione normale σ_m .

Calcolare in * le tensioni σ_c, τ_c e la tensione di von Mises.

Leombo inferiore sezione su tratteggio trave, a destra da D a C

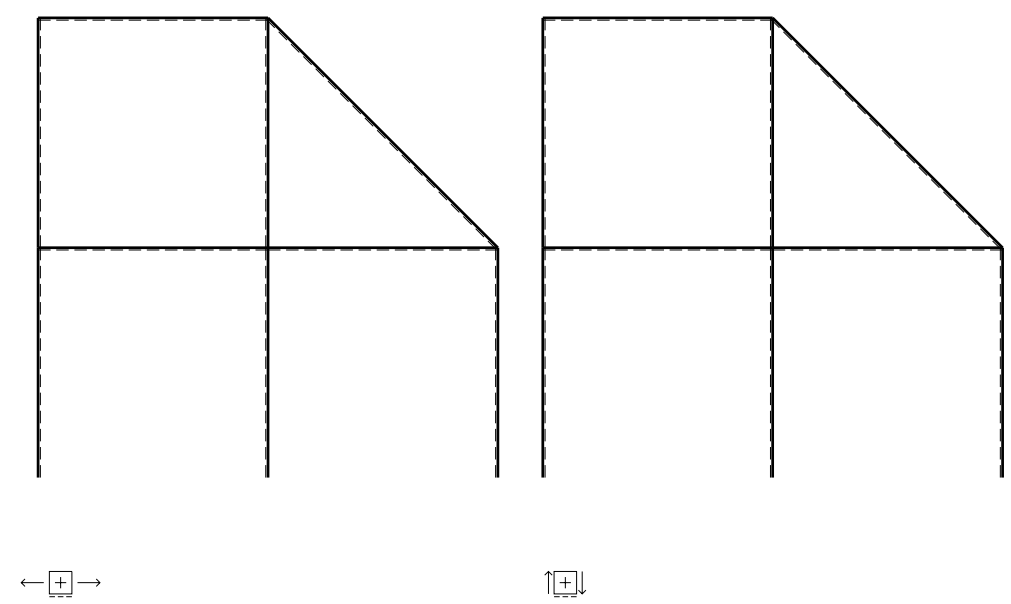
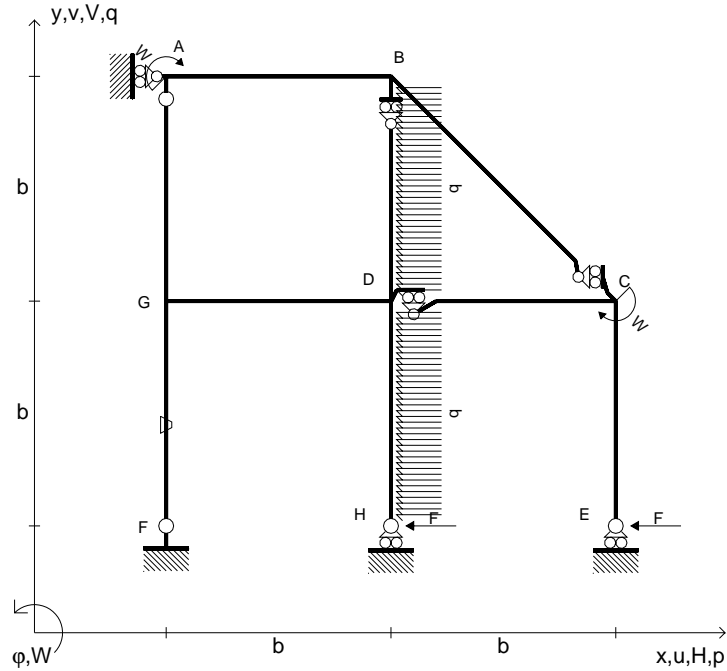
Curvatura θ asta FG positiva se convessa a destra con inizio F.

@ Adolfo Zavelani Rossi, Politecnico di Milano, vers.27.03.13



⊕ ↻

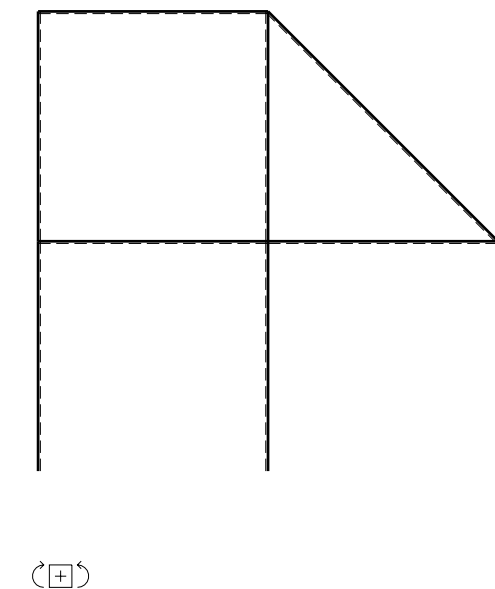
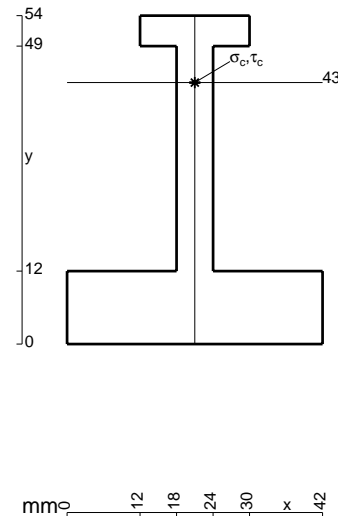
- $H_E = -F$
- $H_H = -F$
- $W_C = -W = -Fb$
- $W_A = -W = -Fb$
- $p_{DH} = -q = -F/b$
- $p_{BD} = -q = -F/b$
- $\theta_{FG} = -\theta = -\alpha T/b = -bF/EJ$
- $EJ_{AB} = EJ$
- $EJ_{BC} = EJ$
- $EJ_{BD} = EJ$
- $EJ_{DC} = EJ$
- $EJ_{CE} = EJ$
- $EJ_{FG} = EJ$
- $EJ_{GD} = EJ$
- $EJ_{DH} = EJ$
- $EJ_{GA} = EJ$



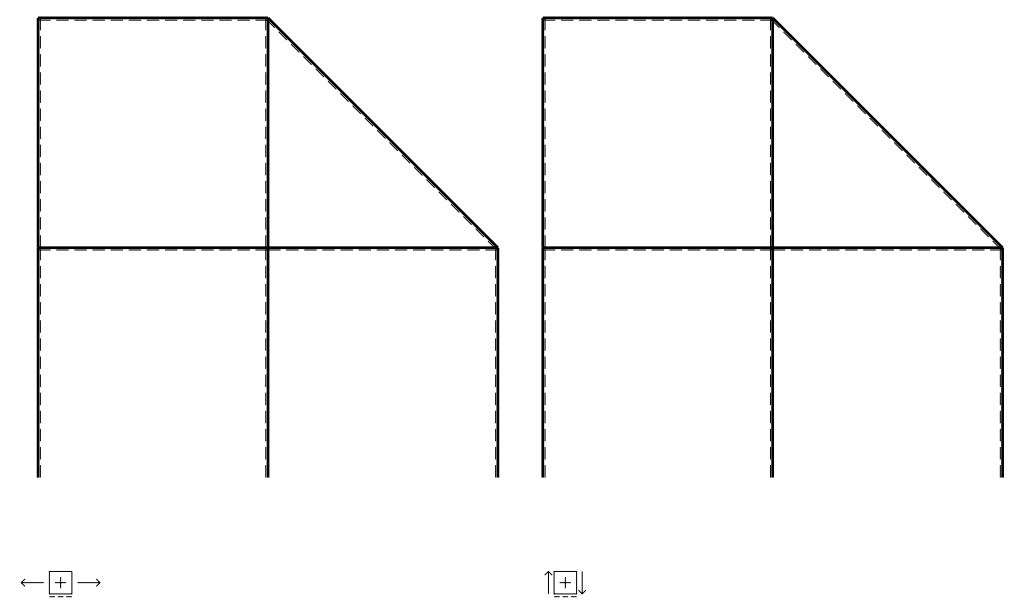
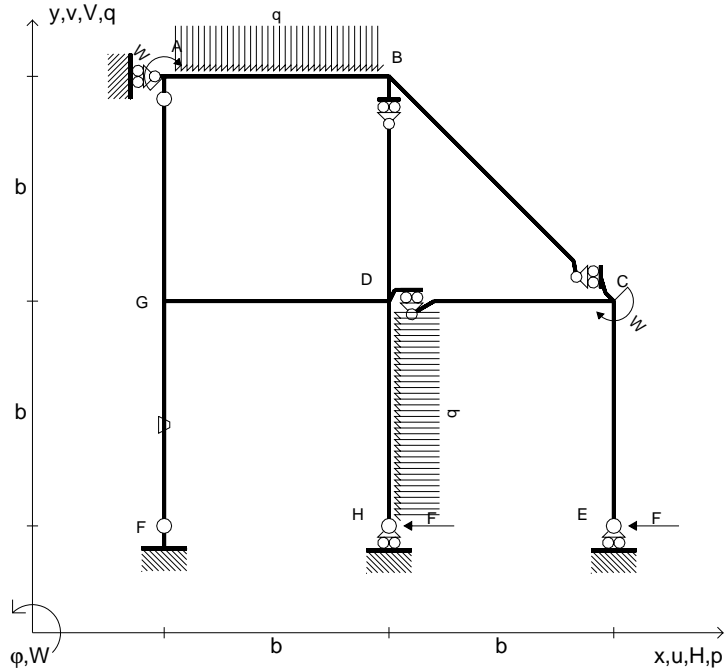
ANALISI STRUTTURALE CON PLV
 RIPORTARE SUL FILE "ESAME" SOLO LE SEGUENTI RICHIESTE

- Sul fronte:
- 1) Declassamento con indicazione dell'iperstatica scelta
 - 2) Diagrammi finali delle azioni interne
 - 3) Sforzi richiesti (nota: profilo COMPATTO)
- Sul retro:
- 4) Analisi cinematica
 - 5) Diagrammi del momento M_0 e M^*
 - 6) Espressione del PLV
 - 7) Valore numerico dell'iperstatica

Carichi e deformazioni date hanno verso efficace in disegno.
 Calcolare reazioni vincolari della struttura e delle aste.
 Tracciare i diagrammi quotati delle azioni interne nelle aste.
 $J_{YZ} - x_{YZ} - \theta_{YZ}$ riferimento locale asta YZ con origine in Y.
 La trave DC ha la sezione riportata e dimensioni in mm, con:
 $b = 960 \text{ mm}$, $F = 820 \text{ N}$
 Calcolare sulla sezione C la massima tensione normale σ_m .
 Calcolare in * le tensioni σ_c, τ_c e la tensione di von Mises.
 Lembo inferiore sezione su tratteggio trave, a destra da D a C
 Curvatura θ asta FG positiva se convessa a destra con inizio F.
 © Adolfo Zavelani Rossi, Politecnico di Milano, vers.27.03.13



$H_E = -F$
 $H_H = -F$
 $W_C = -W = -Fb$
 $W_A = -W = -Fb$
 $p_{DH} = -q = -F/b$
 $q_{AB} = -q = -F/b$
 $\theta_{FG} = -\theta = -\alpha T/b = -bF/EJ$
 $EJ_{AB} = EJ$
 $EJ_{BC} = EJ$
 $EJ_{BD} = EJ$
 $EJ_{DC} = EJ$
 $EJ_{CE} = EJ$
 $EJ_{FG} = EJ$
 $EJ_{GD} = EJ$
 $EJ_{DH} = EJ$
 $EJ_{GA} = EJ$



ANALISI STRUTTURALE CON PLV

RIPORTARE SUL FILE "ESAME" SOLO LE SEGUENTI RICHIESTE

Sul fronte:

- 1) Declassamento con indicazione dell'iperstatica scelta
- 2) Diagrammi finali delle azioni interne
- 3) Sforzi richiesti (nota: profilo COMPATTO)

Sul retro:

- 4) Analisi cinematica
- 5) Diagrammi del momento M_0 e M^*
- 6) Espressione del PLV
- 7) Valore numerico dell'iperstatica

Carichi e deformazioni date hanno verso efficace in disegno.

Calcolare reazioni vincolari della struttura e delle aste.

Tracciare i diagrammi quotati delle azioni interne nelle aste.

$J_{YZ} - x_{YZ} - \theta_{YZ}$ riferimento locale asta YZ con origine in Y.

La trave DC ha la sezione riportata e dimensioni in mm, con:

$b = 510 \text{ mm}$, $F = 2260 \text{ N}$

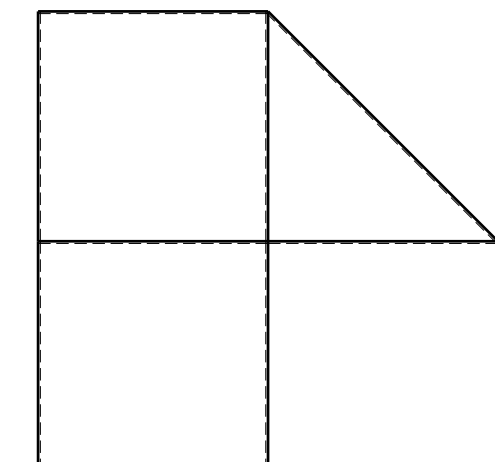
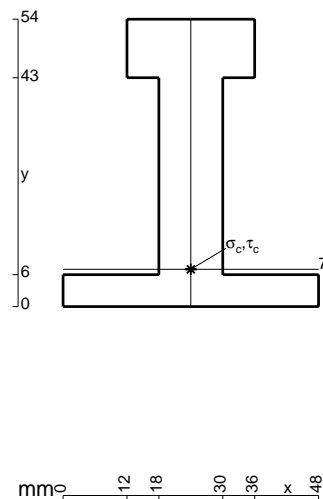
Calcolare sulla sezione C la massima tensione normale σ_m .

Calcolare in * le tensioni σ_c, τ_c e la tensione di von Mises.

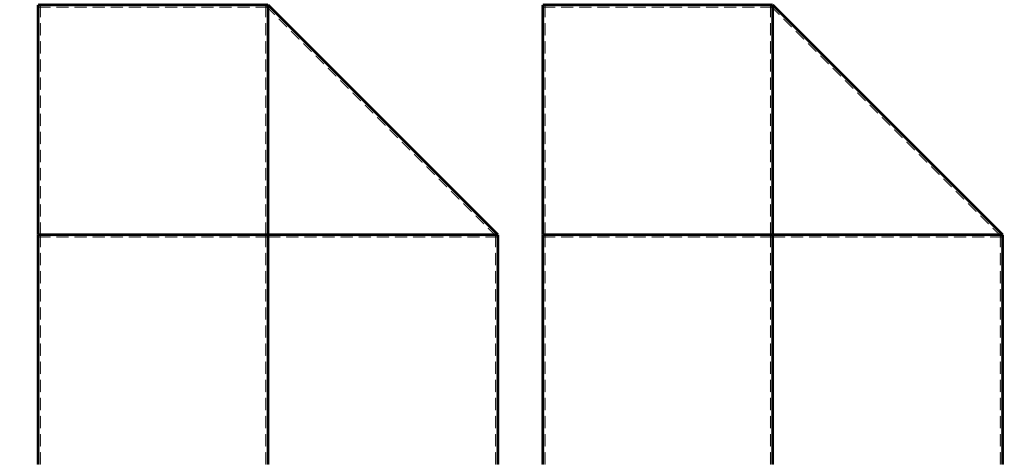
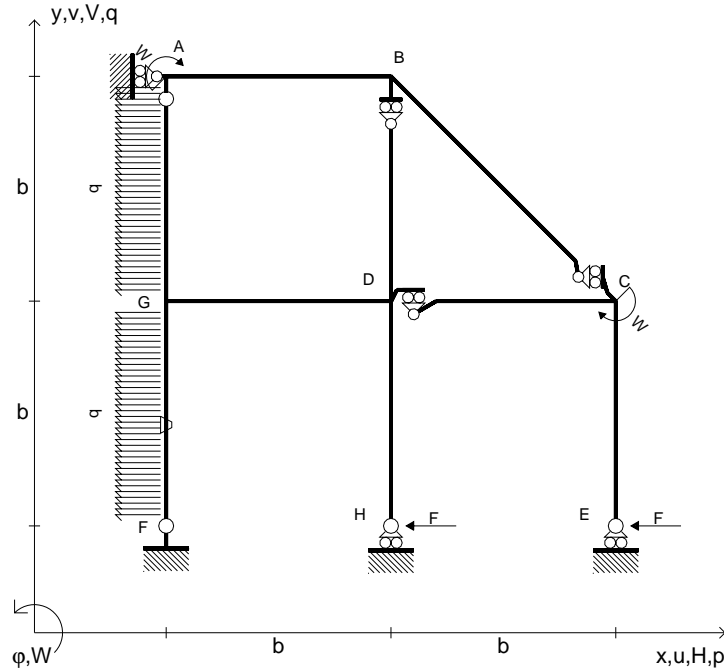
Le mbo inferiore sezione su tratteggio trave, a destra da D a C

Curvatura θ asta FG positiva se convessa a destra con inizio F.

@ Adolfo Zavelani Rossi, Politecnico di Milano, vers.27.03.13



- $H_E = -F$
- $H_H = -F$
- $W_C = -W = -Fb$
- $W_A = -W = -Fb$
- $p_{FG} = -q = -F/b$
- $p_{GA} = -q = -F/b$
- $\theta_{FG} = -\theta = -\alpha T/b = -bF/EJ$
- $EJ_{AB} = EJ$
- $EJ_{BC} = EJ$
- $EJ_{BD} = EJ$
- $EJ_{DC} = EJ$
- $EJ_{CE} = EJ$
- $EJ_{FG} = EJ$
- $EJ_{GD} = EJ$
- $EJ_{DH} = EJ$
- $EJ_{GA} = EJ$



← ⊕ →

↑ ⊕ ↓

ANALISI STRUTTURALE CON PLV

RIPORTARE SUL FILE "ESAME" SOLO LE SEGUENTI RICHIESTE

Sul fronte:

- 1) Declassamento con indicazione dell'iperstatica scelta
- 2) Diagrammi finali delle azioni interne
- 3) Sforzi richiesti
(nota: profilo COMPATTO)

Sul retro:

- 4) Analisi cinematica
- 5) Diagrammi del momento M_0 e M^*
- 6) Espressione del PLV
- 7) Valore numerico dell'iperstatica

Carichi e deformazioni date hanno verso efficace in disegno.

Calcolare reazioni vincolari della struttura e delle aste.

Tracciare i diagrammi quotati delle azioni interne nelle aste.

$J_{YZ} - x_{YZ} - \theta_{YZ}$ riferimento locale asta YZ con origine in Y.

La trave DC ha la sezione riportata e dimensioni in mm, con:

$b = 560$ mm, $F = 1880$ N

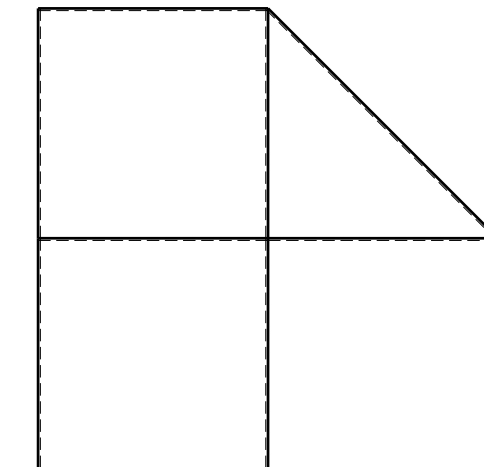

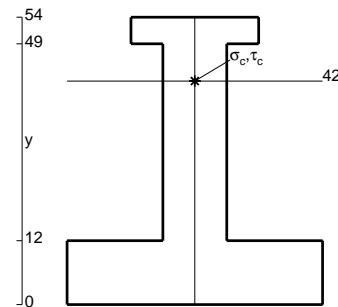
Calcolare sulla sezione C la massima tensione normale σ_m .

Calcolare in * le tensioni σ_c, τ_c e la tensione di von Mises.

Leombo inferiore sezione su tratteggio trave, a destra da D a C

Curvatura θ asta FG positiva se convessa a destra con inizio F.

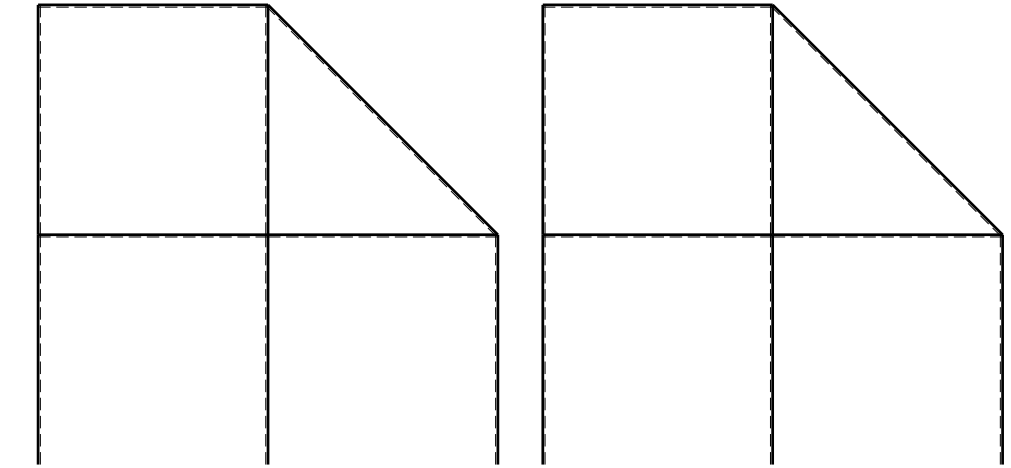
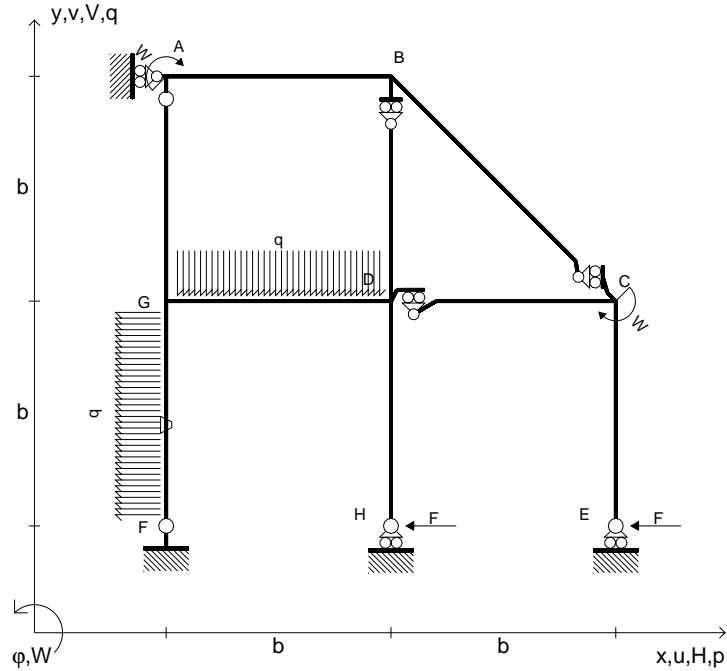
@ Adolfo Zavelani Rossi, Politecnico di Milano, vers.27.03.13



← ⊕ →

@ Adolfo Zavelani Rossi, Politecnico di Milano, vers.27.03.13

- $H_E = -F$
- $H_H = -F$
- $W_C = -W = -Fb$
- $W_A = -W = -Fb$
- $p_{FG} = -q = -F/b$
- $q_{GD} = -q = -F/b$
- $\theta_{FG} = -\theta = -\alpha T/b = -bF/EJ$
- $EJ_{AB} = EJ$
- $EJ_{BC} = EJ$
- $EJ_{BD} = EJ$
- $EJ_{DC} = EJ$
- $EJ_{CE} = EJ$
- $EJ_{FG} = EJ$
- $EJ_{GD} = EJ$
- $EJ_{DH} = EJ$
- $EJ_{GA} = EJ$



← ⊕ →

↑ ⊕ ↓

ANALISI STRUTTURALE CON PLV

RIPORTARE SUL FILE "ESAME" SOLO LE SEGUENTI RICHIESTE

Sul fronte:

- 1) Declassamento con indicazione dell'iperstatica scelta
- 2) Diagrammi finali delle azioni interne
- 3) Sforzi richiesti
(nota: profilo COMPATTO)

Sul retro:

- 4) Analisi cinematica
- 5) Diagrammi del momento M_0 e M^*
- 6) Espressione del PLV
- 7) Valore numerico dell'iperstatica

Carichi e deformazioni date hanno verso efficace in disegno.

Calcolare reazioni vincolari della struttura e delle aste.

Tracciare i diagrammi quotati delle azioni interne nelle aste.

$J_{YZ} - x_{YZ} - \theta_{YZ}$ riferimento locale asta YZ con origine in Y.

La trave DC ha la sezione riportata e dimensioni in mm, con:

$b = 610 \text{ mm}$, $F = 1170 \text{ N}$

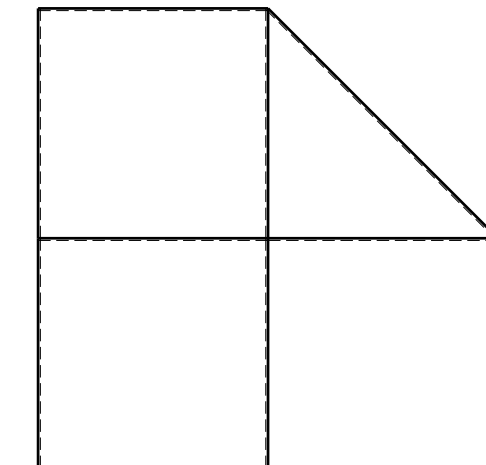
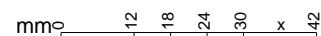
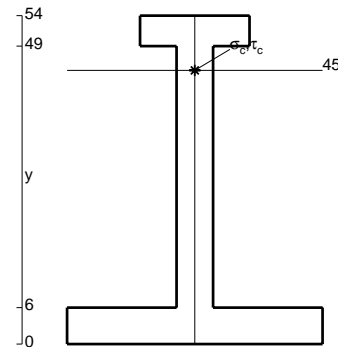
Calcolare sulla sezione C la massima tensione normale σ_m .

Calcolare in * le tensioni σ_c, τ_c e la tensione di von Mises.

Leombo inferiore sezione su tratteggio trave, a destra da D a C

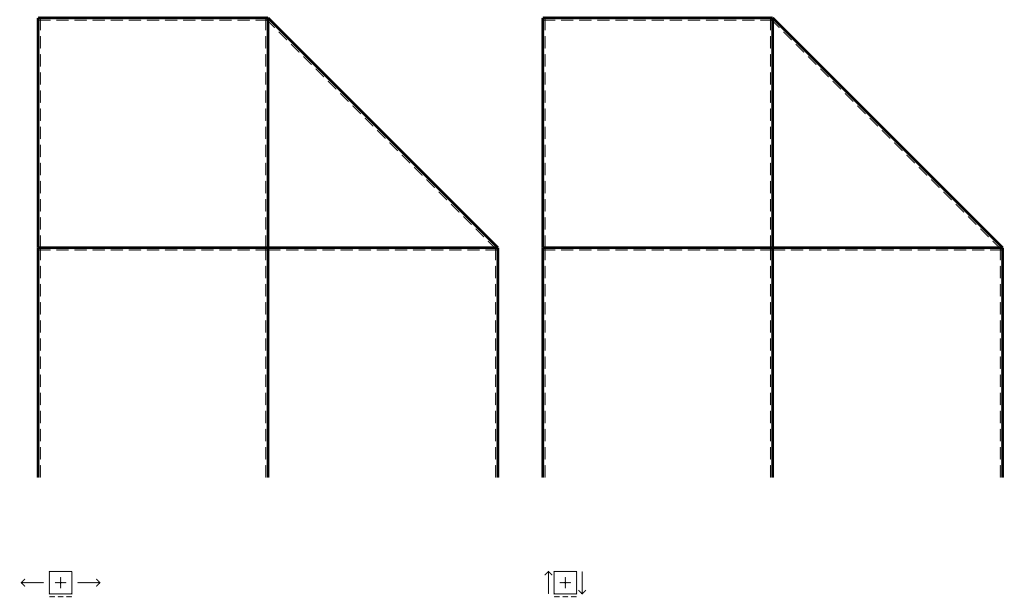
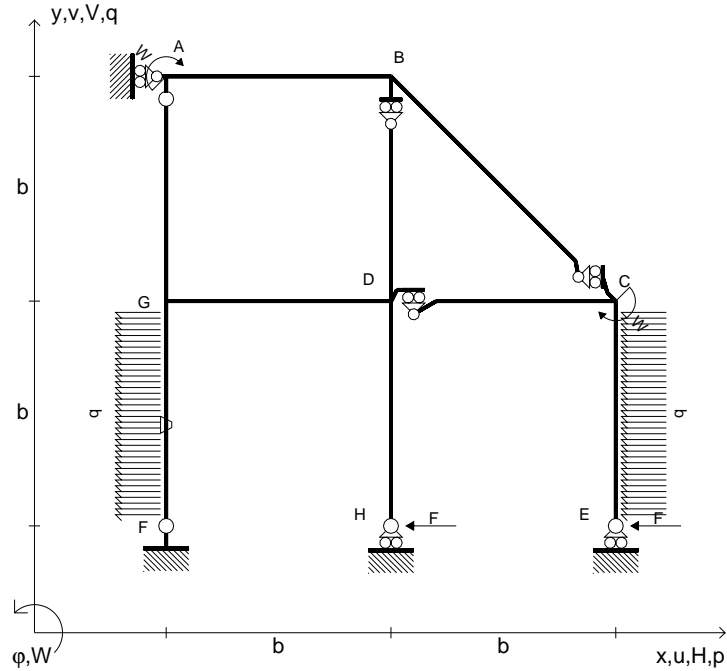
Curvatura θ asta FG positiva se convessa a destra con inizio F.

@ Adolfo Zavelani Rossi, Politecnico di Milano, vers.27.03.13



⊕ ↻

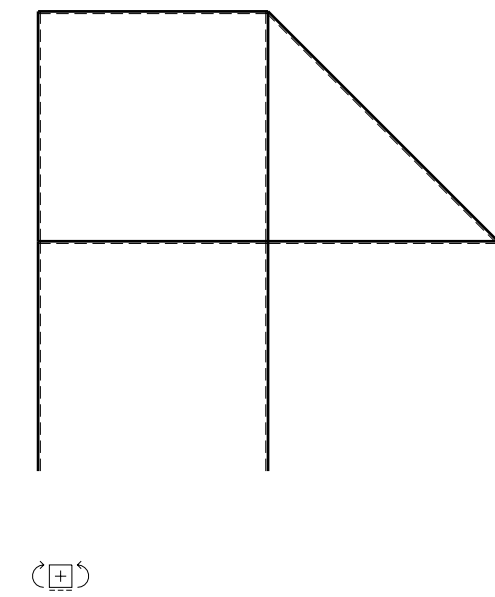
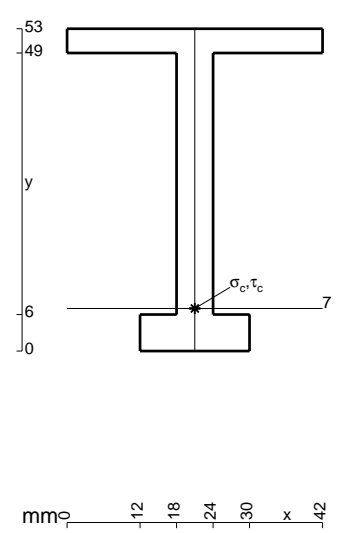
- $H_E = -F$
- $H_H = -F$
- $W_C = -W = -Fb$
- $W_A = -W = -Fb$
- $p_{FG} = -q = -F/b$
- $p_{CE} = -q = -F/b$
- $\theta_{FG} = -\theta = -\alpha T/b = -bF/EJ$
- $EJ_{AB} = EJ$
- $EJ_{BC} = EJ$
- $EJ_{BD} = EJ$
- $EJ_{DC} = EJ$
- $EJ_{CE} = EJ$
- $EJ_{FG} = EJ$
- $EJ_{GD} = EJ$
- $EJ_{DH} = EJ$
- $EJ_{GA} = EJ$



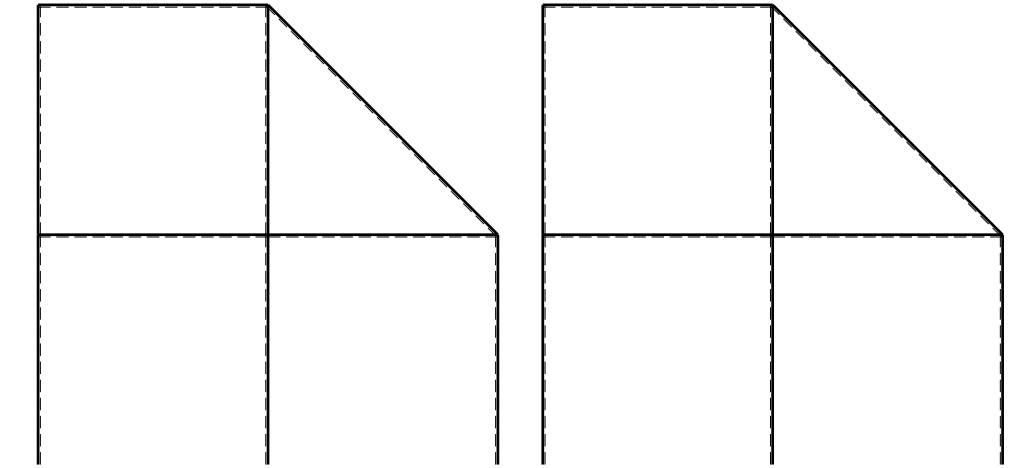
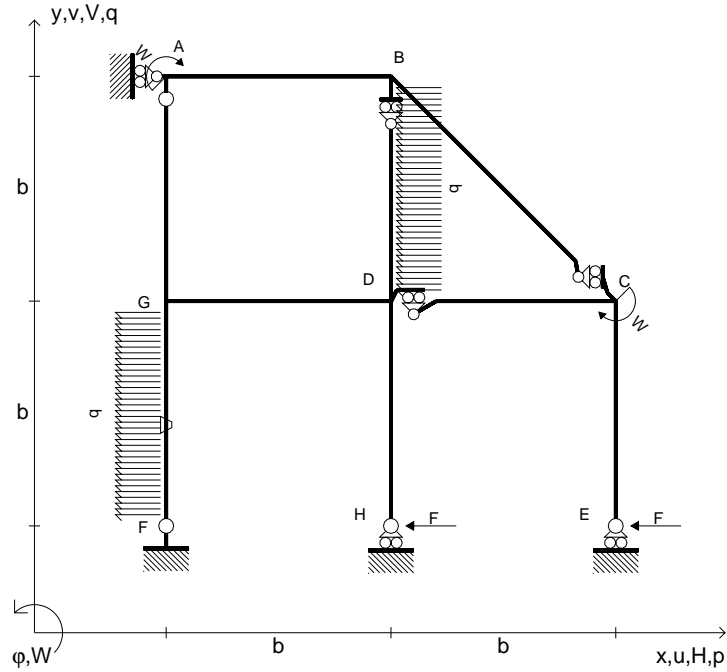
ANALISI STRUTTURALE CON PLV
 RIPORTARE SUL FILE "ESAME" SOLO LE SEGUENTI RICHIESTE

- Sul fronte:
- 1) Declassamento con indicazione dell'iperstatica scelta
 - 2) Diagrammi finali delle azioni interne
 - 3) Sforzi richiesti (nota: profilo COMPATTO)
- Sul retro:
- 4) Analisi cinematica
 - 5) Diagrammi del momento M_0 e M^*
 - 6) Espressione del PLV
 - 7) Valore numerico dell'iperstatica

Carichi e deformazioni date hanno verso efficace in disegno.
 Calcolare reazioni vincolari della struttura e delle aste.
 Tracciare i diagrammi quotati delle azioni interne nelle aste.
 $J_{YZ} - x_{YZ} - \theta_{YZ}$ riferimento locale asta YZ con origine in Y.
 La trave DC ha la sezione riportata e dimensioni in mm, con:
 $b = 650 \text{ mm}$, $F = 920 \text{ N}$
 Calcolare sulla sezione C la massima tensione normale σ_m .
 Calcolare in * le tensioni σ_c, τ_c e la tensione di von Mises.
 Lembo inferiore sezione su tratteggio trave, a destra da D a C
 Curvatura θ asta FG positiva se convessa a destra con inizio F.
 © Adolfo Zavelani Rossi, Politecnico di Milano, vers.27.03.13



- $H_E = -F$
- $H_H = -F$
- $W_C = -W = -Fb$
- $W_A = -W = -Fb$
- $p_{FG} = -q = -F/b$
- $p_{BD} = -q = -F/b$
- $\theta_{FG} = -\theta = -\alpha T/b = -bF/EJ$
- $EJ_{AB} = EJ$
- $EJ_{BC} = EJ$
- $EJ_{BD} = EJ$
- $EJ_{DC} = EJ$
- $EJ_{CE} = EJ$
- $EJ_{FG} = EJ$
- $EJ_{GD} = EJ$
- $EJ_{DH} = EJ$
- $EJ_{GA} = EJ$



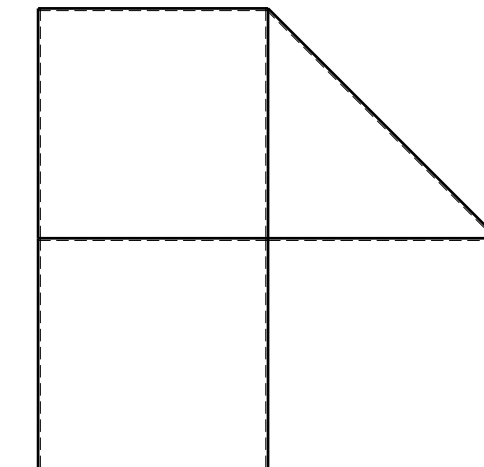
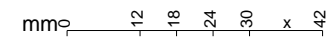
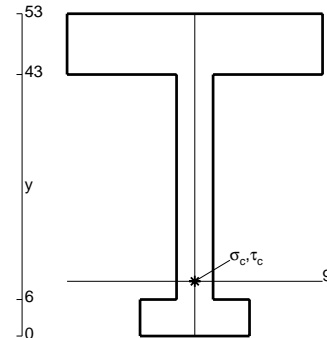
← ⊕ →

↑ ⊕ ↓

ANALISI STRUTTURALE CON PLV
 RIPORTARE SUL FILE "ESAME" SOLO LE SEGUENTI RICHIESTE

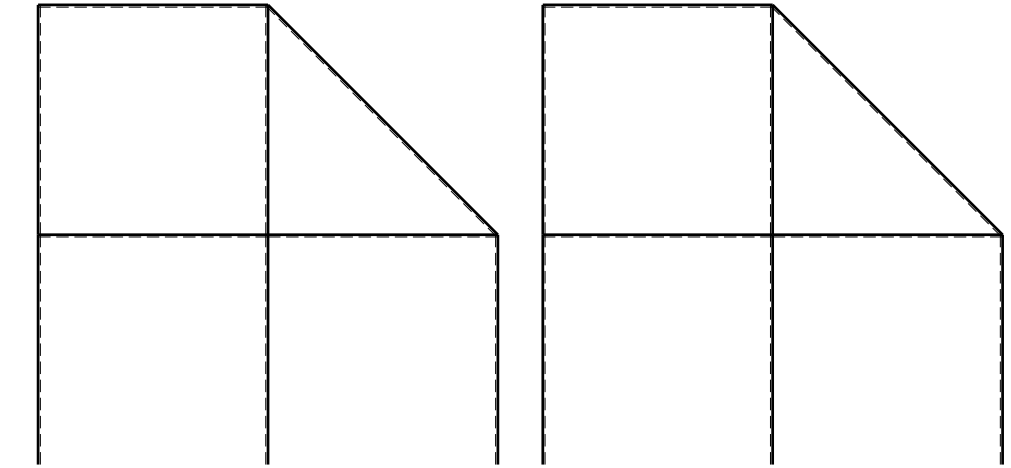
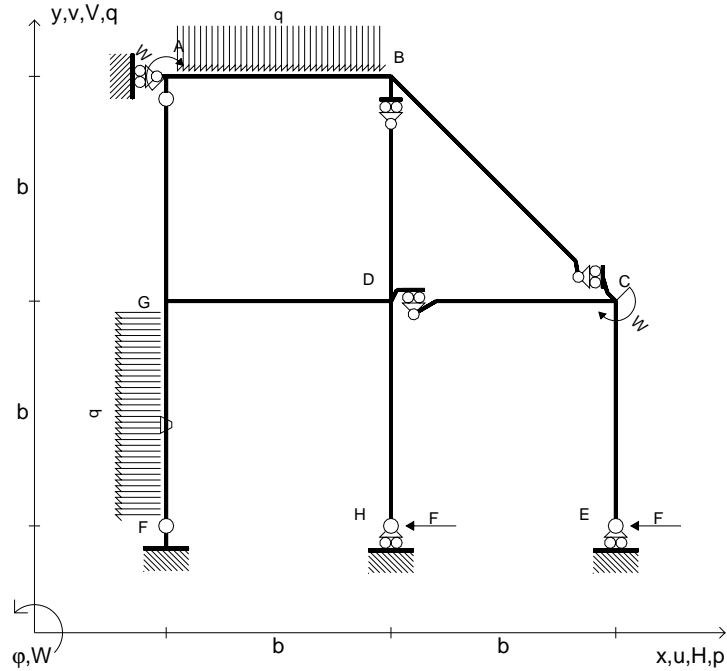
- Sul fronte:
- 1) Declassamento con indicazione dell'iperstatica scelta
 - 2) Diagrammi finali delle azioni interne
 - 3) Sforzi richiesti (nota: profilo COMPATTO)
- Sul retro:
- 4) Analisi cinematica
 - 5) Diagrammi del momento M_0 e M^*
 - 6) Espressione del PLV
 - 7) Valore numerico dell'iperstatica

Carichi e deformazioni date hanno verso efficace in disegno.
 Calcolare reazioni vincolari della struttura e delle aste.
 Tracciare i diagrammi quotati delle azioni interne nelle aste.
 $J_{YZ} - x_{YZ} - \theta_{YZ}$ riferimento locale asta YZ con origine in Y.
 La trave DC ha la sezione riportata e dimensioni in mm, con:
 $b = 700$ mm, $F = 1160$ N
 Calcolare sulla sezione C la massima tensione normale σ_m .
 Calcolare in * le tensioni σ_c, τ_c e la tensione di von Mises.
 Lembo inferiore sezione su tratteggio trave, a destra da D a C
 Curvatura θ asta FG positiva se convessa a destra con inizio F.
 © Adolfo Zavelani Rossi, Politecnico di Milano, vers.27.03.13



⊕ ↻

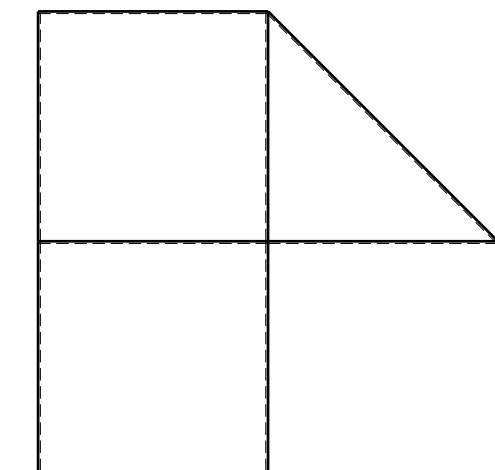
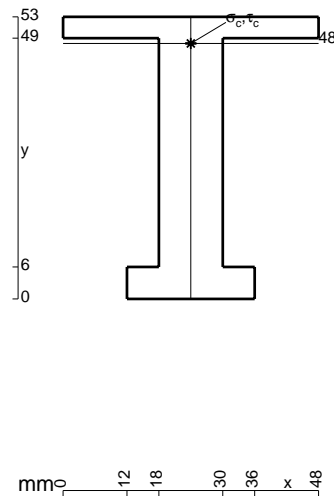
- $H_E = -F$
- $H_H = -F$
- $W_C = -W = -Fb$
- $W_A = -W = -Fb$
- $p_{FG} = -q = -F/b$
- $q_{AB} = -q = -F/b$
- $\theta_{FG} = -\theta = -\alpha T/b = -bF/EJ$
- $EJ_{AB} = EJ$
- $EJ_{BC} = EJ$
- $EJ_{BD} = EJ$
- $EJ_{DC} = EJ$
- $EJ_{CE} = EJ$
- $EJ_{FG} = EJ$
- $EJ_{GD} = EJ$
- $EJ_{DH} = EJ$
- $EJ_{GA} = EJ$



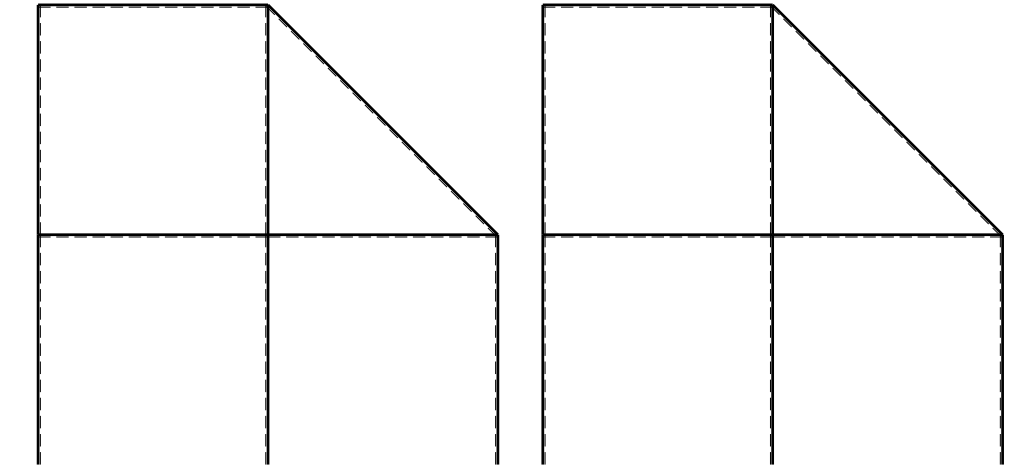
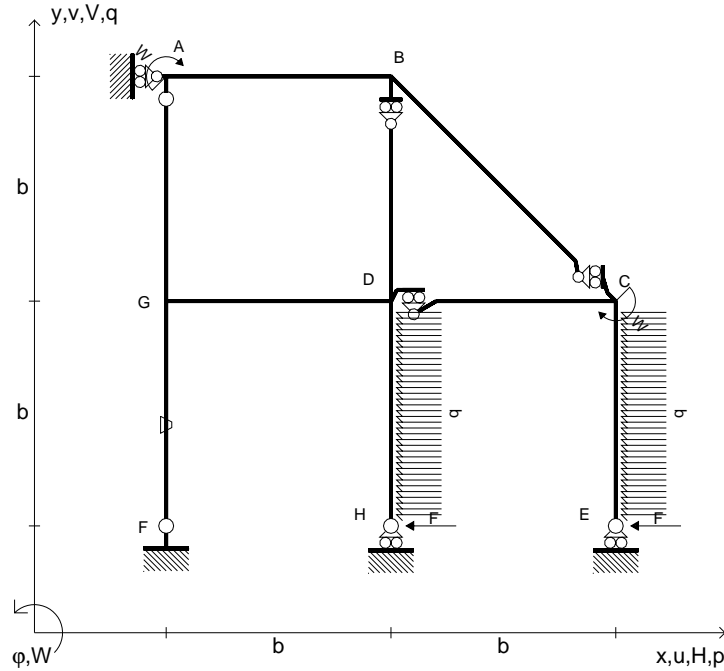
ANALISI STRUTTURALE CON PLV
 RIPORTARE SUL FILE "ESAME" SOLO LE SEGUENTI RICHIESTE

- Sul fronte:
- 1) Declassamento con indicazione dell'iperstatica scelta
 - 2) Diagrammi finali delle azioni interne
 - 3) Sforzi richiesti (nota: profilo COMPATTO)
- Sul retro:
- 4) Analisi cinematica
 - 5) Diagrammi del momento M_0 e M^*
 - 6) Espressione del PLV
 - 7) Valore numerico dell'iperstatica

Carichi e deformazioni date hanno verso efficace in disegno.
 Calcolare reazioni vincolari della struttura e delle aste.
 Tracciare i diagrammi quotati delle azioni interne nelle aste.
 $J_{YZ} - x_{YZ} - \theta_{YZ}$ riferimento locale asta YZ con origine in Y.
 La trave DC ha la sezione riportata e dimensioni in mm, con:
 $b = 750 \text{ mm}$, $F = 1260 \text{ N}$
 Calcolare sulla sezione C la massima tensione normale σ_m .
 Calcolare in * le tensioni σ_c, τ_c e la tensione di von Mises.
 Lembo inferiore sezione su tratteggio trave, a destra da D a C
 Curvatura θ asta FG positiva se convessa a destra con inizio F.
 © Adolfo Zavelani Rossi, Politecnico di Milano, vers.27.03.13



- $H_E = -F$
- $H_H = -F$
- $W_C = -W = -Fb$
- $W_A = -W = -Fb$
- $p_{CE} = -q = -F/b$
- $p_{DH} = -q = -F/b$
- $\theta_{FG} = -\theta = -\alpha T/b = -bF/EJ$
- $EJ_{AB} = EJ$
- $EJ_{BC} = EJ$
- $EJ_{BD} = EJ$
- $EJ_{DC} = EJ$
- $EJ_{CE} = EJ$
- $EJ_{FG} = EJ$
- $EJ_{GD} = EJ$
- $EJ_{DH} = EJ$
- $EJ_{GA} = EJ$



← ⊕ →

↑ ⊕ ↓

ANALISI STRUTTURALE CON PLV

RIPORTARE SUL FILE "ESAME" SOLO LE SEGUENTI RICHIESTE

Sul fronte:

- 1) Declassamento con indicazione dell'iperstatica scelta
- 2) Diagrammi finali delle azioni interne
- 3) Sforzi richiesti
(nota: profilo COMPATTO)

Sul retro:

- 4) Analisi cinematica
- 5) Diagrammi del momento M_0 e M^*
- 6) Espressione del PLV
- 7) Valore numerico dell'iperstatica

Carichi e deformazioni date hanno verso efficace in disegno.

Calcolare reazioni vincolari della struttura e delle aste.

Tracciare i diagrammi quotati delle azioni interne nelle aste.

$J_{YZ} - x_{YZ} - \theta_{YZ}$ riferimento locale asta YZ con origine in Y.

La trave DC ha la sezione riportata e dimensioni in mm, con:

$b = 850 \text{ mm}$, $F = 840 \text{ N}$

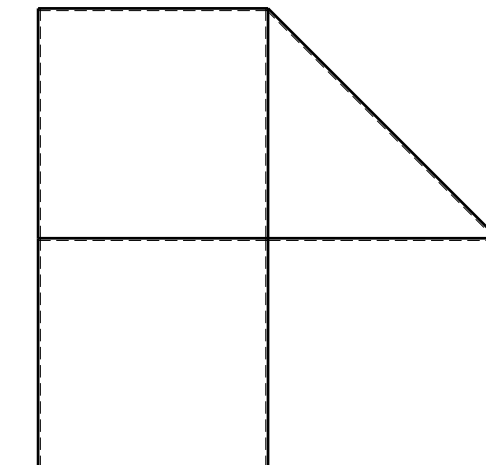
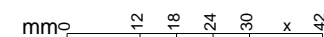
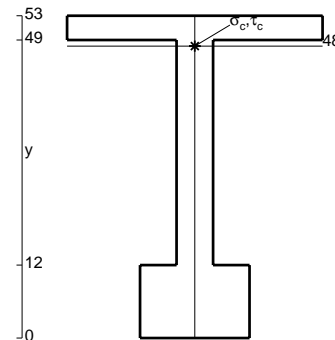
Calcolare sulla sezione C la massima tensione normale σ_m .

Calcolare in * le tensioni σ_c, τ_c e la tensione di von Mises.

Leombo inferiore sezione su tratteggio trave, a destra da D a C

Curvatura θ asta FG positiva se convessa a destra con inizio F.

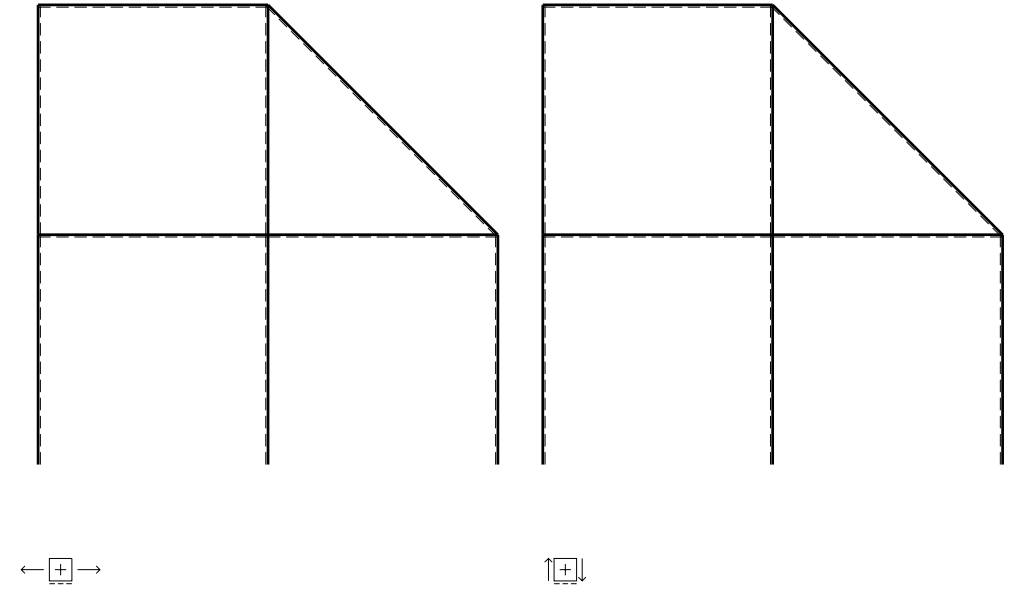
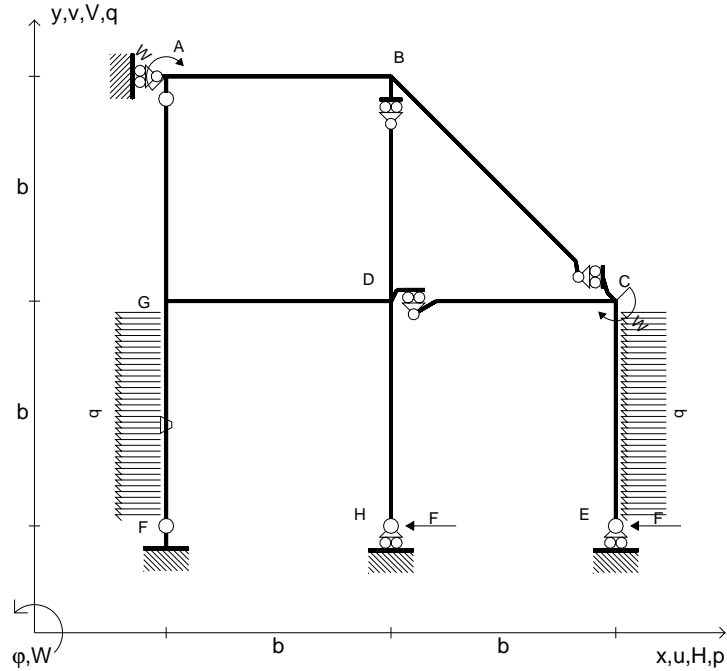
@ Adolfo Zavelani Rossi, Politecnico di Milano, vers.27.03.13



← ⊕ →

@ Adolfo Zavelani Rossi, Politecnico di Milano, vers.27.03.13

- $H_E = -F$
- $H_H = -F$
- $W_C = -W = -Fb$
- $W_A = -W = -Fb$
- $p_{CE} = -q = -F/b$
- $p_{FG} = -q = -F/b$
- $\theta_{FG} = -\theta = -\alpha T/b = -bF/EJ$
- $EJ_{AB} = EJ$
- $EJ_{BC} = EJ$
- $EJ_{BD} = EJ$
- $EJ_{DC} = EJ$
- $EJ_{CE} = EJ$
- $EJ_{FG} = EJ$
- $EJ_{GD} = EJ$
- $EJ_{DH} = EJ$
- $EJ_{GA} = EJ$

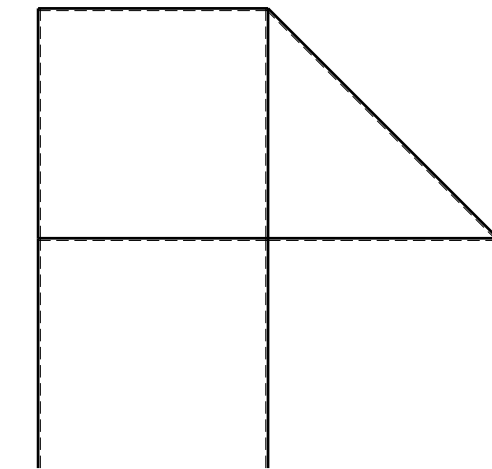
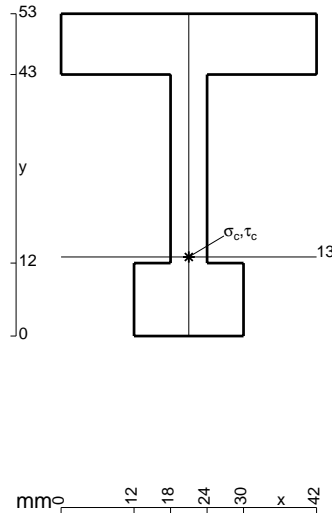


ANALISI STRUTTURALE CON PLV
 RIPORTARE SUL FILE "ESAME" SOLO LE SEGUENTI RICHIESTE

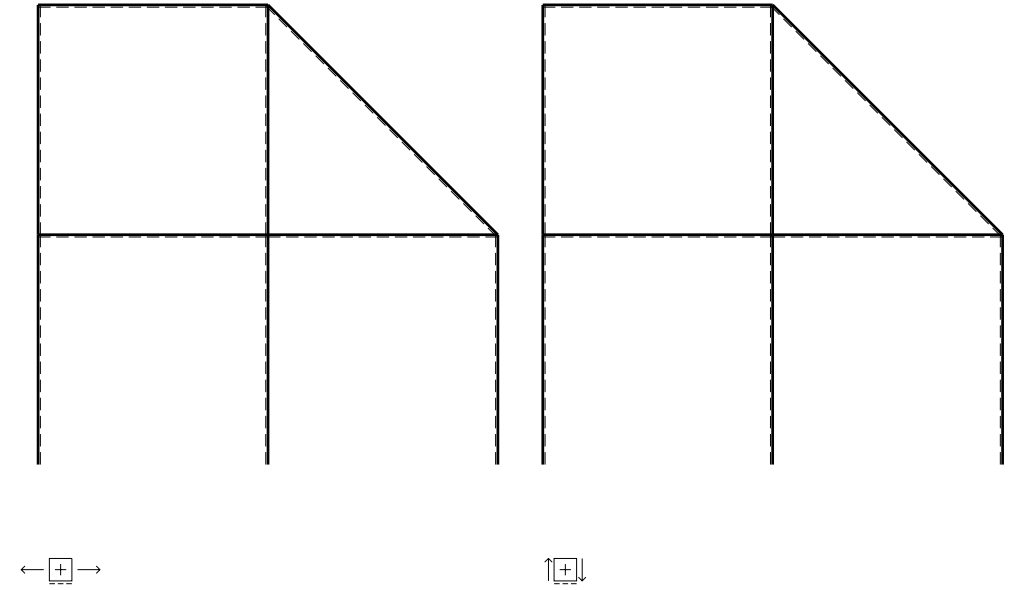
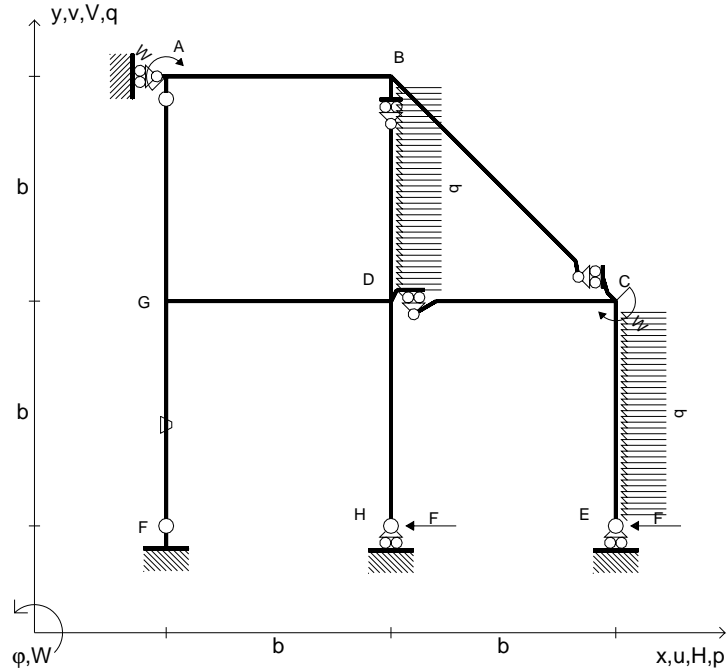
- Sul fronte:
- 1) Declassamento con indicazione dell'iperstatica scelta
 - 2) Diagrammi finali delle azioni interne
 - 3) Sforzi richiesti (nota: profilo COMPATTO)
- Sul retro:
- 4) Analisi cinematica
 - 5) Diagrammi del momento M_0 e M^*
 - 6) Espressione del PLV
 - 7) Valore numerico dell'iperstatica

Carichi e deformazioni date hanno verso efficace in disegno.
 Calcolare reazioni vincolari della struttura e delle aste.
 Tracciare i diagrammi quotati delle azioni interne nelle aste.
 $J_{YZ} - x_{YZ} - \theta_{YZ}$ riferimento locale asta YZ con origine in Y.
 La trave DC ha la sezione riportata e dimensioni in mm, con:
 $b = 900$ mm, $F = 870$ N

Calcolare sulla sezione C la massima tensione normale σ_m .
 Calcolare in * le tensioni σ_c, τ_c e la tensione di von Mises.
 Lembo inferiore sezione su tratteggio trave, a destra da D a C
 Curvatura θ asta FG positiva se convessa a destra con inizio F.
 @ Adolfo Zavelani Rossi, Politecnico di Milano, vers.27.03.13



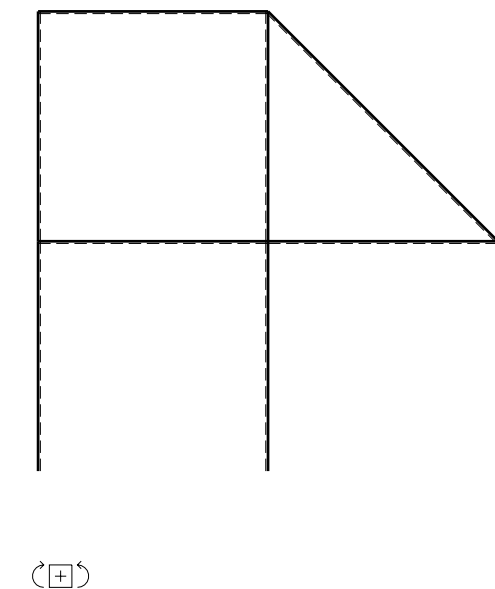
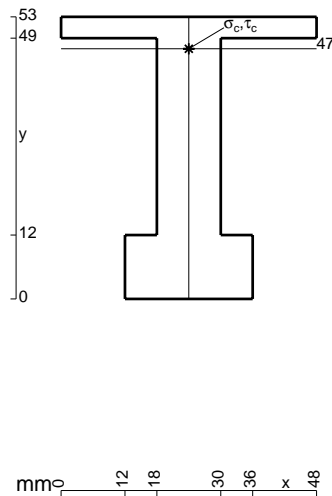
- $H_E = -F$
- $H_H = -F$
- $W_C = -W = -Fb$
- $W_A = -W = -Fb$
- $p_{CE} = -q = -F/b$
- $p_{BD} = -q = -F/b$
- $\theta_{FG} = -\theta = -\alpha T/b = -bF/EJ$
- $EJ_{AB} = EJ$
- $EJ_{BC} = EJ$
- $EJ_{BD} = EJ$
- $EJ_{DC} = EJ$
- $EJ_{CE} = EJ$
- $EJ_{FG} = EJ$
- $EJ_{GD} = EJ$
- $EJ_{DH} = EJ$
- $EJ_{GA} = EJ$



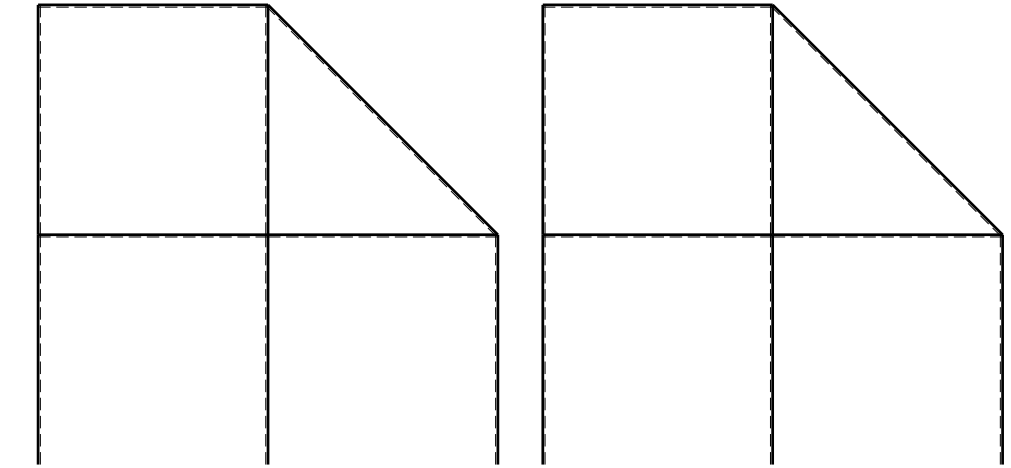
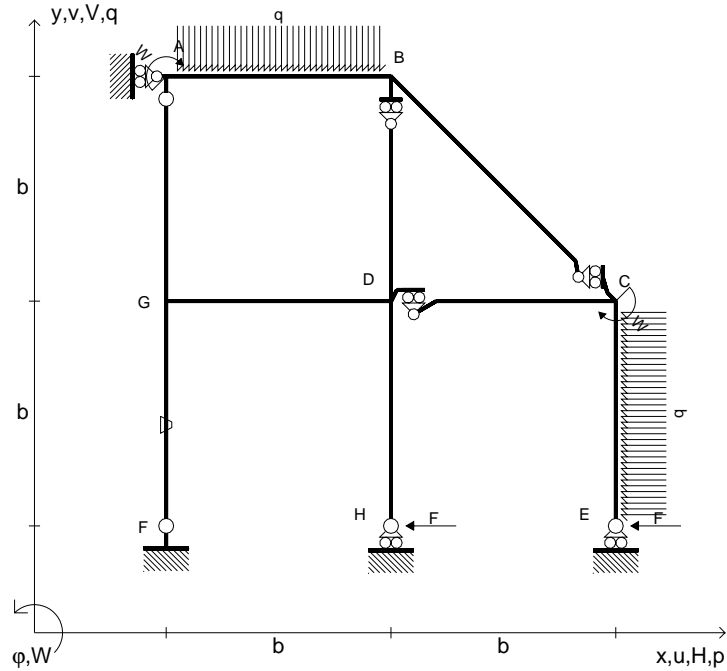
ANALISI STRUTTURALE CON PLV
 RIPORTARE SUL FILE "ESAME" SOLO LE SEGUENTI RICHIESTE

- Sul fronte:
- 1) Declassamento con indicazione dell'iperstatica scelta
 - 2) Diagrammi finali delle azioni interne
 - 3) Sforzi richiesti
(nota: profilo COMPATTO)
- Sul retro:
- 4) Analisi cinematica
 - 5) Diagrammi del momento M_0 e M^*
 - 6) Espressione del PLV
 - 7) Valore numerico dell'iperstatica

Carichi e deformazioni date hanno verso efficace in disegno.
 Calcolare reazioni vincolari della struttura e delle aste.
 Tracciare i diagrammi quotati delle azioni interne nelle aste.
 $J_{YZ} - x_{YZ} - \theta_{YZ}$ riferimento locale asta YZ con origine in Y.
 La trave DC ha la sezione riportata e dimensioni in mm, con:
 $b = 950 \text{ mm}$, $F = 1100 \text{ N}$
 Calcolare sulla sezione C la massima tensione normale σ_m .
 Calcolare in * le tensioni σ_c, τ_c e la tensione di von Mises.
 Lembo inferiore sezione su tratteggio trave, a destra da D a C
 Curvatura θ asta FG positiva se convessa a destra con inizio F.
 @ Adolfo Zavelani Rossi, Politecnico di Milano, vers.27.03.13



- $H_E = -F$
- $H_H = -F$
- $W_C = -W = -Fb$
- $W_A = -W = -Fb$
- $p_{CE} = -q = -F/b$
- $q_{AB} = -q = -F/b$
- $\theta_{FG} = -\theta = -\alpha T/b = -bF/EJ$
- $EJ_{AB} = EJ$
- $EJ_{BC} = EJ$
- $EJ_{BD} = EJ$
- $EJ_{DC} = EJ$
- $EJ_{CE} = EJ$
- $EJ_{FG} = EJ$
- $EJ_{GD} = EJ$
- $EJ_{DH} = EJ$
- $EJ_{GA} = EJ$



← ⊕ →

↑ ⊕ ↓

ANALISI STRUTTURALE CON PLV

RIPORTARE SUL FILE "ESAME" SOLO LE SEGUENTI RICHIESTE

Sul fronte:

- 1) Declassamento con indicazione dell'iperstatica scelta
- 2) Diagrammi finali delle azioni interne
- 3) Sforzi richiesti
(nota: profilo COMPATTO)

Sul retro:

- 4) Analisi cinematica
- 5) Diagrammi del momento M_0 e M^*
- 6) Espressione del PLV
- 7) Valore numerico dell'iperstatica

Carichi e deformazioni date hanno verso efficace in disegno.

Calcolare reazioni vincolari della struttura e delle aste.

Tracciare i diagrammi quotati delle azioni interne nelle aste.

$J_{YZ} - x_{YZ} - \theta_{YZ}$ riferimento locale asta YZ con origine in Y.

La trave AB ha la sezione riportata e dimensioni in mm, con:

$b = 500 \text{ mm}$, $F = 2300 \text{ N}$

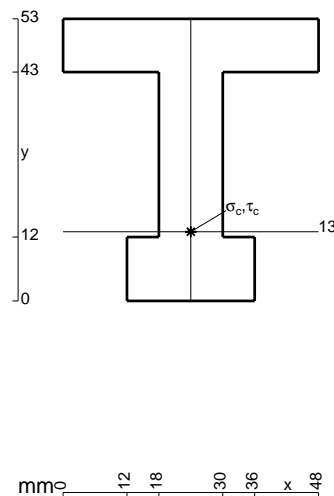
Calcolare sulla sezione B la massima tensione normale σ_m .

Calcolare in * le tensioni σ_c, τ_c e la tensione di von Mises.

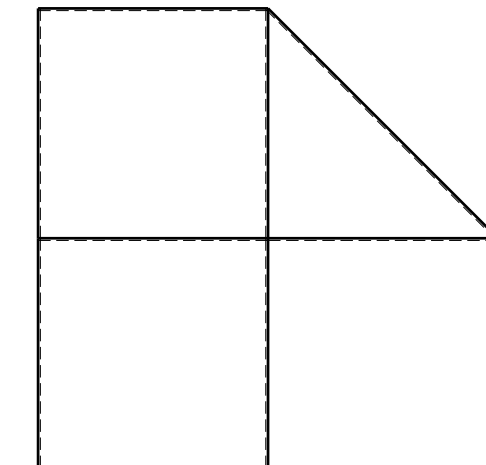
Leombo inferiore sezione su tratteggio trave, a destra da A a B

Curvatura θ asta FG positiva se convessa a destra con inizio F.

@ Adolfo Zavelani Rossi, Politecnico di Milano, vers.27.03.13



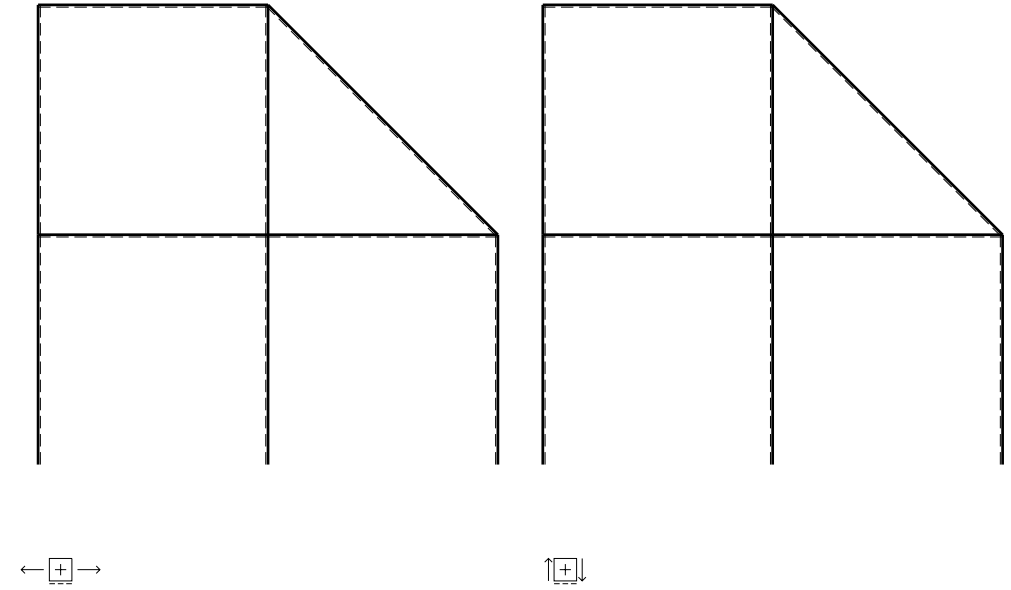
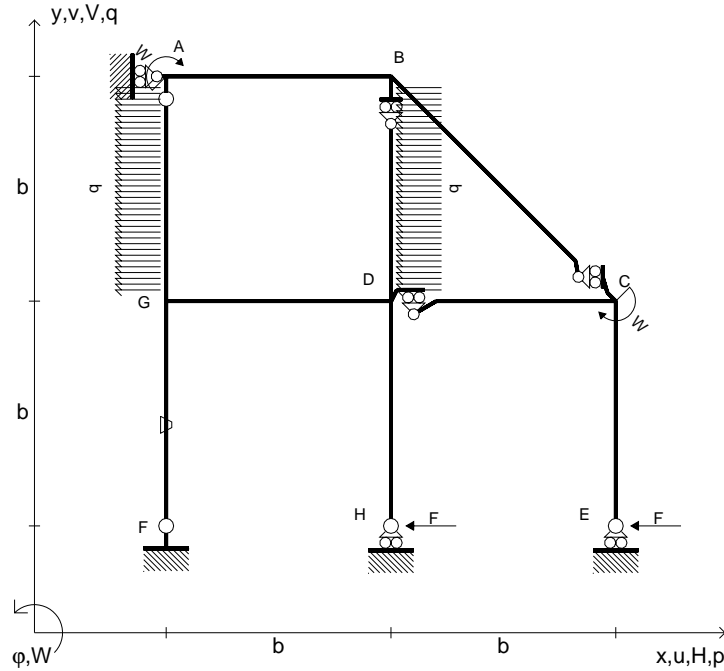
mm 12 18 30 36 x 48



← ⊕ →

@ Adolfo Zavelani Rossi, Politecnico di Milano, vers.27.03.13

- $H_E = -F$
- $H_H = -F$
- $W_C = -W = -Fb$
- $W_A = -W = -Fb$
- $p_{BD} = -q = -F/b$
- $p_{GA} = -q = -F/b$
- $\theta_{FG} = -\theta = -\alpha T/b = -bF/EJ$
- $EJ_{AB} = EJ$
- $EJ_{BC} = EJ$
- $EJ_{BD} = EJ$
- $EJ_{DC} = EJ$
- $EJ_{CE} = EJ$
- $EJ_{FG} = EJ$
- $EJ_{GD} = EJ$
- $EJ_{DH} = EJ$
- $EJ_{GA} = EJ$



ANALISI STRUTTURALE CON PLV

RIPORTARE SUL FILE "ESAME" SOLO LE SEGUENTI RICHIESTE

Sul fronte:

- 1) Declassamento con indicazione dell'iperstatica scelta
- 2) Diagrammi finali delle azioni interne
- 3) Sforzi richiesti
(nota: profilo COMPATTO)

Sul retro:

- 4) Analisi cinematica
- 5) Diagrammi del momento M_0 e M^*
- 6) Espressione del PLV
- 7) Valore numerico dell'iperstatica

Carichi e deformazioni date hanno verso efficace in disegno.

Calcolare reazioni vincolari della struttura e delle aste.

Tracciare i diagrammi quotati delle azioni interne nelle aste.

$J_{YZ} - x_{YZ} - \theta_{YZ}$ riferimento locale asta YZ con origine in Y.

La trave DC ha la sezione riportata e dimensioni in mm, con:

$b = 550 \text{ mm}$, $F = 2150 \text{ N}$

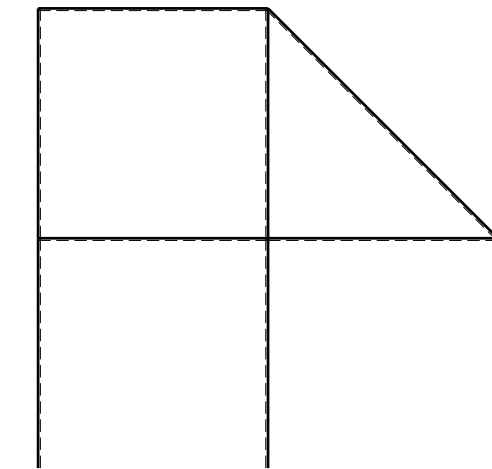
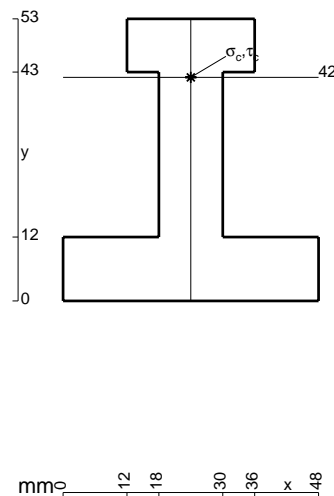
Calcolare sulla sezione C la massima tensione normale σ_m .

Calcolare in * le tensioni σ_c, τ_c e la tensione di von Mises.

Le mbo inferiore sezione su tratteggio trave, a destra da D a C

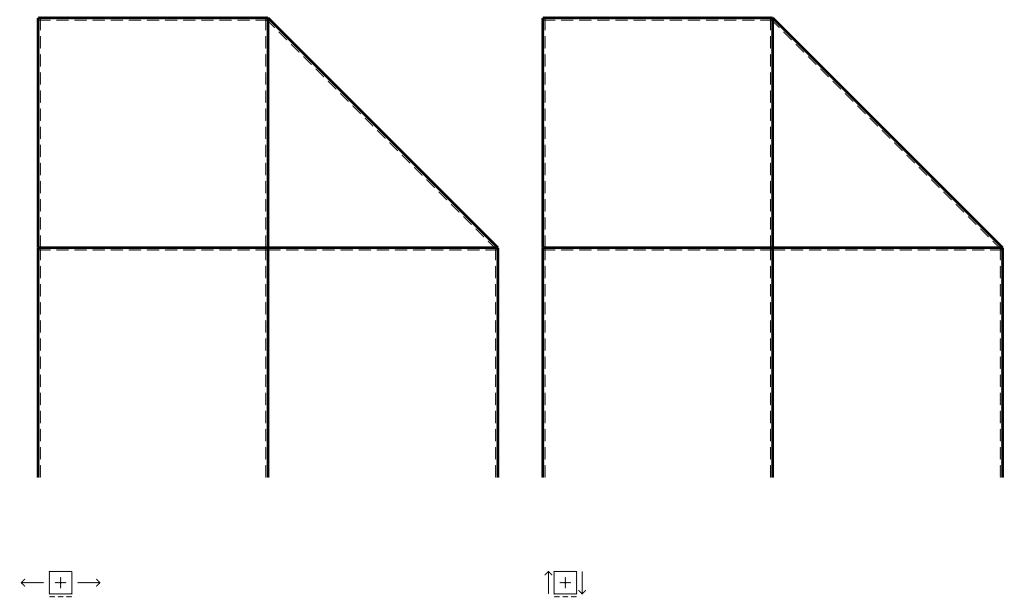
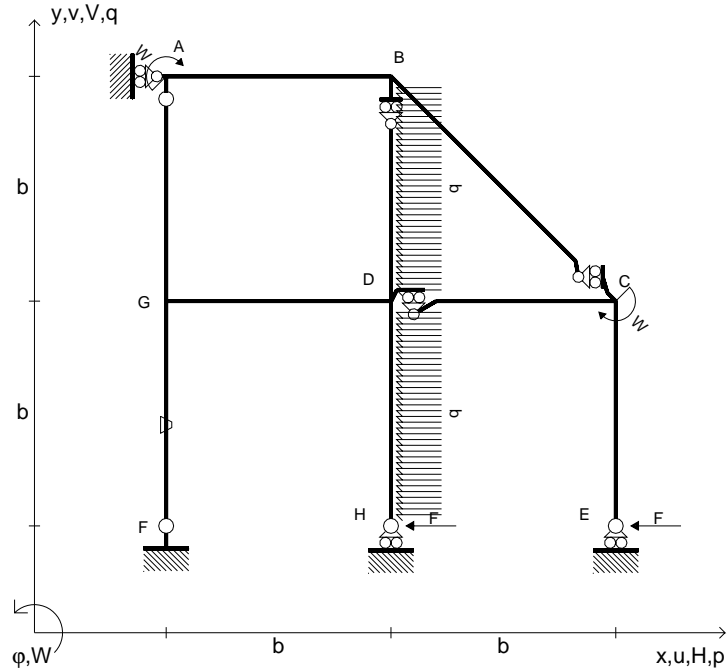
Curvatura θ asta FG positiva se convessa a destra con inizio F.

@ Adolfo Zavelani Rossi, Politecnico di Milano, vers.27.03.13



@ Adolfo Zavelani Rossi, Politecnico di Milano, vers.27.03.13

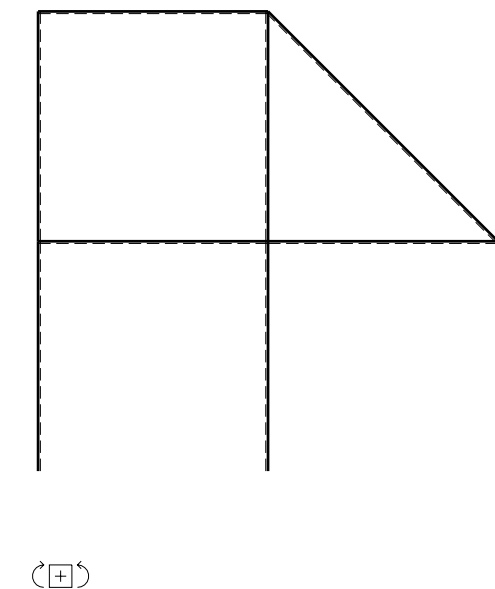
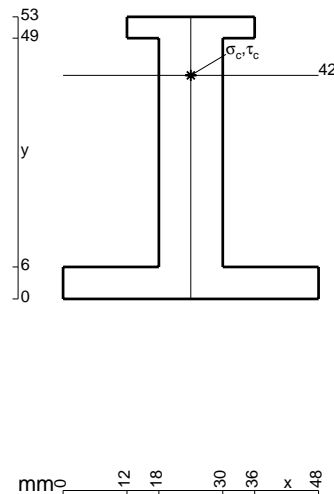
- $H_E = -F$
- $H_H = -F$
- $W_C = -W = -Fb$
- $W_A = -W = -Fb$
- $p_{BD} = -q = -F/b$
- $p_{DH} = -q = -F/b$
- $\theta_{FG} = -\theta = -\alpha T/b = -bF/EJ$
- $EJ_{AB} = EJ$
- $EJ_{BC} = EJ$
- $EJ_{BD} = EJ$
- $EJ_{DC} = EJ$
- $EJ_{CE} = EJ$
- $EJ_{FG} = EJ$
- $EJ_{GD} = EJ$
- $EJ_{DH} = EJ$
- $EJ_{GA} = EJ$



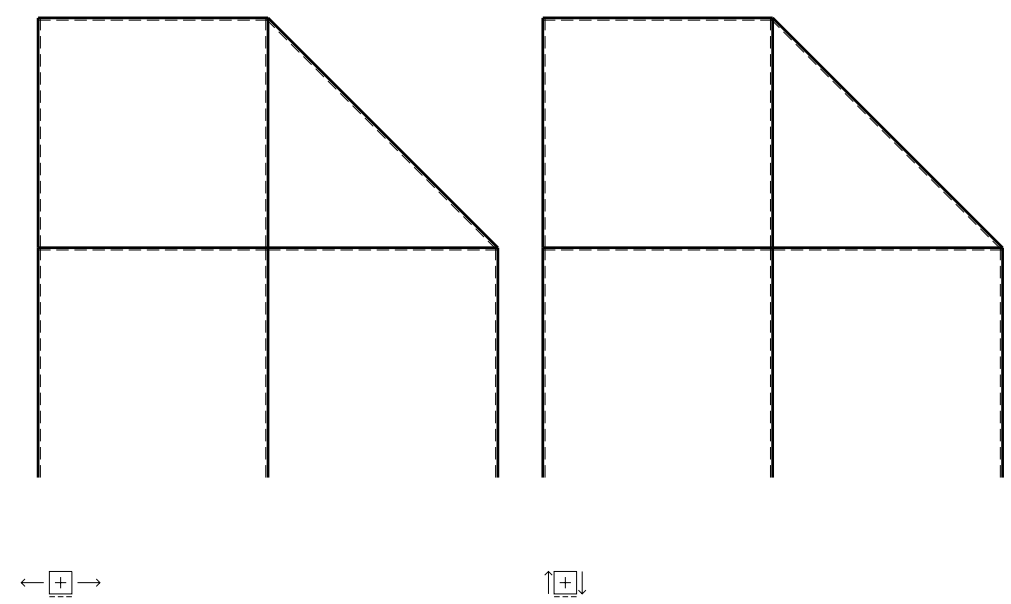
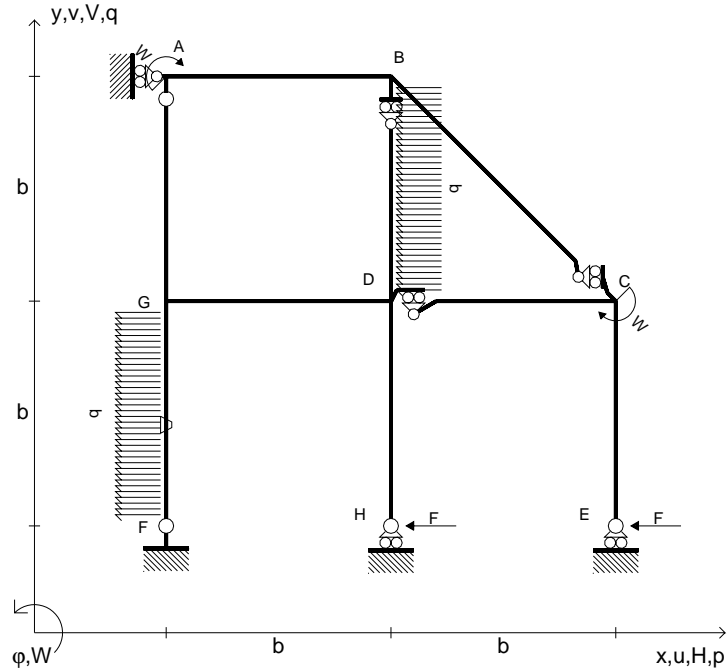
ANALISI STRUTTURALE CON PLV
 RIPORTARE SUL FILE "ESAME" SOLO LE SEGUENTI RICHIESTE

- Sul fronte:
- 1) Declassamento con indicazione dell'iperstatica scelta
 - 2) Diagrammi finali delle azioni interne
 - 3) Sforzi richiesti
 (nota: profilo COMPATTO)
- Sul retro:
- 4) Analisi cinematica
 - 5) Diagrammi del momento M_0 e M^*
 - 6) Espressione del PLV
 - 7) Valore numerico dell'iperstatica

Carichi e deformazioni date hanno verso efficace in disegno.
 Calcolare reazioni vincolari della struttura e delle aste.
 Tracciare i diagrammi quotati delle azioni interne nelle aste.
 $J_{YZ} - x_{YZ} - \theta_{YZ}$ riferimento locale asta YZ con origine in Y.
 La trave DC ha la sezione riportata e dimensioni in mm, con:
 $b = 650 \text{ mm}$, $F = 1610 \text{ N}$
 Calcolare sulla sezione C la massima tensione normale σ_m .
 Calcolare in * le tensioni σ_c, τ_c e la tensione di von Mises.
 Lembo inferiore sezione su tratteggio trave, a destra da D a C
 Curvatura θ asta FG positiva se convessa a destra con inizio F.
 © Adolfo Zavelani Rossi, Politecnico di Milano, vers.27.03.13



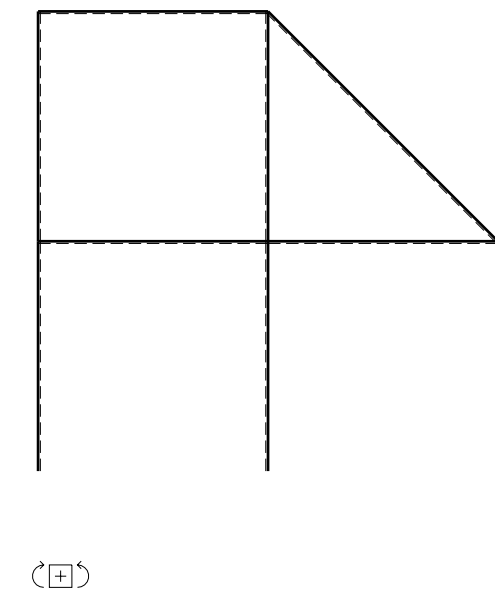
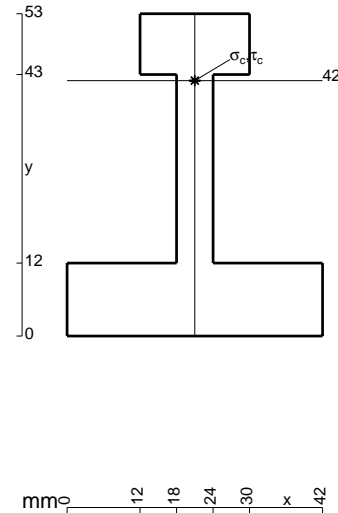
- $H_E = -F$
- $H_H = -F$
- $W_C = -W = -Fb$
- $W_A = -W = -Fb$
- $p_{BD} = -q = -F/b$
- $p_{FG} = -q = -F/b$
- $\theta_{FG} = -\theta = -\alpha T/b = -bF/EJ$
- $EJ_{AB} = EJ$
- $EJ_{BC} = EJ$
- $EJ_{BD} = EJ$
- $EJ_{DC} = EJ$
- $EJ_{CE} = EJ$
- $EJ_{FG} = EJ$
- $EJ_{GD} = EJ$
- $EJ_{DH} = EJ$
- $EJ_{GA} = EJ$



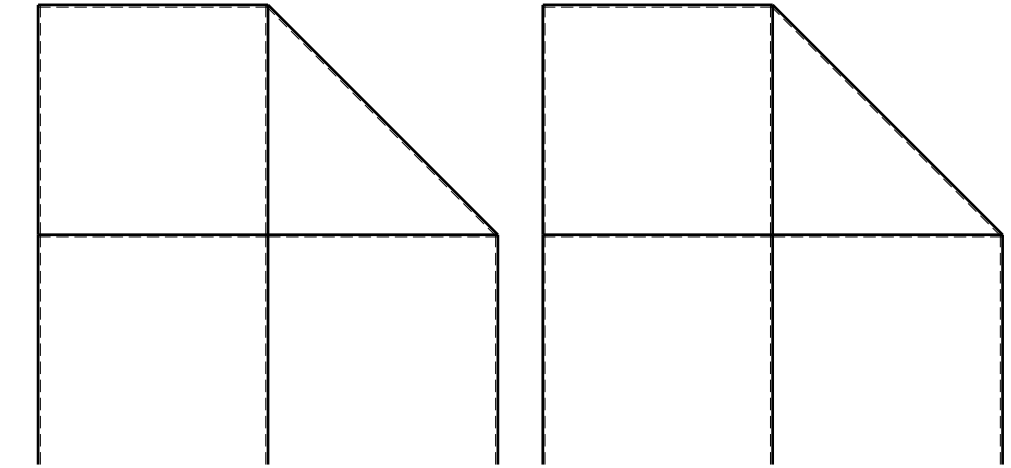
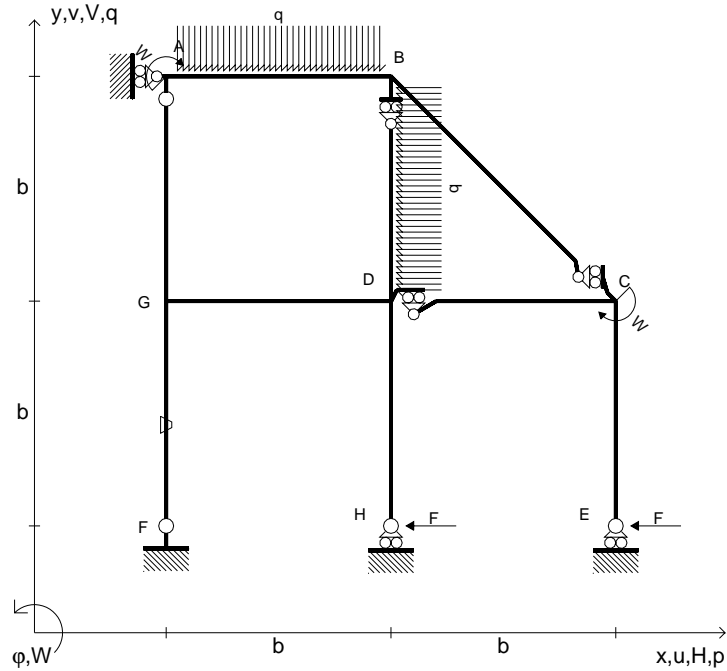
ANALISI STRUTTURALE CON PLV
 RIPORTARE SUL FILE "ESAME" SOLO LE SEGUENTI RICHIESTE

- Sul fronte:
- 1) Declassamento con indicazione dell'iperstatica scelta
 - 2) Diagrammi finali delle azioni interne
 - 3) Sforzi richiesti (nota: profilo COMPATTO)
- Sul retro:
- 4) Analisi cinematica
 - 5) Diagrammi del momento M_0 e M^*
 - 6) Espressione del PLV
 - 7) Valore numerico dell'iperstatica

Carichi e deformazioni date hanno verso efficace in disegno.
 Calcolare reazioni vincolari della struttura e delle aste.
 Tracciare i diagrammi quotati delle azioni interne nelle aste.
 $J_{YZ} - x_{YZ} - \theta_{YZ}$ riferimento locale asta YZ con origine in Y.
 La trave DC ha la sezione riportata e dimensioni in mm, con:
 $b = 700$ mm, $F = 1380$ N
 Calcolare sulla sezione C la massima tensione normale σ_m .
 Calcolare in * le tensioni σ_c, τ_c e la tensione di von Mises.
 Lembo inferiore sezione su tratteggio trave, a destra da D a C
 Curvatura θ asta FG positiva se convessa a destra con inizio F.
 © Adolfo Zavelani Rossi, Politecnico di Milano, vers.27.03.13



- $H_E = -F$
- $H_H = -F$
- $W_C = -W = -Fb$
- $W_A = -W = -Fb$
- $p_{BD} = -q = -F/b$
- $q_{AB} = -q = -F/b$
- $\theta_{FG} = -\theta = -\alpha T/b = -bF/EJ$
- $EJ_{AB} = EJ$
- $EJ_{BC} = EJ$
- $EJ_{BD} = EJ$
- $EJ_{DC} = EJ$
- $EJ_{CE} = EJ$
- $EJ_{FG} = EJ$
- $EJ_{GD} = EJ$
- $EJ_{DH} = EJ$
- $EJ_{GA} = EJ$



← ⊕ →

↑ ⊕ ↓

ANALISI STRUTTURALE CON PLV
 RIPORTARE SUL FILE "ESAME" SOLO LE SEGUENTI RICHIESTE

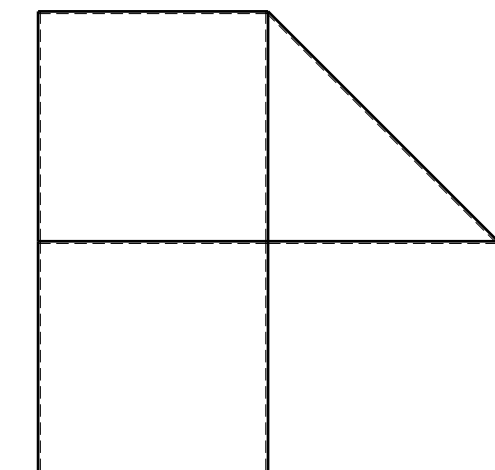

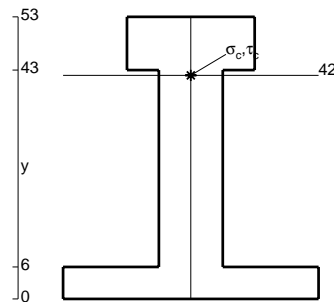
- Sul fronte:
- 1) Declassamento con indicazione dell'iperstatica scelta
 - 2) Diagrammi finali delle azioni interne
 - 3) Sforzi richiesti
 (nota: profilo COMPATTO)

- Sul retro:
- 4) Analisi cinematica
 - 5) Diagrammi del momento M_0 e M^*
 - 6) Espressione del PLV
 - 7) Valore numerico dell'iperstatica

Carichi e deformazioni date hanno verso efficace in disegno.
 Calcolare reazioni vincolari della struttura e delle aste.
 Tracciare i diagrammi quotati delle azioni interne nelle aste.

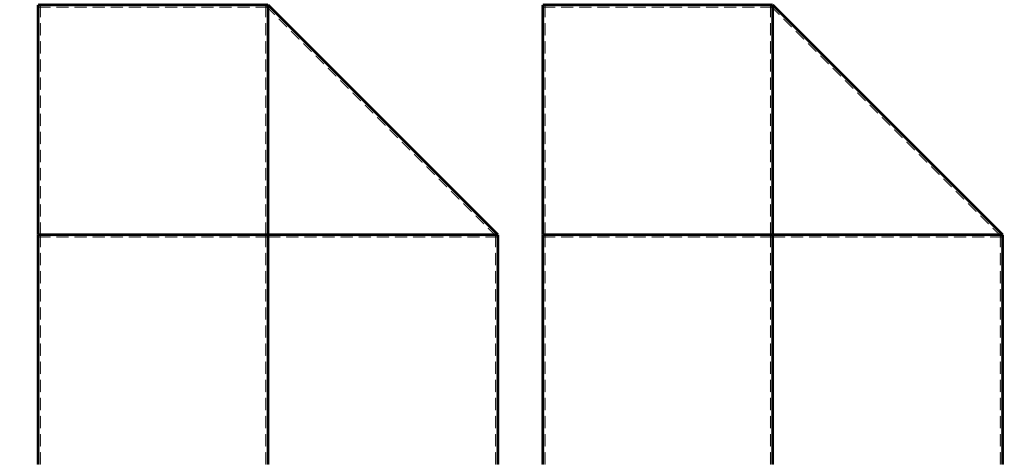
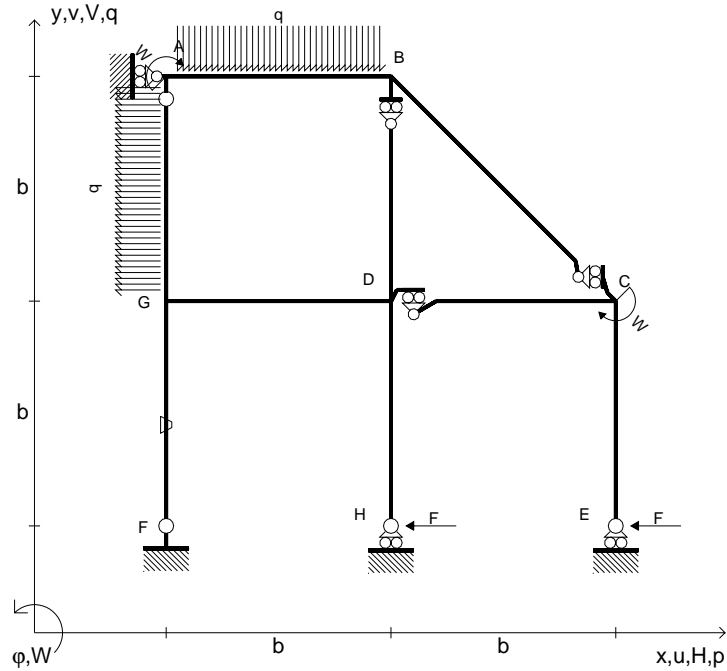
$J_{YZ} - x_{YZ} - \theta_{YZ}$ riferimento locale asta YZ con origine in Y.
 La trave DC ha la sezione riportata e dimensioni in mm, con:
 $b = 800$ mm, $F = 1430$ N

Calcolare sulla sezione C la massima tensione normale σ_m .
 Calcolare in * le tensioni σ_c, τ_c e la tensione di von Mises.
 Lembo inferiore sezione su tratteggio trave, a destra da D a C
 Curvatura θ asta FG positiva se convessa a destra con inizio F.
 © Adolfo Zavelani Rossi, Politecnico di Milano, vers.27.03.13



⊕ ↻

- $H_E = -F$
- $H_H = -F$
- $W_C = -W = -Fb$
- $W_A = -W = -Fb$
- $q_{AB} = -q = -F/b$
- $p_{GA} = -q = -F/b$
- $\theta_{FG} = -\theta = -\alpha T/b = -bF/EJ$
- $EJ_{AB} = EJ$
- $EJ_{BC} = EJ$
- $EJ_{BD} = EJ$
- $EJ_{DC} = EJ$
- $EJ_{CE} = EJ$
- $EJ_{FG} = EJ$
- $EJ_{GD} = EJ$
- $EJ_{DH} = EJ$
- $EJ_{GA} = EJ$



← ⊕ →

↑ ⊕ ↓

ANALISI STRUTTURALE CON PLV
 RIPORTARE SUL FILE "ESAME" SOLO LE SEGUENTI RICHIESTE

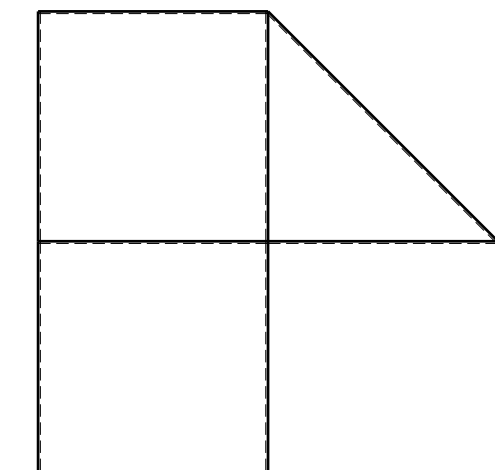
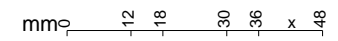
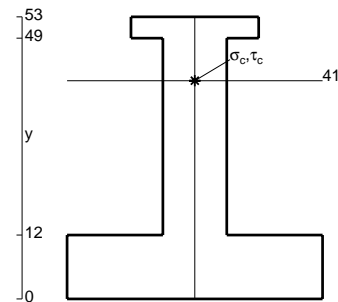
- Sul fronte:
- 1) Declassamento con indicazione dell'iperstatica scelta
 - 2) Diagrammi finali delle azioni interne
 - 3) Sforzi richiesti
 (nota: profilo COMPATTO)

- Sul retro:
- 4) Analisi cinematica
 - 5) Diagrammi del momento M_0 e M^*
 - 6) Espressione del PLV
 - 7) Valore numerico dell'iperstatica

Carichi e deformazioni date hanno verso efficace in disegno.
 Calcolare reazioni vincolari della struttura e delle aste.
 Tracciare i diagrammi quotati delle azioni interne nelle aste.

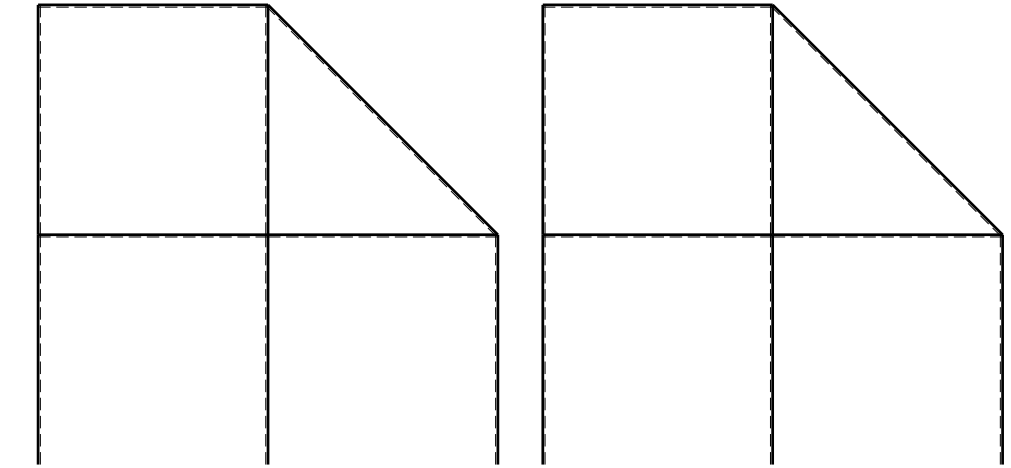
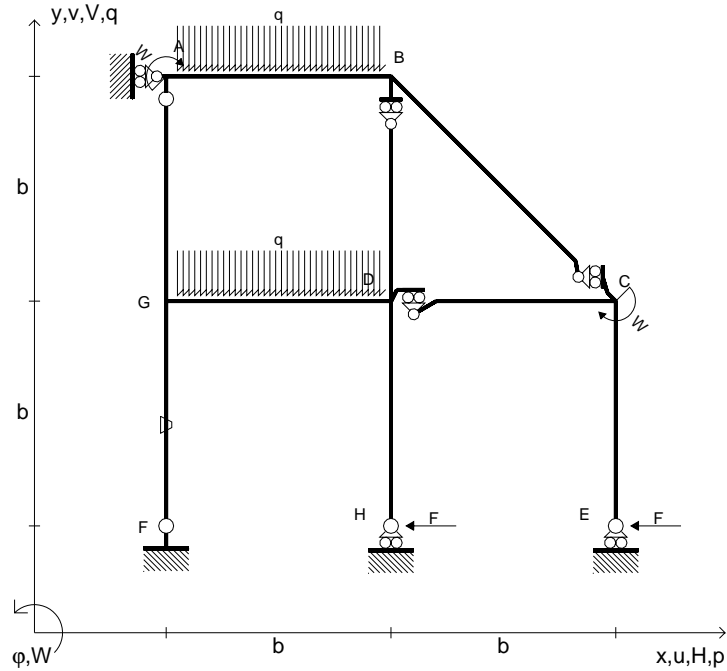
$J_{YZ} - x_{YZ} - \theta_{YZ}$ riferimento locale asta YZ con origine in Y.
 La trave DC ha la sezione riportata e dimensioni in mm, con:
 $b = 850$ mm, $F = 1200$ N

Calcolare sulla sezione C la massima tensione normale σ_m .
 Calcolare in * le tensioni σ_c, τ_c e la tensione di von Mises.
 Lembo inferiore sezione su tratteggio trave, a destra da D a C
 Curvatura θ asta FG positiva se convessa a destra con inizio F.
 © Adolfo Zavelani Rossi, Politecnico di Milano, vers.27.03.13



← ⊕ →

- $H_E = -F$
- $H_H = -F$
- $W_C = -W = -Fb$
- $W_A = -W = -Fb$
- $q_{AB} = -q = -F/b$
- $q_{GD} = -q = -F/b$
- $\theta_{FG} = -\theta = -\alpha T/b = -bF/EJ$
- $EJ_{AB} = EJ$
- $EJ_{BC} = EJ$
- $EJ_{BD} = EJ$
- $EJ_{DC} = EJ$
- $EJ_{CE} = EJ$
- $EJ_{FG} = EJ$
- $EJ_{GD} = EJ$
- $EJ_{DH} = EJ$
- $EJ_{GA} = EJ$



← ⊕ →

↑ ⊕ ↓

ANALISI STRUTTURALE CON PLV

RIPORTARE SUL FILE "ESAME" SOLO LE SEGUENTI RICHIESTE

Sul fronte:

- 1) Declassamento con indicazione dell'iperstatica scelta
- 2) Diagrammi finali delle azioni interne
- 3) Sforzi richiesti
(nota: profilo COMPATTO)

Sul retro:

- 4) Analisi cinematica
- 5) Diagrammi del momento M_0 e M^*
- 6) Espressione del PLV
- 7) Valore numerico dell'iperstatica

Carichi e deformazioni date hanno verso efficace in disegno.

Calcolare reazioni vincolari della struttura e delle aste.

Tracciare i diagrammi quotati delle azioni interne nelle aste.

$J_{YZ} - x_{YZ} - \theta_{YZ}$ riferimento locale asta YZ con origine in Y.

La trave DC ha la sezione riportata e dimensioni in mm, con:

$b = 900 \text{ mm}$, $F = 750 \text{ N}$

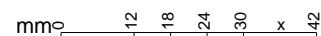
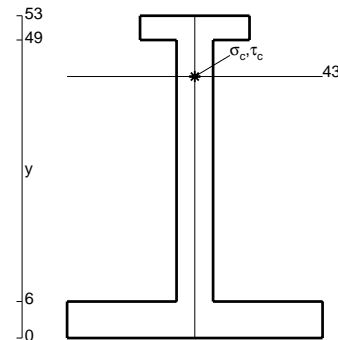
Calcolare sulla sezione C la massima tensione normale σ_m .

Calcolare in * le tensioni σ_c, τ_c e la tensione di von Mises.

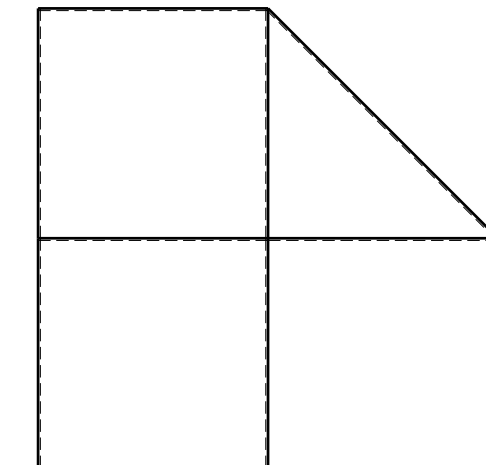
Leombo inferiore sezione su tratteggio trave, a destra da D a C

Curvatura θ asta FG positiva se convessa a destra con inizio F.

@ Adolfo Zavelani Rossi, Politecnico di Milano, vers.27.03.13



22.03.24

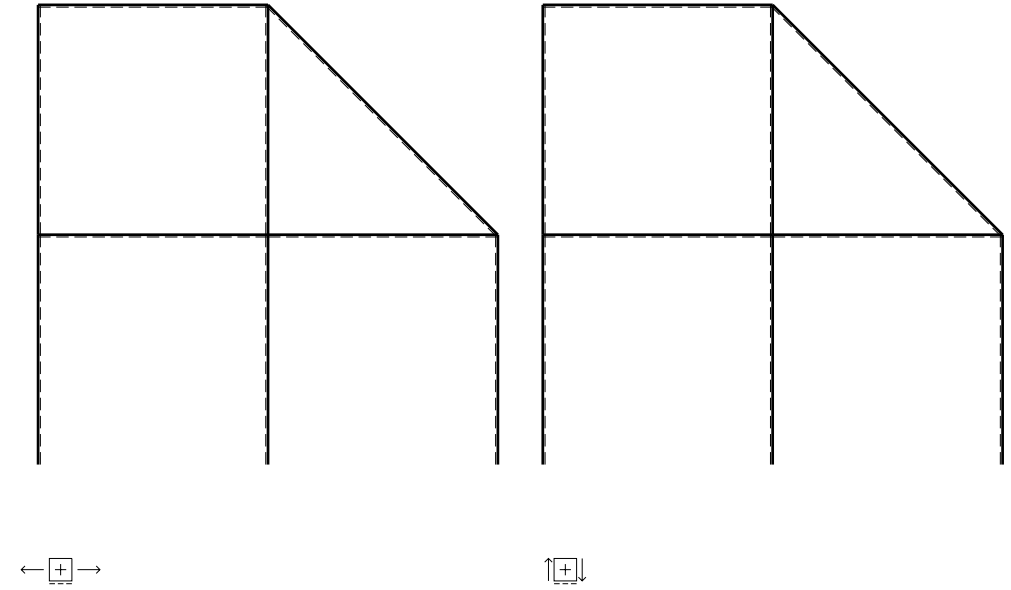
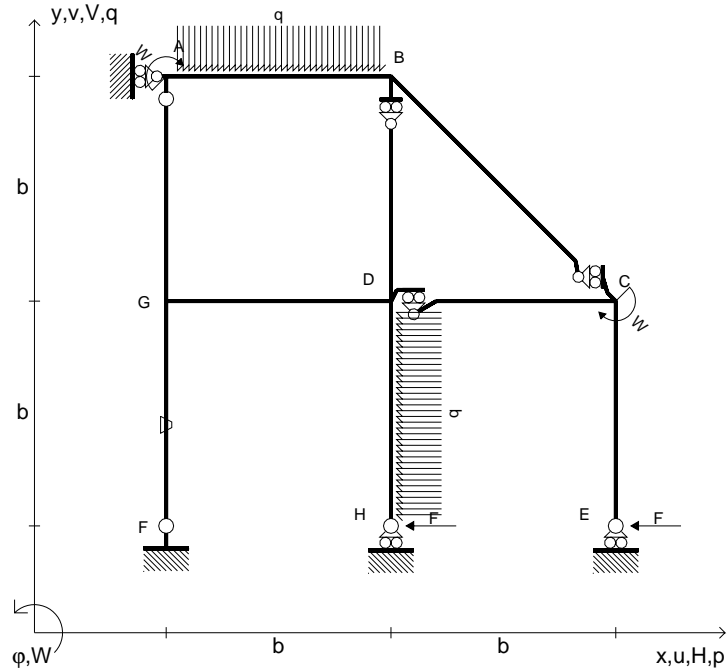


← ⊕ →

@ Adolfo Zavelani Rossi, Politecnico di Milano, vers.27.03.13

22.03.24

- $H_E = -F$
- $H_H = -F$
- $W_C = -W = -Fb$
- $W_A = -W = -Fb$
- $q_{AB} = -q = -F/b$
- $p_{DH} = -q = -F/b$
- $\theta_{FG} = -\theta = -\alpha T/b = -bF/EJ$
- $EJ_{AB} = EJ$
- $EJ_{BC} = EJ$
- $EJ_{BD} = EJ$
- $EJ_{DC} = EJ$
- $EJ_{CE} = EJ$
- $EJ_{FG} = EJ$
- $EJ_{GD} = EJ$
- $EJ_{DH} = EJ$
- $EJ_{GA} = EJ$



ANALISI STRUTTURALE CON PLV

RIPORTARE SUL FILE "ESAME" SOLO LE SEGUENTI RICHIESTE

Sul fronte:

- 1) Declassamento con indicazione dell'iperstatica scelta
- 2) Diagrammi finali delle azioni interne
- 3) Sforzi richiesti
(nota: profilo COMPATTO)

Sul retro:

- 4) Analisi cinematica
- 5) Diagrammi del momento M_0 e M^*
- 6) Espressione del PLV
- 7) Valore numerico dell'iperstatica

Carichi e deformazioni date hanno verso efficace in disegno.

Calcolare reazioni vincolari della struttura e delle aste.

Tracciare i diagrammi quotati delle azioni interne nelle aste.

$J_{YZ} - x_{YZ} - \theta_{YZ}$ riferimento locale asta YZ con origine in Y.

La trave DC ha la sezione riportata e dimensioni in mm, con:

$b = 980 \text{ mm}$, $F = 870 \text{ N}$

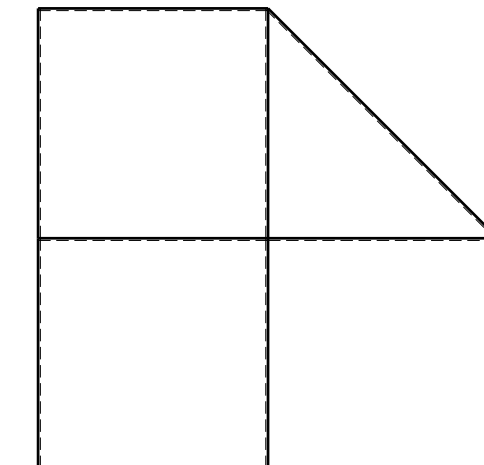
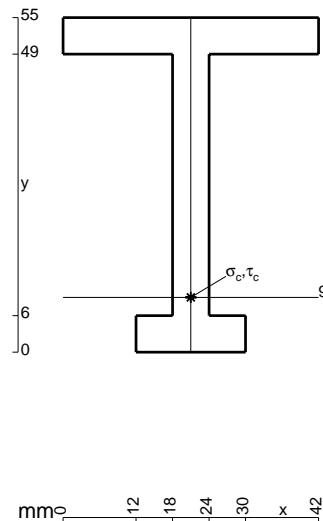
Calcolare sulla sezione C la massima tensione normale σ_m .

Calcolare in * le tensioni σ_c, τ_c e la tensione di von Mises.

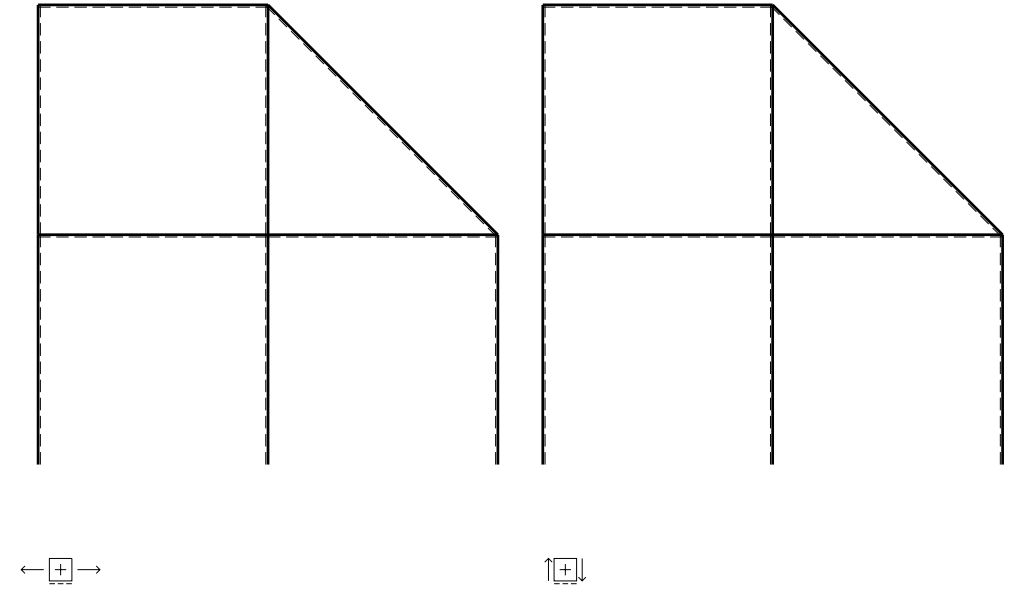
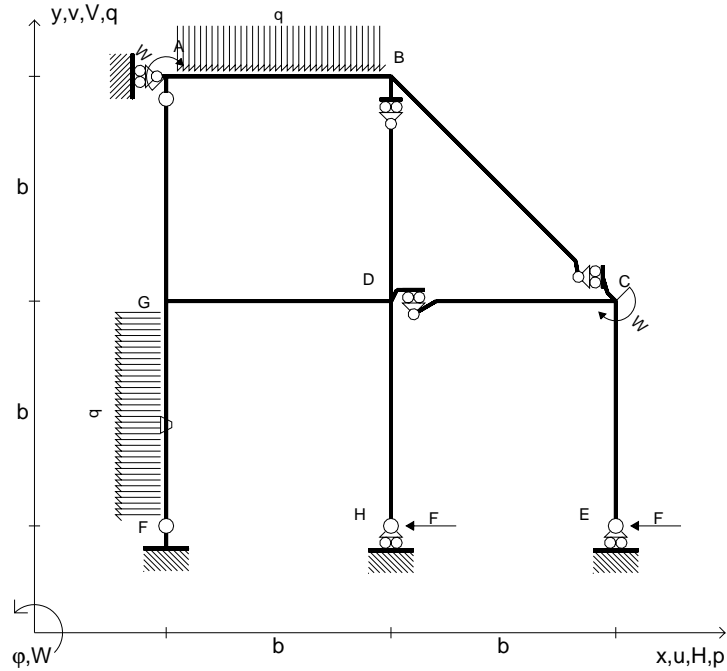
Leombo inferiore sezione su tratteggio trave, a destra da D a C

Curvatura θ asta FG positiva se convessa a destra con inizio F.

@ Adolfo Zavelani Rossi, Politecnico di Milano, vers.27.03.13



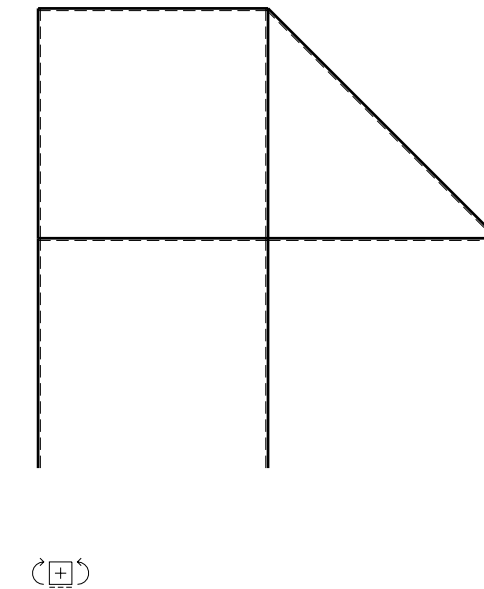
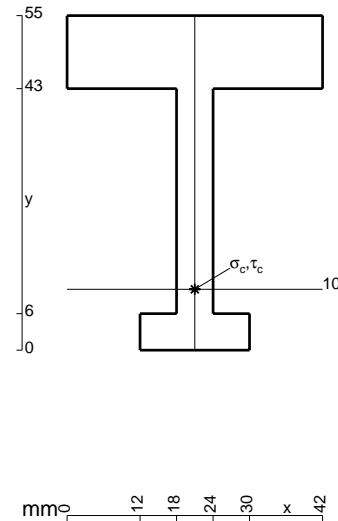
- $H_E = -F$
- $H_H = -F$
- $W_C = -W = -Fb$
- $W_A = -W = -Fb$
- $q_{AB} = -q = -F/b$
- $p_{FG} = -q = -F/b$
- $\theta_{FG} = -\theta = -\alpha T/b = -bF/EJ$
- $EJ_{AB} = EJ$
- $EJ_{BC} = EJ$
- $EJ_{BD} = EJ$
- $EJ_{DC} = EJ$
- $EJ_{CE} = EJ$
- $EJ_{FG} = EJ$
- $EJ_{GD} = EJ$
- $EJ_{DH} = EJ$
- $EJ_{GA} = EJ$



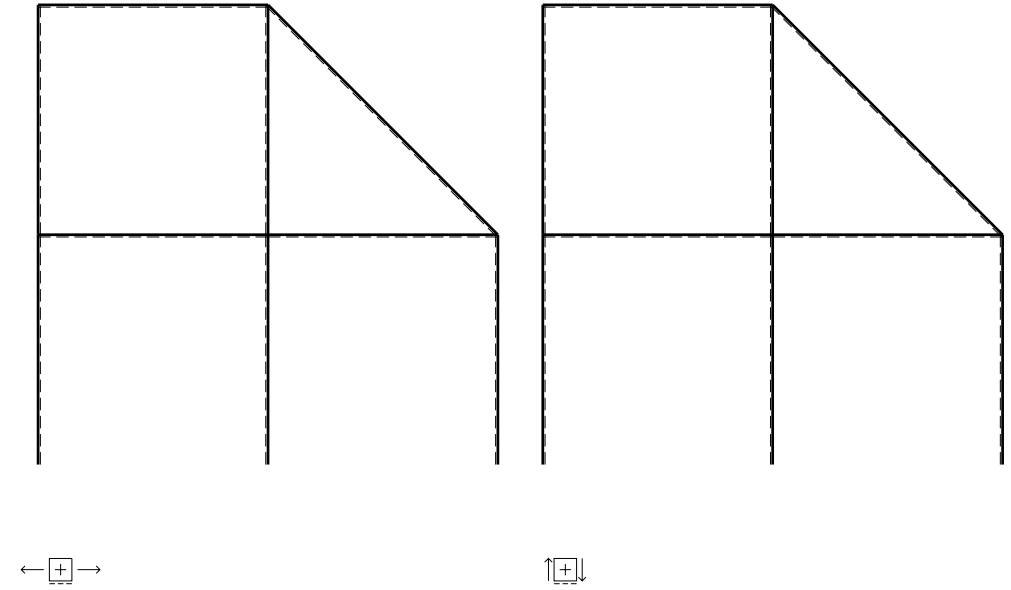
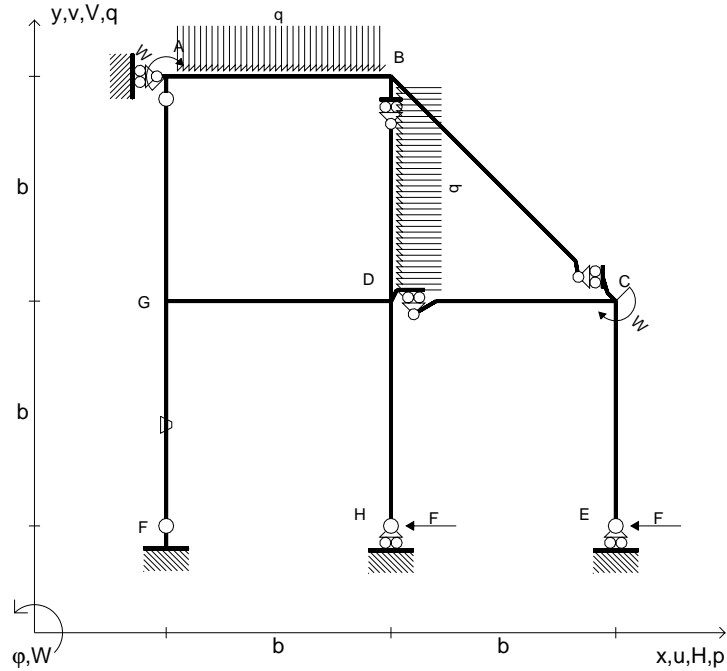
ANALISI STRUTTURALE CON PLV
 RIPORTARE SUL FILE "ESAME" SOLO LE SEGUENTI RICHIESTE

- Sul fronte:
- 1) Declassamento con indicazione dell'iperstatica scelta
 - 2) Diagrammi finali delle azioni interne
 - 3) Sforzi richiesti (nota: profilo COMPATTO)
- Sul retro:
- 4) Analisi cinematica
 - 5) Diagrammi del momento M_0 e M^*
 - 6) Espressione del PLV
 - 7) Valore numerico dell'iperstatica

Carichi e deformazioni date hanno verso efficace in disegno.
 Calcolare reazioni vincolari della struttura e delle aste.
 Tracciare i diagrammi quotati delle azioni interne nelle aste.
 $J_{YZ} - x_{YZ} - \theta_{YZ}$ riferimento locale asta YZ con origine in Y.
 La trave DC ha la sezione riportata e dimensioni in mm, con:
 $b = 520$ mm, $F = 1380$ N
 Calcolare sulla sezione C la massima tensione normale σ_m .
 Calcolare in * le tensioni σ_c, τ_c e la tensione di von Mises.
 Lembo inferiore sezione su tratteggio trave, a destra da D a C
 Curvatura θ asta FG positiva se convessa a destra con inizio F.
 © Adolfo Zavelani Rossi, Politecnico di Milano, vers.27.03.13



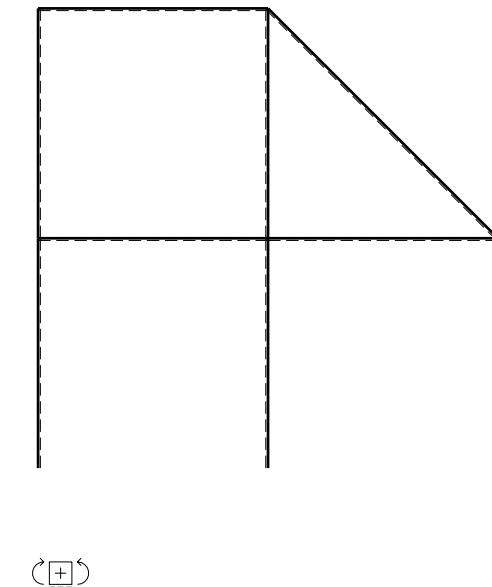
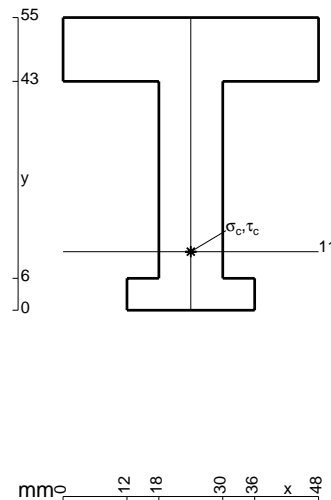
- $H_E = -F$
- $H_H = -F$
- $W_C = -W = -Fb$
- $W_A = -W = -Fb$
- $q_{AB} = -q = -F/b$
- $p_{BD} = -q = -F/b$
- $\theta_{FG} = -\theta = -\alpha T/b = -bF/EJ$
- $EJ_{AB} = EJ$
- $EJ_{BC} = EJ$
- $EJ_{BD} = EJ$
- $EJ_{DC} = EJ$
- $EJ_{CE} = EJ$
- $EJ_{FG} = EJ$
- $EJ_{GD} = EJ$
- $EJ_{DH} = EJ$
- $EJ_{GA} = EJ$



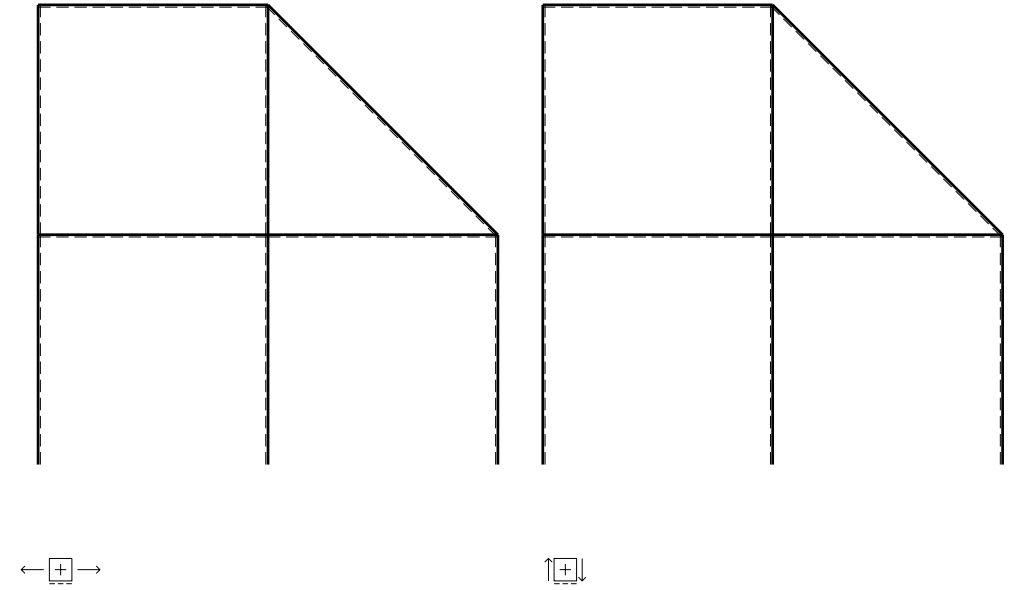
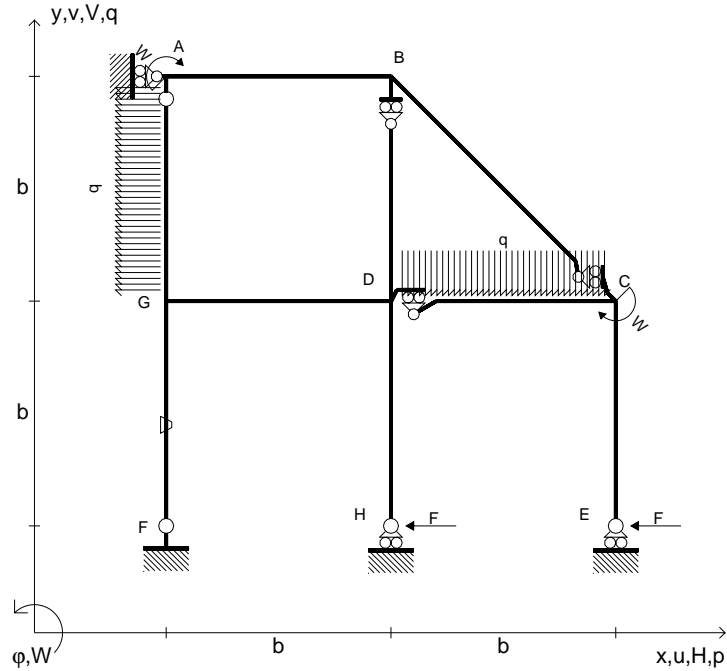
ANALISI STRUTTURALE CON PLV
 RIPORTARE SUL FILE "ESAME" SOLO LE SEGUENTI RICHIESTE

- Sul fronte:
- 1) Declassamento con indicazione dell'iperstatica scelta
 - 2) Diagrammi finali delle azioni interne
 - 3) Sforzi richiesti (nota: profilo COMPATTO)
- Sul retro:
- 4) Analisi cinematica
 - 5) Diagrammi del momento M_0 e M^*
 - 6) Espressione del PLV
 - 7) Valore numerico dell'iperstatica

Carichi e deformazioni date hanno verso efficace in disegno.
 Calcolare reazioni vincolari della struttura e delle aste.
 Tracciare i diagrammi quotati delle azioni interne nelle aste.
 $J_{YZ} - x_{YZ} - \theta_{YZ}$ riferimento locale asta YZ con origine in Y.
 La trave DC ha la sezione riportata e dimensioni in mm, con:
 $b = 620 \text{ mm}$, $F = 1910 \text{ N}$
 Calcolare sulla sezione C la massima tensione normale σ_m .
 Calcolare in * le tensioni σ_c, τ_c e la tensione di von Mises.
 Lembo inferiore sezione su tratteggio trave, a destra da D a C
 Curvatura θ asta FG positiva se convessa a destra con inizio F.
 @ Adolfo Zavelani Rossi, Politecnico di Milano, vers.27.03.13



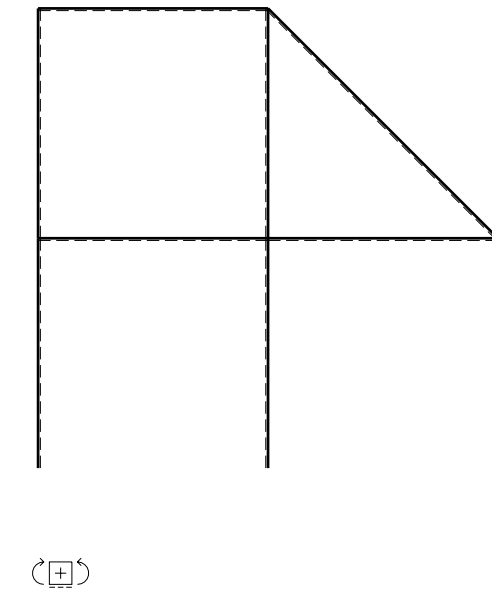
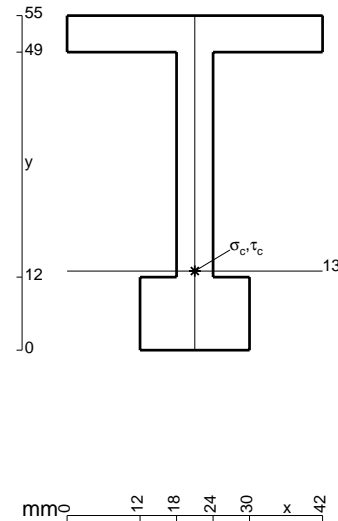
- $H_E = -F$
- $H_H = -F$
- $W_C = -W = -Fb$
- $W_A = -W = -Fb$
- $q_{DC} = -q = -F/b$
- $p_{GA} = -q = -F/b$
- $\theta_{FG} = -\theta = -\alpha T/b = -bF/EJ$
- $EJ_{AB} = EJ$
- $EJ_{BC} = EJ$
- $EJ_{BD} = EJ$
- $EJ_{DC} = EJ$
- $EJ_{CE} = EJ$
- $EJ_{FG} = EJ$
- $EJ_{GD} = EJ$
- $EJ_{DH} = EJ$
- $EJ_{GA} = EJ$



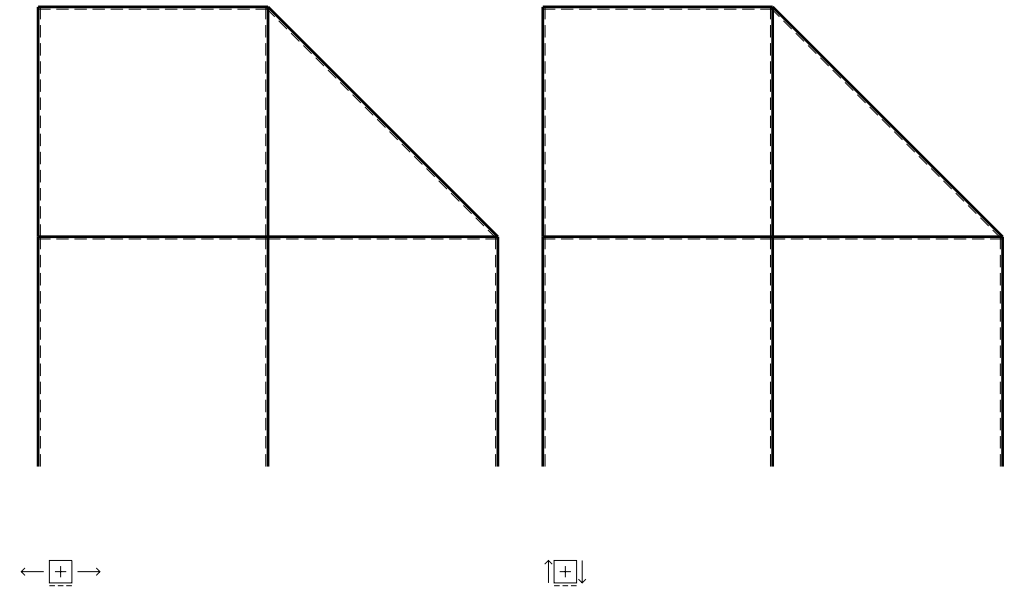
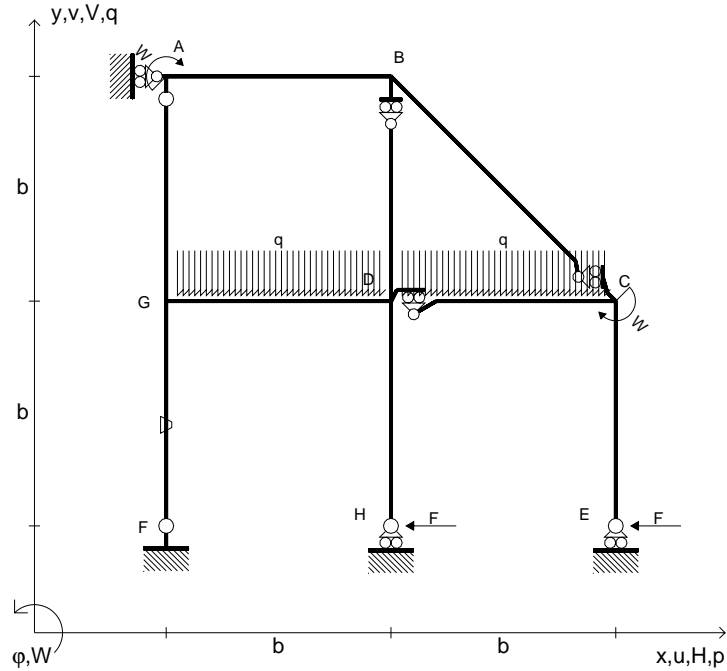
ANALISI STRUTTURALE CON PLV
 RIPORTARE SUL FILE "ESAME" SOLO LE SEGUENTI RICHIESTE

- Sul fronte:
- 1) Declassamento con indicazione dell'iperstatica scelta
 - 2) Diagrammi finali delle azioni interne
 - 3) Sforzi richiesti (nota: profilo COMPATTO)
- Sul retro:
- 4) Analisi cinematica
 - 5) Diagrammi del momento M_0 e M^*
 - 6) Espressione del PLV
 - 7) Valore numerico dell'iperstatica

Carichi e deformazioni date hanno verso efficace in disegno.
 Calcolare reazioni vincolari della struttura e delle aste.
 Tracciare i diagrammi quotati delle azioni interne nelle aste.
 $J_{YZ} - x_{YZ} - \theta_{YZ}$ riferimento locale asta YZ con origine in Y.
 La trave DC ha la sezione riportata e dimensioni in mm, con:
 $b = 670 \text{ mm}$, $F = 1530 \text{ N}$
 Calcolare sulla sezione C la massima tensione normale σ_m .
 Calcolare in * le tensioni σ_c, τ_c e la tensione di von Mises.
 Lembo inferiore sezione su tratteggio trave, a destra da D a C
 Curvatura θ asta FG positiva se convessa a destra con inizio F.
 © Adolfo Zavelani Rossi, Politecnico di Milano, vers.27.03.13



- $H_E = -F$
- $H_H = -F$
- $W_C = -W = -Fb$
- $W_A = -W = -Fb$
- $q_{DC} = -q = -F/b$
- $q_{GD} = -q = -F/b$
- $\theta_{FG} = -\theta = -\alpha T/b = -bF/EJ$
- $EJ_{AB} = EJ$
- $EJ_{BC} = EJ$
- $EJ_{BD} = EJ$
- $EJ_{DC} = EJ$
- $EJ_{CE} = EJ$
- $EJ_{FG} = EJ$
- $EJ_{GD} = EJ$
- $EJ_{DH} = EJ$
- $EJ_{GA} = EJ$



ANALISI STRUTTURALE CON PLV

RIPORTARE SUL FILE "ESAME" SOLO LE SEGUENTI RICHIESTE

Sul fronte:

- 1) Declassamento con indicazione dell'iperstatica scelta
- 2) Diagrammi finali delle azioni interne
- 3) Sforzi richiesti
(nota: profilo COMPATTO)

Sul retro:

- 4) Analisi cinematica
- 5) Diagrammi del momento M_0 e M^*
- 6) Espressione del PLV
- 7) Valore numerico dell'iperstatica

Carichi e deformazioni date hanno verso efficace in disegno.

Calcolare reazioni vincolari della struttura e delle aste.

Tracciare i diagrammi quotati delle azioni interne nelle aste.

$J_{YZ} - x_{YZ} - \theta_{YZ}$ riferimento locale asta YZ con origine in Y.

La trave DC ha la sezione riportata e dimensioni in mm, con:

$b = 720 \text{ mm}$, $F = 1520 \text{ N}$

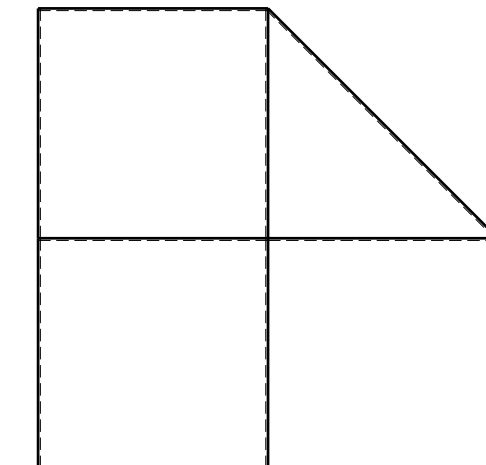
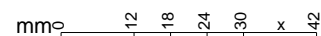
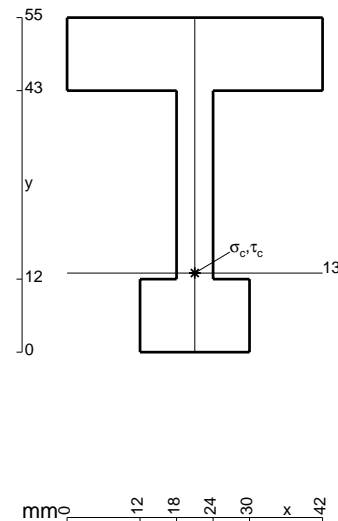
Calcolare sulla sezione C la massima tensione normale σ_m .

Calcolare in * le tensioni σ_c, τ_c e la tensione di von Mises.

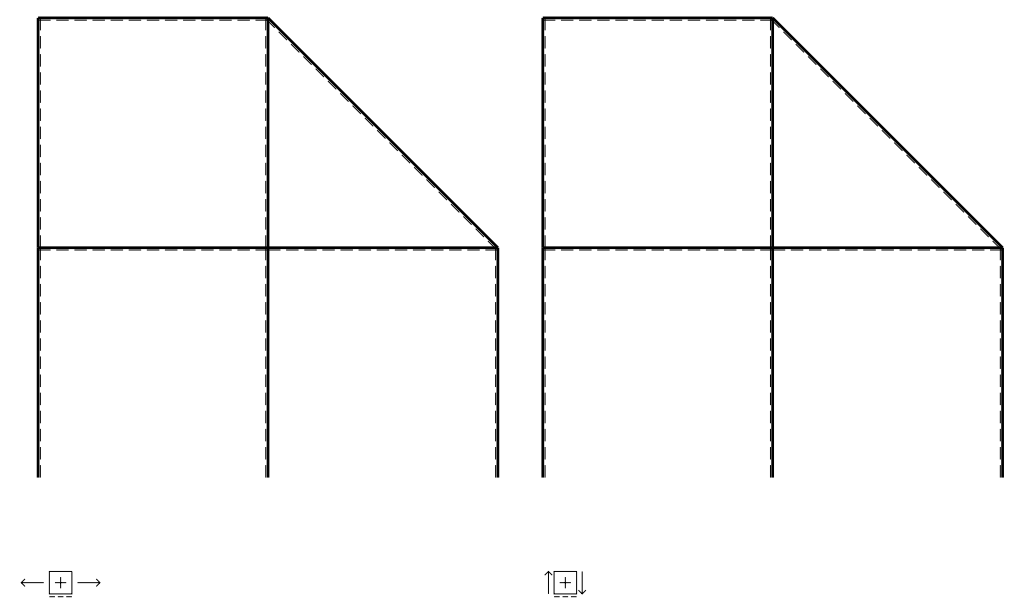
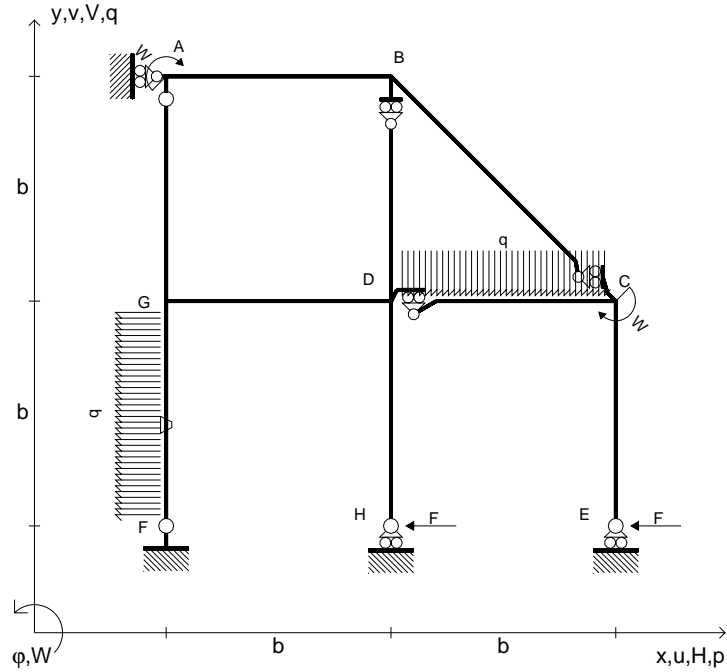
Leombo inferiore sezione su tratteggio trave, a destra da D a C

Curvatura θ asta FG positiva se convessa a destra con inizio F.

@ Adolfo Zavelani Rossi, Politecnico di Milano, vers.27.03.13



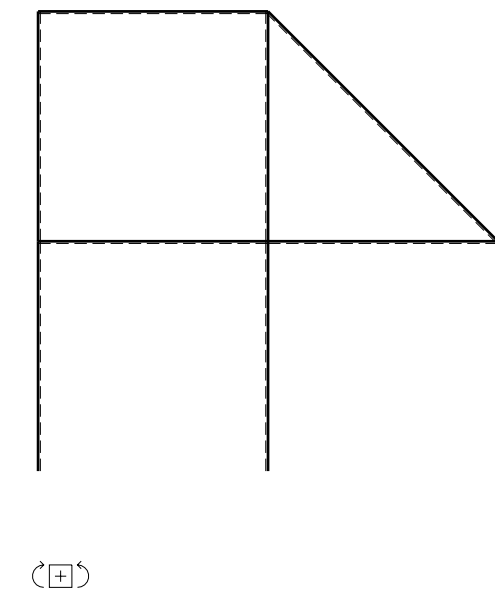
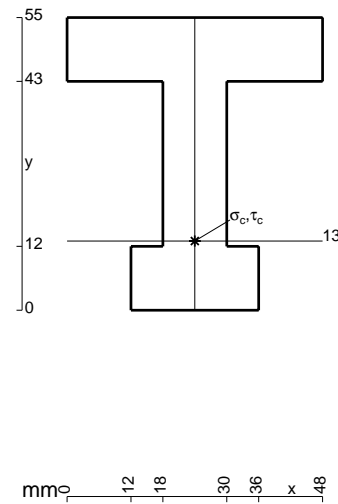
- $H_E = -F$
- $H_H = -F$
- $W_C = -W = -Fb$
- $W_A = -W = -Fb$
- $q_{DC} = -q = -F/b$
- $p_{FG} = -q = -F/b$
- $\theta_{FG} = -\theta = -\alpha T/b = -bF/EJ$
- $EJ_{AB} = EJ$
- $EJ_{BC} = EJ$
- $EJ_{BD} = EJ$
- $EJ_{DC} = EJ$
- $EJ_{CE} = EJ$
- $EJ_{FG} = EJ$
- $EJ_{GD} = EJ$
- $EJ_{DH} = EJ$
- $EJ_{GA} = EJ$



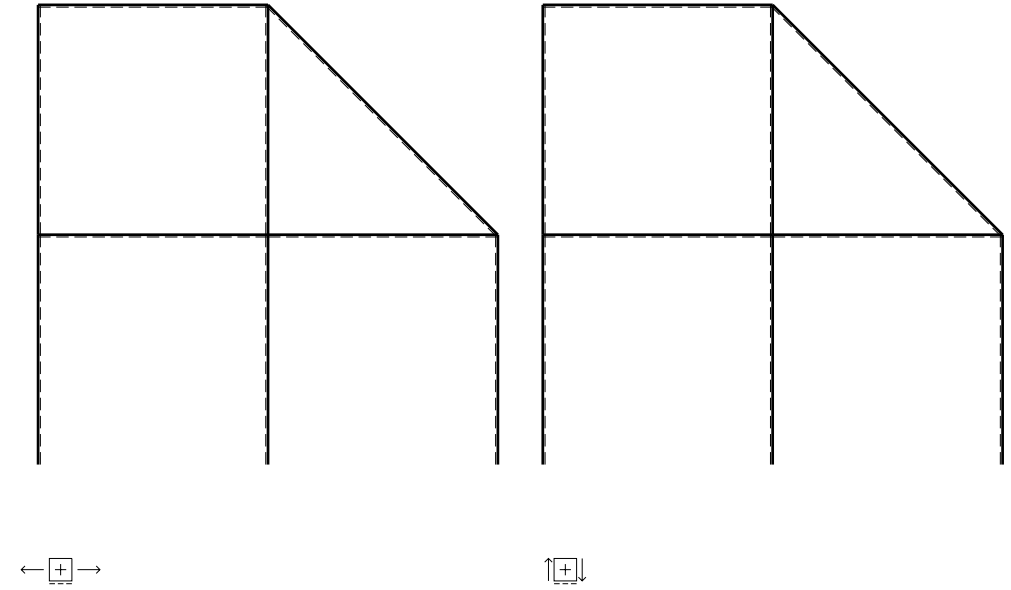
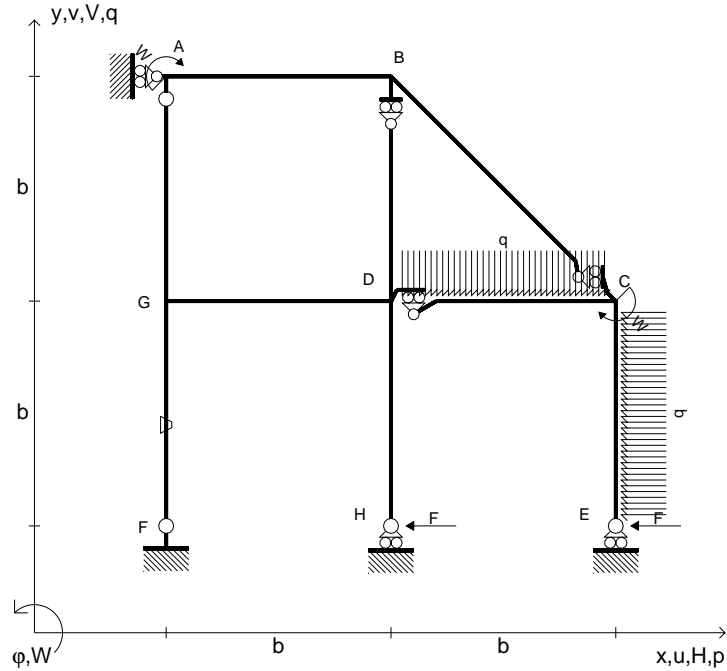
ANALISI STRUTTURALE CON PLV
 RIPORTARE SUL FILE "ESAME" SOLO LE SEGUENTI RICHIESTE

- Sul fronte:
- 1) Declassamento con indicazione dell'iperstatica scelta
 - 2) Diagrammi finali delle azioni interne
 - 3) Sforzi richiesti (nota: profilo COMPATTO)
- Sul retro:
- 4) Analisi cinematica
 - 5) Diagrammi del momento M_0 e M^*
 - 6) Espressione del PLV
 - 7) Valore numerico dell'iperstatica

Carichi e deformazioni date hanno verso efficace in disegno.
 Calcolare reazioni vincolari della struttura e delle aste.
 Tracciare i diagrammi quotati delle azioni interne nelle aste.
 $J_{YZ} - x_{YZ} - \theta_{YZ}$ riferimento locale asta YZ con origine in Y.
 La trave DC ha la sezione riportata e dimensioni in mm, con:
 $b = 830 \text{ mm}$, $F = 1580 \text{ N}$
 Calcolare sulla sezione C la massima tensione normale σ_m .
 Calcolare in * le tensioni σ_c, τ_c e la tensione di von Mises.
 Lembo inferiore sezione su tratteggio trave, a destra da D a C
 Curvatura θ asta FG positiva se convessa a destra con inizio F.
 @ Adolfo Zavelani Rossi, Politecnico di Milano, vers.27.03.13



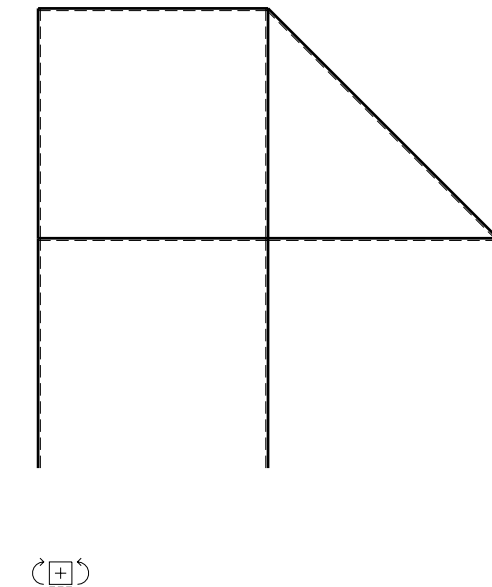
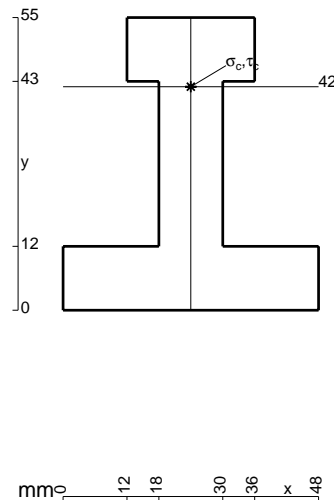
- $H_E = -F$
- $H_H = -F$
- $W_C = -W = -Fb$
- $W_A = -W = -Fb$
- $q_{DC} = -q = -F/b$
- $p_{CE} = -q = -F/b$
- $\theta_{FG} = -\theta = -\alpha T/b = -bF/EJ$
- $EJ_{AB} = EJ$
- $EJ_{BC} = EJ$
- $EJ_{BD} = EJ$
- $EJ_{DC} = EJ$
- $EJ_{CE} = EJ$
- $EJ_{FG} = EJ$
- $EJ_{GD} = EJ$
- $EJ_{DH} = EJ$
- $EJ_{GA} = EJ$



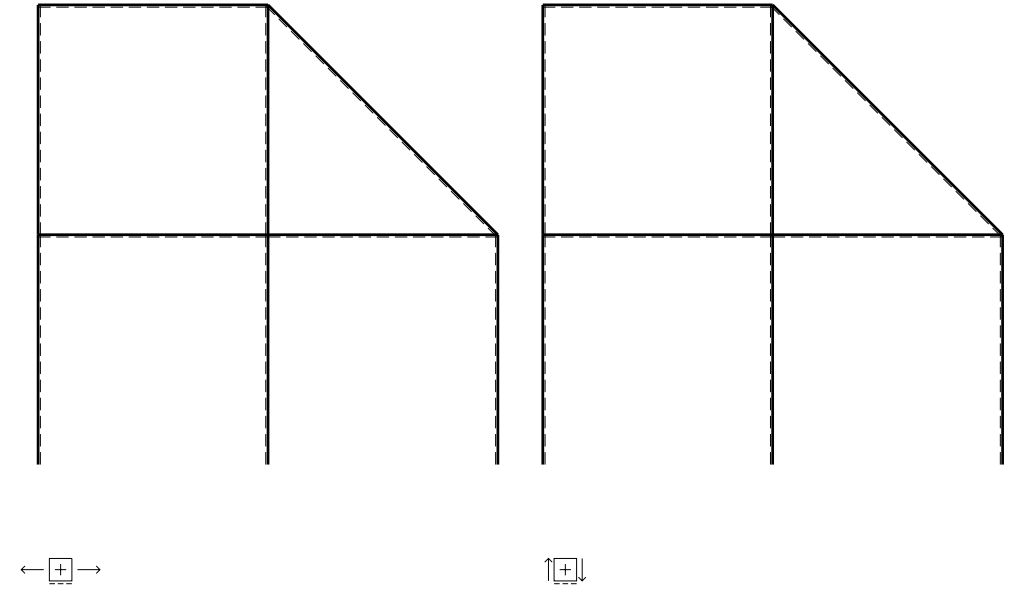
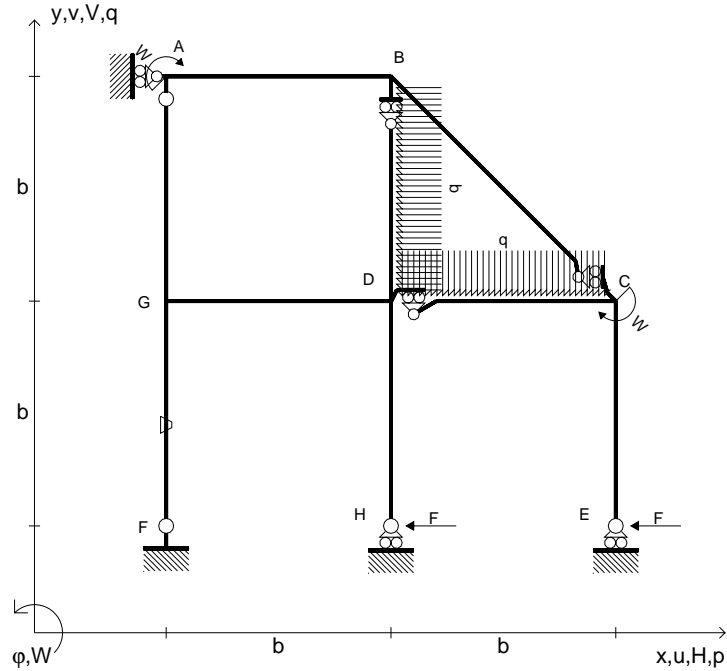
ANALISI STRUTTURALE CON PLV
 RIPORTARE SUL FILE "ESAME" SOLO LE SEGUENTI RICHIESTE

- Sul fronte:
- 1) Declassamento con indicazione dell'iperstatica scelta
 - 2) Diagrammi finali delle azioni interne
 - 3) Sforzi richiesti (nota: profilo COMPATTO)
- Sul retro:
- 4) Analisi cinematica
 - 5) Diagrammi del momento M_0 e M^*
 - 6) Espressione del PLV
 - 7) Valore numerico dell'iperstatica

Carichi e deformazioni date hanno verso efficace in disegno.
 Calcolare reazioni vincolari della struttura e delle aste.
 Tracciare i diagrammi quotati delle azioni interne nelle aste.
 $J_{YZ} - x_{YZ} - \theta_{YZ}$ riferimento locale asta YZ con origine in Y.
 La trave DC ha la sezione riportata e dimensioni in mm, con:
 $b = 880 \text{ mm}$, $F = 1250 \text{ N}$
 Calcolare sulla sezione C la massima tensione normale σ_m .
 Calcolare in * le tensioni σ_c, τ_c e la tensione di von Mises.
 Lembo inferiore sezione su tratteggio trave, a destra da D a C
 Curvatura θ asta FG positiva se convessa a destra con inizio F.
 © Adolfo Zavelani Rossi, Politecnico di Milano, vers.27.03.13



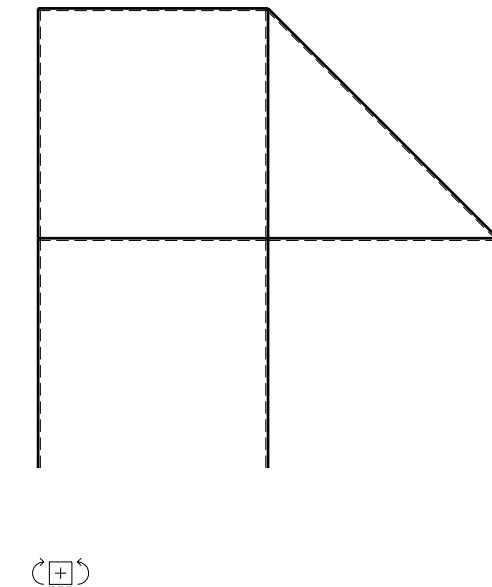
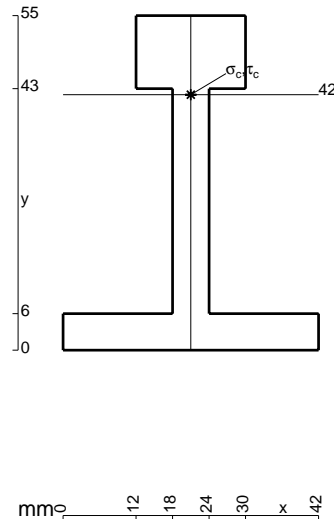
- $H_E = -F$
- $H_H = -F$
- $W_C = -W = -Fb$
- $W_A = -W = -Fb$
- $q_{DC} = -q = -F/b$
- $p_{BD} = -q = -F/b$
- $\theta_{FG} = -\theta = -\alpha T/b = -bF/EJ$
- $EJ_{AB} = EJ$
- $EJ_{BC} = EJ$
- $EJ_{BD} = EJ$
- $EJ_{DC} = EJ$
- $EJ_{CE} = EJ$
- $EJ_{FG} = EJ$
- $EJ_{GD} = EJ$
- $EJ_{DH} = EJ$
- $EJ_{GA} = EJ$



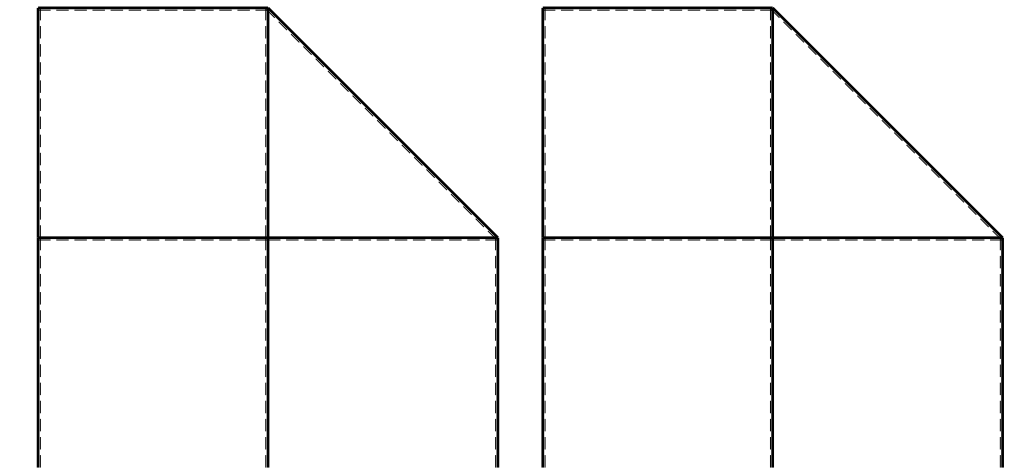
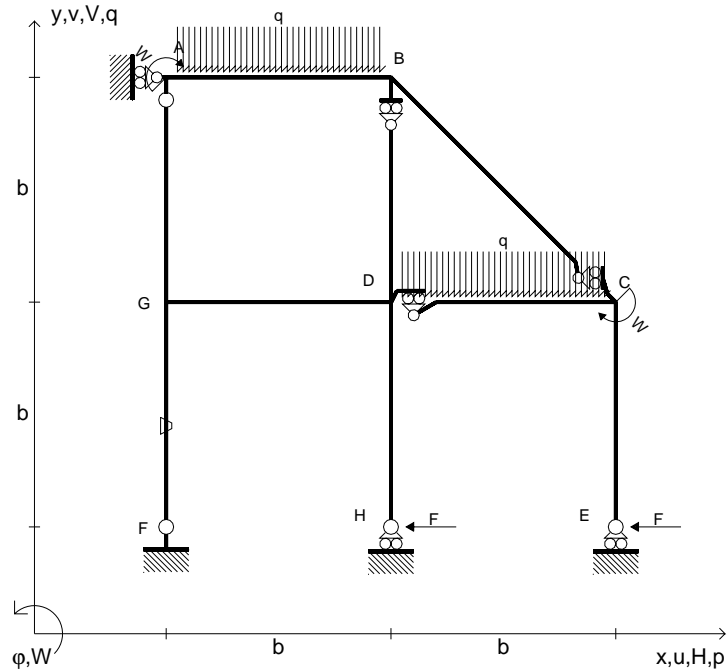
ANALISI STRUTTURALE CON PLV
 RIPORTARE SUL FILE "ESAME" SOLO LE SEGUENTI RICHIESTE

- Sul fronte:
- 1) Declassamento con indicazione dell'iperstatica scelta
 - 2) Diagrammi finali delle azioni interne
 - 3) Sforzi richiesti
 (nota: profilo COMPATTO)
- Sul retro:
- 4) Analisi cinematica
 - 5) Diagrammi del momento M_0 e M^*
 - 6) Espressione del PLV
 - 7) Valore numerico dell'iperstatica

Carichi e deformazioni date hanno verso efficace in disegno.
 Calcolare reazioni vincolari della struttura e delle aste.
 Tracciare i diagrammi quotati delle azioni interne nelle aste.
 $J_{YZ} - x_{YZ} - \theta_{YZ}$ riferimento locale asta YZ con origine in Y.
 La trave DC ha la sezione riportata e dimensioni in mm, con:
 $b = 930 \text{ mm}$, $F = 1100 \text{ N}$
 Calcolare sulla sezione C la massima tensione normale σ_m .
 Calcolare in * le tensioni σ_c, τ_c e la tensione di von Mises.
 Lembo inferiore sezione su tratteggio trave, a destra da D a C
 Curvatura θ asta FG positiva se convessa a destra con inizio F.
 © Adolfo Zavelani Rossi, Politecnico di Milano, vers.27.03.13



- $H_E = -F$
- $H_H = -F$
- $W_C = -W = -Fb$
- $W_A = -W = -Fb$
- $q_{DC} = -q = -F/b$
- $q_{AB} = -q = -F/b$
- $\theta_{FG} = -\theta = -\alpha T/b = -bF/EJ$
- $EJ_{AB} = EJ$
- $EJ_{BC} = EJ$
- $EJ_{BD} = EJ$
- $EJ_{DC} = EJ$
- $EJ_{CE} = EJ$
- $EJ_{FG} = EJ$
- $EJ_{GD} = EJ$
- $EJ_{DH} = EJ$
- $EJ_{GA} = EJ$



← ⊕ →

↑ ⊕ ↓

ANALISI STRUTTURALE CON PLV

RIPORTARE SUL FILE "ESAME" SOLO LE SEGUENTI RICHIESTE

Sul fronte:

- 1) Declassamento con indicazione dell'iperstatica scelta
- 2) Diagrammi finali delle azioni interne
- 3) Sforzi richiesti
(nota: profilo COMPATTO)

Sul retro:

- 4) Analisi cinematica
- 5) Diagrammi del momento M_0 e M^*
- 6) Espressione del PLV
- 7) Valore numerico dell'iperstatica

Carichi e deformazioni date hanno verso efficace in disegno.

Calcolare reazioni vincolari della struttura e delle aste.

Tracciare i diagrammi quotati delle azioni interne nelle aste.

$J_{YZ} - x_{YZ} - \theta_{YZ}$ riferimento locale asta YZ con origine in Y.

La trave DC ha la sezione riportata e dimensioni in mm, con:

$b = 980 \text{ mm}$, $F = 1280 \text{ N}$

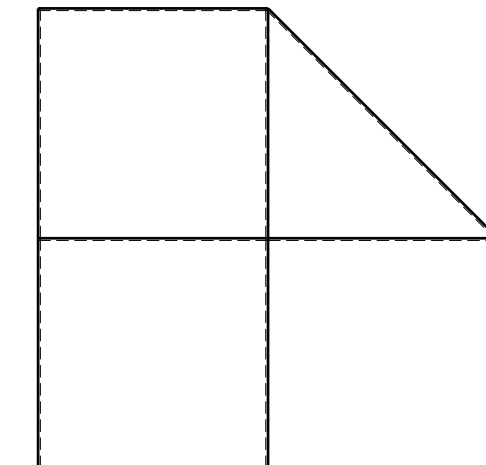

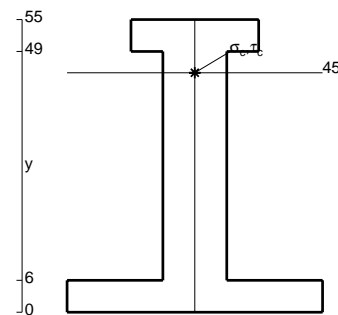
Calcolare sulla sezione C la massima tensione normale σ_m .

Calcolare in * le tensioni σ_c, τ_c e la tensione di von Mises.

Leombo inferiore sezione su tratteggio trave, a destra da D a C

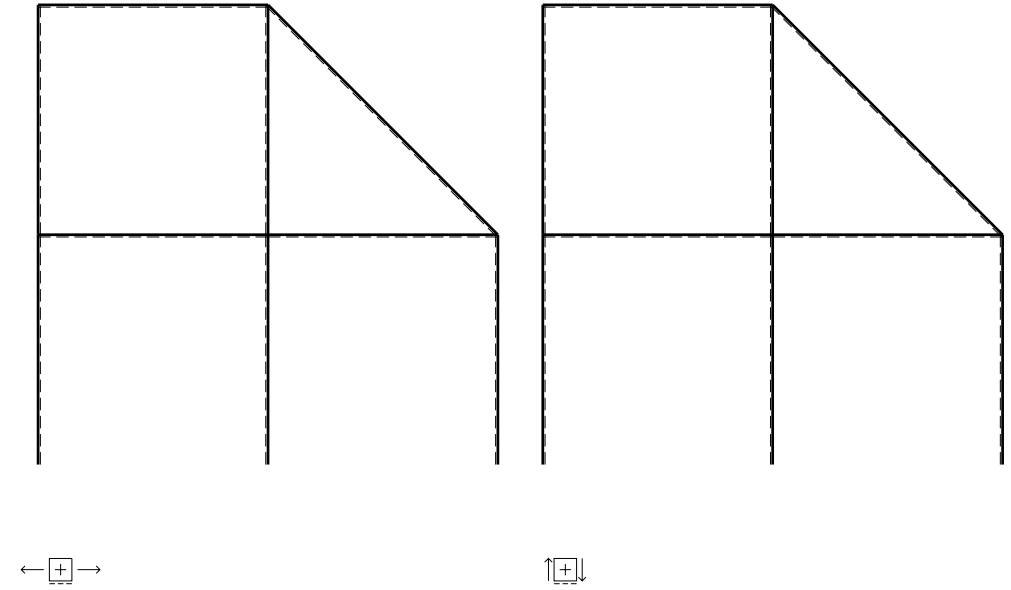
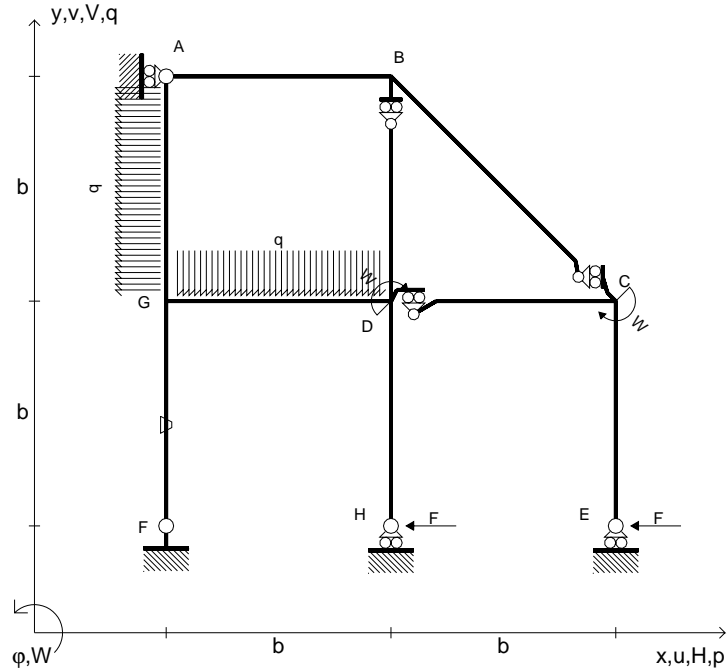
Curvatura θ asta FG positiva se convessa a destra con inizio F.

@ Adolfo Zavelani Rossi, Politecnico di Milano, vers.27.03.13



← ⊕ →

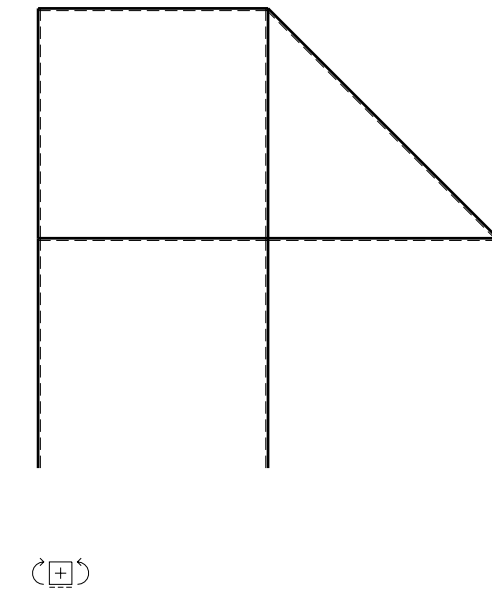
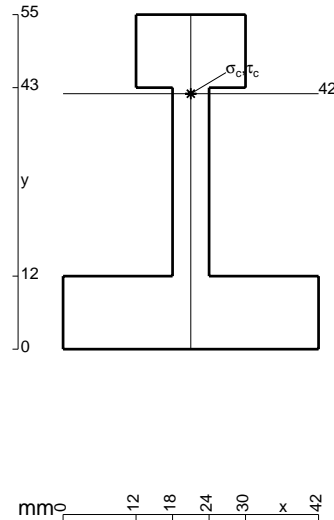
- $H_E = -F$
- $H_H = -F$
- $W_C = -W = -Fb$
- $W_D = -W = -Fb$
- $p_{GA} = -q = -F/b$
- $q_{GD} = -q = -F/b$
- $\theta_{FG} = -\theta = -\alpha T/b = -bF/EJ$
- $EJ_{AB} = EJ$
- $EJ_{BC} = EJ$
- $EJ_{BD} = EJ$
- $EJ_{DC} = EJ$
- $EJ_{CE} = EJ$
- $EJ_{FG} = EJ$
- $EJ_{GD} = EJ$
- $EJ_{DH} = EJ$
- $EJ_{GA} = EJ$



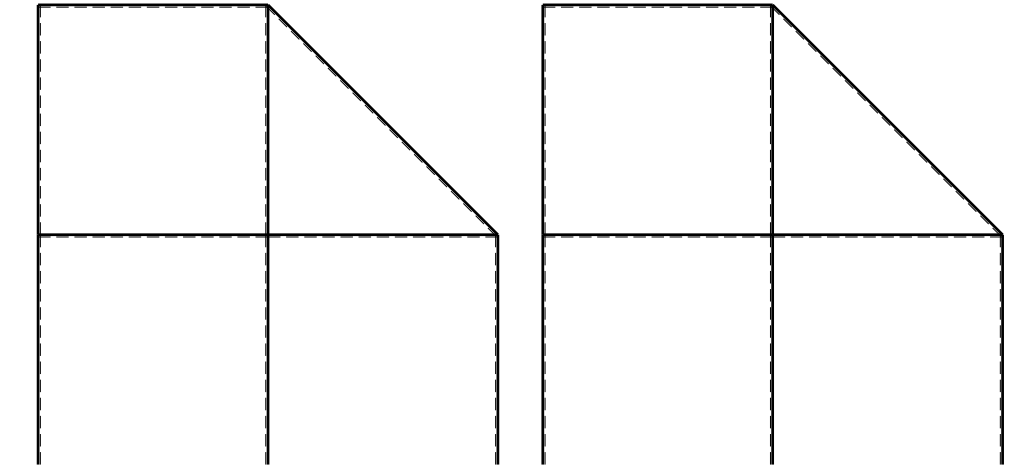
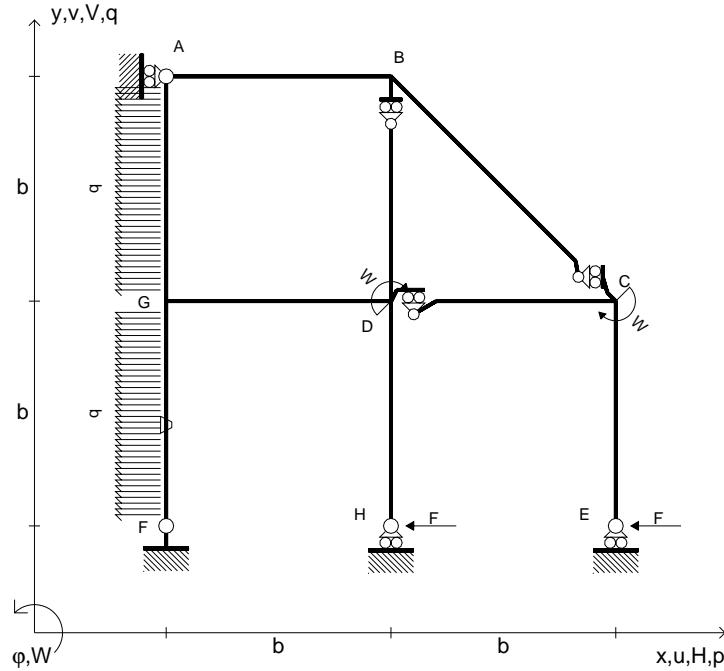
ANALISI STRUTTURALE CON PLV
 RIPORTARE SUL FILE "ESAME" SOLO LE SEGUENTI RICHIESTE

- Sul fronte:
- 1) Declassamento con indicazione dell'iperstatica scelta
 - 2) Diagrammi finali delle azioni interne
 - 3) Sforzi richiesti
(nota: profilo COMPATTO)
- Sul retro:
- 4) Analisi cinematica
 - 5) Diagrammi del momento M_0 e M^*
 - 6) Espressione del PLV
 - 7) Valore numerico dell'iperstatica

Carichi e deformazioni date hanno verso efficace in disegno.
 Calcolare reazioni vincolari della struttura e delle aste.
 Tracciare i diagrammi quotati delle azioni interne nelle aste.
 $J_{YZ} - x_{YZ} - \theta_{YZ}$ riferimento locale asta YZ con origine in Y.
 La trave DC ha la sezione riportata e dimensioni in mm, con:
 $b = 520$ mm, $F = 1750$ N
 Calcolare sulla sezione C la massima tensione normale σ_m .
 Calcolare in * le tensioni σ_c, τ_c e la tensione di von Mises.
 Lembo inferiore sezione su tratteggio trave, a destra da D a C
 Curvatura θ asta FG positiva se convessa a destra con inizio F.
 © Adolfo Zavelani Rossi, Politecnico di Milano, vers.27.03.13



- $H_E = -F$
- $H_H = -F$
- $W_C = -W = -Fb$
- $W_D = -W = -Fb$
- $p_{GA} = -q = -F/b$
- $p_{FG} = -q = -F/b$
- $\theta_{FG} = -\theta = -\alpha T/b = -bF/EJ$
- $EJ_{AB} = EJ$
- $EJ_{BC} = EJ$
- $EJ_{BD} = EJ$
- $EJ_{DC} = EJ$
- $EJ_{CE} = EJ$
- $EJ_{FG} = EJ$
- $EJ_{GD} = EJ$
- $EJ_{DH} = EJ$
- $EJ_{GA} = EJ$



← ⊕ →

↑ ⊕ ↓

ANALISI STRUTTURALE CON PLV

RIPORTARE SUL FILE "ESAME" SOLO LE SEGUENTI RICHIESTE

Sul fronte:

- 1) Declassamento con indicazione dell'iperstatica scelta
- 2) Diagrammi finali delle azioni interne
- 3) Sforzi richiesti
(nota: profilo COMPATTO)

Sul retro:

- 4) Analisi cinematica
- 5) Diagrammi del momento M_0 e M^*
- 6) Espressione del PLV
- 7) Valore numerico dell'iperstatica

Carichi e deformazioni date hanno verso efficace in disegno.

Calcolare reazioni vincolari della struttura e delle aste.

Tracciare i diagrammi quotati delle azioni interne nelle aste.

$J_{YZ} - x_{YZ} - \theta_{YZ}$ riferimento locale asta YZ con origine in Y.

La trave DC ha la sezione riportata e dimensioni in mm, con:

$b = 570 \text{ mm}$, $F = 1320 \text{ N}$


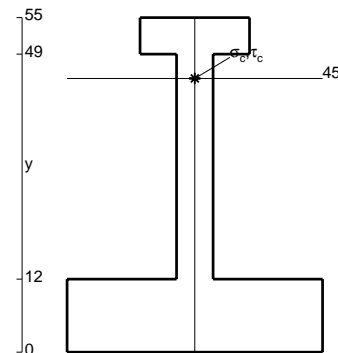
Calcolare sulla sezione C la massima tensione normale σ_m .

Calcolare in * le tensioni σ_c, τ_c e la tensione di von Mises.

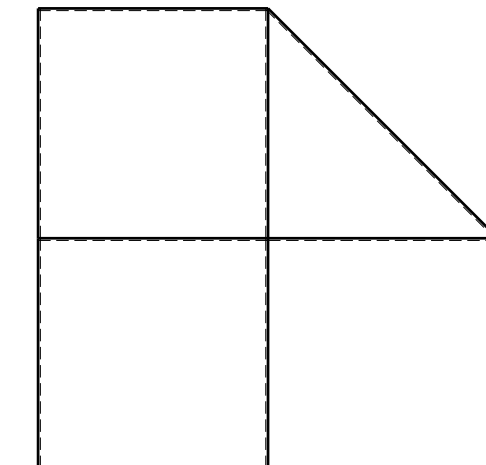
Le mbo inferiore sezione su tratteggio trave, a destra da D a C

Curvatura θ asta FG positiva se convessa a destra con inizio F.

@ Adolfo Zavelani Rossi, Politecnico di Milano, vers.27.03.13



22.03.24

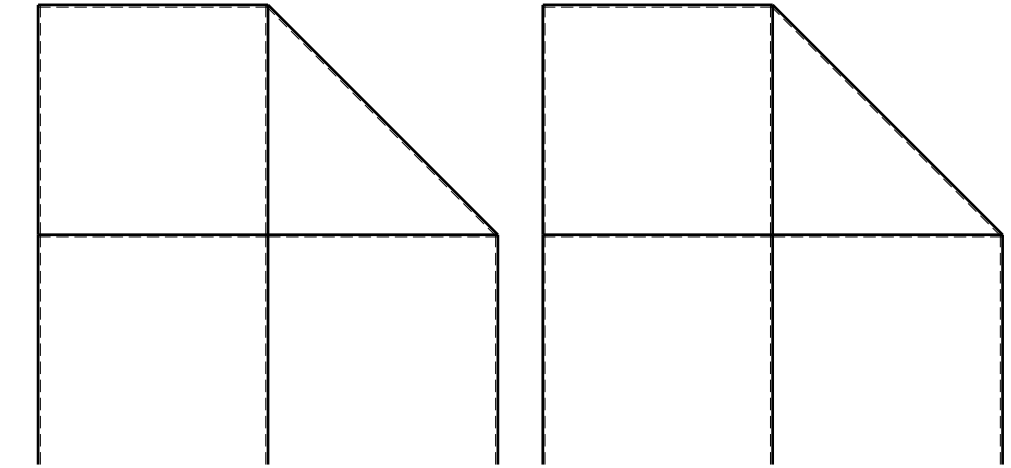
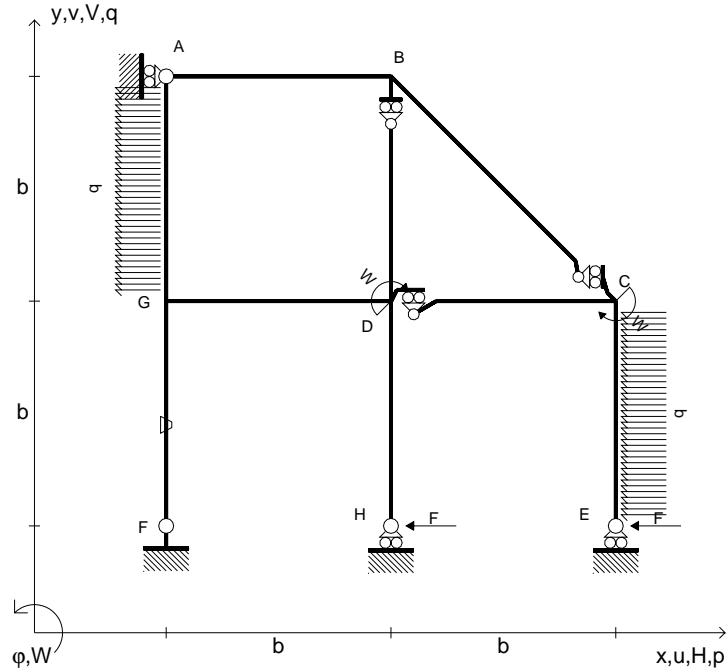


← ⊕ →

@ Adolfo Zavelani Rossi, Politecnico di Milano, vers.27.03.13

22.03.24

- $H_E = -F$
- $H_H = -F$
- $W_C = -W = -Fb$
- $W_D = -W = -Fb$
- $p_{GA} = -q = -F/b$
- $p_{CE} = -q = -F/b$
- $\theta_{FG} = -\theta = -\alpha T/b = -bF/EJ$
- $EJ_{AB} = EJ$
- $EJ_{BC} = EJ$
- $EJ_{BD} = EJ$
- $EJ_{DC} = EJ$
- $EJ_{CE} = EJ$
- $EJ_{FG} = EJ$
- $EJ_{GD} = EJ$
- $EJ_{DH} = EJ$
- $EJ_{GA} = EJ$



ANALISI STRUTTURALE CON PLV

RIPORTARE SUL FILE "ESAME" SOLO LE SEGUENTI RICHIESTE

Sul fronte:

- 1) Declassamento con indicazione dell'iperstatica scelta
- 2) Diagrammi finali delle azioni interne
- 3) Sforzi richiesti
(nota: profilo COMPATTO)

Sul retro:

- 4) Analisi cinematica
- 5) Diagrammi del momento M_0 e M^*
- 6) Espressione del PLV
- 7) Valore numerico dell'iperstatica

Carichi e deformazioni date hanno verso efficace in disegno.

Calcolare reazioni vincolari della struttura e delle aste.

Tracciare i diagrammi quotati delle azioni interne nelle aste.

$J_{YZ} - x_{YZ} - \theta_{YZ}$ riferimento locale asta YZ con origine in Y.

La trave DC ha la sezione riportata e dimensioni in mm, con:

$b = 620$ mm, $F = 1720$ N

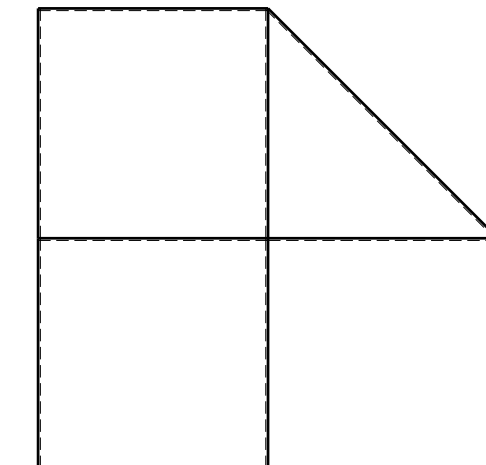

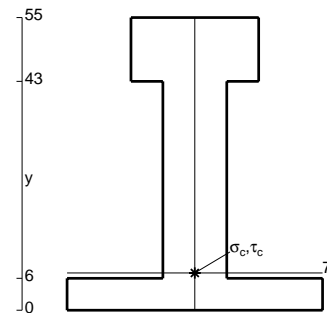
Calcolare sulla sezione C la massima tensione normale σ_m .

Calcolare in * le tensioni σ_c, τ_c e la tensione di von Mises.

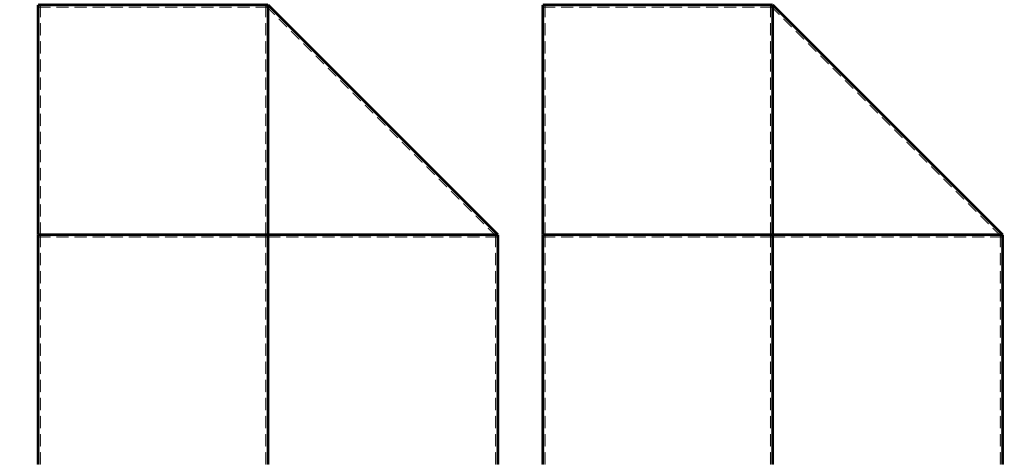
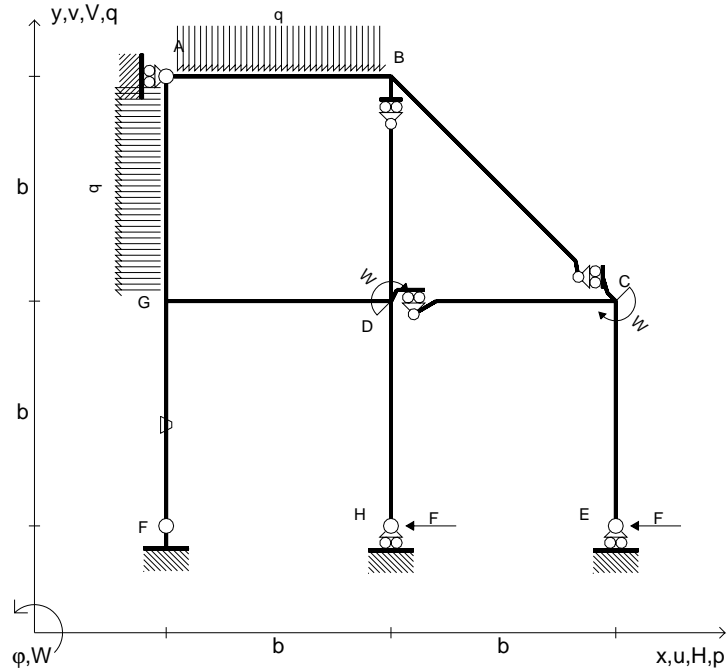
Leombo inferiore sezione su tratteggio trave, a destra da D a C

Curvatura θ asta FG positiva se convessa a destra con inizio F.

@ Adolfo Zavelani Rossi, Politecnico di Milano, vers.27.03.13



- $H_E = -F$
- $H_H = -F$
- $W_C = -W = -Fb$
- $W_D = -W = -Fb$
- $p_{GA} = -q = -F/b$
- $q_{AB} = -q = -F/b$
- $\theta_{FG} = -\theta = -\alpha T/b = -bF/EJ$
- $EJ_{AB} = EJ$
- $EJ_{BC} = EJ$
- $EJ_{BD} = EJ$
- $EJ_{DC} = EJ$
- $EJ_{CE} = EJ$
- $EJ_{FG} = EJ$
- $EJ_{GD} = EJ$
- $EJ_{DH} = EJ$
- $EJ_{GA} = EJ$



← ⊕ →

↑ ⊕ ↓

ANALISI STRUTTURALE CON PLV

RIPORTARE SUL FILE "ESAME" SOLO LE SEGUENTI RICHIESTE

Sul fronte:

- 1) Declassamento con indicazione dell'iperstatica scelta
- 2) Diagrammi finali delle azioni interne
- 3) Sforzi richiesti
(nota: profilo COMPATTO)

Sul retro:

- 4) Analisi cinematica
- 5) Diagrammi del momento M_0 e M^*
- 6) Espressione del PLV
- 7) Valore numerico dell'iperstatica

Carichi e deformazioni date hanno verso efficace in disegno.

Calcolare reazioni vincolari della struttura e delle aste.

Tracciare i diagrammi quotati delle azioni interne nelle aste.

$J_{YZ} - x_{YZ} - \theta_{YZ}$ riferimento locale asta YZ con origine in Y.

La trave DC ha la sezione riportata e dimensioni in mm, con:

$b = 670 \text{ mm}$, $F = 1840 \text{ N}$

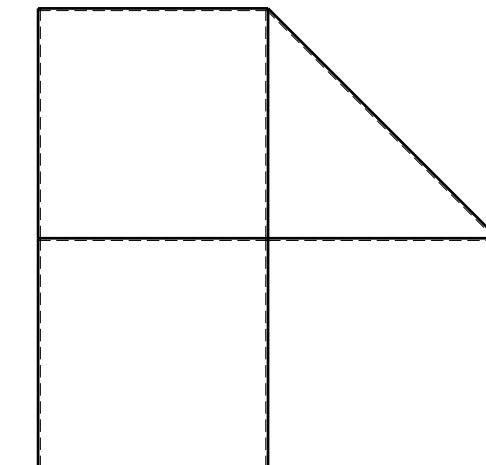

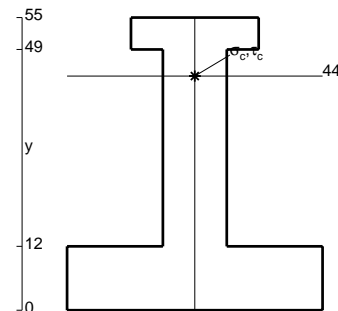
Calcolare sulla sezione C la massima tensione normale σ_m .

Calcolare in * le tensioni σ_c, τ_c e la tensione di von Mises.

Leombo inferiore sezione su tratteggio trave, a destra da D a C

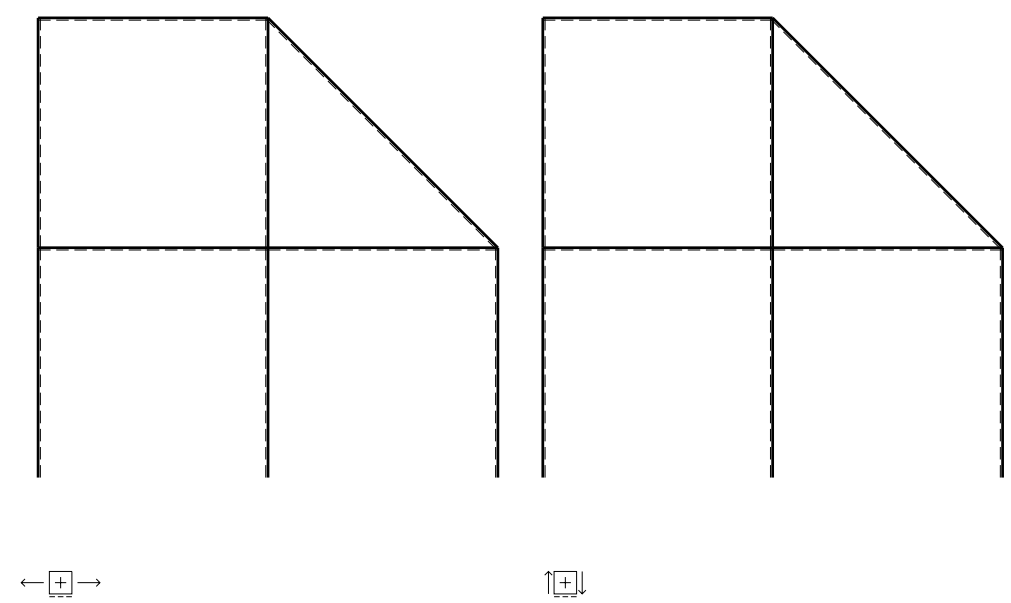
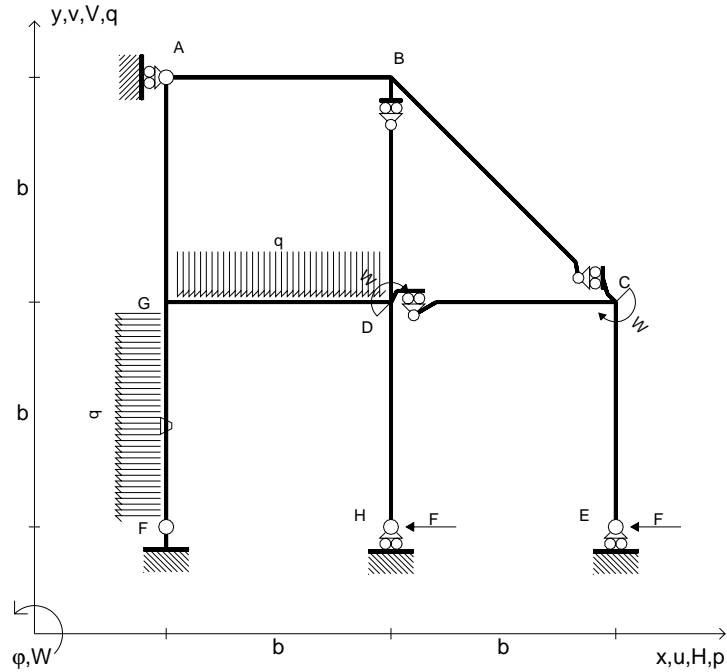
Curvatura θ asta FG positiva se convessa a destra con inizio F.

@ Adolfo Zavelani Rossi, Politecnico di Milano, vers.27.03.13



⊕ ↻

- $H_E = -F$
- $H_H = -F$
- $W_C = -W = -Fb$
- $W_D = -W = -Fb$
- $q_{GD} = -q = -F/b$
- $p_{FG} = -q = -F/b$
- $\theta_{FG} = -\theta = -\alpha T/b = -bF/EJ$
- $EJ_{AB} = EJ$
- $EJ_{BC} = EJ$
- $EJ_{BD} = EJ$
- $EJ_{DC} = EJ$
- $EJ_{CE} = EJ$
- $EJ_{FG} = EJ$
- $EJ_{GD} = EJ$
- $EJ_{DH} = EJ$
- $EJ_{GA} = EJ$



ANALISI STRUTTURALE CON PLV

RIPORTARE SUL FILE "ESAME" SOLO LE SEGUENTI RICHIESTE

Sul fronte:

- 1) Declassamento con indicazione dell'iperstatica scelta
- 2) Diagrammi finali delle azioni interne
- 3) Sforzi richiesti
(nota: profilo COMPATTO)

Sul retro:

- 4) Analisi cinematica
- 5) Diagrammi del momento M_0 e M^*
- 6) Espressione del PLV
- 7) Valore numerico dell'iperstatica

Carichi e deformazioni date hanno verso efficace in disegno.

Calcolare reazioni vincolari della struttura e delle aste.

Tracciare i diagrammi quotati delle azioni interne nelle aste.

$J_{YZ} - x_{YZ} - \theta_{YZ}$ riferimento locale asta YZ con origine in Y.

La trave DC ha la sezione riportata e dimensioni in mm, con:

$b = 810 \text{ mm}$, $F = 850 \text{ N}$

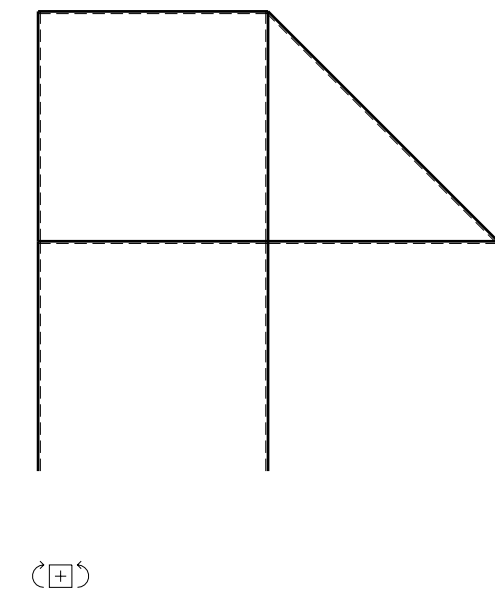
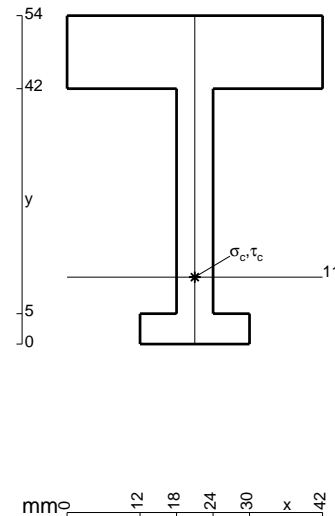
Calcolare sulla sezione C la massima tensione normale σ_m .

Calcolare in * le tensioni σ_c, τ_c e la tensione di von Mises.

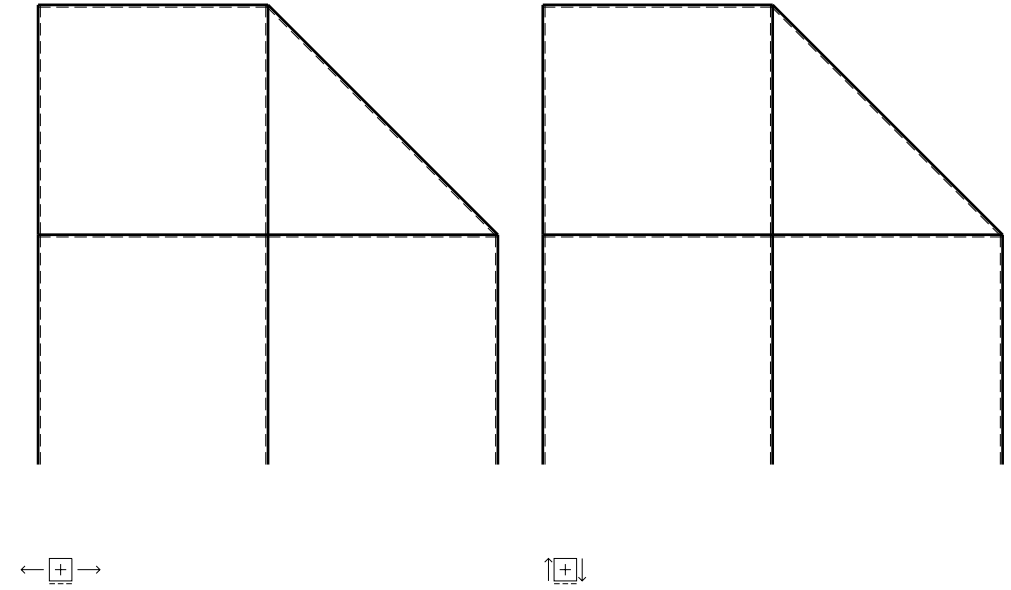
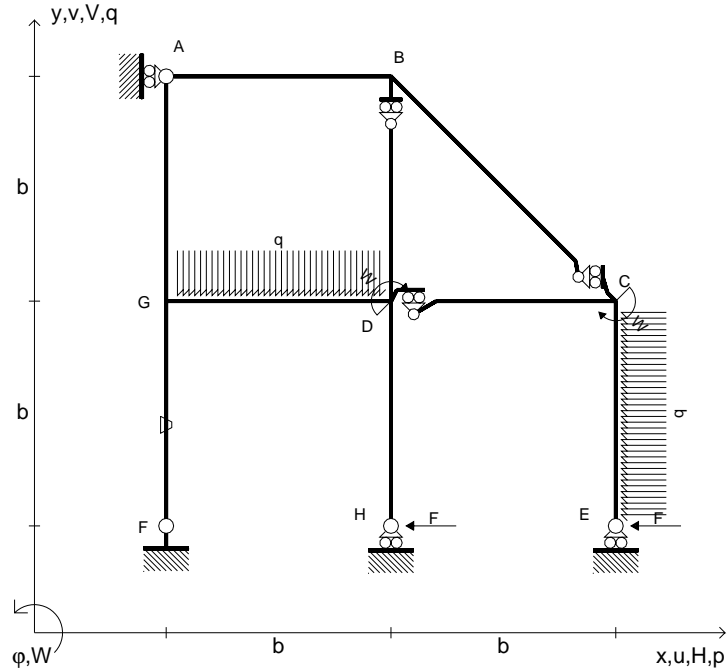
Le mbo inferiore sezione su tratteggio trave, a destra da D a C

Curvatura θ asta FG positiva se convessa a destra con inizio F.

@ Adolfo Zavelani Rossi, Politecnico di Milano, vers.27.03.13



- $H_E = -F$
- $H_H = -F$
- $W_C = -W = -Fb$
- $W_D = -W = -Fb$
- $q_{GD} = -q = -F/b$
- $p_{CE} = -q = -F/b$
- $\theta_{FG} = -\theta = -\alpha T/b = -bF/EJ$
- $EJ_{AB} = EJ$
- $EJ_{BC} = EJ$
- $EJ_{BD} = EJ$
- $EJ_{DC} = EJ$
- $EJ_{CE} = EJ$
- $EJ_{FG} = EJ$
- $EJ_{GD} = EJ$
- $EJ_{DH} = EJ$
- $EJ_{GA} = EJ$



ANALISI STRUTTURALE CON PLV

RIPORTARE SUL FILE "ESAME" SOLO LE SEGUENTI RICHIESTE

Sul fronte:

- 1) Declassamento con indicazione dell'iperstatica scelta
- 2) Diagrammi finali delle azioni interne
- 3) Sforzi richiesti
(nota: profilo COMPATTO)

Sul retro:

- 4) Analisi cinematica
- 5) Diagrammi del momento M_0 e M^*
- 6) Espressione del PLV
- 7) Valore numerico dell'iperstatica

Carichi e deformazioni date hanno verso efficace in disegno.

Calcolare reazioni vincolari della struttura e delle aste.

Tracciare i diagrammi quotati delle azioni interne nelle aste.

$J_{YZ} - x_{YZ} - \theta_{YZ}$ riferimento locale asta YZ con origine in Y.

La trave DC ha la sezione riportata e dimensioni in mm, con:

$b = 860 \text{ mm}$, $F = 1000 \text{ N}$

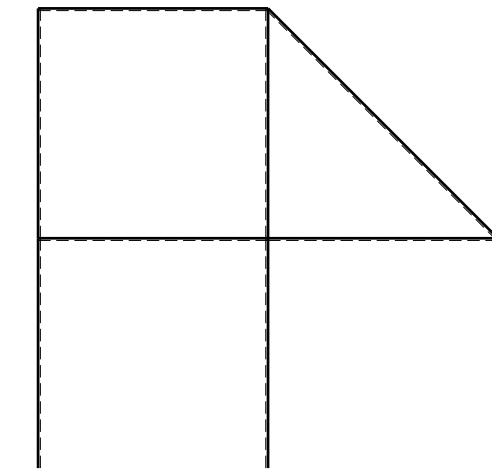
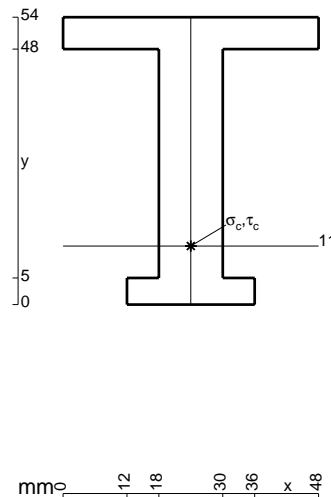
Calcolare sulla sezione C la massima tensione normale σ_m .

Calcolare in * le tensioni σ_c, τ_c e la tensione di von Mises.

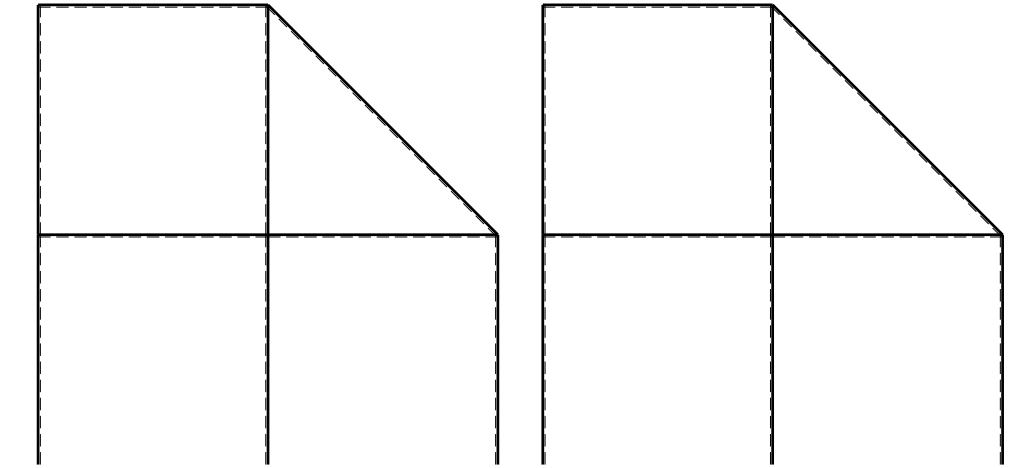
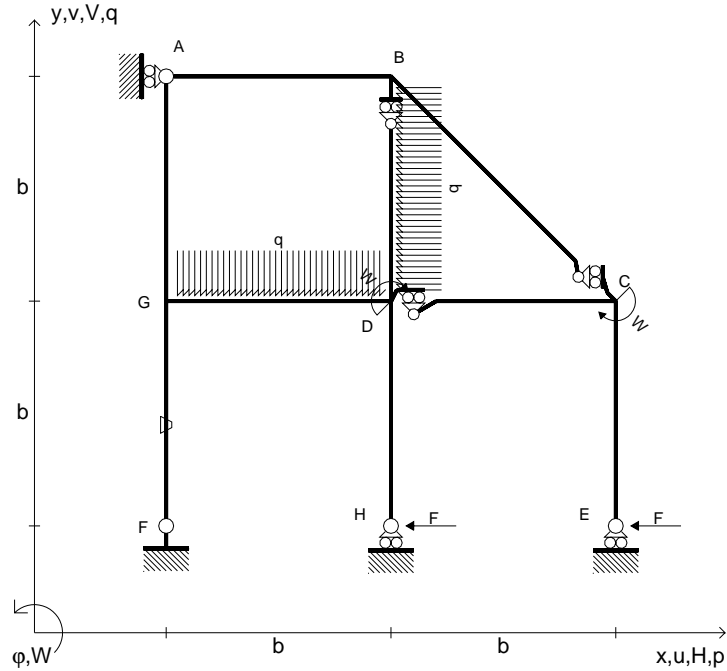
Leombo inferiore sezione su tratteggio trave, a destra da D a C

Curvatura θ asta FG positiva se convessa a destra con inizio F.

@ Adolfo Zavelani Rossi, Politecnico di Milano, vers.27.03.13



- $H_E = -F$
- $H_H = -F$
- $W_C = -W = -Fb$
- $W_D = -W = -Fb$
- $q_{GD} = -q = -F/b$
- $p_{BD} = -q = -F/b$
- $\theta_{FG} = -\theta = -\alpha T/b = -bF/EJ$
- $EJ_{AB} = EJ$
- $EJ_{BC} = EJ$
- $EJ_{BD} = EJ$
- $EJ_{DC} = EJ$
- $EJ_{CE} = EJ$
- $EJ_{FG} = EJ$
- $EJ_{GD} = EJ$
- $EJ_{DH} = EJ$
- $EJ_{GA} = EJ$



← ⊕ →

↑ ⊕ ↓

ANALISI STRUTTURALE CON PLV

RIPORTARE SUL FILE "ESAME" SOLO LE SEGUENTI RICHIESTE

Sul fronte:

- 1) Declassamento con indicazione dell'iperstatica scelta
- 2) Diagrammi finali delle azioni interne
- 3) Sforzi richiesti
(nota: profilo COMPATTO)

Sul retro:

- 4) Analisi cinematica
- 5) Diagrammi del momento M_0 e M^*
- 6) Espressione del PLV
- 7) Valore numerico dell'iperstatica

Carichi e deformazioni date hanno verso efficace in disegno.

Calcolare reazioni vincolari della struttura e delle aste.

Tracciare i diagrammi quotati delle azioni interne nelle aste.

$J_{YZ} - x_{YZ} - \theta_{YZ}$ riferimento locale asta YZ con origine in Y.

La trave DC ha la sezione riportata e dimensioni in mm, con:

$b = 910 \text{ mm}$, $F = 1270 \text{ N}$

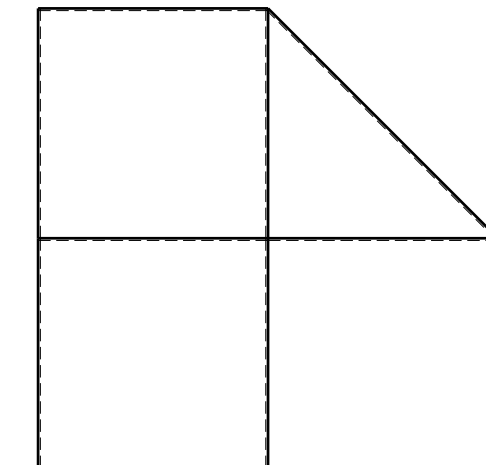

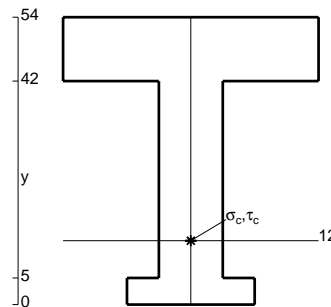
Calcolare sulla sezione C la massima tensione normale σ_m .

Calcolare in * le tensioni σ_c, τ_c e la tensione di von Mises.

Leombo inferiore sezione su tratteggio trave, a destra da D a C

Curvatura θ asta FG positiva se convessa a destra con inizio F.

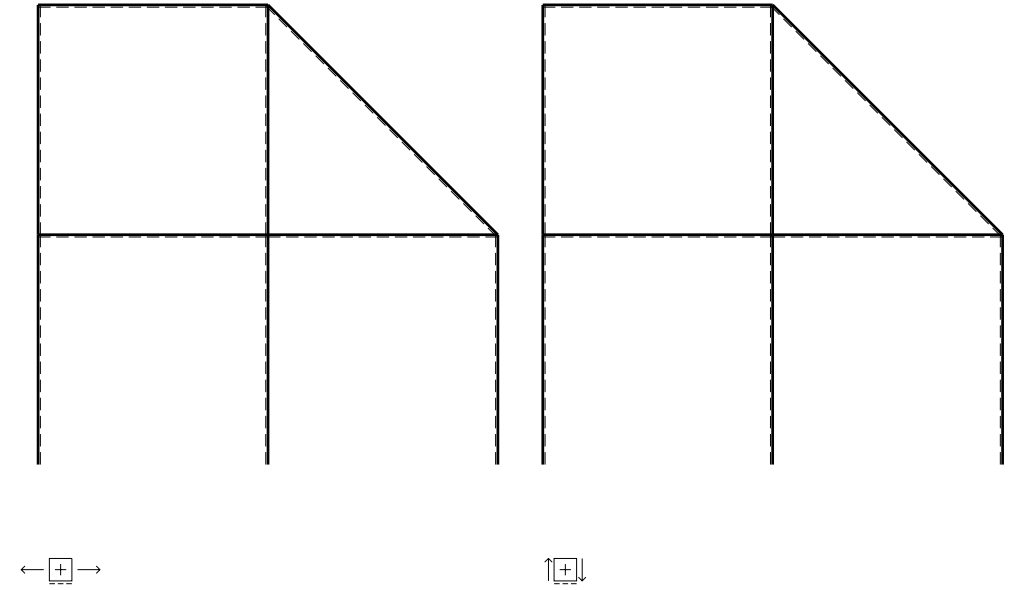
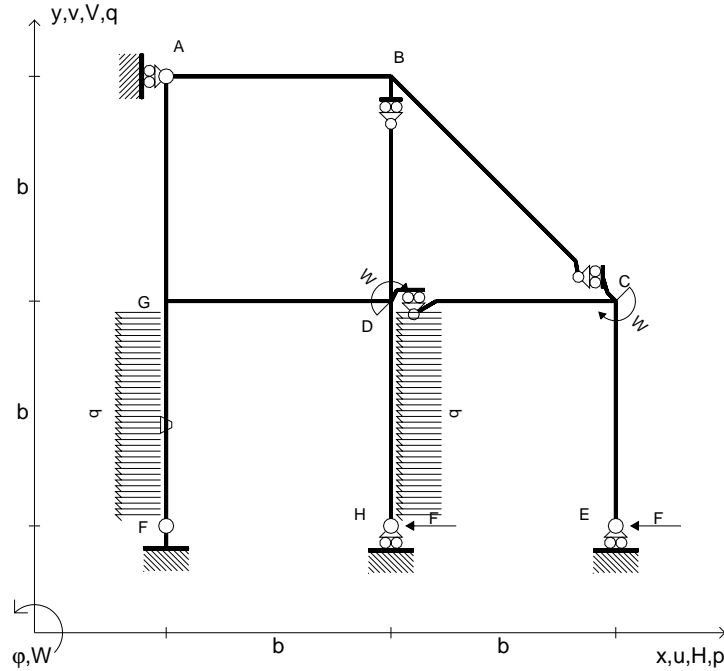
@ Adolfo Zavelani Rossi, Politecnico di Milano, vers.27.03.13



← ⊕ →

@ Adolfo Zavelani Rossi, Politecnico di Milano, vers.27.03.13

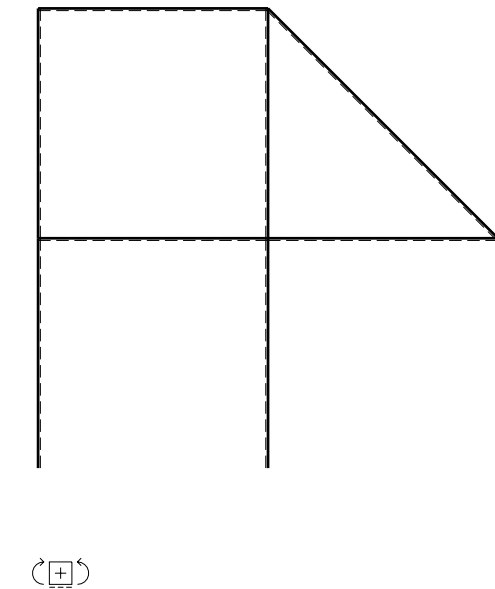
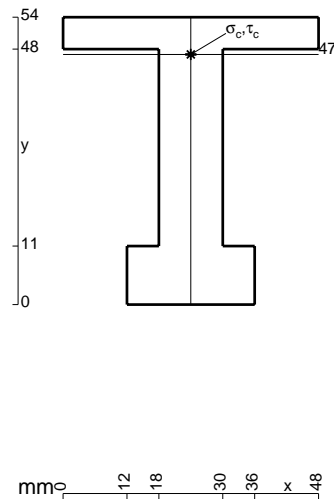
- $H_E = -F$
- $H_H = -F$
- $W_C = -W = -Fb$
- $W_D = -W = -Fb$
- $p_{DH} = -q = -F/b$
- $p_{FG} = -q = -F/b$
- $\theta_{FG} = -\theta = -\alpha T/b = -bF/EJ$
- $EJ_{AB} = EJ$
- $EJ_{BC} = EJ$
- $EJ_{BD} = EJ$
- $EJ_{DC} = EJ$
- $EJ_{CE} = EJ$
- $EJ_{FG} = EJ$
- $EJ_{GD} = EJ$
- $EJ_{DH} = EJ$
- $EJ_{GA} = EJ$



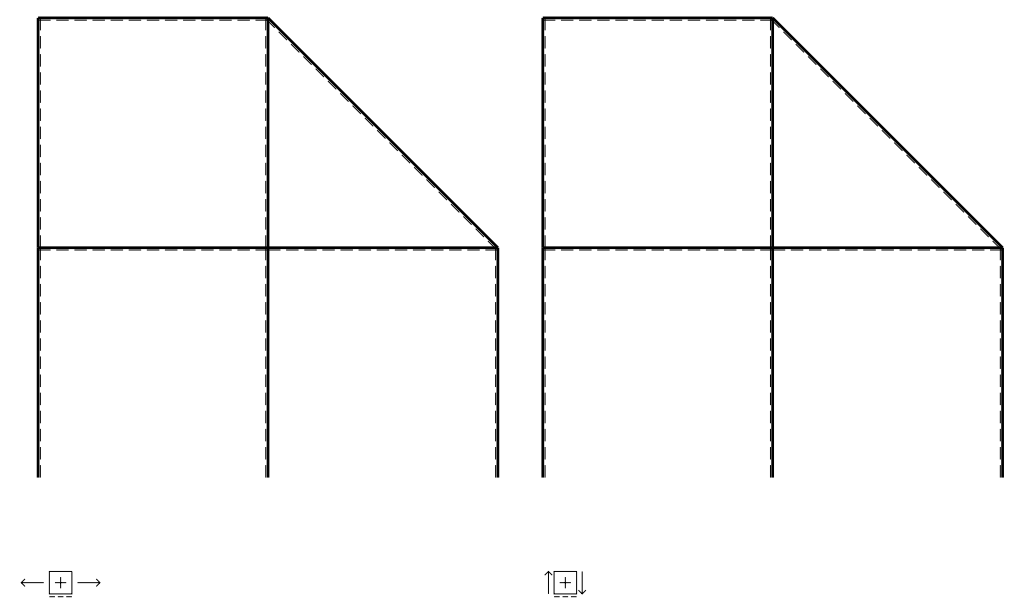
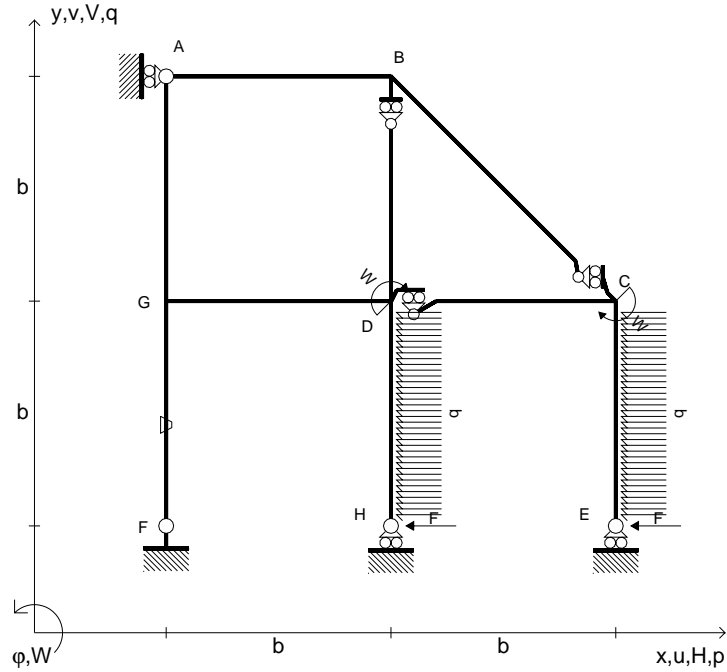
ANALISI STRUTTURALE CON PLV
 RIPORTARE SUL FILE "ESAME" SOLO LE SEGUENTI RICHIESTE

- Sul fronte:
- 1) Declassamento con indicazione dell'iperstatica scelta
 - 2) Diagrammi finali delle azioni interne
 - 3) Sforzi richiesti (nota: profilo COMPATTO)
- Sul retro:
- 4) Analisi cinematica
 - 5) Diagrammi del momento M_0 e M^*
 - 6) Espressione del PLV
 - 7) Valore numerico dell'iperstatica

Carichi e deformazioni date hanno verso efficace in disegno.
 Calcolare reazioni vincolari della struttura e delle aste.
 Tracciare i diagrammi quotati delle azioni interne nelle aste.
 $J_{YZ} - x_{YZ} - \theta_{YZ}$ riferimento locale asta YZ con origine in Y.
 La trave DC ha la sezione riportata e dimensioni in mm, con:
 $b = 560 \text{ mm}$, $F = 2160 \text{ N}$
 Calcolare sulla sezione C la massima tensione normale σ_m .
 Calcolare in * le tensioni σ_c, τ_c e la tensione di von Mises.
 Lembo inferiore sezione su tratteggio trave, a destra da D a C
 Curvatura θ asta FG positiva se convessa a destra con inizio F.
 © Adolfo Zavelani Rossi, Politecnico di Milano, vers.27.03.13



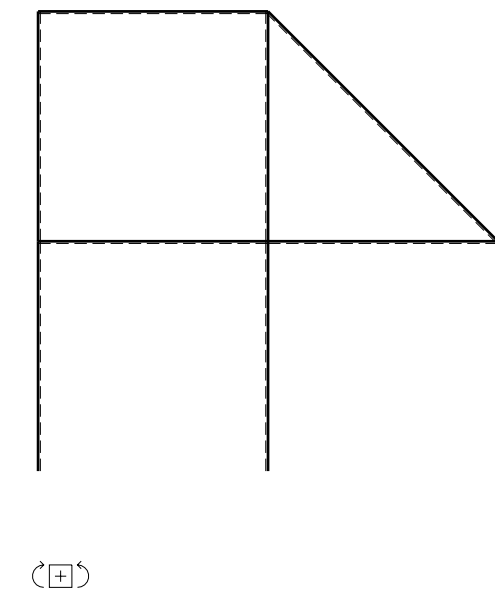
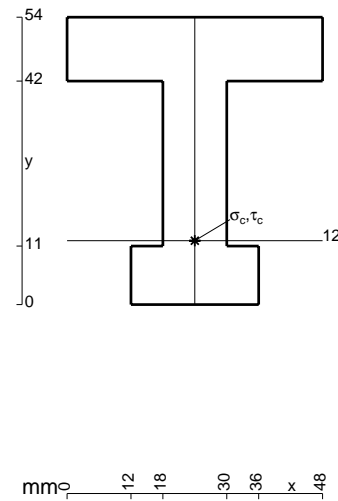
- $H_E = -F$
- $H_H = -F$
- $W_C = -W = -Fb$
- $W_D = -W = -Fb$
- $p_{DH} = -q = -F/b$
- $p_{CE} = -q = -F/b$
- $\theta_{FG} = -\theta = -\alpha T/b = -bF/EJ$
- $EJ_{AB} = EJ$
- $EJ_{BC} = EJ$
- $EJ_{BD} = EJ$
- $EJ_{DC} = EJ$
- $EJ_{CE} = EJ$
- $EJ_{FG} = EJ$
- $EJ_{GD} = EJ$
- $EJ_{DH} = EJ$
- $EJ_{GA} = EJ$



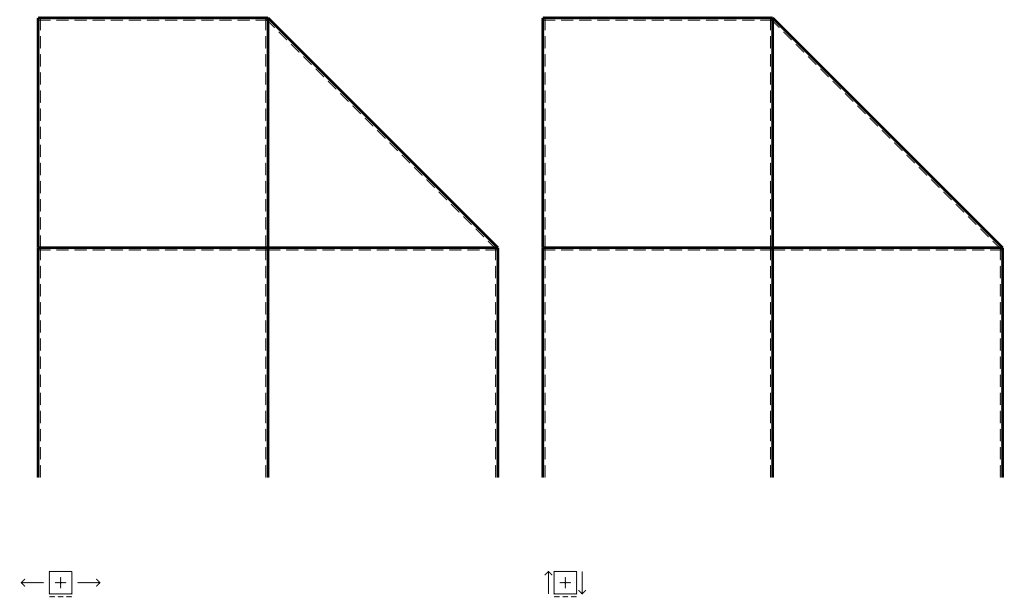
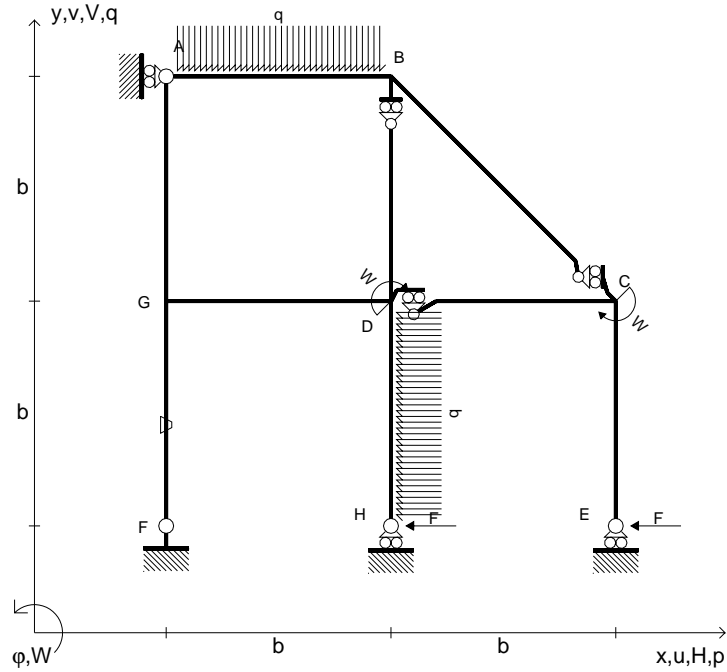
ANALISI STRUTTURALE CON PLV
 RIPORTARE SUL FILE "ESAME" SOLO LE SEGUENTI RICHIESTE

- Sul fronte:
- 1) Declassamento con indicazione dell'iperstatica scelta
 - 2) Diagrammi finali delle azioni interne
 - 3) Sforzi richiesti (nota: profilo COMPATTO)
- Sul retro:
- 4) Analisi cinematica
 - 5) Diagrammi del momento M_0 e M^*
 - 6) Espressione del PLV
 - 7) Valore numerico dell'iperstatica

Carichi e deformazioni date hanno verso efficace in disegno.
 Calcolare reazioni vincolari della struttura e delle aste.
 Tracciare i diagrammi quotati delle azioni interne nelle aste.
 $J_{YZ} - x_{YZ} - \theta_{YZ}$ riferimento locale asta YZ con origine in Y.
 La trave DC ha la sezione riportata e dimensioni in mm, con:
 $b = 610 \text{ mm}$, $F = 1720 \text{ N}$
 Calcolare sulla sezione C la massima tensione normale σ_m .
 Calcolare in * le tensioni σ_c, τ_c e la tensione di von Mises.
 Lembo inferiore sezione su tratteggio trave, a destra da D a C
 Curvatura θ asta FG positiva se convessa a destra con inizio F.
 @ Adolfo Zavelani Rossi, Politecnico di Milano, vers.27.03.13



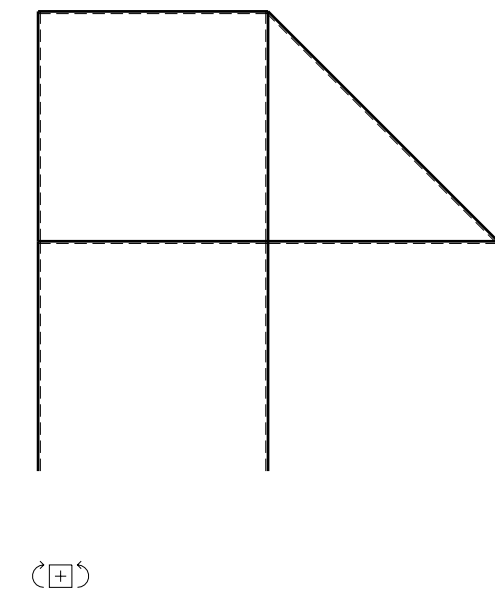
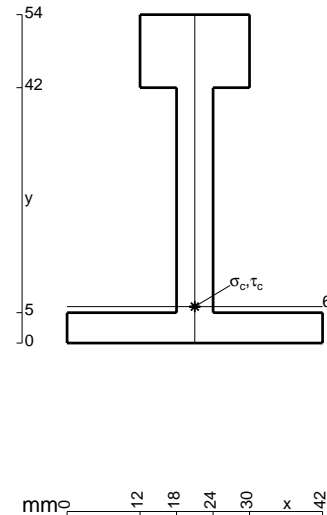
- $H_E = -F$
- $H_H = -F$
- $W_C = -W = -Fb$
- $W_D = -W = -Fb$
- $p_{DH} = -q = -F/b$
- $q_{AB} = -q = -F/b$
- $\theta_{FG} = -\theta = -\alpha T/b = -bF/EJ$
- $EJ_{AB} = EJ$
- $EJ_{BC} = EJ$
- $EJ_{BD} = EJ$
- $EJ_{DC} = EJ$
- $EJ_{CE} = EJ$
- $EJ_{FG} = EJ$
- $EJ_{GD} = EJ$
- $EJ_{DH} = EJ$
- $EJ_{GA} = EJ$



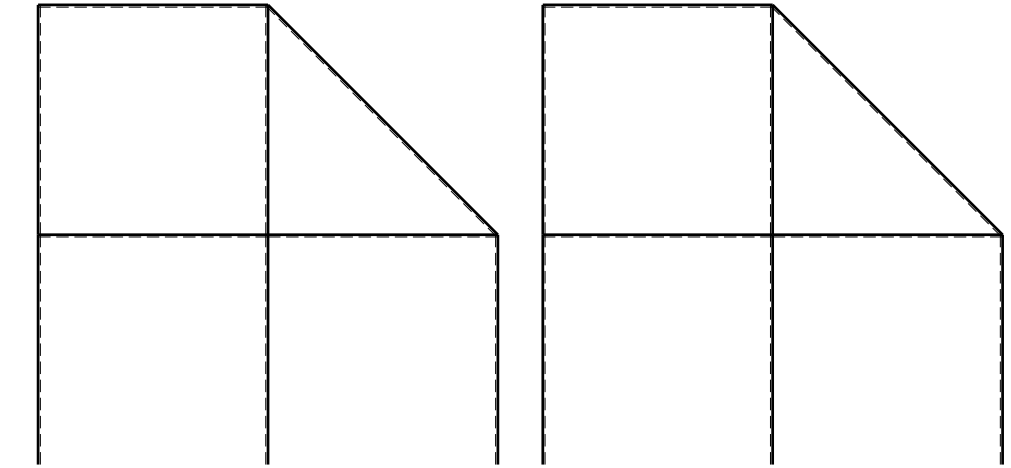
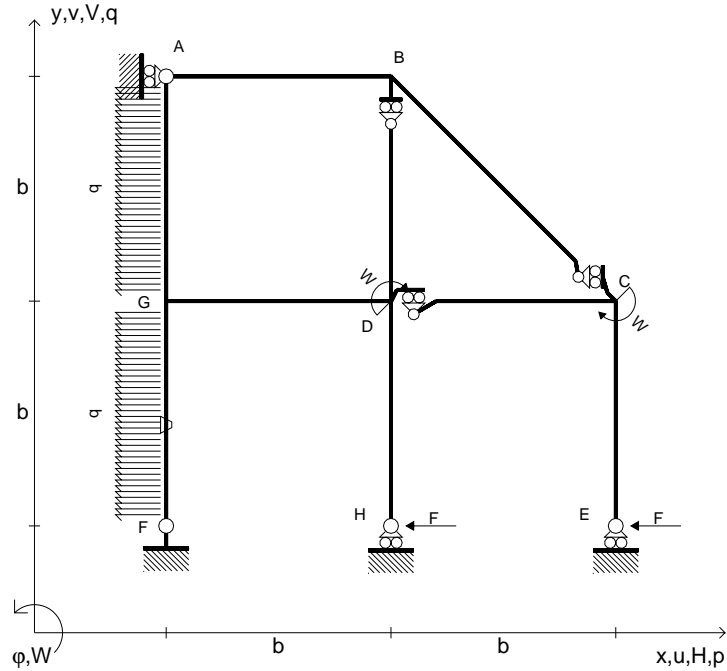
ANALISI STRUTTURALE CON PLV
 RIPORTARE SUL FILE "ESAME" SOLO LE SEGUENTI RICHIESTE

- Sul fronte:
- 1) Declassamento con indicazione dell'iperstatica scelta
 - 2) Diagrammi finali delle azioni interne
 - 3) Sforzi richiesti
(nota: profilo COMPATTO)
- Sul retro:
- 4) Analisi cinematica
 - 5) Diagrammi del momento M0 e M*
 - 6) Espressione del PLV
 - 7) Valore numerico dell'iperstatica

Carichi e deformazioni date hanno verso efficace in disegno.
 Calcolare reazioni vincolari della struttura e delle aste.
 Tracciare i diagrammi quotati delle azioni interne nelle aste.
 $J_{YZ} - x_{YZ} - \theta_{YZ}$ riferimento locale asta YZ con origine in Y.
 La trave DC ha la sezione riportata e dimensioni in mm, con:
 $b = 710 \text{ mm}$, $F = 1440 \text{ N}$
 Calcolare sulla sezione C la massima tensione normale σ_m .
 Calcolare in * le tensioni σ_c, τ_c e la tensione di von Mises.
 Lembo inferiore sezione su tratteggio trave, a destra da D a C
 Curvatura θ asta FG positiva se convessa a destra con inizio F.
 © Adolfo Zavelani Rossi, Politecnico di Milano, vers.27.03.13



- $H_E = -F$
- $H_H = -F$
- $W_C = -W = -Fb$
- $W_D = -W = -Fb$
- $p_{FG} = -q = -F/b$
- $p_{GA} = -q = -F/b$
- $\theta_{FG} = -\theta = -\alpha T/b = -bF/EJ$
- $EJ_{AB} = EJ$
- $EJ_{BC} = EJ$
- $EJ_{BD} = EJ$
- $EJ_{DC} = EJ$
- $EJ_{CE} = EJ$
- $EJ_{FG} = EJ$
- $EJ_{GD} = EJ$
- $EJ_{DH} = EJ$
- $EJ_{GA} = EJ$



← ⊕ →

↑ ⊕ ↓

ANALISI STRUTTURALE CON PLV

RIPORTARE SUL FILE "ESAME" SOLO LE SEGUENTI RICHIESTE

Sul fronte:

- 1) Declassamento con indicazione dell'iperstatica scelta
- 2) Diagrammi finali delle azioni interne
- 3) Sforzi richiesti (nota: profilo COMPATTO)

Sul retro:

- 4) Analisi cinematica
- 5) Diagrammi del momento M_0 e M^*
- 6) Espressione del PLV
- 7) Valore numerico dell'iperstatica

Carichi e deformazioni date hanno verso efficace in disegno.

Calcolare reazioni vincolari della struttura e delle aste.

Tracciare i diagrammi quotati delle azioni interne nelle aste.

$J_{YZ} - x_{YZ} - \theta_{YZ}$ riferimento locale asta YZ con origine in Y.

La trave DC ha la sezione riportata e dimensioni in mm, con:

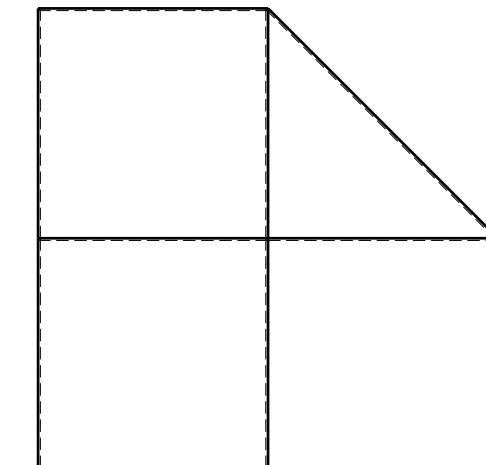
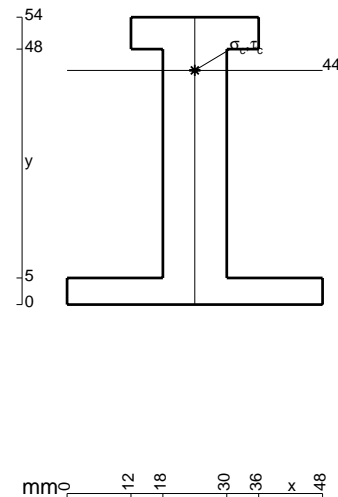
$b = 760 \text{ mm}$, $F = 1310 \text{ N}$

Calcolare sulla sezione C la massima tensione normale σ_m .

Calcolare in * le tensioni σ_c, τ_c e la tensione di von Mises.

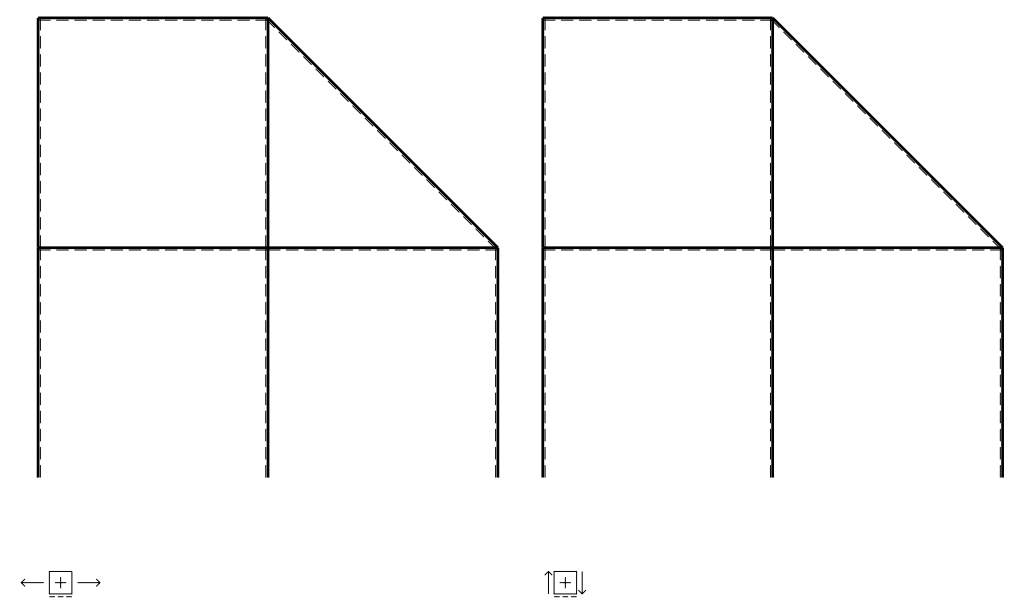
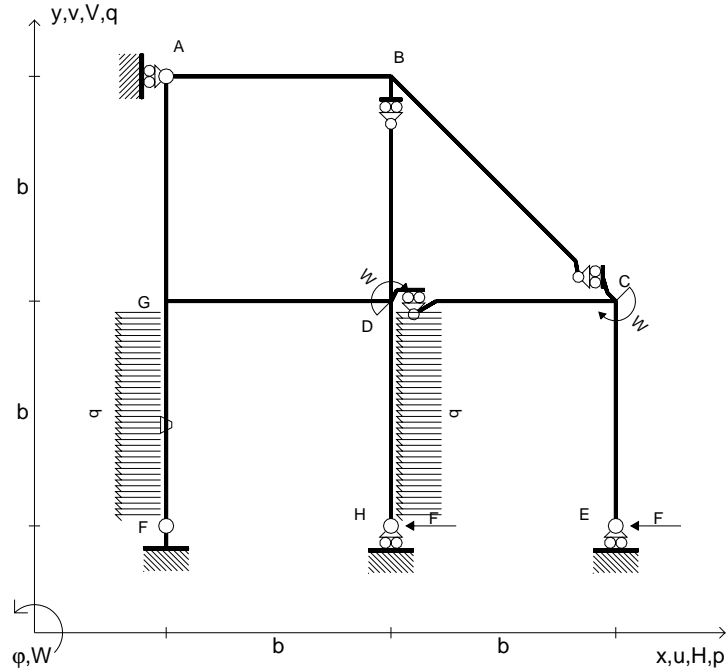
Leombo inferiore sezione su tratteggio trave, a destra da D a C
Curvatura θ asta FG positiva se convessa a destra con inizio F.

@ Adolfo Zavelani Rossi, Politecnico di Milano, vers.27.03.13



⊕ ↻

- $H_E = -F$
- $H_H = -F$
- $W_C = -W = -Fb$
- $W_D = -W = -Fb$
- $p_{FG} = -q = -F/b$
- $p_{DH} = -q = -F/b$
- $\theta_{FG} = -\theta = -\alpha T/b = -bF/EJ$
- $EJ_{AB} = EJ$
- $EJ_{BC} = EJ$
- $EJ_{BD} = EJ$
- $EJ_{DC} = EJ$
- $EJ_{CE} = EJ$
- $EJ_{FG} = EJ$
- $EJ_{GD} = EJ$
- $EJ_{DH} = EJ$
- $EJ_{GA} = EJ$



ANALISI STRUTTURALE CON PLV

RIPORTARE SUL FILE "ESAME" SOLO LE SEGUENTI RICHIESTE

Sul fronte:

- 1) Declassamento con indicazione dell'iperstatica scelta
- 2) Diagrammi finali delle azioni interne
- 3) Sforzi richiesti
(nota: profilo COMPATTO)

Sul retro:

- 4) Analisi cinematica
- 5) Diagrammi del momento M_0 e M^*
- 6) Espressione del PLV
- 7) Valore numerico dell'iperstatica

Carichi e deformazioni date hanno verso efficace in disegno.

Calcolare reazioni vincolari della struttura e delle aste.

Tracciare i diagrammi quotati delle azioni interne nelle aste.

$J_{YZ} - x_{YZ} - \theta_{YZ}$ riferimento locale asta YZ con origine in Y.

La trave DC ha la sezione riportata e dimensioni in mm, con:

$b = 860 \text{ mm}$, $F = 890 \text{ N}$

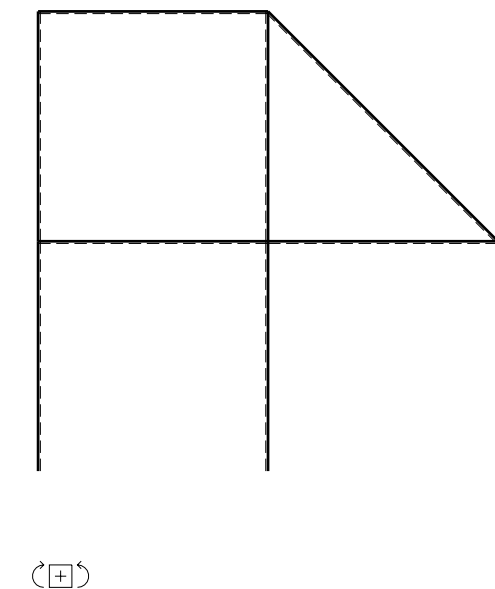
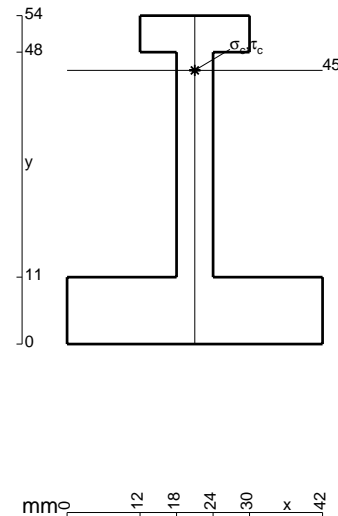
Calcolare sulla sezione C la massima tensione normale σ_m .

Calcolare in * le tensioni σ_c, τ_c e la tensione di von Mises.

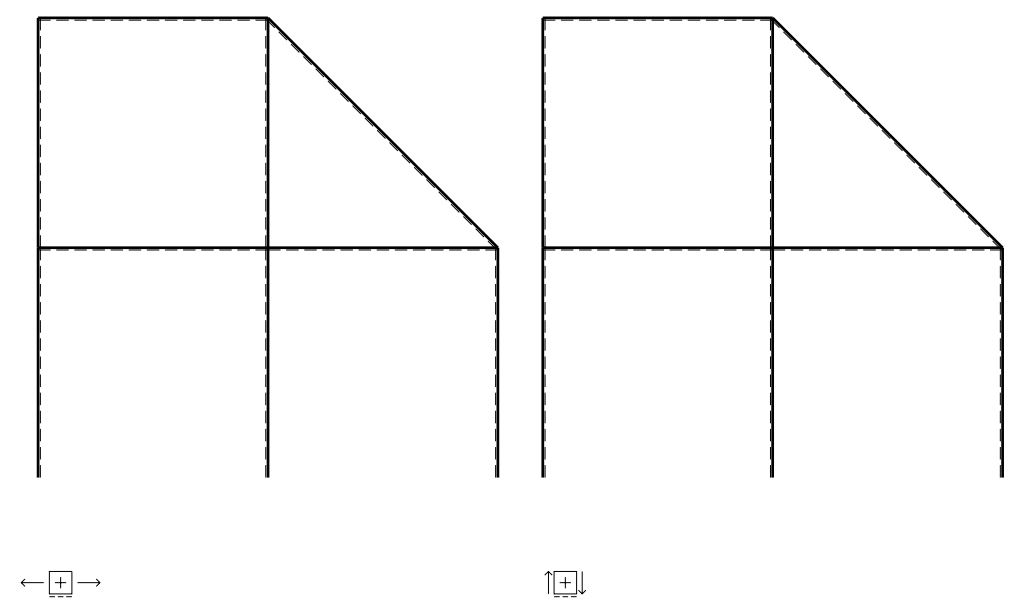
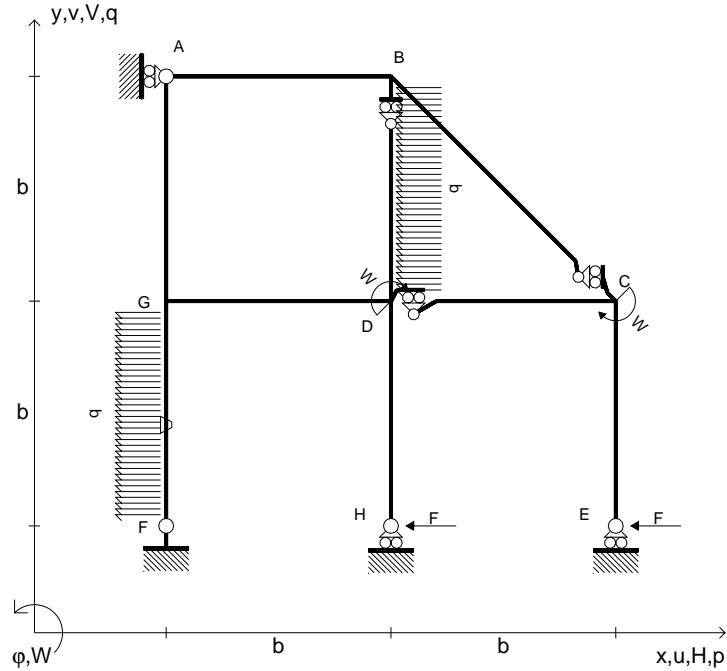
Leombo inferiore sezione su tratteggio trave, a destra da D a C

Curvatura θ asta FG positiva se convessa a destra con inizio F.

@ Adolfo Zavelani Rossi, Politecnico di Milano, vers.27.03.13



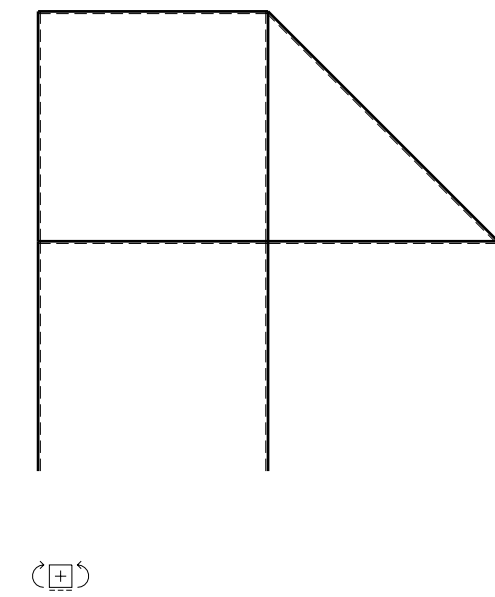
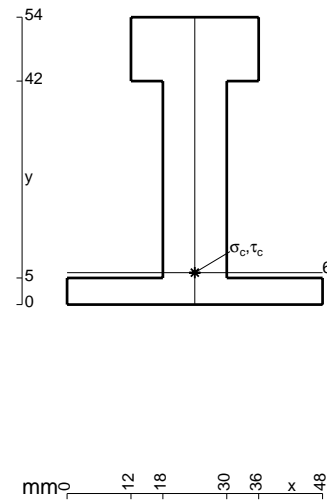
- $H_E = -F$
- $H_H = -F$
- $W_C = -W = -Fb$
- $W_D = -W = -Fb$
- $p_{FG} = -q = -F/b$
- $p_{BD} = -q = -F/b$
- $\theta_{FG} = -\theta = -\alpha T/b = -bF/EJ$
- $EJ_{AB} = EJ$
- $EJ_{BC} = EJ$
- $EJ_{BD} = EJ$
- $EJ_{DC} = EJ$
- $EJ_{CE} = EJ$
- $EJ_{FG} = EJ$
- $EJ_{GD} = EJ$
- $EJ_{DH} = EJ$
- $EJ_{GA} = EJ$



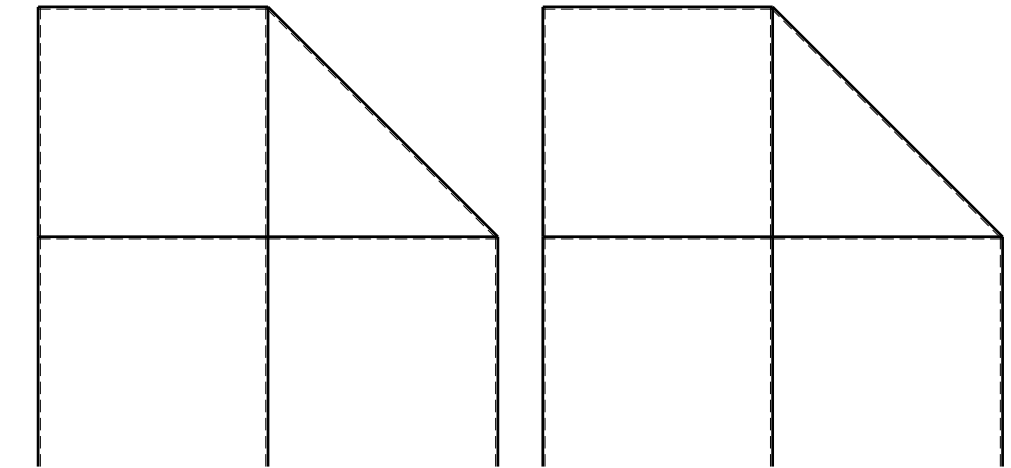
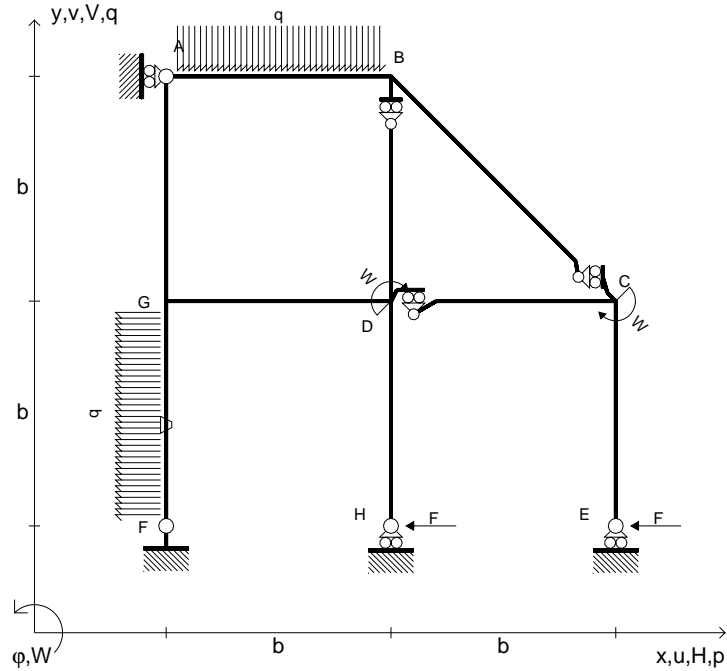
ANALISI STRUTTURALE CON PLV
 RIPORTARE SUL FILE "ESAME" SOLO LE SEGUENTI RICHIESTE

- Sul fronte:
- 1) Declassamento con indicazione dell'iperstatica scelta
 - 2) Diagrammi finali delle azioni interne
 - 3) Sforzi richiesti (nota: profilo COMPATTO)
- Sul retro:
- 4) Analisi cinematica
 - 5) Diagrammi del momento M_0 e M^*
 - 6) Espressione del PLV
 - 7) Valore numerico dell'iperstatica

Carichi e deformazioni date hanno verso efficace in disegno.
 Calcolare reazioni vincolari della struttura e delle aste.
 Tracciare i diagrammi quotati delle azioni interne nelle aste.
 $J_{YZ} - x_{YZ} - \theta_{YZ}$ riferimento locale asta YZ con origine in Y.
 La trave DC ha la sezione riportata e dimensioni in mm, con:
 $b = 910 \text{ mm}$, $F = 1460 \text{ N}$
 Calcolare sulla sezione C la massima tensione normale σ_m .
 Calcolare in * le tensioni σ_c, τ_c e la tensione di von Mises.
 Lembo inferiore sezione su tratteggio trave, a destra da D a C
 Curvatura θ asta FG positiva se convessa a destra con inizio F.
 @ Adolfo Zavelani Rossi, Politecnico di Milano, vers.27.03.13



- $H_E = -F$
- $H_H = -F$
- $W_C = -W = -Fb$
- $W_D = -W = -Fb$
- $p_{FG} = -q = -F/b$
- $q_{AB} = -q = -F/b$
- $\theta_{FG} = -\theta = -\alpha T/b = -bF/EJ$
- $EJ_{AB} = EJ$
- $EJ_{BC} = EJ$
- $EJ_{BD} = EJ$
- $EJ_{DC} = EJ$
- $EJ_{CE} = EJ$
- $EJ_{FG} = EJ$
- $EJ_{GD} = EJ$
- $EJ_{DH} = EJ$
- $EJ_{GA} = EJ$



← ⊕ →

↑ ⊕ ↓

ANALISI STRUTTURALE CON PLV

RIPORTARE SUL FILE "ESAME" SOLO LE SEGUENTI RICHIESTE

Sul fronte:

- 1) Declassamento con indicazione dell'iperstatica scelta
- 2) Diagrammi finali delle azioni interne
- 3) Sforzi richiesti
(nota: profilo COMPATTO)

Sul retro:

- 4) Analisi cinematica
- 5) Diagrammi del momento M_0 e M^*
- 6) Espressione del PLV
- 7) Valore numerico dell'iperstatica

Carichi e deformazioni date hanno verso efficace in disegno.

Calcolare reazioni vincolari della struttura e delle aste.

Tracciare i diagrammi quotati delle azioni interne nelle aste.

$J_{YZ} - x_{YZ} - \theta_{YZ}$ riferimento locale asta YZ con origine in Y.

La trave DC ha la sezione riportata e dimensioni in mm, con:

$b = 960 \text{ mm}$, $F = 1300 \text{ N}$

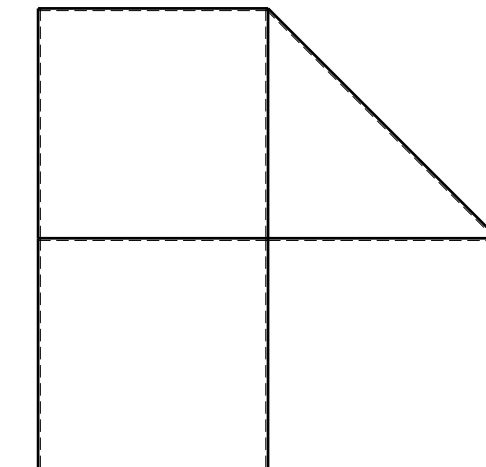
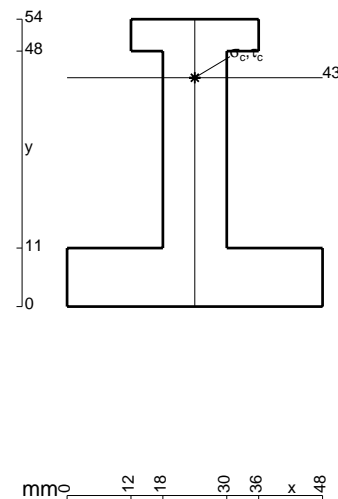
Calcolare sulla sezione C la massima tensione normale σ_m .

Calcolare in * le tensioni σ_c, τ_c e la tensione di von Mises.

Leombo inferiore sezione su tratteggio trave, a destra da D a C

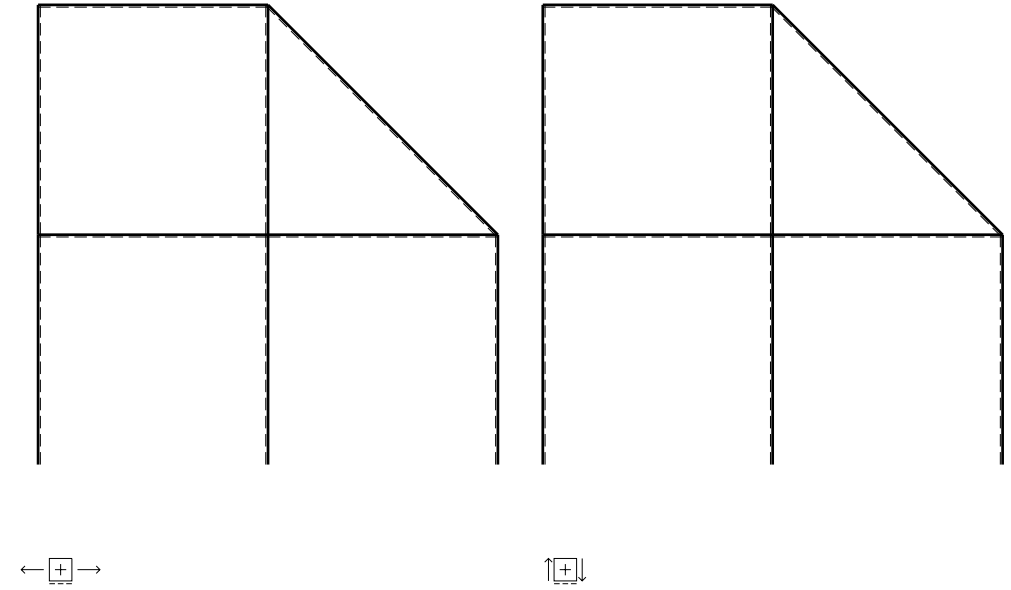
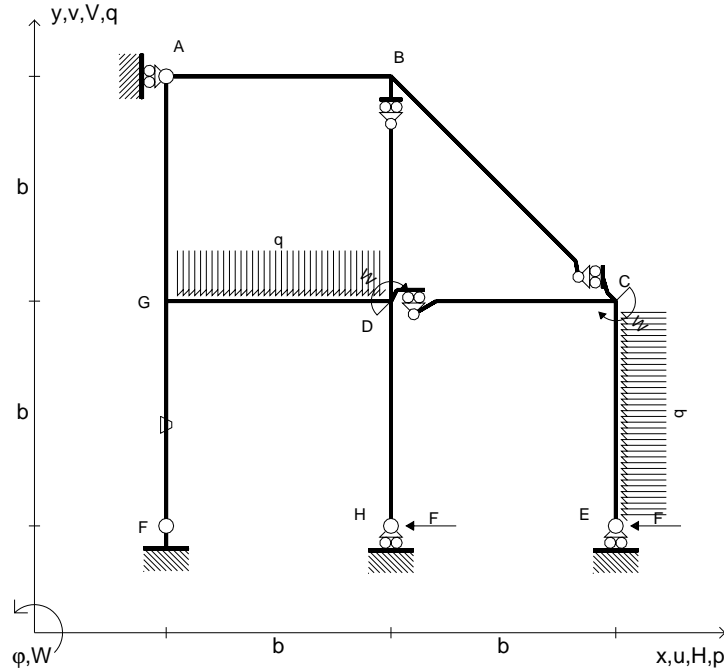
Curvatura θ asta FG positiva se convessa a destra con inizio F.

@ Adolfo Zavelani Rossi, Politecnico di Milano, vers.27.03.13



← ⊕ →

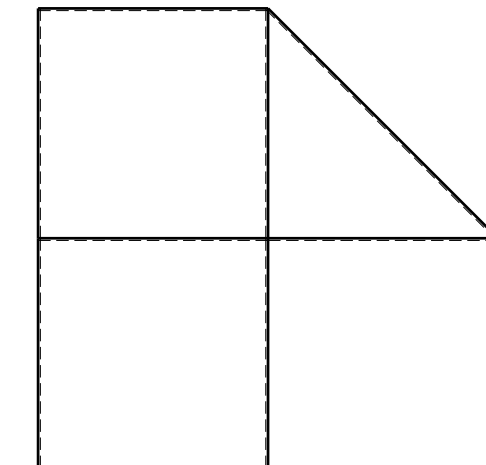
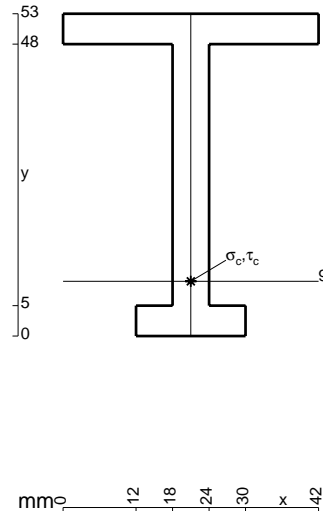
- $H_E = -F$
- $H_H = -F$
- $W_C = -W = -Fb$
- $W_D = -W = -Fb$
- $p_{CE} = -q = -F/b$
- $q_{GD} = -q = -F/b$
- $\theta_{FG} = -\theta = -\alpha T/b = -bF/EJ$
- $EJ_{AB} = EJ$
- $EJ_{BC} = EJ$
- $EJ_{BD} = EJ$
- $EJ_{DC} = EJ$
- $EJ_{CE} = EJ$
- $EJ_{FG} = EJ$
- $EJ_{GD} = EJ$
- $EJ_{DH} = EJ$
- $EJ_{GA} = EJ$



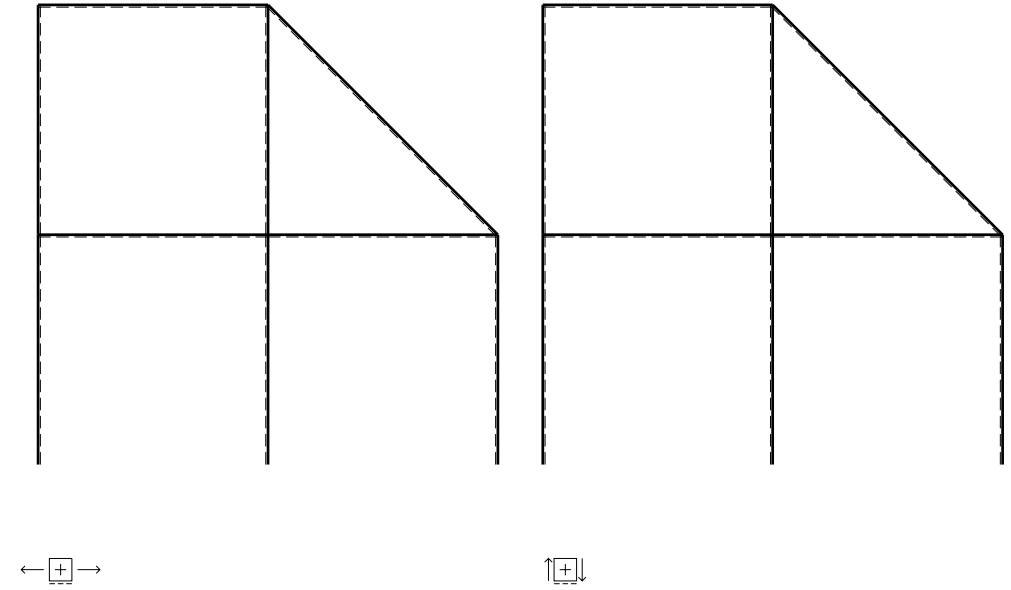
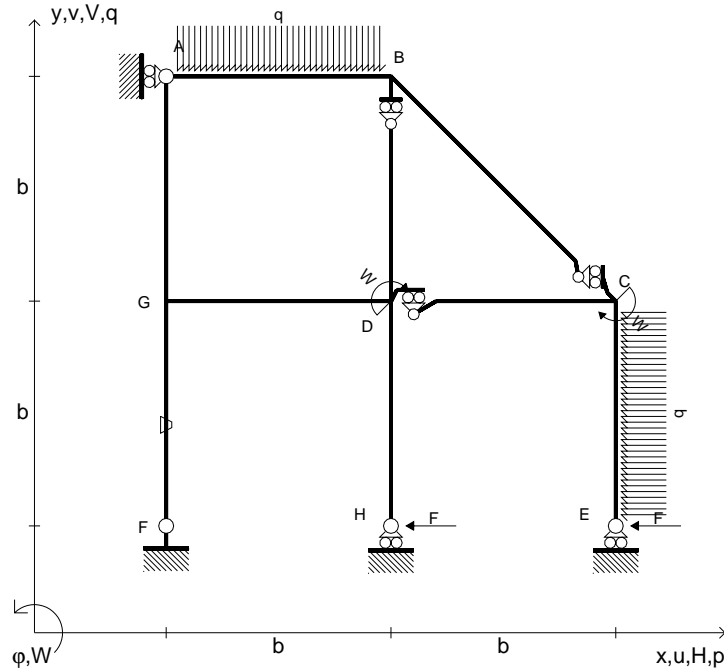
ANALISI STRUTTURALE CON PLV
 RIPORTARE SUL FILE "ESAME" SOLO LE SEGUENTI RICHIESTE

- Sul fronte:
- 1) Declassamento con indicazione dell'iperstatica scelta
 - 2) Diagrammi finali delle azioni interne
 - 3) Sforzi richiesti
(nota: profilo COMPATTO)
- Sul retro:
- 4) Analisi cinematica
 - 5) Diagrammi del momento M_0 e M^*
 - 6) Espressione del PLV
 - 7) Valore numerico dell'iperstatica

Carichi e deformazioni date hanno verso efficace in disegno.
 Calcolare reazioni vincolari della struttura e delle aste.
 Tracciare i diagrammi quotati delle azioni interne nelle aste.
 $J_{YZ} - x_{YZ} - \theta_{YZ}$ riferimento locale asta YZ con origine in Y.
 La trave DC ha la sezione riportata e dimensioni in mm, con:
 $b = 550 \text{ mm}$, $F = 950 \text{ N}$
 Calcolare sulla sezione C la massima tensione normale σ_m .
 Calcolare in * le tensioni σ_c, τ_c e la tensione di von Mises.
 Lembo inferiore sezione su tratteggio trave, a destra da D a C
 Curvatura θ asta FG positiva se convessa a destra con inizio F.
 © Adolfo Zavelani Rossi, Politecnico di Milano, vers.27.03.13



- $H_E = -F$
- $H_H = -F$
- $W_C = -W = -Fb$
- $W_D = -W = -Fb$
- $p_{CE} = -q = -F/b$
- $q_{AB} = -q = -F/b$
- $\theta_{FG} = -\theta = -\alpha T/b = -bF/EJ$
- $EJ_{AB} = EJ$
- $EJ_{BC} = EJ$
- $EJ_{BD} = EJ$
- $EJ_{DC} = EJ$
- $EJ_{CE} = EJ$
- $EJ_{FG} = EJ$
- $EJ_{GD} = EJ$
- $EJ_{DH} = EJ$
- $EJ_{GA} = EJ$



ANALISI STRUTTURALE CON PLV
 RIPORTARE SUL FILE "ESAME" SOLO LE SEGUENTI RICHIESTE

- Sul fronte:
- 1) Declassamento con indicazione dell'iperstatica scelta
 - 2) Diagrammi finali delle azioni interne
 - 3) Sforzi richiesti (nota: profilo COMPATTO)
- Sul retro:
- 4) Analisi cinematica
 - 5) Diagrammi del momento M_0 e M^*
 - 6) Espressione del PLV
 - 7) Valore numerico dell'iperstatica

Carichi e deformazioni date hanno verso efficace in disegno.
 Calcolare reazioni vincolari della struttura e delle aste.
 Tracciare i diagrammi quotati delle azioni interne nelle aste.
 $J_{YZ} - x_{YZ} - \theta_{YZ}$ riferimento locale asta YZ con origine in Y.
 La trave DC ha la sezione riportata e dimensioni in mm, con:
 $b = 700$ mm, $F = 1330$ N
 Calcolare sulla sezione C la massima tensione normale σ_m .
 Calcolare in * le tensioni σ_c, τ_c e la tensione di von Mises.
 Lembo inferiore sezione su tratteggio trave, a destra da D a C
 Curvatura θ asta FG positiva se convessa a destra con inizio F.
 © Adolfo Zavelani Rossi, Politecnico di Milano, vers.27.03.13

